

Reference ID:(33445) सेंट्रल रोड रिसर्च इन्स्टिट्यूट भारतातील कोणत्या शहरात आहे?

A.नवी दिल्ली

B.बैंगलोर

C.कोलकाता

D.मुंबई

Answer: A.नवी दिल्ली

Reference ID:(20731) जर WO = 56, W H A T = 5812, S H E = 1085, तर W A S H = ___?

A.5118

B.51108

C.141108

D.511017

Answer: B.51108

Reference ID:(28112) Find the meaning of the highlighted word in the sentence: John had to be **banished** from the country due to corruption charges against him.

A.Imprisoned

B.Drive away

C.Substituted

D.Cleared

Answer: B.Drive away

Reference ID:(33442) डीएनए (DNA) फिंगरप्रिंट चे केंद्र _____ येथे स्थित आहे.

A.बेंगलुरू

B.नवी दिल्ली

C.हैदराबाद

D.मुंबई

Answer: C.हैदराबाद

Reference ID:(26541) जगात 5 जूनला कोणता दिन साजरा केला जातो?

A.जागतिक एड्स दिन

B.जागतिक महिला दिन

C.जागतिक पर्यावरण दिन

D.जागतिक पुरुष दिन

Answer: C.जागतिक पर्यावरण दिन

Reference ID:(22809) जर \$ आहे '+' आणि @ आहे '-', तर खालीलपैकी सर्वात मोठा पर्याय कोणता आहे ?

A.225 @ 12 @ 35 \$ 74 \$ 202 @ 93 \$ 45 \$ 37

B.48 \$ 27 \$ 25 \$ 32 @ 221 @ 204 \$ 34 \$ 74

C.29 @ 22 @ 45 \$ 42 \$ 31 @ 203 \$ 45 \$ 207

D.244 @ 17 @ 25 \$ 32 @ 21 \$ 204 @ 44 @ 23

Answer:

A.225 @ 12 @ 35 \$ 74 \$ 202 @ 93 \$ 45 \$ 37

Reference ID:(21720)

जर A = 1, B = 2, C = 3, Z = 26, तर खालील पैकी कोणते पर्याय बरोबर आहे?

A. {G + I + R + L} = {C + L + O + S + E}

B. {G + I + R + L} < {C + L + O + S + E}

C. {G + I + R + L} > {C + L + O + S + E}

D. {C + L + O + S + E} = {F + R + I + E + S}

Answer:

B. {G + I + R + L} < {C + L + O + S + E}

Reference ID:(32179)

भारताचे दुसरे पंतप्रधान कोण होते?

A. जवाहरलाल नेहरू

B. राजेंद्र प्रसाद

C. सरदार वल्लभभाई पटेल

D. लाल बहादुर शास्त्री

Answer:

D. लाल बहादुर शास्त्री

Reference ID:(29636)

Pick the Synonym for the word:
Rancid

A. Foul

B. Inviting

C.Likable

D.Palatable

Answer:

A.Foul

Reference ID:(29890)

Pick the right antonym for the word:
discordant

A.Harmonious

B.Unmusical

C.Noisy

D.Conversant

Answer:

A.Harmonious

Reference ID:(29128)

Pick the right meaning of the highlighted word in the sentence:
Because I **despise** the taste of white milk, I never drink it

A.To cherish something

B.To idolize something or someone

C.To treasure something

D.To hate or detest something

Answer:

D.To hate or detest something

Reference ID:(27858)

Pick the correct meaning of the highlighted idiom or phrase from the following:
The match had to be **put off** due to the rains.

A.To postpone

B.To save for later

C.To extinguish

D.To get to the end of something

Answer: A.To postpone

Reference ID:(18248) दहएांचिया अंगी निघे ताक लोणी | एका मोले दोन्ही मागों नये ॥
वरील ओळीतील वृत्त कोणते ?

A.ओवी

B.नववधू

C.अभंग

D.पादाकुलक

Answer: C.अभंग

Reference ID:(30371) Find the meaning of the highlighted word in the sentence: There was an **ominous** silence at the other end of the phone.

A.Hopeful

B.Cheerful

C.Favorable

D.Sinister

Answer: D.Sinister

Reference ID:(26540) अतिनील किरणे _____ ह्याद्वारे शोषली जातात

A.ओझोन थर

B.क्षोभमंडल

C.आयनांबर

D.वरीलपैकी काहीच नाही

Answer: A.ओझोन थर

Reference ID:(18983) खालील शब्दाचा समास / समास प्रकार ओळखा.
चूकभूल

A.कर्मधारय

B.वैकल्पिक द्वंद्व

C.द्विगू

D.अव्ययीभाव

Answer: B.वैकल्पिक द्वंद्व

Reference ID:(18956) स्वामी विवेकानंदांनी वेदांतावर चिंतन केले. या वाक्यातील काळ कोणता?

A.साधा भूतकाळ

B.अपूर्ण भूतकाळ

C.पूर्ण भूतकाळ

D.रीती भूतकाळ

Answer: A.साधा भूतकाळ

Reference ID:(17867) 36 च्या $\frac{1}{8}$ + 44 च्या 25% च्या 200% + $0.25 \times 150 = \underline{\hspace{2cm}}$

A.64

B.65.5

C.66

D.63.25

Answer: A.64

Reference ID:(17386) $8.4 + 5.5 + 12 + 6.25 - (3.25 - 6.55 + 4.75) = \underline{\hspace{2cm}}$

A.30.15

B.29.70

C.30.65

D.30.70

Answer: D.30.70

Reference ID:(33444) भारतात वैमानिक परवाना मिळवणारी पहिली व्यक्ती कोण होती?

A.जे.आर.डी. टाटा

B.अजय आहुजा

C.कॅप्टन गोपीनाथ

D.संजय गांधी

Answer: A.जे.आर.डी. टाटा

Reference ID:(30625)

Identify the word that's opposite in meaning to the word: Lavish

A.Earthy

B.Overboard

C.Stingy

D.Superior

Answer:

C.Stingy

Reference ID:(33437)

पुढीलपैकी कोणते योग्य रित्या जुळलेले नाही?

A.बिहुगीत - आसाम

B.बाउल - पश्चिम बंगाल

C.रासलीला - उत्तर प्रदेश

D.कोळी - गुजरात

Answer:

D.कोळी - गुजरात

Reference ID:(27050)

Find the word closest in meaning to the word: Profound

A.Large Noise

B.Intense

C.Search everywhere

D.Lost

Answer:

B.Intense

Reference ID:(26544)	भारतातील खालीलपैकी कोणत्या राज्यात छतावर जमणाऱ्या पावसाच्या पाण्याची साठवण करणे अनिवार्य आहे?
	A.जम्मू-काश्मीर
	B.मेघालय
	C.ओडिशा
	D.तामिळनाडू
Answer:	D.तामिळनाडू

Reference ID:(19745)	"ज्या गावच्या बोरी त्याच गावच्या बाभळी" या म्हणीचा अर्थ खालीलपैकी कोणता ते ओळखा?
	A.एकाच गावातले लोक परस्परांना चांगले ओळखून असतात.
	B.बोरी व बाभळीची झाडे गावात लावावीत.
	C.मूर्ख माणसांचे मूर्ख लोकांबरोबरच जमू शकते.
	D.हरवलेली वस्तू जवळपास असल्याचे लक्षात आल्याने सर्वत्र शोधत राहणे.
Answer:	A.एकाच गावातले लोक परस्परांना चांगले ओळखून असतात.

Reference ID:(24436)	खालीलपैकी व्याकरणाच्या दृष्टीने शुध्द वाक्याचा पर्याय निवडा.
	A.संगणकामुळे कर्मचाऱ्यांच्या कार्यक्षमतेत वाढ झाली.
	B.आज मला एका नवीन गोष्टीचा साक्षात्कार झाला.

C.मुलांनी उत्तरप्रतिका नीट तपासून बघितली पाहिजे.

D.भारत एक समर्थवान देश बनला आहे.

Answer: A.संगणकामुळे कर्मचाऱ्यांच्या कार्यक्षमतेत वाढ झाली.

Reference ID:(27604) Identify the figure of speech in the following sentence: Oh bed! At last I can be with you!

A.Hyperbole

B.Personification

C.Apostrophe

D.Oxymoron

Answer: C.Apostrophe

Reference ID:(26548) महाराष्ट्रातील राधानगरी वन्यजीव अभयारण्य खालीलपैकी कोणत्या जिल्ह्यात आहे ?

A.नाशिक

B.पुणे

C.रायगड

D.कोल्हापूर

Answer: D.कोल्हापूर

Reference ID:(28366) Find the meaning of the highlighted word in the sentence: My father was **ecstatic** at my exam results.

A.Doubtful

B.Disappointed

C.Joyful

D.Troubled

Answer: C.Joyful

Reference ID:(18221) आपल्यासी दोर गवाक्षी मानुनि तुळसीदास ।
सर्पा पकडूनि चढून गेला प्रिया – दर्शनास ।
वरील ओळींत खालीलपैकी कोणता अलंकार वापरला गेला आहे?

A.स्वभावोक्ति

B.व्यतिरेक

C.अर्थान्तरन्यास

D.भ्रांतिमान

Answer: D.भ्रांतिमान

Reference ID:(33440) पुढीलपैकी कोणते यूनेस्को जागतिक वारसा स्थळ नाही?

A.फतेहपुर सीकरी

B.कान्हा राष्ट्रीय उद्यान

C.एलोरा लेणी

D.एलिफंटा लेणी

Answer: B.कान्हा राष्ट्रीय उद्यान

Reference ID:(24409) खालीलपैकी व्याकरणाच्या दृष्टीने अशुद्ध शब्द-लेखन असलेला शब्द ओळखा.

A.पदाधिकारी

B.शुभचिन्ह

C.धूमकेतू

D.वस्तुवीनिमय

Answer:

D.वस्तुवीनिमय

Reference ID:(26546)

अल- नीनो चा विरुद्ध परिणामाला काय म्हणतात?

A.ला नीना

B.नो नीनो

C.नीनो

D.सा नीनो

Answer:

A.ला नीना

Reference ID:(28620)

Pick the right idiom which fits into the sentence: His friends told Amit not to _____ and to attend the party

A.Be a wet blanket

B.Die by inches

C.Be hand in glove

D.Burn one's boat

Answer:

A.Be a wet blanket

Reference ID:(21239)

जर CINNAMON हा शब्द ICNNMANO असेल आणि SAVAGE हा शब्द ASAVEG असेल, तर ZUCCHINI हा शब्द _____ असेल.

A.ZZIHINUZ

B.UZIHCCIN

C.IHINZUCC

D.UZCCIHIN

Answer:

D.UZCCIHIN

Reference ID:(31106)

Fill in the blanks with the right set of words:

Amit ____ Tamil from his friend who lives in Chennai. But Amit haven't ____ the language much.

A.Learn, speaking

B.Learn, speak

C.Learnt, spoken

D.Learn, spoken

Answer:

C.Learnt, spoken

Reference ID:(24944)

पुढील शब्दसमूहासाठी योग्य शब्द निवडा.
शोकाचे वर्णन करणारी कविता

A.शोकांतिका

B.विलापिका

C.हृदयद्रावक

D.विडंबन

Answer:

B.विलापिका

Reference ID:(18729)

सुरेशने गाणे गायलेले असेल. या वाक्याचा काळ ओळखा.

A.अपूर्ण भविष्यकाळ

B.रीती भविष्यकाळ

C.पूर्ण भविष्यकाळ

D.साधा भविष्यकाळ

Answer: C.पूर्ण भविष्यकाळ

Reference ID:(23674) खालीलपैकी समानार्थी शब्दाची बरोबर जोडी ओळखा.

A.न्हस्व - दिर्घ

B.हर्ष - खेद

C.होडी - नौका

D.स्वर्ग - नरक

Answer: C.होडी - नौका

Reference ID:(17613) 15 च्या $\frac{1}{6}$ + 25 च्या 30% + $0.40 \times 140 = \underline{\hspace{2cm}}$

A.66

B.67.5

C.68

D.65.25

Answer: A.66

Reference ID:(30144) Find the meaning of the word:: **Meddle**

A.Ignore

B.Avoid

C.Interfere

D.Shun

Answer:

C.Interfere

Reference ID:(26543)

भोपाळ वायु दुर्घटना पुढीलपैकी कोणत्या पेस्टीसाइड प्लांटमध्ये झाली होती?

A.यूनियन कार्बाइड इंडिया लिमिटेड

B.हिंदुस्तान युनिलिक्वर लिमिटेड

C.बायर क्रॉप सायन्स

D.मोन्सॅटो इंडिया लिमिटेड

Answer:

A.यूनियन कार्बाइड इंडिया लिमिटेड

Reference ID:(32185)

महाराष्ट्रातील खापरखेडा औष्णिक ऊर्जा प्रकल्प खालीलपैकी कोणत्या जिल्ह्यात आहे?

A.नाशिक

B.नागपूर

C.अकोला

D.चंद्रपूर

Answer:

B.नागपूर

Reference ID:(26545)

पुढीलपैकी कोणत्या आंदोलनाचा उद्देश जंगलांचे संवर्धन हा आहे ज्यात लोक झाडे कापली जाण्यास प्रतिबंध करतात?

A.सत्याग्रह

B.चिपको आंदोलन

C.चेन नियम

D.हरित क्रांती

Answer:

B.चिपको आंदोलन

Reference ID:(33695)

उर्जित पटेल यांच्यापूर्वी आर बी आय चे गव्हर्नर कोण होते?

A.रघुराम राजन

B.बिमल जालान

C.अमिताव घोष

D.के. आर. पुरी

Answer:

A.रघुराम राजन

Reference ID:(19972)

पुढील विधानाला जी म्हण योग्य असेल असा पर्याय ओळखा:
नंदाबाईला छोटी सून आवडत नव्हती त्यामुळे छोटीने कितीही चांगले काम केले तरी त्यात नंदाबाई
चूक काढत असे. म्हणतात ना

A.चार दिवस सासूचे, चार दिवस सुनेचे

B.जावा जावा आणि उभा दावा

C.नावडतीचे मीठ अळणी

D.सासू तशी सून आणि उंबऱ्या तुझा गुण

Answer:

C.नावडतीचे मीठ अळणी

Reference ID:(21212)

मालिकेतील रिकामी जागा भरा: 1, 2, __, 28, 65, 126

A.9

B.11

C.10

D.12

Answer: A.9

Reference ID:(19718) पुढील म्हण पूर्ण करण्यासाठी योग्य पर्याय निवडा. पी हळद नि हो _____.

A.गोरी

B.पिवळी

C.हळदुली

D.शहाणी

Answer: A.गोरी

Reference ID:(33441) भारताचा राष्ट्रीय सूक्ष्मजीव _____ आहे.

A.यीस्ट

B.बॅसिलस थुरिंगिएन्सिस

C.लॅक्टोबॅसिलस

D.अॅसिटोबॅक्टर

Answer: C.लॅक्टोबॅसिलस

Reference ID:(27631) Pick the correct meaning of the highlighted idiom or phrase from the following:
To **add insult to injury** the car that knocked Ganesh drove off without stopping after knocking him off his bike.

A.To make a bad situation worse

B.To run off after hitting someone

C.To be an aggressive person

D.Someone with a bad civic sense

Answer:

A.To make a bad situation worse

Reference ID:(23447)

'क्षीर' या शब्दाचा समानार्थी शब्द ओळखा.

A.पाणी

B.गंधक

C.खीर

D.बाण

Answer:

A.पाणी

Reference ID:(28647)

Pick the right idiom which fits into the sentence: I had to _____ because he was corrupt

A.Fall flat on

B.Talk shop with him

C.Wash our hands

D.Send him about his business

Answer:

D.Send him about his business

Reference ID:(32182)

महाराष्ट्रातील पहिले जलविद्युत केंद्र खालील पैकी कोठे आहे ?

A.खोपोली

B.तुर्भे

C.खापरखेडा

D.कोराडी

Answer:

A.खोपोली

Reference ID:(21466)

जर FARKLEBERRY हा शब्द IDUNOHEHUUB असेल, तर CANTALOUPE हा शब्द _____ असेल.

A.GDQWDNWRH

B.FDQWDORXSH

C.GDWWDOWRH

D.GDQWDORXSH

Answer:

B.FDQWDORXSH

Reference ID:(33443)

पोलो खेळ हा भारताच्या कोणत्या राज्यातून उद्भवलेला आहे?

A.मणिपूर

B.मिझोरम

C.मेघालय

D.त्रिपुरा

Answer:

A.मणिपूर

Reference ID:(35176)

खाली दिलेल्या पत्त्यापैकी 3 पत्ते समान आहेत आणि 1 भिन्न आहे. कोणता पत्ता भिन्न ते ओळखा?

A.Room no. 35,Kratu Hall of Residence
Burla, Sambalpur
Odisha
PH 0980590004

B.Room no. 35,Kratu Hall of Residence
Burla, Sambalpur
Odisha
PH 0980590004

C.Room no. 35,Kraut Hall of Residence
Burla, Sambalpur
Odisha
PH 0980590004

D.Room no. 35,Kratu Hall of Residence
Burla, Sambalpur
Odisha
PH 0980590004

Answer:

C.Room no. 35,Kraut Hall of Residence
Burla, Sambalpur
Odisha
PH 0980590004

Reference ID:(20477)

X चे दक्षिण दिशेला तोंड आहे. तो 90 अंश डावीकडे वळतो. मग तो 70 अंश उजवीकडे वळतो. मग तो 180 अंश वळतो. मग तो 90 अंश उजवीकडे वळतो. शेवटी तो डावीकडे 25 अंश वळतो. आता तो कोणत्या दिशेला तोंड करून उभा आहे?

A.दक्षिण पूर्व

B.उत्तर पूर्व

C.दक्षिण पश्चिम

D.उत्तर पश्चिम

Answer:

B.उत्तर पूर्व

Reference ID:(22583)

खालीलपैकी सर्वात लहान पर्याय कोणता आहे ?

A. $22 + 22 - 72 + 45 - 15 - 23 + 42 + 57$

B. $228 + 27 - 52 + 35 - 251 + 204 - 44 - 37$

C. $79 + 45 + 212 + 45 + 31 - 203 + 42 + 27$

D. $38 - 207 - 52 - 35 - 51 + 204 + 244 - 7$

Answer:

A. $22 + 22 - 72 + 45 - 15 - 23 + 42 + 57$

Reference ID:(28139)

Find the word opposite in meaning to the word: Complacent

A. Discontent

B. Satisfied

C. Pleased

D. Smug

Answer:

A. Discontent

Reference ID:(20958)

मालिकेतील रिकामी जागा भरा: A, Z, B, __, C, X, D, W

A. E

B. Y

C. F

D. U

Answer:

B. Y

Reference ID:(25198)

"लंकाधिपती" या शब्दाचा खालीलपैकी योग्य संधी विग्रह ओळखा.

A.लंका + धिपती

B.लंका + पती

C.लंका + अधिपती

D.लंका + आपती

Answer:

C.लंका + अधिपती

Reference ID:(20250)

एक माणूस त्याच्या घरापासून उत्तर दिशेने 10.5 कि.मी. चालतो.
मग तो डावीकडे वळतो आणि 5 कि.मी. चालतो.
मग तो डावीकडे वळतो आणि 1 कि.मी. चालतो.
मग तो डावीकडे वळतो आणि 7 कि.मी. चालतो.
मग तो उजवीकडे वळतो आणि 2.5 कि.मी. चालतो.
मग तो उजवीकडे वळतो आणि 3 कि.मी. चालतो.
मग तो डावीकडे वळतो आणि 4 कि.मी. चालतो.
मग तो डावीकडे वळतो आणि 1 कि.मी. चालतो.
तो त्याच्या घरापासून किती दूर आहे?

A.3 कि.मी.

B.2.5 कि.मी.

C.3.5 कि.मी.

D.1.5 कि.मी.

Answer:

A.3 कि.मी.

Reference ID:(23928)

खालीलपैकी विरुद्धार्थी शब्दाची बरोबर जोडी ओळखा.

A.ओहळ x झरा

B.काळा x गोरा

C.पान x पर्ण

D.पाय x पद

Answer: B.काळा x गोरा

Reference ID:(20704) जर OK = 4 C A T = 9, M A C E = 16, तर H U R R Y = ___?

A.10

B.18

C.25

D.20

Answer: C.25

Reference ID:(26542) पुढीलपैकी कोणता संप्रदाय पर्यावरण, वन्यजीव, वनस्पतींचे संरक्षण ही पवित्र परंपरा मानतो?

A.बिश्रोई

B.नागा

C.वैष्णव

D.जरावास

Answer: A.बिश्रोई

Reference ID:(32447) "डेफिसिट फायनांस" म्हणजे भारत सरकार _____ कडून पैसे उधार घेते.

A.महसूल विभाग

B.जागतिक बँक

C.भारतीय स्टेट बँक

D.भारतीय रिझर्व्ह बँक

Answer: D.भारतीय रिझर्व्ह बँक

Reference ID:(29101) Fill in the blanks with simple past or past perfect tense of the verbs: I would rather you ___ these conditions and ___ the documents.

A.Accepted..... signed

B.Had accepted..... had signed

C.Had accepted..... were signing

D.Accepted..... had signed

Answer: A.Accepted..... signed

Reference ID:(29382) Pick the right meaning of the highlighted word in the sentence:
She gave him a **demure** smile.

A.An aggressive person

B.A confident person

C.Meek and shy person

D.A person who shows no respect to anyone

Answer: C.Meek and shy person

Reference ID:(24663) प्रश्नातील वाक्यात रिकामी जागा भरण्यास सर्वात योग्य शब्द निवडा.
महामार्गावर दिसणारे अपघात लोकांचे मन करतात.

A.सुगरण

B.सुखासीन

C.सुकेतन

D.सुन्न

Answer: D.सुन्न

Reference ID:(24690) प्रश्नातील वाक्यात रिकामी जागा भरण्यास सर्वात योग्य शब्द निवडा.
अहंकाराने उन्मत्त झालेल्या राजाचे नंतरहोणे क्रमप्राप्त ठरते.

A.अध्यग्नि

B.वृंदावन

C.विकेंद्रीभवन

D.अधःपतन

Answer: D.अधःपतन

Reference ID:(28874) Convert the following simple sentence to compound sentences: Being innocent
Rajesh never thought of running away

A.Due to his innocence he never thought of running away

B.He never thought of running away as he was innocent

C.Since he was innocent, he never thought of running away

D.Rajesh was innocent and never thought of running away

Answer: D.Rajesh was innocent and never thought of running away

Reference ID:(19491) प्रश्नात दिलेल्या वाक्प्रचाराचा योग्य वापर असलेले वाक्य पर्यायांमधून ओळखा. आनंदाचे भरते येणे

A.सततच्या पावसामुळे नदीच्या पाण्याला आनंदाचे भरते आले.

B.पहिल्यांदा समुद्रकिनारा पाहिल्यामुळे निशाला आनंदाचे भरते आले.

C.आजारी पडल्यावर अरुणला आनंदाचे भरते आले.

D.रस्त्यांची दुर्दशा पाहून प्रवाशांना आनंदाचे भरते येते.

Answer: B.पहिल्यांदा समुद्रकिनारा पाहिल्यामुळे निशाला आनंदाचे भरते आले.

Reference ID:(32180) क्षेत्रानुसार भारतातील सर्वात छोटे राज्य कोणते आहे?

A.सिक्कीम

B.गोवा

C.त्रिपुरा

D.मेघालय

Answer: B.गोवा

Reference ID:(27377) Identify the figure of speech in the following sentence: Their home was a prison.

A.Simile

B.Metaphor

C.Oxymoron

D.Apostrophe

Answer: B.Metaphor

Reference ID:(19464)	खालीलपैकी वाक्प्रचार आणि त्याचा अर्थाची अयोग्य जोडी ओळखा.
	A.पोटात आग पडणे - खूप भूक लागणे
	B.टोपी उडवणे - टवाळी करणे
	C.वहिवाट असणे - हिंसक प्रवृत्ती असणे
	D.पाणी पाजणे - पराभव करणे
Answer:	C.वहिवाट असणे - हिंसक प्रवृत्ती असणे
Reference ID:(17640)	42 च्या $\frac{1}{12}$ + 50 च्या 60% + $0.30 \times 180 =$ _____
	A.89
	B.89.5
	C.87.5
	D.86.75
Answer:	C.87.5
Reference ID:(18475)	संयुक्त वाक्यात एकापेक्षा अधिक मुख्य वाक्ये ने जोडली जातात.
	A.केवलप्रयोगी अव्यय
	B.शब्दयोगी अव्यय
	C.क्रियाविशेषण अव्यय
	D.प्रधानत्वबोधक उभयान्वयी अव्यय
Answer:	D.प्रधानत्वबोधक उभयान्वयी अव्यय

Reference ID:(25171)

समूहदर्शक शब्द ओळखा. जशी गवताची पेंढी तशी दुर्वाची _____.

A.काफिला

B.जुडी

C.थप्पी

D.तांडा

Answer:

B.जुडी

Reference ID:(24182)

खालीलपैकी व्याकरणाच्या दृष्टीने शुद्ध शब्द-लेखन असलेला शब्द ओळखा.

A.कृतिम

B.कृत्रिम

C.कुत्रीम

D.कूर्तिम

Answer:

B.कृत्रिम

Reference ID:(29863)

Pick the Synonym for the word:
bewildered

A.Confused

B.Alert

C.Conscious

D.Comprehensible

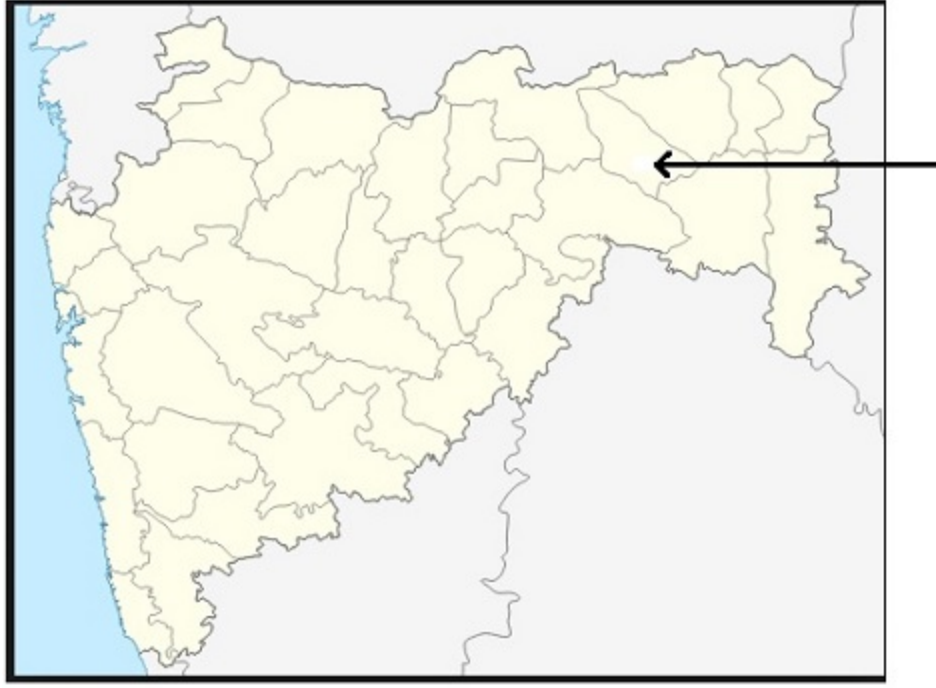
Answer:

A.Confused

Reference ID:(29355)	Pick the right meaning of the highlighted word in the sentence: The view of the harbor was partially obscured by trees.
	A. Someone who is direct with someone
	B. Bright and intelligent
	C. Relatively unknown or concealed
	D. Explicitly mentioned or done
Answer:	C. Relatively unknown or concealed
Reference ID:(24155)	खालीलपैकी विरुद्धार्थी शब्दाची चुकीची जोडी ओळखा.
	A. शाप x वर
	B. विधायक x विध्वंसक
	C. वारा x वात
	D. राजमार्ग x आडमार्ग
Answer:	C. वारा x वात
Reference ID:(16524)	सहा जण P , Q , R , S , X आणि Z हे दोन रांगामध्ये एकमेकांकडे तोंड करून बसले आहेत. दोन्ही रांगामध्ये प्रत्येकी तीन जण आहेत. X चा शेजारी बसलेला P हा S च्या कर्णाभिमुख आहे. S हा Z च्या डावीकडे दुसऱ्या क्रमांकावर आहे. X हा कोणत्याही रांगेच्या शेवटी बसलेला नाही. R हा Z च्या शेजारी आहे. X आणि R ची जागेची अदलाबदल केल्यानंतर नव्या ठिकाणी R चा शेजारी कोण असेल?
	A. P आणि Q
	B. Z आणि Q
	C. P आणि Z
	D. वरीलपैकी काहीही नाही
Answer:	A. P आणि Q

Reference ID:(30852)	Convert the following active to passive voice: The lion ate the prince
	A.The lion was to have eaten the prince
	B.The prince was eaten by the lion
	C.The prince is eaten by the lion
	D.The prince had been eaten by the lion
Answer:	B.The prince was eaten by the lion
Reference ID:(30398)	Pick the correct meaning of the highlighted idiom: Anu felt like a fish out of water in the new school.
	A.Be very comfortable with something
	B.In an uncomfortable position
	C.Be used to doing something
	D.Be calm about a situation
Answer:	B.In an uncomfortable position
Reference ID:(17132)	खालील पर्यायांपैकी दुसऱ्या क्रमांकाचा सर्वात मोठा कोण आहे?
	A.650 चे 70%
	B.1900 चा 1/4
	C.0.35 × 900
	D.700 चा 2/5
Answer:	A.650 चे 70%

Reference ID:(31133)



महाराष्ट्रातील नकाशात बाणने दर्शविलेला जिल्हा खालीलपैकी कोणता आहे?

A. नागपूर

B. वर्धा

C. अमरावती

D. वाशिम

Answer:

B. वर्धा

Reference ID:(27885)

Pick the correct meaning of the highlighted idiom or phrase from the following:
He has always **been the black sheep** of the family.

A. Odd or person of low repute

B. Being darker than other family members

C. Being someone who is always picked on

D. Someone who has a trouble family life

Answer: A. Odd or person of low repute

Reference ID:(20223) X चे उत्तर दिशेला तोंड आहे.तो 45 अंश उजवीकडे वळतो. मग तो 60 अंश उजवीकडे वळतो. मग तो 180 अंश वळतो. मग तो 30 अंश डावीकडे वळतो. शेवटी तो उजवीकडे 60 अंश वळतो. आता तो कोणत्या दिशेला तोंड करून उभा आहे?

A. दक्षिण पश्चिम

B. उत्तर पश्चिम

C. दक्षिण पूर्व

D. उत्तर पूर्व

Answer: B. उत्तर पश्चिम

Reference ID:(30879) Identify the figure of speech in the following sentence: I have a ton of homework to finish.

A. Hyperbole

B. Metaphor

C. Simile

D. Oxymoron

Answer: A. Hyperbole

Reference ID:(29609) Pick the right meaning of the highlighted word in the sentence:
Before the new term, the school may **proclaim** a new vision for the school

A. To announce something publicly

B.To be secretive about something

C.To be humble about something

D.To speak the untruth

Answer: A.To announce something publicly

Reference ID:(19999) "शुश्रूषा" या शब्दाचा समानार्थी शब्द ओळखा.

A.सेवा

B.कार्य

C.कोरडे

D.सदिच्छा

Answer: A.सेवा

Reference ID:(19210) खालील शब्दाचा समास / समास प्रकार ओळखा.
भाजीपाला

A.कर्मधारय

B.समाहार द्वंद्व

C.सहबहुव्रीहि

D.मध्यमपदलोपी

Answer: B.समाहार द्वंद्व

Reference ID:(19237)

“नाकी नऊ येणे" या वाक्प्रचाराचा खालीलपैकी कोणता अर्थ योग्य आहे?

A.श्वसनाचा त्रास होणे

B.वैतागणे व हैराण होणे

C.स्वाधीन करणे

D.दोष झाकणे

Answer:

B.वैतागणे व हैराण होणे

Reference ID:(28393)

Find the word opposite in meaning to the word: **Gale**

A.Small

B.Cyclone

C.Silent

D.Wind

Answer:

C.Silent

Reference ID:(27023)

For the given active voice sentence, select the correct imperative sentence from the options: Kindly do this work?

A.Will you do this work?

B.Can the work be done by you?

C.You are requested to do this work

D.Do this work being given to you

Answer:

C.You are requested to do this work

Reference ID:(24917)	पुढील शब्दसमूहासाठी योग्य शब्द निवडा. स्वतःच्या फायद्याचे पाहणारा
	A. स्वयंसेवक
	B. स्वावलंबी
	C. अप्पलपोटा
	D. ऐतोबा
Answer:	C. अप्पलपोटा
Reference ID:(34922)	जर $FDE \times 5 = 2670$; $GEF \times 2 = 1290$; तर $NLM \times 1 = ?$
	A. 131567
	B. 121765
	C. 121657
	D. 131112
Answer:	D. 131112
Reference ID:(33439)	मोबाइल अॅप भीम [भारत इंटरफेस फॉर मनी] _____ ह्यावर आधारित आहे.
	A. सेंट्रल पेमेंट इंटरफेस
	B. लोकल पेमेंट इंटरफेस
	C. युनिफाईड पेमेंट इंटरफेस
	D. वर्ल्ड पेमेंट इंटरफेस
Answer:	C. युनिफाईड पेमेंट इंटरफेस

Reference ID:(33438)

"गिव इट अप" मोहिम पुढीलपैकी कशाशी संबंधित आहे?

A.तंबाखूचा वापर

B.दारूचा वापर

C.एलपीजी सबसिडी

D.यापैकी काहीही नाही

Answer:

C.एलपीजी सबसिडी

Reference ID:(16878)

$10/40 + 0.5 - 5/40 = ?$

A.0.625

B.1.175

C.1.425

D.0.875

Answer:

A.0.625

Reference ID:(32183)

जनगणना २०११ नुसार सर्वात जास्त लोकसंख्या दृष्टीने महाराष्ट्र हे भारतातील कितवे राज्य आहे?

A.पहिले

B.दुसरे

C.तिसरे

D.चौथे

Answer:

B.दुसरे

Reference ID:(25425)

कवीश्वर या शब्दाचा खालीलपैकी योग्य संधी विग्रह ओळखा.

A.कवि + इश्वर

B.कवि + अश्वर

C.कवि + ईश्वर

D.कवि + श्वर

Answer:

C.कवि + ईश्वर

Reference ID:(17894)

X हा Y हून 40% नी मोठा आहे. मग Y हा X हून _____ % लहान आहे.

A.60

B.150

C.66.66

D.28.57

Answer:

D.28.57

Reference ID:(18702)

पोलिस चोराला पकडतात. हे वाक्य नवीन कर्मणी प्रयोगात रूपांतरित करताना कोणता पर्याय योग्य आहे.

A.पोलिसांना चोर पकडवते.

B.पोलिसांनी चोर पकडला.

C.पोलिसांचा चोर पकडून झाला.

D.पोलिसांकडून चोर पकडला गेला.

Answer:

D.पोलिसांकडून चोर पकडला गेला.

Reference ID:(26799)

खालील आकृती _____ ची आहे.



A.क्रेस्कोग्राफ

B.पायरॅनोमीटर

C.अनिमोमीटर

D.पर्जन्यमापक

Answer:

D.पर्जन्यमापक

Reference ID:(32184)

महाराष्ट्रातील नाशिक या जिल्ह्यात खालीलपैकी कोणता किल्ला आहे?

A.ब्रम्हगिरी

B.सिंधुदुर्ग

C.पन्हाळा

D.प्रतापगड

Answer: A.ब्रम्हगिरी

Reference ID:(22837) जर \$ आहे '+' आणि @ आहे '-', तर खालीलपैकी सर्वात लहान पर्याय कोणता आहे ?

A.22 \$ 55 @ 12 \$ 45 \$ 15 @ 203 \$ 42 \$ 57

B.28 \$ 27 @ 52 \$ 35 @ 51 \$ 204 @ 44 @ 37

C.29 \$ 25 @ 212 \$ 45 \$ 31 \$ 203 \$ 42 \$ 27

D.38 \$ 207 @ 52 @ 35 @ 51 \$ 204 @ 44 @ 37

Answer: A.22 \$ 55 @ 12 \$ 45 \$ 15 @ 203 \$ 42 \$ 57

Reference ID:(26547) वर्षा वनांची पाने खालीलपैकी कोणत्या ऋतूत गळतात?

A.वर्षा ऋतूच्या सुरुवातीस

B.कोरडा ऋतू

C.दोन्ही वर्षा ऋतूच्या सुरुवातीस आणि कोरडा ऋतू

D.वरीलपैकी काहीच नाही

Answer: B.कोरडा ऋतू

Reference ID:(17359) $9.60 + 6.95 + 3.75 - (9.55 - 3.95 - 3.75) = \underline{\hspace{2cm}}$

A.17.75

B.18.45

C.17.25

D.17.15

Answer: B.18.45

Reference ID:(17105) $12/20 + 11.5 - 5/40 = ?$

A.11.55

B.13.175

C.11.975

D.12.225

Answer: C.11.975

Reference ID:(20985) मालिकेतील रिकामी जागा भरा: 0, 7, 26, __, 124

A.65

B.66

C.63

D.64

Answer: C.63

Reference ID:(21493)	जर A = 1, B = 2,M = 13; आणि N = 13, O = 12, Z = 1, तर खालील पैकी कोणते पर्याय बरोबर आहे?
	A.{L + I + K + E} > {S + A + N + G}
	B.{L + I + K + E} = {S + A + N + G}
	C.{L + I + K + E} < {S + A + N + G}
	D.{L + I + K + E} = {P + L + A + Y}
Answer:	A.{L + I + K + E} > {S + A + N + G}

Reference ID:(32181)	भारताचे रेल्वेमंत्री कोण आहेत? (1 एप्रिल 2019 रोजी)
	A.अरुण जेटली
	B.पीयुष गोयल
	C.नितीन गडकरी
	D.प्रकाश जावडेकर
Answer:	B.पीयुष गोयल

Reference ID:(34949)	जर 21 (320) 16; 24 (644) 28; तर 26 (?) 31. "?" च्या मूल्य शोधा
	A.689
	B.732
	C.743
	D.775
Answer:	D.775

Reference ID:(23901) 'भंजक' या शब्दाचा विरुद्धार्थी शब्द ओळखा.

A.नाशक

B.भंगूर

C.विध्वंसक

D.निर्माता

Answer: D.निर्माता

Reference ID:(30117) Find the meaning of the word: in the sentence: **Indolent**

A.Ambitious

B.Lazy

C.Diligent

D.Zealous

Answer: B.Lazy

Reference ID:(22555) खालीलपैकी सर्वात मोठा पर्याय कोणता आहे ?

A.52 - 55 - 32 + 75 + 205 - 83 + 42 + 57

B.48 - 27 - 52 + 35 - 251 + 204 + 44 + 72

C.29 + 25 - 22 + 45 + 31 - 203 + 42 + 207

D.44 + 17 - 52 - 35 - 51 + 204 - 44 - 23

Answer: A.52 - 55 - 32 + 75 + 205 - 83 + 42 + 57

Reference ID:(16851) जर @ आहे 'भागाकार' आणि \$ आहे 'गुणाकार', तर खालील पर्यायांपैकी दुसऱ्या क्रमांकाचा सर्वात लहान कोण आहे?

A.41@5

B.4.25\$2.5

C.33@4

D.3.75\$2.5

Answer: C.33@4

Reference ID:(32178) कोणत्या घटनात्मक दुरुस्तीने मतदानाचे वय 21 पासून 18 पर्यंत कमी केले आहे?

A.23 व्या

B.52 व्या

C.61 व्या

D.78 व्या

Answer: C.61 व्या

Question Paper Title : FG_09

Date of Exam : 14-06-2019 10:00 AM

Reference ID:(28126) Find the meaning of the highlighted word in the sentence: I'm too old for this sort of **caper**.

A.Escapade

B.Dress down

C.Seriousness

D.Aggression

Answer: A.Escapade

Reference ID:(26013) आययुसीएन (IUCN) याचा पूर्ण स्वरूप _____.

A.इंटरनॅशनल युनिअन फॉर द काँझर्वेशन ऑफ नेचर अँड नॅचरल रिसोर्सेस

B.इंटरनॅशनल युनिअन फॉर द कमिटी ऑफ नेचर अँड नॅचरल रिसोर्सेस

C.इंटरनॅशनल युनायटेड कमिटेड नेशन फॉर नेचर

D.वरीलपैकी काहीच नाही

Answer: A.इंटरनॅशनल युनिअन फॉर द काँझर्वेशन ऑफ नेचर अँड नॅचरल रिसोर्सेस

Reference ID:(31668) लोकप्रिय मानव निर्मित, "हुसेन सागर तलाव" _____ येथे स्थित आहे.

A.हैदराबाद

B.अहमदाबाद

C.जयपूर

D.उदयपुर

Answer: A.हैदराबाद

Reference ID:(30866) Identify the figure of speech in the following sentence: The stormy ocean was a raging bull.

A.Simile

B.Euphemism

C.Metaphor

D.Apostrophe

Answer: C.Metaphor

Reference ID:(16511) सहा जण A , B , C , D , E आणि F हे दोन रांगामध्ये एकमेकांकडे तोंड करुन बसले आहेत. दोन्ही रांगामध्ये प्रत्येकी तीन जण आहेत. E हा कोणत्याही रांगेच्या शेवटी बसलेला नाही. D हा F च्या डावीकडे दुसऱ्या क्रमांकावर आहे. E चा शेजारी बसलेला A हा D च्या कर्णाभिमुख आहे. C हा F च्या शेजारी आहे. F च्या समोर कोण बसले आहे?

A.E

B.B

C.D

D.A

Answer: D.A

Reference ID:(28888) Supply the correct tense of the verb in the sentence: The farmers sowed the seeds after they ____ their fields. They ____ very hard.

A.Had ploughed..... work

B.Ploughed..... working

C.Have ploughed..... were working

D.Will be ploughing..... will be working

Answer: A.Had ploughed..... work

Reference ID:(16865) जर @ आहे 'भागाकार' आणि \$ आहे 'गुणाकार', तर खालीलपैकी सर्वात लहान पर्याय कोणता आहे?

A.33@5

B.1.5\$1.5

C.31@4

D.3\$1.5

Answer: B.1.5\$1.5

Reference ID:(21226) जर LETTUCE हा शब्द TELTUEC असेल आणि COMPUTE हा शब्द MOCPUET असेल, तर PUMPKIN हा शब्द _____ असेल.

A.MUPPKNI

B.MUPKPIN

C.MUPPKIN

D.MUPKPNI

Answer: A.MUPPKNI

Reference ID:(20718) जर AB = 6, S A N G = 82, G I R L = 92 , तर F R I E S = ___?

A.112

B.114

C.111

D.113

Answer: B.114

Reference ID:(22824) जर \$ आहे '+' आणि @ आहे '-', तर खालीलपैकी सर्वात लहान पर्याय कोणता आहे ?

A.152 @ 65 @ 32 \$ 74 \$ 105 @ 93 \$ 42 \$ 37

B.48 \$ 17 \$ 52 \$ 35 @ 156 @ 104 \$ 34 \$ 74

C.19 @ 15 @ 42 \$ 45 \$ 36 @ 103 \$ 42 \$ 507

D.144 @ 67 @ 52 \$ 35 @ 56 \$ 104 @ 44 @ 13

Answer: B.48 \$ 17 \$ 52 \$ 35 @ 156 @ 104 \$ 34 \$ 74

Reference ID:(23688) 'उत्कर्ष' या शब्दाचा विरुद्धार्थी शब्द ओळखा.

A.अग्रेषित

B.सहर्ष

C.अपयश

D.अपकर्ष

Answer: D.अपकर्ष

Reference ID:(26011)

लक्षद्वीप बेटे _____ आहेत.

A.ज्वालामुखी बेटे

B.कोरल बेटे

C.कॉन्टिनेंटल बेटे

D.ज्वार बेटे

Answer:

B.कोरल बेटे

Reference ID:(21707)

जर A = 1, B = 2, C = 3, Z = 26, तर खालील पैकी कोणते पर्याय बरोबर आहे?

A. {D + O + C + K} = {D + O + G}

B. {D + O + C + K} < {D + O + G}

C. {D + O + C + K} > {D + O + G}

D. {D + O + G} = {N + P + I + N}

Answer:

C. {D + O + C + K} > {D + O + G}

Reference ID:(24169)

खालीलपैकी व्याकरणाच्या दृष्टीने शुद्ध शब्द-लेखन असलेला शब्द ओळखा.

A.अद्यात्मिक

B.अध्यात्मीक

C.आध्यात्मिक

D.आध्यात्मीक

Answer:

C.आध्यात्मिक

Reference ID:(28634)

Pick the right idiom which fits into the sentence: She _____ to all the criticism

A.Smelt a rat

B.Put the cart before the horse

C.Turned a deaf ear

D.Made a mare's nest

Answer:

C.Turned a deaf ear

Reference ID:(18743)

खालीलपैकी अपूर्ण वर्तमानकाळातील वाक्य कोणते?

A.सुरेश पत्र लिहित आहे.

B.सुषमा अभ्यास करीत आहे.

C.आम्ही जेवण करीत आहोत.

D.वरीलपैकी सर्व

Answer:

D.वरीलपैकी सर्व

Reference ID:(32916)

महाराष्ट्रातील कोणत्या धार्मिक सामाजिक सुधारकांना "लोकहितवादी" म्हणून ओळखले जात असे?

A.महादेव गोविंद रानडे

B.गोपाळ हरी देशमुख

C.विष्णुशास्त्री चिपळूणकर

D.विठ्ठल रामजी शिंदे

Answer:

B.गोपाळ हरी देशमुख

Reference ID:(20999)	मालिकेतील रिकामी जागा भरा: 8, 14, 26, __, 98
	A.48
	B.56
	C.52
	D.50
Answer:	D.50
Reference ID:(35163)	खाली दिलेल्या पत्त्यापैकी 3 पत्ते समान आहेत आणि 1 भिन्न आहे. कोणता पत्ता भिन्न ते ओळखा?
	A.231 A SECTOR 9, UKKUNAGARAM STEEL PLANT, VISAKHAPATNAM ANDHRA PRADESH PH 0900500700
	B.231 A SECTOR 9, UKKUNAGARAM STEEL PLANT, VISAKHAPTANAM ANDHRA PRADESH PH 0900500700
	C.231 A SECTOR 9, UKKUNAGARAM STEEL PLANT, VISAKHAPATNAM ANDHRA PRADESH PH 0900500700
	D.231 A SECTOR 9, UKKUNAGARAM STEEL PLANT, VISAKHAPATNAM ANDHRA PRADESH PH 0900500700
Answer:	B.231 A SECTOR 9, UKKUNAGARAM STEEL PLANT, VISAKHAPTANAM ANDHRA PRADESH PH 0900500700
Reference ID:(16892)	$5/20 + 0.75 - 5/40 = ?$

A.2.975

B.1.55

C.0.875

D.1.175

Answer: C.0.875

Reference ID:(29877) Pick the right antonym for the word:
condemn

A.Praise

B.Unpopular

C.Dislike

D.Sorrow

Answer: A.Praise

Reference ID:(32910) पुढीलपैकी कोणती रोख मालमत्ता आहे?

A.शेअर

B.कर्जातून निर्माण केलेली ठेवी

C.बाँड

D.पोस्ट ऑफिस प्रमाणपत्र

Answer: B.कर्जातून निर्माण केलेली ठेवी

Reference ID:(18716)	सचिन अध्याप मैदानावर _____. हे वाक्य पूर्ण भूतकाळी करावयाचे असल्यास खालीलपैकी कोणते क्रियापद वापरावे लागेल?
	A.पोचला नाही.
	B.पोचला नसेल.
	C.पोचत नव्हता.
	D.पोचला नव्हता.
Answer:	D.पोचला नव्हता.
Reference ID:(27364)	Identify the figure of speech in the following sentence: She hung her head like a dying flower.
	A.Personification
	B.Metaphor
	C.Simile
	D.Hyperbole
Answer:	C.Simile
Reference ID:(23434)	'सुज्ञ' या शब्दाचा समानार्थी शब्द ओळखा.
	A.अज्ञानी
	B.मूर्ख
	C.सुजाण
	D.सामान्य

Answer:	C.सुजाण
Reference ID:(19959)	<p>पुढील विधानाला जी म्हण योग्य असेल असा पर्याय ओळखा: दादाने आईच्या नकळत दोन लाडू खाल्ले आणि छकुलीला त्यातला अर्धा लाडू दिला. आईने छकुलीला विचारले की दादाने लाडू खाल्ले का तर ती 'नाही' म्हणाली व दादाला विचारल्यावर तोही म्हणाला की छकुलीने नाही खाल्ले. आईला कळून चुकले की</p>
	<p>A.कसायाला गाय धार्जिणी B.उंदराला मांजर साक्षी C.एका म्यानात दोन तलवारी D.साखरेचे खाणार त्याला देव देणार</p>
Answer:	B.उंदराला मांजर साक्षी
Reference ID:(32909)	<p>भारतातील सर्वप्रथम "इंडियन इंस्टिट्यूट ऑफ स्किल्स (आयआयएस)" कोठे आहे?</p>
	<p>A.लखनऊ B.कानपूर C.इलाहाबाद D.मुंबई</p>
Answer:	B.कानपूर
Reference ID:(21453)	<p>जर CLEMENTINE हा शब्द ZIBJBKQFKB असेल, तर CANTALOUPE हा शब्द _____ असेल.</p>
	<p>A.ZXKQIXLRMB B.ZXKQXIRLMB C.ZXKQXILRMB</p>

D.ZXKQXILRNB

Answer: C.ZXKQXILRMB

Reference ID:(29396) Pick the right meaning of the highlighted word in the sentence:
She just sat there looking **morose**

A.Showing unreal excitement about something

B.To be sad about something

C.To be happy about something

D.To be scared about something

Answer: B.To be sad about something

Reference ID:(34909) जर $19 \times 22 = 82$, $34 \times 2 = 72$ आणि $17 \times 6 = 46$, तर $92 \times 51 = ?$

A.235

B.194

C.284

D.286

Answer: D.286

Reference ID:(28607) Find the meaning of the highlighted word in the sentence: The descriptions of the abuse are **graphic**.

A.Shocking

B.Implicit

C.Vague

D.Petty

Answer: A.Shocking

Reference ID:(31669) च्या शिफारशीवर संविधान सभेची रचना केली गेली होती.

A.कॅबिनेट मिशन योजना-1946

B.भारतीय शासन अधिनियम, 1943

C.भारतीय स्वातंत्र्य कायदा

D.राणीचा जाहीरनामा

Answer: A.कॅबिनेट मिशन योजना-1946

Reference ID:(30358) Find the meaning of the highlighted word in the sentence: Despite their age they were remarkably **nimble**.

A.Soft

B.Slow

C.Agile

D.Daft

Answer: C.Agile

Reference ID:(28861) Convert the simple sentence to a complex sentence: Your father is the man to solve the problem

A.Solving the problems was done by your dad

B.Your father is the man to have solved these problems

C.Your father is the man who can solve this problem

D.Your father is the problem-solving man

Answer: C.Your father is the man who can solve this problem

Reference ID:(27037) Find the meaning of the highlighted word in the sentence: In his office, he is held up as an object of **ridicule** .

A.Inspiration

B.Mockery

C.Interest

D.Weight

Answer: B.Mockery

Reference ID:(23942) खालीलपैकी विरुद्धार्थी शब्दाची चुकीची जोडी ओळखा.

A.संकुचित x व्यापक

B.करंटा x भाग्यहीन

C.भव्य x चिमुकले

D.मंजुळ x सुरेल

Answer: D.मंजुळ x सुरेल

Reference ID:(23915) खालीलपैकी विरुद्धार्थी शब्दाची बरोबर जोडी ओळखा.

A.संक्षिप्त x विस्तृत

B.समृद्धि x भरभराट

C.चौकशी x विचारपूस

D.पुष्प x सुमन

Answer: A.संक्षिप्त x विस्तृत

Reference ID:(26020) खालीलपैकी भारतातील पहिले राष्ट्रीय उद्यान कोणते आहे?

- A.काझीरंगा राष्ट्रीय उद्यान
- B.जिम कॉर्बेट राष्ट्रीय उद्यान
- C.बंदीपूर राष्ट्रीय उद्यान
- D.गीर राष्ट्रीय उद्यान

Answer: B.जिम कॉर्बेट राष्ट्रीय उद्यान

Reference ID:(26014) मानव रंग, उंची आणि शारीरिक स्वरूपात _____मुळे भिन्न असतात.

- A.प्रजातीची विविधता
- B.जनुकीय विविधता
- C.परिस्थितिकी विविधता
- D.वरीलपैकी सर्व

Answer: B.जनुकीय विविधता

Reference ID:(18489) निखिलने आंबा खाल्ला. या वाक्यतील प्रयोग कोणता?

- A.सकर्मक कर्तरी
- B.अकर्मक कर्तरी
- C.कर्मणी
- D.भावे

Answer:	C.कर्मणी
Reference ID:(19986)	'स्मरण' या शब्दाचा समानार्थी शब्द ओळखा.
	A.सय
	B.सकल
	C.स्तुती
	D.संहार
Answer:	A.सय
Reference ID:(30131)	Find the meaning of the highlighted word in the sentence: An unhappy family life may inhibit children's learning.
	A.Frees up
	B.Motivates
	C.Hamper
	D.Encourages
Answer:	C.Hamper
Reference ID:(24677)	प्रश्नातील वाक्यात रिकामी जागा भरण्यास सर्वात योग्य शब्द निवडा. भूतकाळात केलेल्या चुका पूढे आपल्यालाचलागतात.
	A.सयष्टव्य
	B.निश्तोष

C.निस्तराव्या

D.निस्तेज

Answer:

C.निस्तराव्या

Reference ID:(22570)

खालीलपैकी सर्वात लहान पर्याय कोणता आहे ?

A. $25 + 22 + 35 - 72 - 102 + 83 - 45 - 27$

B. $48 + 17 + 25 - 32 + 126 - 104 - 44 - 71$

C. $19 - 12 + 15 - 42 - 36 + 103 - 45 - 107$

D. $44 - 67 + 25 + 32 + 26 - 104 + 44 + 13$

Answer:

C. $19 - 12 + 15 - 42 - 36 + 103 - 45 - 107$

Reference ID:(17627)

15 च्या $\frac{1}{6} + 40$ च्या 15% च्या 200% + $0.25 \times 60 = \underline{\hspace{2cm}}$

A.31

B.29.5

C.31.5

D.28.75

Answer:

B.29.5

Reference ID:(20464)

X चे दक्षिण पूर्व दिशेला तोंड आहे. तो 90 अंश डावीकडे वळतो. मग तो 70 अंश उजवीकडे वळतो. मग तो 180 अंश वळतो. मग तो 90 अंश उजवीकडे वळतो. शेवटी तो डावीकडे 25 अंश वळतो. आता तो कोणत्या दिशेला तोंड करून उभा आहे?

A.पश्चिम

B.दक्षिण

C.पूर्व

D.उत्तर

Answer: D.उत्तर

Reference ID:(20491) जर $W + H + A + T = 52$, $S + H + E = 32$, तर $W + A + S + H = \underline{\quad}$?

A.51

B.54

C.53

D.52

Answer: A.51

Reference ID:(20745) जर $MO = 78$, $MCQ = 729$, तर 1113 _____ असू शकते

A.AUI

B.UAE

C.AAAC

D.USA

Answer: B.UAE

Reference ID:(31666) संविधानाच्या मसुदा समितीचे सदस्य पुढीलपैकी कोण नव्हते?

A.मोहम्मद सादुल्ला

B.के. एम. मुन्शी

C.अल्लादी कृष्णस्वामी अय्यर

D.जवाहरलाल नेहरू

Answer:

D.जवाहरलाल नेहरू

Reference ID:(18462)

अर्जुनाने फिरत्या मत्स्याच्या डोळ्याचा नेम धरला.

अर्जुनाने बाण मारला.

या दोन वाक्यांचे एकच केवळ वाक्य बनवायचे असल्यास खालीलपैकी कोणता पर्याय योग्य ठरेल?

A.अर्जुनाने फिरत्या मत्स्याच्या डोळ्याचा नेम धरला आणि बाण मारला.

B.अर्जुनाने फिरत्या मत्स्याच्या डोळ्याचा नेम धरून बाण मारला.

C.अर्जुनाने फिरत्या मत्स्याच्या डोळ्याचा नेम धरला व बाण मारला.

D.अर्जुनाने फिरत्या मत्स्याच्या डोळ्याचा नेम धरला म्हणून बाण मारला.

Answer:

B.अर्जुनाने फिरत्या मत्स्याच्या डोळ्याचा नेम धरून बाण मारला.

Reference ID:(30893)

Identify the figure of speech in the following sentence: That urban legend turned out to be a true myth.

A.Hyperbole

B.Personification

C.Oxymoron

D.Simile

Answer:

C.Oxymoron

Reference ID:(32914)

भारतात हाय स्पीड ग्रामीण ब्रॉडबँड नेटवर्क असणारा कोणता पहिला जिल्हा बनला आहे?

A.अजमेर, राजस्थान

B.विदिशा, मध्य प्रदेश

C.इडुक्की, केरळ

D.कामरूप, आसाम

Answer: C.इडुक्की, केरळ

Reference ID:(25158) समूहदर्शक शब्द ओळखा. जसा उपकरणांचा संच तसा गवताचा _____.

A.कुंज

B.भारा

C.कळप

D.संच

Answer: B.भारा

Reference ID:(27618) Identify the figure of speech in the following sentence: This is another fine mess you have got yourself into.

A.Personification

B.Metaphor

C.Oxymoron

D.Simile

Answer: C.Oxymoron

Reference ID:(20210)	X चे पश्चिम दिशेला तोंड आहे. तो 90 अंश उजवीकडे वळतो. मग तो 45 अंश डावीकडे वळतो. मग तो 180 अंश वळतो. शेवटी तो डावीकडे 45 अंश वळतो. आता तो कोणत्या दिशेला तोंड करून उभा आहे?
	A.पूर्व
	B.पश्चिम
	C.उत्तर
	D.दक्षिण
Answer:	A.पूर्व
Reference ID:(32908)	'मूकनायक' हे नियतकालिक ह्यांनी सुरू केले.
	A.डॉ. बी.आर. आंबेडकर
	B.गोपालबाबा
	C.बाळशास्त्री जांभेकर
	D.छत्रपती शाहू
Answer:	A.डॉ. बी.आर. आंबेडकर
Reference ID:(30104)	Pick the right antonym for the word: Encourage
	A.constraint
	B.Aid
	C.Relief
	D.Service
Answer:	A.constraint

Reference ID:(27010)

Select the correct passive voice form of the sentence: I have placed the package on the table.

A.On the table is the package being placed by me

B.I am placing the package on the table

C.The package has been placed on the table by me

D.The table is where the package is being placed

Answer:

C.The package has been placed on the table by me

Reference ID:(28380)

Find the meaning of the highlighted word in the sentence: Even at 66 she was as **feisty** as ever.

A.Timid

B.Dull

C.Flat

D.Spirited

Answer:

D.Spirited

Reference ID:(29369)

Pick the right meaning of the highlighted word in the sentence: His elaborate **deception** fooled his family for ages.

A.Resorting to fraud or trickery

B.Being honest about something

C.Behaving hateful with everyone

D.Being in a joyful state

Answer:

A.Resorting to fraud or trickery

Reference ID:(25412)

'महर्षी' या शब्दाचा खालीलपैकी योग्य संधी विग्रह ओळखा.

A.महा + र्षी

B.मह + ऋषी

C.महा + ऋषी

D.महा + अर्षी

Answer:

C.महा + ऋषी

Reference ID:(17119)

खालीलपैकी सर्वात लहान पर्याय कोणता आहे?

A.350 चे 70%

B.850 चा 1/4

C.0.35 × 900

D.900 चा 2/5

Answer:

B.850 चा 1/4

Reference ID:(17373)

$4.50 + 3.25 + 4.0 - (5.50 + 3.25 - 4.35) = \underline{\quad}$

A.7.45

B.8.05

C.7.35

D.7.55

Answer: C.7.35

Reference ID:(34936) जर सांकेतिक भाषेत 432567 हे 523476 आहे , तर 458762 हे सांकेतिक भाषेत काय असेल?

A.548671

B.549771

C.549671

D.549661

Answer: C.549671

Reference ID:(24450) प्रश्नातील वाक्यात रिकामी जागा भरण्यास सर्वात योग्य शब्द निवडा.
दोन दिवस झालेल्या दमदार पावसाने पिकांना मिळाली.

A.सकृतदर्शनी

B.संजीवनी

C.संदीपनी

D.कारकुनी

Answer: B.संजीवनी

Reference ID:(32917) "चिकनकारी भरतकाम" कोणत्या शहरापासून प्रसिद्ध झाले?

A.भोपाळ

B.लखनऊ

C.जयपूर

D.अहमदाबाद

Answer:

B.लखनऊ

Reference ID:(30385)

Find the meaning of the highlighted word in the sentence: The ball gathered **pace** as it rolled down the hill.

A.Speed

B.Dust

C.Heat

D.Dirt

Answer:

A.Speed

Reference ID:(28353)

Find the meaning of the highlighted word in the sentence: He is very **discreet** in giving his opinion.

A.Open

B.Tactless

C.Cautious

D.Careless

Answer:

C.Cautious

Reference ID:(32915)

हिंगणे स्त्री शिक्षण संस्था ___ यांनी स्थापना केली.

A.ज्योतिराव फुले

B.कर्मवीर भाऊराव कर्वे

C.रघुनाथ धोंडो कर्वे

D.धोंडो केशव कर्वे

Answer: D.धोंडो केशव कर्वे

Reference ID:(31663) भारतात पर्यावरणविज्ञानाचे जनक म्हणून कोण ओळखले जाते?

A.राम सुकुमार

B.सरथ कुमार

C.माधव गाडगीळ

D.रामदेव मिश्रा

Answer: D.रामदेव मिश्रा

Reference ID:(31662) बोगिबील पूल येथे स्थित आहे.

A.आसाम

B.पश्चिम बंगाल

C.बिहार

D.महाराष्ट्र

Answer: A.आसाम

Reference ID:(24904) पुढील शब्दसमूहासाठी योग्य शब्द निवडा.
संध्याकाळी भोजनोत्तर परिसरात सहज फिरणे

A.फेरफटका

B.पायपीट

C.वाटचाल

D.शतपावली

Answer: D.शतपावली

Reference ID:(24423) खालीलपैकी व्याकरणाच्या दृष्टीने शुध्द वाक्याचा पर्याय निवडा.

A.शंकराने तीसरा डोळा उघडला.

B.त्याचा स्वभाव विसरभोळा आहे.

C.तू तीरसटपणा करू नकोस.

D.ह्याचा परिणाम विप्रित होईल.

Answer: B.त्याचा स्वभाव विसरभोळा आहे.

Reference ID:(29650) Pick the Synonym for the word:
initiated

A.Begin

B.Halt

C.Stop

D.Abolish

Answer: A.Begin

Reference ID:(19732) "विंचवाचे बिऱ्हाड पाठीवर" या म्हणीचा अर्थ खालीलपैकी कोणता ते ओळखा?

A.गावात प्रत्येक घरात मागील बाजूस विंचू असतात

B.विंचू व त्याची पिलावळ त्याच्या पाठीवरच नेहेमी राहतात

C.गरजेपुरत्या गोष्टी घेऊन फिरावे, अनावश्यक बाबी टाळाव्यात

D.खूप जबाबदऱ्या घेणे

Answer:

C.गरजेपुरत्या गोष्टी घेऊन फिरावे, अनावश्यक बाबी टाळाव्यात

Reference ID:(16538)

120 च्या 30% - 12/20 + 1.5 = _____

A.37.4

B.36.65

C.36.9

D.37.30

Answer:

C.36.9

Reference ID:(29623)

Pick the Synonym for the word:
mendicant

A.Beggar

B.Lordly

C.Attached

D.Plentiful

Answer:

A.Beggar

Reference ID:(17881)

X हा Y च्या 2.5% आहे. मग Y हा X च्या _____ % आहे.

A.400

B.25

C.750

D.4000

Answer: D.4000

Reference ID:(31664) पुढील राज्यांपैकी कोणते राज्य नर्मदा नदीच्या खोऱ्याचा भाग नाही?

A.गुजरात

B.मध्य प्रदेश

C.राजस्थान

D.महाराष्ट्र

Answer: C.राजस्थान

Reference ID:(32913) लोकशाही ही 'लोकांचे सरकार, लोकांद्वारे, लोकांसाठी' अशी कोणी परिभाषित केली होती?

A.महात्मा गांधी

B.अब्राहम लिंकन

C.रोनाल्ड रीगन

D.जॉन एफ. केनेडी

Answer: B.अब्राहम लिंकन

Reference ID:(22596) जर \$ आहे '+' आणि @ आहे '-', तर खालीलपैकी सर्वात मोठा पर्याय कोणता आहे ?

A.22 \$ 11 @ 72 \$ 45 @ 65 @ 13 \$ 42 \$ 57

B.118 \$ 17 @ 52 \$ 35 @ 156 \$ 104 @ 44 @ 37

C.79 \$ 45 \$ 162 \$ 45 \$ 36 @ 103 \$ 42 \$ 17

D.38 @ 107 @ 52 @ 35 @ 56 \$ 104 \$ 144 @ 7

Answer: C.79 \$ 45 \$ 162 \$ 45 \$ 36 @ 103 \$ 42 \$ 17

Reference ID:(30612) Pick the correct meaning of the highlighted idiom: He is **not worth his salt** if he fails now.

A.To be puzzled

B.Quite worthless

C.To be critical

D.To not be an adventurous kind of person

Answer: B.Quite worthless

Reference ID:(20972) मालिकेतील रिकामी जागा भरा: A, M, B, __, C, O, D, P, E

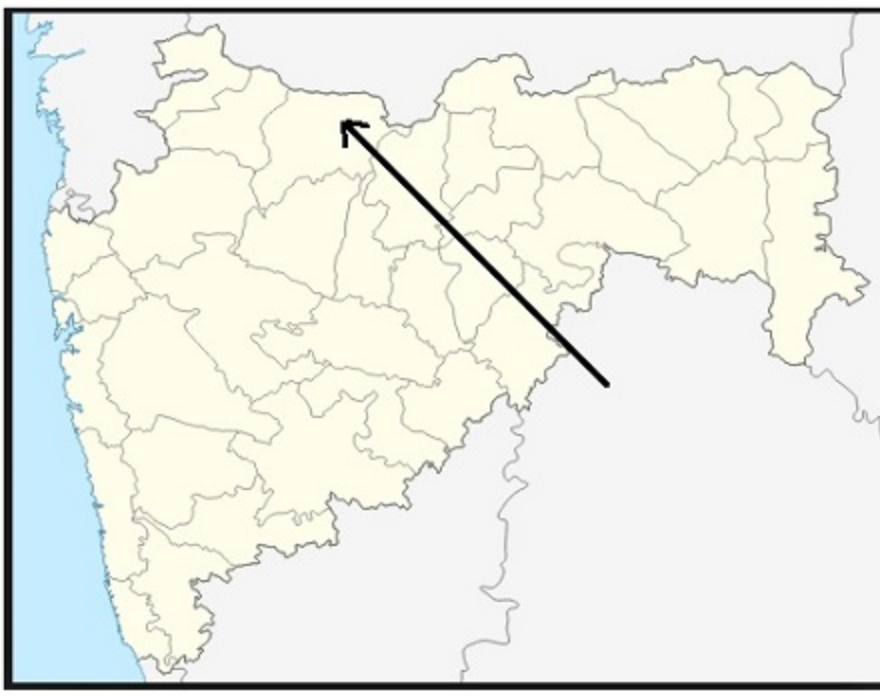
A.H

B.G

C.N

D.L

Answer: C.N



महाराष्ट्रातील नकाशात बाणने दर्शविलेला जिल्हा खालीलपैकी कोणता आहे?

A. बुलढाणा

B. धुळे

C. जालना

D. जळगाव

Answer:

D. जळगाव

खालीलपैकी समानार्थी शब्दाची चुकीची जोडी ओळखा

A. शिकस्त – शिस्त

B. क्षुधा – भूक

C. कृश – बारीक

D. उदर – पोट

Answer: A.शिकस्त – शिस्त

Reference ID:(17854) 42 च्या $\frac{1}{12}$ + 12 च्या 20% च्या 200% + $0.40 \times 140 = \underline{\hspace{2cm}}$

A.65.8

B.66.3

C.63.55

D.64.3

Answer: D.64.3

Reference ID:(30639) Convert the following active to passive voice: The police have caught the thief

A.The thief was caught by the police

B.The thief has been caught by the police

C.The thief had been caught by the police

D.The thief was to be caught by the police

Answer: B.The thief has been caught by the police

Reference ID:(32912) उत्तराखंडमध्ये कोणत्या शहराला "जागतिक योगा राजधानी" म्हटले जाते?

A.देहरादून

B.हरिद्वार

C.नैनीताल

D.ऋषिकेश

Answer: D.ऋषिकेश

Reference ID:(17400)	$5.30 + 5.25 + 6.75 - (4.50 - 7.75 + 1.25) = \underline{\hspace{2cm}}$
	A.18.15
	B.18.05
	C.18.30
	D.19.3
Answer:	D.19.3
Reference ID:(19451)	"आमचा राजेश म्हणजे महा हलक्या कानाचा माणूस आहे." ह्या वाक्यातील 'हलक्या कानाचा माणूस' या वाक्प्रचाराचा खालील पर्यायातून अचूक आणि नेमका अर्थ ओळखा.
	A.लहान आकाराचा कान असलेला माणूस
	B.अत्यंत विश्वासू अशी व्यक्ती
	C.महाकपटी व्यक्ती
	D.वस्तुस्थिती व खरे-खोटे जाणून न घेता पटकन विश्वास ठेवणारी व्यक्ती
Answer:	D.वस्तुस्थिती व खरे-खोटे जाणून न घेता पटकन विश्वास ठेवणारी व्यक्ती

Reference ID:(18235)

वैशाखिंचा कुमुदनाथ नभांत हांसे
यच्चंद्रिका धवल सौधतलीं विलासे
घाली स्वयें जल जिला प्रिय बाळ लोभें
जाई फुले, परिमलें सुमजांत शोभे

वरील ओळीतील वृत्त ओळखा.

A. भुजंगप्रयात

B. पादाकुलक

C. वसंततिलका

D. नववधू

Answer:

C. वसंततिलका

Reference ID:(32911)

जम्मू-काश्मीरचे राज्य फूल कोणते आहे?

A. गुलाब

B. लिली

C. कमळ

D. जास्मीन

Answer:

C. कमळ

Reference ID:(26012)

इन-सिटू संवर्धन खालीलपैकी काय संदर्भित करते?

(1) वनस्पती आणि प्राण्यांचे त्यांच्या जन्मजात परिसंस्थेतील संवर्धन

(2) वनस्पती आणि प्राण्यांचे त्यांच्या मानव-निर्मित परिसंस्थेतील संवर्धन

A. फक्त (1)

B. फक्त (2)

C.दोन्ही (1) आणि (2)

D.दोन्ही (1) आणि (2) नाही

Answer: C.दोन्ही (1) आणि (2)

Reference ID:(26019) भारतात सध्या जीवावरण राखीव क्षेत्राची एकूण संख्या किती आहे?

A.30

B.15

C.18

D.20

Answer: C.18

Reference ID:(17146) $7.05 + 8.5 + 0.55 - (4.30 + 5.25 - 9.75) = \underline{\quad}$

A.16.30

B.16.25

C.16.15

D.16.75

Answer: A.16.30

Reference ID:(27872)	Pick the correct meaning of the highlighted idiom or phrase from the following: Atul always plays second fiddle to what his brother says.
	A.To play a secondary role of less importance
	B.To play a musical instrument to entertain someone
	C.To interfere in all matters
	D.To not be confident to make decisions
Answer:	A.To play a secondary role of less importance
Reference ID:(29115)	Fill in the blanks with the correct form of future continuous or future perfect tense: They ____ the results by next Friday.
	A.Will have declared
	B.Declared
	C.To declare
	D.Had Declared
Answer:	A.Will have declared
Reference ID:(18970)	खालील शब्दाचा समास / समास प्रकार ओळखा. कृष्णमेघ
	A.कर्मधारय
	B.तृतीय तत्पुरुष
	C.अव्ययीभाव
	D.सह बहुव्रीहि
Answer:	A.कर्मधारय

Reference ID:(27899)

Find the word that is opposite in meaning to the word: Amiss

A.Improper

B.Bachelor

C.Suitable

D.Bad

Answer:

C.Suitable

Reference ID:(24196)

खालीलपैकी व्याकरणाच्या दृष्टीने अशुद्ध शब्द-लेखन असलेला शब्द ओळखा.

A.मोरपीस

B.रासवट

C.विज्ञाननीष्ठ

D.रक्तरंजित

Answer:

C.विज्ञाननीष्ठ

Reference ID:(21480)

जर $A = 1, B = 2, \dots, M = 13$; आणि $N = 13, O = 12, \dots, Z = 1$, तर खालील पैकी कोणते पर्याय बरोबर आहे?

A. $\{B + U + S\} < \{B + O + Y\}$

B. $\{B + U + S\} = \{B + O + Y\}$

C. $\{B + U + S\} > \{B + O + Y\}$

D. $\{B + U + S\} = \{F + L + Y\}$

Answer:

B. $\{B + U + S\} = \{B + O + Y\}$

Reference ID:(26018)	संवेदनक्षम क्षेत्रे त्यांच्या _____ नुसार परिभाषित केली जातात.
	A.दृश्य
	B.स्थान
	C.भूभाग
	D.वृक्ष-वनस्पती
Answer:	D.वृक्ष-वनस्पती
Reference ID:(19224)	"धूळभेट होणे" या वाक्यचाराचा खालीलपैकी कोणता अर्थ योग्य आहे?
	A.धुळीचे वादळ होणे
	B.सपशेल हार होणे
	C.एखाद्याशी उभ्या उभ्या झालेली अल्प वेळेतील भेट
	D.एखाद्याला वाढदिवसाची भेट म्हणून डब्यात धूळ भरून देणे
Answer:	C.एखाद्याशी उभ्या उभ्या झालेली अल्प वेळेतील भेट
Reference ID:(18208)	कोणत्याही काव्यात अथवा वाक्यात ज्यावेळी एखाद्या वस्तुचे, व्यक्तित्ते, प्रसंगाचे, दृश्याचे हुबेहूब पण वैशिष्ट्यपूर्ण वर्णन केले जाते तेव्हा अलंकार होतो.
	A.भ्रांतिमान
	B.अपन्हृती
	C.स्वभावोक्ति
	D.व्यतिरेक

Answer:	C.स्वभावोक्ति
Reference ID:(31667)	महाराष्ट्रात गोदावरी नदीवर कोणते धरण बांधलेले आहे ?
	A.उजनी
	B.इसापूर
	C.तोतला डोह
	D.जायकवाडी
Answer:	D.जायकवाडी
Reference ID:(27391)	Identify the figure of speech in the following sentence: The chair groaned as he sat on it.
	A.Oxymoron
	B.Simile
	C.Metaphor
	D.Personification
Answer:	D.Personification
Reference ID:(26015)	वनस्पति उद्यान _____ च्या श्रेणी अंतर्गत येते.
	A.इन-सिटू संवर्धन
	B.एक्स-सिटू संवर्धन
	C.प्राणीसंग्रहालय
	D.अभयारण्य

Answer: B.एक्स-सिटू संवर्धन

Reference ID:(26016) खालीलपैकी कोणते कारण वन्यजीवन विलुप्त होण्याचे आहेत?
(a) नैसर्गिक निवासे नष्ट करणे
(b) शिकार
(c) संवर्धन

A.फक्त (a)

B.फक्त (b)

C.दोन्ही (a) आणि (b)

D.(a), (b) आणि (c)

Answer: C.दोन्ही (a) आणि (b)

Reference ID:(19478) प्रश्नात दिलेल्या वाक्यचाराचा योग्य वापर असलेले वाक्य पर्यायांमधून ओळखा. अवाक् होणे

A.मनोरंजक सिनेमा पाहून श्रुती भीतीने अवाक् झाली.

B.कार्यक्रमात वादकाने डोक्याने की-बोर्ड वाजवताना पाहून सर्व श्रोते अवाक् झाले.

C.खूप आरडाओरडा करून मुले अवाक् झाली.

D.दारावरचे तोरण फुलांच्या वजनाने अवाक् झाले.

Answer: B.कार्यक्रमात वादकाने डोक्याने की-बोर्ड वाजवताना पाहून सर्व श्रोते अवाक् झाले.

Reference ID:(25185) 'अयोध्येश' या शब्दाचा खालीलपैकी योग्य संधी विग्रह ओळखा.

A.अयोध्या + इश

B.अयो + ईश

C.अयोध्या + ईश

D.अयो + ध्याईश

Answer: C.अयोध्या + ईश

Reference ID:(31670) खालीलपैकी कोणती नदी गंगा नदीची वितरिका आहे?

A.हुगळी

B.अलकनंदा

C.कोसी

D.गोमती

Answer: A.हुगळी

Reference ID:(24931) पुढील शब्दसमूहासाठी योग्य शब्द निवडा.
न्याय देण्याच्या बाबतीत कठोर असणारा

A.पुरोगामी

B.न्यायनिष्ठूर

C.पाषाणहृदयी

D.न्यायाधीश

Answer: B.न्यायनिष्ठूर

Reference ID:(18997)	खालील शब्दाचा समास / समास प्रकार ओळखा. सवर्ण
	A.द्वंद्व
	B.सहबहुव्रीहि
	C.अव्ययीभाव
	D.तत्पुरुष
Answer:	B.सहबहुव्रीहि
Reference ID:(31665)	भारतीय संविधानाने कोणत्या देशाकडून संघराज्य व्यवस्था घेतली आहे.
	A.कॅनडा
	B.युनायटेड किंगडम
	C.ऑस्ट्रेलिया
	D.युनायटेड स्टेट्स ऑफ अमेरिका
Answer:	A.कॅनडा
Reference ID:(22242)	खालीलपैकी सर्वात मोठा पर्याय कोणता आहे ?
	A.15 - 22 + 65 - 42 - 62 + 103 - 45 - 27
	B.18 - 17 + 25 - 32 + 26 - 104 + 44 + 37
	C.19 - 12 + 165 - 42 - 36 - 103 - 45 - 17
	D.38 - 107 + 25 + 32 + 26 - 104 + 44 + 37
Answer:	B.18 - 17 + 25 - 32 + 26 - 104 + 44 + 37

Reference ID:(27645)

Pick the correct meaning of the highlighted idiom or phrase from the following:
You need not worry. Her injuries are minor. She will **come around soon** .

A.To recover from something

B.To appear

C.To take place

D.To go around something

Answer:

A.To recover from something

Reference ID:(29142)

Pick the right meaning of the highlighted word in the sentence:
Some of the tribals found in Andaman islands are **indigenous** to the place

A.An immigrant of some other place

B.Imported from someplace else

C.Native to a country or place

D.An alien person or thing

Answer:

C.Native to a country or place

Reference ID:(19705)

पुढील म्हण पूर्ण करण्यासाठी योग्य पर्याय निवडा. कोंड्याचा करून खाणे

A.कांडा

B.भांडा

C.मांडा

D.कांदा

Answer:

C.मांडा

Reference ID:(26017)

खालीलपैकी कोणता देश महाविविधता देश आहे?

A.मादागास्कर

B.बांगलादेश

C.अफगाणिस्तान

D.रशिया

Answer:

A.मादागास्कर

Reference ID:(20237)

एक माणूस त्याच्या घरापासून पूर्व दिशेने 7 कि.मी. चालतो.
मग तो डावीकडे वळतो आणि 4 कि.मी. चालतो.
मग तो उजवीकडे वळतो आणि 1 कि.मी. चालतो.
मग तो उजवीकडे वळतो आणि 7 कि.मी. चालतो.
मग तो उजवीकडे वळतो आणि 4 कि.मी. चालतो.
मग तो उजवीकडे वळतो आणि 3 कि.मी. चालतो.
तो त्याच्या घरापासून किती दूर आहे?

A.4 कि.मी.

B.3.5 कि.मी.

C.2 कि.मी.

D.2.5 कि.मी.

Answer:

A.4 कि.मी.

Question Paper Title : FG_16

Date of Exam : 18-06-2019 02:30 PM

Reference ID:(31932)	भारतीय राष्ट्रीय काँग्रेस पक्षाचे अध्यक्ष कोण आहेत (1 एप्रिल 2019 रोजी)?
	A.सोनिया गांधी
	B.मनमोहन सिंग
	C.गुलाम नबी आझाद
	D.राहुल गांधी
Answer:	D.राहुल गांधी
Reference ID:(30138)	Find the meaning of the highlighted word in the sentence: Despite losing his job, he was jovial .
	A.Unhappy
	B.Dejected
	C.Jolly
	D.Brave
Answer:	C.Jolly
Reference ID:(29884)	Pick the right antonym for the word: lanky
	A.bulky
	B.gangly
	C.thin

D.pleasant

Answer: A.bulky

Reference ID:(23441) 'रसना' या शब्दाचा समानार्थी शब्द ओळखा.

A.जीभ

B.पेय

C.तिखट

D.करंगळी

Answer: A.जीभ

Reference ID:(28387) Find the meaning of the highlighted word in the sentence: He **feigned** illness to avoid travel.

A.Stimulated

B.Acquired

C.Pretended

D.Excused

Answer: C.Pretended

Reference ID:(17380) $9.75 + 2.75 + 3.25 - (2.75 + 3.5 - 4.75 + 0.5) = \underline{\quad}$

A.13.25

B.13.85

C.13.75

D.13.35

Answer: C.13.75

Reference ID:(20244) एक माणूस त्याच्या घरापासून पूर्व दिशेने 12 कि.मी. चालतो. मग तो डावीकडे वळतो आणि 5 कि.मी. चालतो. मग तो उजवीकडे वळतो आणि 1 कि.मी. चालतो. मग तो उजवीकडे वळतो आणि 7 कि.मी. चालतो. मग तो उजवीकडे वळतो आणि 4 कि.मी. चालतो. मग तो उजवीकडे वळतो आणि 3 कि.मी. चालतो. मग तो डावीकडे वळतो आणि 5 कि.मी. चालतो. मग तो डावीकडे वळतो आणि 1 कि.मी. चालतो. तो त्याच्या घरापासून किती दूर आहे?

A.4 कि.मी.

B.2.5 कि.मी.

C.2 कि.मी.

D.3.5 कि.मी.

Answer: A.4 कि.मी.

Reference ID:(21460) जर ZUCHINNI हा शब्द BWEJKPPK असेल, तर PERSIMMON हा शब्द _____ असेल.

A.RGTUKOOQP

B.RGTVLOOQP

C.RHTUKOOQP

D.RGUUKOOQP

Answer: A.RGTUKOOQP

Reference ID:(16899) $8/20 + 3.5 - 5/25 = ?$

A.5.175

B.4.975

C.3.7

D.4.225

Answer: C.3.7

Reference ID:(17126) खालील पर्यायांपैकी दुसऱ्या क्रमांकाचा सर्वात मोठा कोण आहे?

A.450 चे 35%

B.1700 चा $1/4$

C. 0.35×900

D.1100 चा $2/5$

Answer: B.1700 चा $1/4$

Reference ID:(26285) पुढीलपैकी कोणता प्राणी सर्वात मोठ्या कोरड्या जमिनीवरील शाकाहारी प्राणी आहे?

A.निलगाय

B.चिंकारा

C.ताहर

D.काळवीट

Answer: A.निलगाय

Reference ID:(17607) $3.25 + 3.55 + 4.75 - (3.5 + 10 - 2.5 + 4) = \underline{\hspace{1cm}}$

A.-3.45

B.-4.9

C.-3.7

D.-4.15

Answer: A.-3.45

Reference ID:(20979) मालिकेतील रिकामी जागा भरा: U T __ R Q

A.W

B.P

C.V

D.S

Answer: D.S

Reference ID:(33185)

'इंडिया 2020 - ए व्हिजन फॉर द न्यू मिलेनियम' हे पुस्तक कोणी लिहिले?

A.ए.पी.जे अब्दुल कलाम

B.आर.के लक्ष्मण

C.खुशवंत सिंग

D.नीरद सी. चौधरी

Answer:

A.ए.पी.जे अब्दुल कलाम

Reference ID:(30873)

Identify the figure of speech in the following sentence: The thunder grumbled like an old man.

A.Metaphor

B.Simile

C.Personification

D.Oxymoron

Answer:

C.Personification

Reference ID:(28614)

Pick the right idiom which fits into the sentence: He's caught _____ as to whether he should accept his brothers' invitation

A.Turning a new leaf

B.Eating a humble pie

C.Between the devil and the deep blue sea

D.Burying the hatchet

Answer:

C.Between the devil and the deep blue sea

Reference ID:(26282)	खालीलपैकी कोणत्या संकटग्रस्त प्राण्यांपासून शाहतुश लोकर मिळवितात?
	A.चिरू
	B.चितळ
	C.काश्मिरी शेळी
	D.ससा
Answer:	A.चिरू

Reference ID:(26289)	भारतात पर्यावरण संरक्षण कायदा _____ मध्ये मंजूर झाला.
	A.1980
	B.1986
	C.1970
	D.1999
Answer:	B.1986

Reference ID:(19739)	"लग्नाला वीस, तर वाजंत्रीला तीस" या म्हणीचा अर्थ खालीलपैकी कोणता ते ओळखा?
	A.अंगी थोडासा गुण असणारा माणूस जास्त बढाई मारतो
	B.प्रमुख कार्यपेक्षा गौण कार्यालाच जास्त खर्च करणे
	C.लग्नाला माणसे कमी येणे
	D.हिशोबात हेरफेर करणे
Answer:	B.प्रमुख कार्यपेक्षा गौण कार्यालाच जास्त खर्च करणे

Reference ID:(27044)	Find the meaning of the highlighted word in the sentence: We give to charity because it appeases our guilt.
	A.Increases
	B.Provoke
	C.Encourage
	D.Satisfies
Answer:	D.Satisfies
Reference ID:(18496)	"राम आंबट फळ खातो." हे वाक्य शक्य कर्मणी प्रयोगात रूपांतरीत केल्यास योग्य पर्याय कोणता असेल?
	A.रामाने आंबट फळ खाल्ले
	B.रामकडून आंबट फळ खाले गेले
	C.रामच्याने आंबट फळ खावते.
	D.राम आंबट फळ खाऊ शकतो.
Answer:	C.रामच्याने आंबट फळ खावते.
Reference ID:(24430)	खालीलपैकी व्याकरणाच्या दृष्टीने शुध्द वाक्याचा पर्याय निवडा.
	A.पाऊस पडू लागल्यावर चिमण्यांनी झाडाचा आश्रय घेतला.
	B.यंदाच्या वर्षिकोत्सवात आमचा कार्यक्रम निवडला गेला.
	C.मुलांचे मनःशस्त्र त्यांनी अभ्यासले होते.
	D.रमा आमच्या शिबिरर्थिपिकी एक होती.

Answer:	A.पाऊस पडू लागल्यावर चिमण्यांनी झाडाचा आश्रय घेतला.
Reference ID:(17634)	15 च्या 1/6 + 50 च्या 60% च्या 200% + 0.25 × 150 = _____
	A.101.5
	B.102
	C.100
	D.99.25
Answer:	C.100
Reference ID:(18215)	वेडिंगाकडीं घेउन वळणे नागिण घांवे जणुं, रोषाने वाफा टाकित धापापरि ही गाडी धडधडते. ह्या काव्यपंक्तिमधील अलंकार कोणता?
	A.अर्थान्तरन्यास
	B.उत्प्रेक्षा
	C.भ्रांतिमान
	D.व्यतिरेक
Answer:	B.उत्प्रेक्षा
Reference ID:(16545)	जर @ आहे 'भागाकार' आणि \$ आहे 'गुणाकार', तर खालीलपैकी सर्वात मोठा पर्याय कोणता आहे?
	A.39@5
	B.4.25\$2.5
	C.31@4
	D.2.75\$2.5

Answer: B.4.25\$2.5

Reference ID:(19993) "ख्याती" या शब्दाचा समानार्थी शब्द ओळखा.

A.झोपडी

B.गर्व

C.दंड

D.कीर्ती

Answer: D.कीर्ती

Reference ID:(33181) रेडक्लिफ रेषा कोणत्या दोन देशांतील सीमा आहे?

A.भारत आणि पाकिस्तान

B.भारत आणि चीन

C.भारत आणि म्यानमार

D.भारत आणि अफगाणिस्तान

Answer: A.भारत आणि पाकिस्तान

Reference ID:(22577) खालीलपैकी सर्वात लहान पर्याय कोणता आहे ?

A.25 + 22 - 15 + 42 + 12 - 203 + 45 + 27

B.28 + 27 - 25 + 32 - 21 + 204 - 44 - 37

C.29 + 22 - 215 + 42 + 31 + 203 + 45 + 27

D.38 + 207 - 25 - 32 - 21 + 204 - 44 - 37

Answer: A.25 + 22 - 15 + 42 + 12 - 203 + 45 + 27

Reference ID:(29122) Pick the right meaning of the highlighted word in the sentence:
Corporal punishment should be kept within limits

A.A form of physical punishment

B.A form of mental torture

C.A punishment given out by someone from the army

D.A ghostly form of punishment

Answer: A.A form of physical punishment

Reference ID:(26281) खालीलपैकी भारतातील कोणत्या दलदली क्षेत्राचा 'मॉट्रिक्स नोंदी' या रेकॉर्ड मध्ये समावेश करण्यात आलेला आहे?

१. सांभार सरोवर राजस्थान
२. केवलादेव राष्ट्रीय उद्यान, राजस्थान
३. चंद्रताल सरोवर, हिमाचल प्रदेश
४. लोकटक सरोवर, मणिपूर

A.१ आणि २

B.३ आणि ४

C.२ आणि ४

D.१ आणि ४

Answer: C.२ आणि ४

Reference ID:(28133) Find the meaning of the word:: Compel

A.Urge

B.Discourage

C.Block

D.Halt

Answer: A.Urge

Reference ID:(30392) Pick the correct meaning of the highlighted idiom: In my neighborhood there is a decent house which is **let out**.

A.To study one's surroundings

B.To allow to go free

C.To prove of worth

D.To lease on hire

Answer: D.To lease on hire

Reference ID:(33186) महाराष्ट्रातील पुढीलपैकी कोणता जिल्हा केळी उत्पादनात एक क्रमांकावर आहे?

A.औरंगाबाद

B.बुलढाणा

C.नाशिक

D.जळगाव

Answer: D.जळगाव

Reference ID:(31931) जगात दोन-तृतियांश संख्या असलेल्या एक शिंग असलेले गेंडे भारताच्या कोणत्या राष्ट्रीय उद्यानात/ अभयारण्यात आहेत?

A.काझीरंगा राष्ट्रीय उद्यान

B.गिर राष्ट्रीय उद्यान

C.हजारीबाग वन्यजीव अभयारण्य

D.वेदांतंगल अभयारण्य

Answer:

A.काझीरंगा राष्ट्रीय उद्यान

Reference ID:(24657)

प्रश्नातील वाक्यात रिकामी जागा भरण्यास सर्वात योग्य शब्द निवडा.
साखरेचे खाणार त्याला देव देणार अशी एक म्हण आहे.

A.प्रचलित

B.संचालित

C.संघटित

D.प्रफुल्लित

Answer:

A.प्रचलित

Reference ID:(29857)

Pick the Synonym for the word:
eminent

A.Famous

B.Minor

C.Average

D.Unsung

Answer:

A.Famous

Reference ID:(28641)	Pick the right idiom which fits into the sentence: When Vasant lost all his money, his relatives and friends _____
	A.Hung him in balance
	B.Caught him red handed
	C.Let the grass grow under his feet
	D.Gave him the cold shoulder
Answer:	D.Gave him the cold shoulder
Reference ID:(22803)	जर \$ आहे '+' आणि @ आहे '-', तर खालीलपैकी सर्वात मोठा पर्याय कोणता आहे ?
	A.52 \$ 55 \$ 32 @ 75 @ 105 \$ 83 @ 42 @ 57
	B.48 \$ 17 \$ 52 @ 35 \$ 156 @ 104 @ 44 @ 71
	C.19 @ 15 \$ 12 @ 45 @ 36 \$ 103 @ 42 @ 107
	D.44 @ 67 \$ 52 \$ 35 \$ 56 @ 104 \$ 44 \$ 13
Answer:	D.44 @ 67 \$ 52 \$ 35 \$ 56 @ 104 \$ 44 \$ 13
Reference ID:(30619)	Pick the correct meaning of the highlighted idiom: My difference with him has now come to a head .
	A.Come to some sort of conclusion
	B.Come to an end
	C.Be in a state where it can be resolved
	D.To reach a point of crisis
Answer:	D.To reach a point of crisis

Reference ID:(21714)	जर A = 1, B = 2, C = 3, Z = 26, तर खालील पैकी कोणते पर्याय बरोबर आहे?
	A. {B + A + L + L} = {L + I + K + E}
	B. {B + A + L + L} < {L + I + K + E}
	C. {B + A + L + L} > {L + I + K + E}
	D. {R + E + D} = {H + A + V + E}
Answer:	B. {B + A + L + L} < {L + I + K + E}
Reference ID:(30111)	Find the meaning of the word:: Invincible
	A. Stoppable
	B. Vulnerable
	C. Transparent
	D. Indomitable
Answer:	D. Indomitable
Reference ID:(24684)	प्रश्नातील वाक्यात रिकामी जागा भरण्यास सर्वात योग्य शब्द निवडा. आपल्या आजूबाजूला नेहमीच मनकरणाऱ्या घटना घडत असतात.
	A. विदीर्ण
	B. गजकर्ण
	C. अनुत्तीर्ण
	D. अपवर्ण
Answer:	A. विदीर्ण

Reference ID:(30900)	<p>You've been given a simple sentence. Select the appropriate complex sentence from the options below.</p> <p>She loves her country's culture. She loves her country's weather.</p>
	<p>A.She loves her country's culture and she loves her country's weather</p> <p>B.She loves her country's weather as much as its culture</p> <p>C.The weather and culture of the country Is both loved by her</p> <p>D.The love she feels for her country's weather and culture is well known</p>
Answer:	B.She loves her country's weather as much as its culture
Reference ID:(28106)	<p>Find the meaning of the highlighted word in the sentence: Her chatter was starting to annoy him.</p>
	<p>A.Appease</p> <p>B.Charm</p> <p>C.Irritate</p> <p>D.Cheer</p>
Answer:	C.Irritate
Reference ID:(26286)	<p>गोगलगाय हे _____ चे उदाहरण आहेत.</p>
	<p>A.अपृष्ठवंशीय प्राणी</p> <p>B.पृष्ठवंशीय प्राणी</p> <p>C.सस्तन प्राणी</p> <p>D.मासे</p>

Answer: A.अपृष्ठवंशीय प्राणी

Reference ID:(34916) जर $25 \times 13 = 105625$, $24 \times 3 = 5184$, आणि $15 \times 3 = 2025$, तर $4 \times 9 = ?$

A.1120

B.1296

C.730

D.340

Answer: B.1296

Reference ID:(31928) सर्वोच्च न्यायालय ज्या कायद्यांवर कार्य करते ते कायदे भारतीय संविधानाने कोणत्या देशाकडून घेतले?

A.कॅनडा

B.युनायटेड किंगडम

C.ऑस्ट्रेलिया

D.जपान

Answer: D.जपान

Reference ID:(26290) महाराष्ट्रातील कोयना वन्यजीव अभयारण्य खालीलपैकी कोणत्या जिल्ह्यात आहे ?

A.नाशिक

B.सातारा

C.रायगड

D.भंडारा

Answer: B.सातारा

Reference ID:(27625) Identify the figure of speech in the following sentence: I will ask the lawyer to give his unbiased opinion on the case.

A.Oxymoron

B.Metaphor

C.Euphemism

D.Apostrophe

Answer: A.Oxymoron

Reference ID:(24938) पुढील शब्दसमूहासाठी योग्य शब्द निवडा.
अपायकारक सहानुभूती

A.कळवळणे

B.वानरकिवण

C.बेवारसी

D.अनुकंपा

Answer: B.वानरकिवण

Reference ID:(19485) प्रश्नात दिलेल्या वाक्प्रचाराचा योग्य वापर असलेले वाक्य पर्यायांमधून ओळखा. डोळ्यांत तेल घालून जपणे

A.माता जिजाबाई लहानग्या शिवरायांना डोळ्यांत तेल घालून जपत असे.

B.सामंतकाकूंच्या बागेतील आंबे मुलांनी डोळ्यांत तेल घालून पळवले.

C.आजीने विष्णूनामाचा डोळ्यांत तेल घालून जप केला.

D.रामरावांचे सामान डोळ्यांत तेल घालून जपल्यामुळे चोरीला गेले.

Answer: A.माता जिजाबाई लहानग्या शिवरायांना डोळ्यांत तेल घालून जपत असे.

Reference ID:(18977) खालील शब्दाचा समास / समास प्रकार ओळखा.
हरिहर

A.इतरेतर द्वंद्व

B.बहुव्रीहि

C.कर्मधारय

D.तत्पुरुष

Answer: A.इतरेतर द्वंद्व

Reference ID:(18469) खालीलपैकी कोणते वाक्य केवळ वाक्य नाही.

A.शारदाच्या चांदण्यात गुलमोहर मोहक दिसतो.

B.आता तुम्ही बाहेर जा.

C.तुम्ही पाहिलेले मंदिर फार प्राचीन आहे.

D.डॉक्टर वेळेवर आले म्हणून गडी वाचला.

Answer: D.डॉक्टर वेळेवर आले म्हणून गडी वाचला.

Reference ID:(18242) खालीलपैकी भुजंगप्रयात वृत्त असलेले वाक्य ओळखा.

A.नको फार हव्यास गे भुषणाचा, धरी लोभ चित्ती सदा सद्गुणांचा

B.घन तमी शुक्र बघ राज्य करी, रे खिन्न मना बघ जरा तरी ।

C.माझा मराठीची बोलू कौतुके । परि अमृतातेही पैजा जिंके ।

D.जन्माचे ते मूळ पाहिले शोधून । दुःखासी कारण जन्म घ्यावा.

Answer: A.नको फार हव्यास गे भुषणाचा, धरी लोभ चित्ती सदा सद्गुणांचा

Reference ID:(33187) "गुगामल राष्ट्रीय उद्यान" कोठे स्थित आहे?

A.ओडिसा

B.पश्चिम बंगाल

C.महाराष्ट्र

D.अंदमान आणि निकोबार

Answer: C.महाराष्ट्र

Reference ID:(31929) लोकसभेचे अध्यक्ष अधिकारी कोण आहेत?

A.सभापती व उपसभापती

B.राष्ट्रपती

C.पंतप्रधान

D.मंत्री परिषद

Answer: A.सभापती व उपसभापती

Reference ID:(20725)

जर IT = 92, B O Y = 267, BIG = 297, तर F L E W = ___?

A.6355

B.631414

C.634141

D.61255

Answer:

A.6355

Reference ID:(29630)

Pick the Synonym for the word:
obstinate

A.Stubborn

B.Untrue

C.Puzzled

D.Attached

Answer:

A.Stubborn

Reference ID:(33180)

पुढीलपैकी कोणते अन्न धान्य पीक भारतातील पीक क्षेत्राचा सर्वात मोठा भाग व्यापते?

A.जव आणि मका

B.तांदूळ

C.ज्वारी आणि बाजरी

D.गहू

Answer:

B.तांदूळ

Reference ID:(24176)

खालीलपैकी व्याकरणाच्या दृष्टीने शुद्ध शब्द-लेखन असलेला शब्द ओळखा.

A.भाषीक

B.भाषिक

C.भाशीक

D.भाशिक

Answer:

B.भाषिक

Reference ID:(22831)

जर \$ आहे '+' आणि @ आहे '-', तर खालीलपैकी सर्वात लहान पर्याय कोणता आहे ?

A.22 @ 11 \$ 72 @ 45 \$ 65 \$ 13 @ 42 @ 57

B.118 @ 17 \$ 52 @ 35 \$ 156 @ 104 \$ 44 \$ 37

C.79 @ 45 @ 162 @ 45 @ 36 \$ 103 @ 42 @ 17

D.38 \$ 107 \$ 52 \$ 35 \$ 56 @ 104 @ 144 \$ 7

Answer:

C.79 @ 45 @ 162 @ 45 @ 36 \$ 103 @ 42 @ 17

Reference ID:(30646)

Convert the following active to passive voice: By this time tomorrow we will have signed the deal

A.Signing of the deal will be done by this time tomorrow

B.By this time tomorrow the deal will be signed

C.By this time tomorrow the deal is being signed

D.By this time tomorrow the deal will have been signed

Answer:

D.By this time tomorrow the deal will have been signed



महाराष्ट्रातील नकाशात बाणने दर्शविलेला जिल्हा खालीलपैकी कोणता आहे?

A. नाशिक

B. ठाणे

C. वाशिम

D. पालघर

Answer:

D. पालघर

खालीलपैकी विरुद्धार्थी शब्दाची बरोबर जोडी ओळखा.

A. चंद्र x इंद्र

B. इलाज x नाइलाज

C. चांदणे x कौमुदी

D. जमीन x भूमी

Answer: B.इलाज x नाइलाज

Reference ID:(16872) $10/40 + 1.5 - 5/25 = ?$

A.1.55

B.2.1

C.1.425

D.1.175

Answer: A.1.55

Reference ID:(33179) 'विजय स्तंभ' कोठे स्थित आहे?

A.जयपूर

B.आग्रा

C.दिल्ली

D.चित्तोडगढ

Answer: D.चित्तोडगढ

Reference ID:(27879) Pick the correct meaning of the highlighted idiom or phrase from the following:
Her house is situated a km from here, **as the crow flies**

A.In a straight line

B.Go in the direction of the flying crow

C.At a very long distance

D.In a maze and in a jumbled up way

Answer:	A.In a straight line
Reference ID:(27398)	Identify the figure of speech in the following sentence: Oh stars, how you twinkle in the sky.
	A.Apostrophe
	B.Euphemism
	C.Personification
	D.Simile
Answer:	A.Apostrophe
Reference ID:(21233)	जर SUPERDRY हा शब्द EPUSYRDR असेल आणि COMPUTER हा शब्द PMOCRETU असेल, तर GUZZLING हा शब्द _____ असेल.
	A.ZZUGGNIL
	B.GUZZGNIL
	C.LINGZZUG
	D.ZZUGILGN
Answer:	A.ZZUGGNIL
Reference ID:(18723)	उद्या गुरु चरित्राच्या सप्ताहाची समाप्ती होईल. या वाक्याचा काळ कोणता?
	A.साधा भविष्यकाळ
	B.अपूर्ण भविष्यकाळ
	C.पूर्ण भविष्यकाळ
	D.रिती भविष्यकाळ

Answer: A.साधा भविष्यकाळ

Reference ID:(29603) Pick the right meaning of the highlighted word in the sentence:
The teachers thought his excuses were more of a **parable**

A.A fairy tale or story

B.Reality about something

C.Factual information about something

D.To be calm about something

Answer: A.A fairy tale or story

Reference ID:(21487) जर A = 1, B = 2,M = 13; आणि N = 13, O = 12, Z = 1, तर खालील पैकी कोणते पर्याय बरोबर आहे?

A.{J + A + C + K} > {B + A + L + L}

B.{J + A + C + K} = {B + A + L + L}

C.{J + A + C + K} < {B + A + L + L}

D.{J + A + C + K} = {M + A + C + E}

Answer: C.{J + A + C + K} < {B + A + L + L}

Reference ID:(33184) 'राष्ट्रीय पोषण संस्था (National Institute of Nutrition)' _____ येथे स्थित आहे.

A.बेंगळूरु

B.नाशिक

C.गांधीनगर

D.हैद्राबाद

Answer: D.हैद्राबाद

Reference ID:(33178) कोणत्या शहरात 'भारतीय खाणी विद्यापीठ (Indian School of Mines)' स्थित आहे?

A.आसनसोल

B.टाटानगर

C.धनबाद

D.जमशेदपूर

Answer: C.धनबाद

Reference ID:(25419) इत्यादी या शब्दाचा खालीलपैकी योग्य संधी विग्रह ओळखा.

A.इ + आदी

B.इति + यादी

C.इति + आदी

D.इति + अदी

Answer: C.इति + आदी

Reference ID:(16518)	सहा जण A , B , C , D , E आणि F हे दोन रांगामध्ये एकमेकांकडे तोंड करून बसले आहेत. दोन्ही रांगामध्ये प्रत्येकी तीन जण आहेत. E हा कोणत्याही रांगेच्या शेवटी बसलेला नाही. D हा F च्या डावीकडे दुसऱ्या क्रमांकावर आहे. E चा शेजारी बसलेला A हा D च्या कर्णाभिमुख आहे. C हा F च्या शेजारी आहे. E आणि C ची जागेची अदलाबदल केल्यानंतर नव्या ठिकाणी E चा शेजारी कोण असतील?
	A.A आणि B
	B.F आणि B
	C.A आणि F
	D.वरीलपैकी काहीही नाही
Answer:	D.वरीलपैकी काहीही नाही
Reference ID:(20471)	X चे उत्तर दिशेला तोंड आहे.तो 90 अंश उजवीकडे वळतो. मग तो 45 अंश उजवीकडे वळतो. मग तो 180 अंश वळतो. मग तो 90 अंश उजवीकडे वळतो. शेवटी तो डावीकडे 45 अंश वळतो. आता तो कोणत्या दिशेला तोंड करून उभा आहे?
	A.उत्तर पश्चिम
	B.दक्षिण
	C.दक्षिण पूर्व
	D.उत्तर
Answer:	D.उत्तर
Reference ID:(31926)	पंजाबचा राज्य पक्षी कोणता आहे?
	A.कबूतर
	B.बाज
	C.कोकिळा

D.मोर

Answer: B.बाज

Reference ID:(23695) 'उथळ' या शब्दाचा विरुद्धार्थी शब्द ओळखा.

A.खोल

B.सपाट

C.साधा

D.खिन्न

Answer: A.खोल

Reference ID:(33183) 'वेदांकडे परत जा' अशी घोषणा कोणी दिली?

A.स्वामी दयानंद सरस्वती

B.ज्योतिबा फुले

C.विवेकानंद

D.रामकृष्ण परमहंस

Answer: A.स्वामी दयानंद सरस्वती

Reference ID:(17861) 42 च्या $\frac{1}{12}$ + 44 च्या 25% + $0.30 \times 120 = \underline{\hspace{2cm}}$

A.52

B.52.5

C.49.75

D.50.5

Answer: D.50.5

Reference ID:(17888) X हा Y हून 175% नी मोठा आहे. मग Y हा X हून _____ % लहान आहे.

A.125

B.25

C.66.66

D.63.63

Answer: D.63.63

Reference ID:(17353) $11.5 + 5.5 + 12 + 6.25 - (5.25 - 8.75 + 2.25) = \underline{\hspace{2cm}}$

A.35.35

B.36.5

C.34.85

D.35.75

Answer: B.36.5

Reference ID:(26288)	डी.डी.टी (DDT) खालीलपैकी कोणत्या वर्गाशी संबंधित आहे?
	A.अपघटनीय प्रदूषक
	B.मंद अपघटनीय प्रदूषक
	C.अनपघटनीय प्रदूषक
	D.सेंट्रीय कीटकनाशक
Answer:	B.मंद अपघटनीय प्रदूषक
Reference ID:(24911)	पुढील शब्दसमूहासाठी योग्य शब्द निवडा. चांगला धष्टपुष्ट पण बुद्धीने मंद असा मनुष्य
	A.शुंभ
	B.सूंभ
	C.गोटा
	D.उपटसुंभ
Answer:	A.शुंभ
Reference ID:(23949)	खालीलपैकी विरुद्धार्थी शब्दाची चुकीची जोडी ओळखा.
	A.सूर्योदय x सूर्यास्त
	B.सुसंगत x विसंगत
	C.वार x असुर
	D.सुपीक x नापीक
Answer:	C.वार x असुर

Reference ID:(31933)	महाराष्ट्रात उल्कापातामुळे तयार झालेले खालीलपैकी कोणते सरोवर आहे?
	A.लोणार सरोवर
	B.मालगुजारी सरोवर
	C.नारायण सरोवर
	D.पुष्कर सरोवर
Answer:	A.लोणार सरोवर
Reference ID:(20217)	X चे पूर्व दिशेला तोंड आहे. तो 45 अंश उजवीकडे वळतो. मग तो 90 अंश उजवीकडे वळतो. मग तो 180 अंश वळतो. मग तो 45 अंश उजवीकडे वळतो. शेवटी तो डावीकडे 90 अंश वळतो. आता तो कोणत्या दिशेला तोंड करून उभा आहे?
	A.पूर्व
	B.पश्चिम
	C.उत्तर
	D.दक्षिण
Answer:	C.उत्तर
Reference ID:(31930)	भारतीय संविधानाने कोणत्या देशाकडून समवर्ती सूची घेतली आहे.
	A.कॅनडा
	B.युनायटेड किंगडम
	C.ऑस्ट्रेलिया
	D.जर्मनी

Answer:	C.ऑस्ट्रेलिया
Reference ID:(34943)	जर 19 (216)12; 25 (216) 9; तर 8 (?)18. "?" च्या मूल्य शोधा
	A.126
	B.243
	C.154
	D.231
Answer:	A.126
Reference ID:(18750)	पुढीलपैकी साधा भूतकाळ असलेले वाक्य कोणते?
	A.शौर्य शाळेत गेला.
	B.त्याने अभ्यास केला.
	C.तिने जेवण केले.
	D.वरीलपैकी सर्व
Answer:	D.वरीलपैकी सर्व
Reference ID:(25192)	"अन्योक्ती" या शब्दाचा खालीलपैकी योग्य संधी विग्रह ओळखा.
	A.अन्यो + उक्ती
	B.अन्य + उक्ती

C.अन्य + क्ती

D.अन्य + ऊक्ती

Answer:

B.अन्य + उक्ती

Reference ID:(20952)

मालिकेतील रिकामी जागा भरा: A, B, E, C, __, D, O, F, U

A.J

B.F

C.I

D.K

Answer:

C.I

Reference ID:(27371)

Identify the figure of speech in the following sentence: The moon is a white balloon.

A.Hyperbole

B.Simile

C.Metaphor

D.Apostrophe

Answer:

C.Metaphor

Reference ID:(25165)

खालील वाक्यातील रिकाम्या जागी येणाऱ्या योग्य समूहदर्शक शब्दाचा पर्याय क्रमांक निवडा.
निरभ्र आकाशात रात्रीच्यावेळी तारकांचा पाहण्यात एक वेगळी मजा असते.

A.घोळका

B.कळप

C.थवा

D.पुंज

Answer: D.पुंज

Reference ID:(26287) काश्मिरी हंगुल (लाल हरीण) फक्त _____ येथे आढळतो.

A.गिर राष्ट्रीय उद्यान

B.दाचीगम वन्यजीव अभयारण्य

C.जिम कॉर्बेट राष्ट्रीय उद्यान

D.रणथंभोर राष्ट्रीय उद्यान

Answer: B.दाचीगम वन्यजीव अभयारण्य

Reference ID:(26284) कडुलिंबाचे शास्त्रीय नाव _____ आहे.

A.अँझॅडिराक्टा इंदुस

B.अँझॅडिराक्टा इंडिका

C.अँझॅडिराक्टा इंडिगो

D.वरीलपैकी काहीच नाही

Answer: B.अँझॅडिराक्टा इंडिका

Reference ID:(22249) खालीलपैकी सर्वात मोठा पर्याय कोणता आहे ?

A.152 + 65 + 32 - 74 - 105 + 93 - 42 - 37

B.48 - 17 - 52 - 35 + 156 + 104 - 34 - 74

C.19 + 15 + 42 - 45 - 36 + 103 - 42 - 507

D.144 + 67 + 52 - 35 + 56 - 104 + 44 + 13

Answer: D.144 + 67 + 52 - 35 + 56 - 104 + 44 + 13

Reference ID:(21206) मालिकेतील रिकामी जागा भरा: 5, 12, 7, 9, 9, __, 11, 3, 13

A.6

B.7

C.8

D.5

Answer: A.6

Reference ID:(19231) हात दाखवणे. या वाक्प्रचाराचा खालीलपैकी कोणता अर्थ योग्य आहे?

A.ज्योतिषावर विश्वास ठेवणे

B.विजय वंदना स्वीकारणे

C.दिशा दाखवणे

D.चोप देणे

Answer: D.चोप देणे

Reference ID:(28360) Find the word opposite in meaning to the word: **Drudgery**

A.Fun

B.Slavery

C.Menial

D.Hard work

Answer: A.Fun

Reference ID:(24403) खालीलपैकी व्याकरणाच्या दृष्टीने अशुद्ध शब्द-लेखन असलेला शब्द ओळखा.

A.आकाशवाणी

B.एकलकोंडा

C.बिनदिक्कत

D.उल्लेखनिय

Answer: D.उल्लेखनिय

Reference ID:(28895) Fill in the blanks with simple past or past perfect tense of the verbs: When they _____, they _____ over their drawings.

A.Had finished..... handed

B.Were finishing..... were handing

C.Finished..... had handed

D.Finish..... hand

Answer: A.Had finished..... handed

Reference ID:(26283) 'डोडो' हा उडू न शकणारा पक्षी कोठे आढळत होता?

A.ईशान्य भारत

B.मॉरिशस

C.ऑस्ट्रेलिया

D.रशिया

Answer:

B.मॉरिशस

Reference ID:(30365)

Find the word opposite in meaning to the word: **Suspect**

A.Clear

B.Disputable

C.Dodgy

D.Debatable

Answer:

A.Clear

Reference ID:(33182)

भारतातील पुढील राज्यांपैकी कोणते राज्य केशरचे सर्वात मोठे उत्पादक आहे?

A.आसाम

B.जम्मू आणि काश्मीर

C.हिमाचल प्रदेश

D.मेघालय

Answer:

B.जम्मू आणि काश्मीर

Reference ID:(29376)

Pick the right meaning of the highlighted word in the sentence:
More often, **apparel** is grouped by color.

A.A dress or clothing

B.A funny costume used at an event

C.A veil used to cover the face

D.People from specific states or countries.

Answer: A.A dress or clothing

Reference ID:(29149) Pick the right meaning of the highlighted word in the sentence:
Do not **jeer** at the misfortune of others.

A.To applause someone

B.To cheer someone

C.To ridicule or sneer at someone

D.To be disappointed with someone or something

Answer: C.To ridicule or sneer at someone

Reference ID:(19458) खालीलपैकी वाक्प्रचार आणि त्याचा अर्थाची अयोग्य जोडी ओळखा.

A.जीव ओतणे - मन लावून काम करणे

B.जीव मुठीत घेणे - कमीपणा वाटणे

C.तोंडाला तोंड देणे - उद्धटपणे बोलणे

D.डोळे दिपणे - आश्चर्य वाटणे

Answer: B.जीव मुठीत घेणे - कमीपणा वाटणे

Reference ID:(27852)	Pick the correct meaning of the highlighted idiom or phrase from the following: It was wrong on his part to fall out with his parents and leave home
	A.To quarrel
	B.To look for better accommodation
	C.To make use of someone or something
	D.To withdraw
Answer:	A.To quarrel
Reference ID:(27017)	Select the correct passive voice form of the sentence: The explorers have obtained the necessary supplies.
	A.The explorers obtained the supplies which are necessary
	B.The necessary supplies is being obtained by the explorers
	C.The necessary supplies have been obtained by the explorers
	D.Supplies that are essential are being obtained by the explorers
Answer:	C.The necessary supplies have been obtained by the explorers
Reference ID:(20498)	जर JH = 2, NB = 12, तर KL =
	A.-1
	B.0
	C.1
	D.2
Answer:	A.-1

Reference ID:(23668)

खालीलपैकी समानार्थी शब्दाची बरोबर जोडी ओळखा

A.चाणाक्ष - हुशार

B.नैसर्गिक - कृत्रिम

C.हानी - लाभ

D.दाट - विरळ

Answer:

A.चाणाक्ष - हुशार

Reference ID:(31927)

देवप्रयाग येथे भागीरथी नदी कोणत्या नदीशी जुळते?

A.सतलज नदी

B.मंदाकिनी नदी

C.अलकनंदा नदी

D.गंगा नदी

Answer:

C.अलकनंदा नदी

Reference ID:(35170)

खाली दिलेल्या पत्त्यापैकी 3 पत्ते समान आहेत आणि 1 भिन्न आहे. कोणता पत्ता भिन्न ते ओळखा?

A.C block 409, Trident Galaxy apartment,
Bhubaneswar
Kalinga nagar
PH 0018003005

B.C block 409, Trident Galaxy apartment,
Bhubaneswar
Kailnga nagar
PH 0018003005

C.C block 409, Trident Galaxy apartment,
Bhubaneswar
Kalinga nagar
PH 0018003005

D.C block 409, Trident Galaxy apartment,
Bhubaneswar
Kalinga nagar
PH 0018003005

Answer: B.C block 409, Trident Galaxy apartment,
Bhubaneswar
Kailnga nagar
PH 0018003005

Reference ID:(28868) Convert the simple sentence to a complex sentence: He seems to be a good boy

- A.He's seemingly a good boy
- B.He is supposed to be a good boy
- C.A good boy is what he's supposed to be
- D.It seems that he is a good boy

Answer: D.It seems that he is a good boy

Reference ID:(31925) भारतात मिशमी पर्वत रांगा कुठे आहेत?

- A.अरुणाचल प्रदेश
- B.महाराष्ट्र
- C.उत्तराखंड
- D.आंध्र प्रदेश

Answer: A.अरुणाचल प्रदेश

Reference ID:(19966) पुढील विधानाला जी म्हण योग्य असेल असा पर्याय ओळखा:
गोंत्या त्याच्यापेक्षा लहान मुलांवर आरडाओरडा करायचा पण त्याच्यापेक्षा जास्त ताकदवर मुलांसमोर त्याची स्थिती अशी व्हायची.

A.अडली गाय फटके खाय

B.काशीत मल्हारी महात्मा

C.मुग गिळून गप्प बसणे

D.गाड्याबरोबर नळ्याची यात्रा

Answer:

C.मुग गिळून गप्प बसणे

Reference ID:(19204)

खालील शब्दाचा समास / समास प्रकार ओळखा.
चोरभय

A.कर्मधारय

B.द्वंद्व

C.पंचमी तत्पुरुष

D.अव्ययीभाव

Answer:

C.पंचमी तत्पुरुष

Reference ID:(19712)

पुढील म्हण पूर्ण करण्यासाठी योग्य पर्याय निवडा. तेरड्याचा रंग ___ दिवस.

A.एक

B.दोन

C.तीन

D.चार

Answer:

C.तीन

Question Paper Title : FG_19

Date of Exam : 21-06-2019 10:00 AM

Reference ID:(17356) $4.50 + 3.25 + 4.35 - (4.50 + 3.25 - 5.35) = \underline{\hspace{2cm}}$

A.8.05

B.9.7

C.9.55

D.7.45

Answer: B.9.7

Reference ID:(27882) Pick the correct meaning of the highlighted idiom or phrase from the following:
She stood her grounds despite being faced by adversity.

A.To maintain one's position

B.To be stubborn

C.To act in a foolish manner

D.To be safe against any adversity

Answer: A.To maintain one's position

Reference ID:(32154) भारतीय संविधानाने कोणत्या देशाकडून आपत्कालीन काळात मुलभूत अधिकारांचे निलंबन घेतले आहे.

A.कॅनडा

B.युनायटेड किंगडम

C.ऑस्ट्रेलिया

D.जर्मनी

Answer:

D.जर्मनी

Reference ID:(21463)

जर FARKLEBERRY हा शब्द IDUNOHEHUUB असेल, तर PINEAPPLE हा शब्द _____ असेल.

A.SLQHDOHSS

B.SLQHDSSOH

C.SLHQDSSOH

D.SKHQDSSOH

Answer:

B.SLQHDSSOH

Reference ID:(21236)

जर ARTICHOKE हा शब्द TRAHCIOKE असेल, तर BUZZWORDS हा शब्द _____ असेल.

A.ZZUBWORDS

B.ZUBOWZRDS

C.BUWORDSZZ

D.WORDSZZUB

Answer:

B.ZUBOWZRDS

Reference ID:(27628)	Pick the correct meaning of the highlighted idiom or phrase from the following: I missed my office today because I have a bad cold and I've been feeling under the weather .
	A.To not feel too well
	B.To be worried about climate change
	C.To feel dull and bored to do something
	D.To not enjoy work and make an excuse
Answer:	A.To not feel too well
Reference ID:(19234)	“साखर पेरणे” या वाक्प्रचाराचा खालीलपैकी कोणता अर्थ योग्य आहे?
	A.खाद्यपदार्थावर साखर पेरून त्याची मिठाई बनवणे
	B.खाद्यपदार्थ साखरेच्या पाकात तळणे
	C.गोड गोड बोलणे
	D.उसापासून साखर बनत असल्याने उसाचे पिक पिकवणे
Answer:	C.गोड गोड बोलणे
Reference ID:(27601)	Identify the figure of speech in the following sentence: Oh Coffee, I love the kick you give me.
	A.Simile
	B.Apostrophe
	C.Metaphor
	D.Personification
Answer:	B.Apostrophe

Reference ID:(24914)

पुढील शब्दसमूहासाठी योग्य शब्द निवडा.
दक्षिण समुद्राजवळच्या सेतुपासुन हिमालयापर्यंत

A.सेतू-हिमालय मंथन

B.हिम-परिक्रमा

C.आसेतुहिमाचल

D.द्रविड-हिमान्चल

Answer:

C.आसेतुहिमाचल

Reference ID:(17610)

$2.25 + 5.25 + 3.5 - (4.5 - 2.75 - 2.25) = \underline{\hspace{2cm}}$

A.11.5

B.12.65

C.10.75

D.10.15

Answer:

A.11.5

Reference ID:(22552)

खालीलपैकी सर्वात मोठा पर्याय कोणता आहे ?

A. $55 + 22 - 75 + 42 - 12 - 23 + 45 + 27$

B. $228 + 27 - 25 + 32 - 221 + 204 - 44 - 37$

C. $79 + 42 + 215 + 42 + 31 - 203 + 45 + 27$

D. $38 - 207 - 25 - 32 - 21 + 204 + 244 - 7$

Answer:

C.79 + 42 + 215 + 42 + 31 - 203 + 45 + 27

Reference ID:(18472)

खालीलपैकी केवल वाक्य ओळखा.

A.मी रोज पहाटे उठतो व एक तासभर शाळेचा अभ्यास करतो.

B.जे चकाकते ते सोने नसते.

C.आम्ही जातो आमुच्या गावा.

D.सायंकाळी मी क्रीडांगणावर खेळतो किंवा मित्रांबरोबर फिरावयास जातो.

Answer:

C.आम्ही जातो आमुच्या गावा.

Reference ID:(19207)

खालील शब्दाचा समास / समास प्रकार ओळखा.
देशसेवा

A.बहुव्रीहि

B.षष्ठी तत्पुरुष

C.द्वंद्व

D.द्विगु

Answer:

B.षष्ठी तत्पुरुष

Reference ID:(33693)

कोणत्या कायद्याने ईस्ट इंडिया कंपनीच्या व्यवहारांचे नियमन करणे ब्रिटिश शासनाला प्रदान केले?

A.1858 चा चार्टर कायदा

B.1833 चा चार्टर कायदा

C.1773 चा नियामक कायदा

D.1784 चा पिट्स इंडिया कायदा

Answer:	C.1773 चा नियामक कायदा
Reference ID:(24179)	खालीलपैकी व्याकरणाच्या दृष्टीने शुद्ध शब्द-लेखन असलेला शब्द ओळखा.
	A.प्रस्थावना
	B.परसतावना
	C.परस्तावना
	D.प्रस्तावना
Answer:	D.प्रस्तावना
Reference ID:(33408)	सुप्रसिद्ध 'रॉक गार्डन' कोणत्या शहरात स्थित आहे?
	A.जयपूर
	B.चंदीगड
	C.शिमला
	D.लखनौ
Answer:	B.चंदीगड
Reference ID:(27020)	Select the correct passive voice form of the sentence: We finished the test yesterday.
	A.Finishing of the test was done by us yesterday
	B.The test was finished by us yesterday
	C.Yesterday we finished the test
	D.The test is being finished by us yesterday

Answer:	B.The test was finished by us yesterday
Reference ID:(28898)	Fill in the blanks with simple past or past perfect tense of the verbs: I _____ the captain that I could not play in the match as I _____ my leg in an accident.
	A.Told..... had hurt
	B.Told..... have hurt
	C.Am telling..... have hurt
	D.Had said..... hurt
Answer:	A.Told..... had hurt
Reference ID:(18953)	खालीलपैकी कोणत्या वाक्यात पूर्ण भविष्यकाळ आहे?
	A.तो जेवण करीत असेल.
	B.तुषार पुण्याला जात असेल.
	C.तो अमेरिकेला गेला असेल.
	D.ताई काम करत असेल.
Answer:	C.तो अमेरिकेला गेला असेल.
Reference ID:(17864)	39 च्या $\frac{1}{6}$ + 70 च्या 40% च्या 200% + $0.40 \times 140 =$ _____
	A.120
	B.120.5
	C.117.75
	D.118.5

Answer:	D.118.5
Reference ID:(18726)	खालीलपैकी कोणत्या वाक्यामध्ये पूर्ण भूतकाळाचा वापर झाला आहे.
	A.त्याने पुस्तक वाचले.
	B.तो गोष्ट लिहितो.
	C.त्याने पुस्तक वाचले होते.
	D.त्याने कथा लिहिली.
Answer:	C.त्याने पुस्तक वाचले होते.
Reference ID:(31139)	"बसपा नदी" ही _____ ची उपनदी आहे.
	A.व्यास
	B.सतलज
	C.गोदावरी
	D.कावेरी
Answer:	B.सतलज
Reference ID:(33416)	दिल्ली कॉमनवेल्थ गेम्स 2010 मध्ये अधिकृत मस्कॉटचे (official mascot) नाव काय होते?
	A.ऑरी
	B.अपु
	C.शेरा

D.डुगु

Answer: C.शेरा

Reference ID:(33414) राष्ट्रीय विद्युत प्रशिक्षण संस्थेचे (National Power Training Institute) मुख्यालय _____ मध्ये आहे.

A.पुणे

B.फरीदाबाद

C.भोपाळ

D.लखनौ

Answer: B.फरीदाबाद

Reference ID:(19488) प्रश्नात दिलेल्या वाक्प्रचाराचा योग्य वापर असलेले वाक्य पर्यायांमधून ओळखा. हबकून जाणे

A.पावसात भिजल्यामुळे रवीचे कपडे हबकून गेले.

B.जंगलातून चालताना अचानक वाघाची डरकाळी ऐकून सर्व हबकून गेले.

C.धावण्याच्या शर्यतीत बक्षीस मिळवल्यामुळे रोहन हबकून गेला.

D.मांजरीची गोंडस पिल्ले पाहून मेधा हबकून गेली.

Answer: B.जंगलातून चालताना अचानक वाघाची डरकाळी ऐकून सर्व हबकून गेले.

Reference ID:(27374)

Identify the figure of speech in the following sentence: Vinod's temper was a volcano, ready to explode.

A.Oxymoron

B.Personification

C.Hyperbole

D.Metaphor

Answer:

D.Metaphor

Reference ID:(26518)

महाराष्ट्रातील रेहेकुरी ब्लॅकबक अभयारण्य खालीलपैकी कोणत्या जिल्ह्यात आहे ?

A.नाशिक

B.अहमदनगर

C.रायगड

D.सिंधुदुर्ग

Answer:

B.अहमदनगर

Reference ID:(28363)

Find the meaning of the highlighted word in the sentence: Rain can transform the most pleasant task into **drudgery**.

A.Entertainment

B.Effortless

C.Fun

D.Chore

Answer:

D.Chore

Reference ID:(30141)

Find the meaning of the highlighted word in the sentence: He'll go to school in the **latter** part of the year.

A.Closest

B.Earliest

C.Later

D.Mid part

Answer:

C.Later

Reference ID:(28136)

Find the meaning of the highlighted word from the sentence: We cannot **compel** you too, but we think you should.

A.Dissuade

B.Force

C.Hinder

D.Obstruct

Answer:

B.Force

Reference ID:(30368)

Find the meaning of the word:: **Ominous**

A.Inauspicious

B.Bright

C.Enthusiastic

D.Heartening

Answer:

A.Inauspicious

Reference ID:(28644)

Pick the right idiom which fits into the sentence: The two boys are _____, neither is reliable; just like their boss.

A.Missing the bus

B.On the air

C.High and dry

D.Chip of the same block

Answer:

D.Chip of the same block

Reference ID:(23698)

'साकार' या शब्दाचा विरुद्धार्थी शब्द ओळखा.

A.निरंकार

B.निराकार

C.प्रकट

D.निर्गुण

Answer:

B.निराकार

Reference ID:(22580)

खालीलपैकी सर्वात लहान पर्याय कोणता आहे ?

A.225 - 12 - 35 + 74 + 202 - 93 + 45 + 37

B.48 + 27 + 25 + 32 - 221 - 204 + 34 + 74

C.29 - 22 - 45 + 42 + 31 - 203 + 45 + 207

D.244 - 17 - 25 + 32 - 21 + 204 - 44 - 23

Answer:

B.48 + 27 + 25 + 32 - 221 - 204 + 34 + 74

Reference ID:(18245)

खालील पंक्तिचे वृत्त कोणते ते ओळखा?
पायीं तुमान चढवून सुरेख खाकी,
बांधी रुमाल तसला आपुलेहि डोकीं

A.पादाकुलक

B.ओवी

C.अभंग

D.वसंततिलका

Answer:

D.वसंततिलका

Reference ID:(33411)

सरदार सरोवर धरण प्रकल्प कोणत्या नदीवर बांधला आहे?

A.नर्मदा

B.कावेरी

C.गोदावरी

D.झेलम

Answer:

A.नर्मदा

Reference ID:(29860)

Pick the Synonym for the word:
Pioneer

A.Initiate

B.Abolish

C.Halt

D.Enough

Answer: A.Initiate

Reference ID:(34919) जर $35 \times 3 = 11025$, $2 \times 9 = 324$, आणि $5 \times 35 = 30625$, तर $5 \times 7 = ?$

A.840

B.1222

C.730

D.1225

Answer: D.1225

Reference ID:(29887) Pick the right antonym for the word:
scarce

A.Abundant

B.Bare

C.Scant

D.Slim

Answer: A.Abundant

Reference ID:(30114) Find the meaning of the highlighted word in the sentence: Young athletes think of themselves as **invincible**.

A.Unbeatable

B.Stoppable

C.Crazy

D.Undestructible

Answer: A.Unbeatable

Reference ID:(18980) खालील शब्दाचा समास / समास प्रकार ओळखा.
विटीदांडू

- A.कर्मधारय
- B.इतरेतर द्वंद्व
- C.तत्पुरुष
- D.अव्ययीभाव

Answer: B.इतरेतर द्वंद्व

Reference ID:(32153) महाराष्ट्रातील कोणते शहर गोदावरी नदीच्या काठावर वसलेले आहे?

- A.अकोला
- B.नाशिक
- C.अहमदनगर
- D.अमरावती

Answer: B.नाशिक

Reference ID:(25168) समूहदर्शक शब्द ओळखा. जशी नाण्यांची चळत तशी धान्याची _____

- A.संच
- B.घोस
- C.रास

D.संघ

Answer: C.रास

Reference ID:(29606) Pick the right meaning of the highlighted word in the sentence:
He was brought up in **penury**, without education.

A.State of being very poor

B.To be well off

C.To lead a very luxurious life

D.To have excessive pride about something

Answer: A.State of being very poor

Reference ID:(20220) X चे दक्षिण दिशेला तोंड आहे. तो 45 अंश डावीकडे वळतो. मग तो 75 अंश उजवीकडे वळतो. मग तो 180 अंश वळतो. मग तो 15 अंश उजवीकडे वळतो. शेवटी तो डावीकडे 45 अंश वळतो. आता तो कोणत्या दिशेला तोंड करून उभा आहे?

A.दक्षिण

B.उत्तर

C.पश्चिम

D.पूर्व

Answer: B.उत्तर

Reference ID:(30622) Identify the word that's closest in meaning to the word: Admonish

A.Accept

B.Rebuke

C.Seldom

D.Distant

Answer: B.Rebuke

Reference ID:(26513) 'भारतीय वनस्थिती अहवाल २०१७' नुसार भारतात क्षेत्रफळानुसार खालीलपैकी कोणत्या राज्यातील वनक्षेत्र सर्वात जास्त आहे?

A.मध्य प्रदेश

B.छत्तीसगढ

C.महाराष्ट्र

D.ओडिसा

Answer: A.मध्य प्रदेश

Reference ID:(29633) Pick the Synonym for the word:
Apparel

A.Dress

B.Obvious

C.Unveil

D.Real

Answer: A.Dress

Reference ID:(20982)

मालिकेतील रिकामी जागा भरा: O _ R U Y D J

A.Q

B.P

C.T

D.U

Answer:

B.P

Reference ID:(31103)

Fill in the blanks with the right set of words:

Students at a large number of places _____ from their classes in protest. They had to be _____ into class again.

A.Stay away, forcibly

B.Stayed away, forced

C.Stay away, forceful

D.Staying away, forced

Answer:

B.Stayed away, forced

Reference ID:(29125)

Pick the right meaning of the highlighted word in the sentence:

She did not want to **thwart** his plans

A.To stop something from happening

B.To hate something a lot

C.To be happy for something to happen

D.To help in making something happen

Answer:

A.To stop something from happening

Reference ID:(24660)	प्रश्नातील वाक्यात रिकामी जागा भरण्यास सर्वात योग्य शब्द निवडा. स्वच्छता मोहीम महापालिका राबवणार असली तरी त्याची आर्थिक राज्य शासनावर आहे.
	A.दादर
	B.मदार
	C.मुजुमदार
	D.मतदार
Answer:	B.मदार
Reference ID:(32152)	काझीरंगा वन्यजीव अभयारण्य _____ मध्ये स्थित आहे.
	A.पश्चिम बंगाल
	B.गुजरात
	C.आसाम
	D.बिहार
Answer:	C.आसाम
Reference ID:(33409)	दूरसंचार सेवा 'एयरटेल' चे संस्थापक कोण आहेत?
	A.रतन टाटा
	B.सुनील भारती मित्तल
	C.गेरी व्हेंट
	D.कुमार मंगलम बिरला
Answer:	B.सुनील भारती मित्तल

Reference ID:(32159)

महाराष्ट्रात कृष्णा नदीचा उगम सातारा जिल्ह्यातील कोणत्या ठिकाणी होतो ?

A.महाबळेश्वर

B.वाई

C.कराड

D.प्रतापगड

Answer:

A.महाबळेश्वर

Reference ID:(22834)

जर \$ आहे '+' आणि @ आहे '-', तर खालीलपैकी सर्वात लहान पर्याय कोणता आहे ?

A.25 @ 22 @ 35 \$ 72 \$ 202 @ 83 \$ 45 \$ 27

B.48 @ 27 @ 25 \$ 32 @ 221 \$ 204 \$ 44 \$ 72

C.29 \$ 22 @ 25 \$ 42 \$ 31 @ 203 \$ 45 \$ 207

D.44 \$ 17 @ 25 @ 32 @ 21 \$ 204 @ 44 @ 23

Answer:

D.44 \$ 17 @ 25 @ 32 @ 21 \$ 204 @ 44 @ 23

Reference ID:(17129)

खालील पर्यायांपैकी दुसऱ्या क्रमांकाचा सर्वात लहान कोण आहे?

A.350 चे 40%

B.1300 चा $\frac{1}{4}$

C. 0.35×900

D.800 चा $\frac{2}{5}$

Answer:

C. 0.35×900

Reference ID:(24406)	खालीलपैकी व्याकरणाच्या दृष्टीने अशुद्ध शब्द-लेखन असलेला शब्द ओळखा.
	A.प्रतीज्ञा
	B.ओतप्रोत
	C.उत्तराधिकारी
	D.अभियंता
Answer:	A.प्रतीज्ञा
Reference ID:(26514)	भारतात जैवभौगोलिक क्षेत्राची संख्या किती आहे?
	A.8
	B.10
	C.12
	D.14
Answer:	B.10
Reference ID:(28871)	Convert the following simple sentence to compound sentences: Being ill he didn't attend the party
	A.He being ill, he didn't attend the party
	B.Since he was ill he didn't attend the party
	C.He was ill and didn't attend the party
	D.He didn't attend the party as he was ill
Answer:	C.He was ill and didn't attend the party

Reference ID:(33415)	"केंद्रीय शुष्क प्रदेश संशोधन (Central Arid Zone Research)" संस्था कोणत्या राज्यात स्थित आहे?
	A.बिहार
	B.सिक्किम
	C.राजस्थान
	D.मध्य प्रदेश
Answer:	C.राजस्थान

Reference ID:(26512)	हवेमध्ये निलंबित कणांना सामान्यतः _____ ह्या नावाने ओळखले जाते
	A.धुके
	B.एरोसोल
	C.धूळ
	D.धूर
Answer:	B.एरोसोल

Reference ID:(34946)	जर 23 (572) 26; 21 (580) 29; तर 15 (?) 19. "?" च्या मूल्य शोधा
	A.231
	B.245
	C.280

D.266

Answer: D.266

Reference ID:(35173) खाली दिलेल्या पत्त्यापैकी 3 पत्ते समान आहेत आणि 1 भिन्न आहे. कोणता पत्ता भिन्न ते ओळखा?

A.Room no. 35,Kratu Hall of Residence
Burla, Sambalpur
Odisha
PH 0904090004

B.Room no. 35,Kratu Hall of Residence
Burla, Sambalpur
Odisha
PH 0904090004

C.Room no. 35,Kratu Hall of Residence
Burla, Sambalpur
Odisha
PH 0904090004

D.Room no. 35,Kratu Hall of Residence
Burla, Samblapur
Odisha
PH 0904090004

Answer: D.Room no. 35,Kratu Hall of Residence
Burla, Samblapur
Odisha
PH 0904090004

Reference ID:(20247) एक माणूस त्याच्या घरापासून दक्षिण दिशेने 10.5 कि.मी. चालतो.
मग तो डावीकडे वळतो आणि 5 कि.मी. चालतो.
मग तो उजवीकडे वळतो आणि 1 कि.मी. चालतो.
मग तो उजवीकडे वळतो आणि 7 कि.मी. चालतो.
मग तो उजवीकडे वळतो आणि 4 कि.मी. चालतो.
मग तो उजवीकडे वळतो आणि 3 कि.मी. चालतो.
मग तो डावीकडे वळतो आणि 4 कि.मी. चालतो.
मग तो डावीकडे वळतो आणि 1 कि.मी. चालतो.
तो त्याच्या घरापासून किती दूर आहे?

A.2.5 कि.मी.

B.3.5 कि.मी.

C.1.5 कि.मी.

D.3 कि.मी.

Answer:

B.3.5 कि.मी.

Reference ID:(17102)

$16/20 + 12.5 - 5/40 = ?$

A.11.975

B.11.55

C.13.175

D.12.225

Answer:

C.13.175

Reference ID:(21209)

मालिकेतील रिकामी जागा भरा: 65, 35, 17, __, 17

A.11

B.35

C.65

D.17

Answer:

A.11

Reference ID:(32158)	क्रांतिवीर बाबासाहेब सावरकरांची पत्नी येसूबाई सावरकर यांनी देशभक्तीचा प्रसार करण्याच्या उद्देशाने कोणत्या संघाची स्थापना नाशिक मध्ये केली होती?
	A.आत्मनिष्ठा युवती
	B.प्रार्थना समाज
	C.लोकहितवादी
	D.सत्यशोधक
Answer:	A.आत्मनिष्ठा युवती
Reference ID:(27855)	Pick the correct meaning of the highlighted idiom or phrase from the following: Anish thought it best to let sleeping dogs lie and not talk about the fight with his friend.
	A.Do not disturb a situation and leave it as it is
	B.To not create any confusion about a matter
	C. To discuss an issue
	D.To ward off
Answer:	A.Do not disturb a situation and leave it as it is
Reference ID:(16548)	जर @ आहे 'भागाकार' आणि \$ आहे 'गुणाकार', तर खालीलपैकी सर्वात लहान पर्याय कोणता आहे?
	A.39@5
	B.4.25\$2.5
	C.31@4
	D.2.75\$2.5
Answer:	D.2.75\$2.5

Reference ID:(20701)

जर $CD = -1$, $BI = -7$, तर $XW =$

A.1

B.-1

C.0

D.2

Answer:

A.1

Reference ID:(20955)

मालिकेतील रिकामी जागा भरा: A, __, D, G, K, P, V

A.B

B.C

C.F

D.H

Answer:

A.B

Reference ID:(21490)

जर $A = 1$, $B = 2$, $M = 13$; आणि $N = 13$, $O = 12$, $Z = 1$, तर खालील पैकी कोणते पर्याय बरोबर आहे?

A. $\{M + A + D + E\} < \{N + I + C + E\}$

B. $\{M + A + D + E\} = \{N + I + C + E\}$

C. $\{M + A + D + E\} > \{N + I + C + E\}$

D. $\{M + A + D + E\} = \{D + O + C + K\}$

Answer:

A. $\{M + A + D + E\} < \{N + I + C + E\}$

Reference ID:(19742)

"तळे राखी तो पाणी चाखी" या म्हणीचा अर्थ खालीलपैकी कोणता ते ओळखा?

A.जेथे राहायचे तेथील माणसाबरोबर वैरभाव ठेऊ नये.

B.तळे राखणारा मनुष्यच तळ्यातील मासे खाऊ शकतो.

C.जो काही जबाबदारी पत्करतो तो त्यापासून स्वतःचा फायदा करून घेणारच

D.जी गोष्ट दिसते ती सिद्ध करण्यासाठी गरज नसते

Answer:

C.जो काही जबाबदारी पत्करतो तो त्यापासून स्वतःचा फायदा करून घेणारच

Reference ID:(18218)

भृंगे विराजित नवी अरविंदपत्रे ।
पाहुनि मानुनि तिचीच विशाल नेत्रे ।
घालीन अंजन अशा मतिने तटाकी ।
कांते वृथा उतरलो , भिजलो विलोकी ॥
वरील ओळींतील अलंकार ओळखा.

A.भ्रंतिमान

B.उत्प्रेक्षा

C.अर्थन्तरन्यास

D.स्वभावोक्ति

Answer:

A.भ्रंतिमान

खालील व्यक्तीचे नाव ओळखा?



A. अनिल अग्रवाल

B. एम. एस. स्वामीनाथन

C. माधव गाडगीळ

D. सुंदरलाल बहुगुणा

Answer:

D. सुंदरलाल बहुगुणा

जर AB = 12, S A N G = 10157, G I R L = 7993 , तर F R I E S = ___?

A. 699510

B. 699141

C. 69951

D.699411

Answer: A.699510

Reference ID:(16875) $10/40 + 0.75 - 5/40 = ?$

A.0.875

B.1.425

C.2.1

D.2.9

Answer: A.0.875

Reference ID:(25195) "वनौषधी" या शब्दाचा खालीलपैकी योग्य संधी विग्रह ओळखा.

A.वन + षधी

B.वनौ + षधी

C.वन + औषधी

D.वन + औशधी

Answer: C.वन + औषधी

Reference ID:(19715) पुढील म्हण पूर्ण करण्यासाठी योग्य पर्याय निवडा. _____ पर्वत करणे.

A.सोन्याचा

B.रईचा

C.मातीचा

D.चिखलाचा

Answer: B.रईचा

Reference ID:(32157) महाराष्ट्रात खालीलपैकी कोणी आपल्या संस्थानात आंतरजातीय विवाह मान्यता देणारा कायदा पास केला?

A.शिवाजी महाराज

B.शाहू महाराज

C.महात्मा फुले

D.लोकमान्य टिळक

Answer: B.शाहू महाराज

Reference ID:(23444) 'चांदणे' या शब्दाचा समानार्थी शब्द ओळखा.

A.सोम

B.कौमुदी

C.रजनी

D.चंद्र

Answer: B.कौमुदी

Reference ID:(32155)	संसदेच्या वरिष्ठ सभागृहामध्ये एकूण जागा _____ आहेत.
	A.250
	B.210
	C.215
	D.284
Answer:	A.250
Reference ID:(28390)	Find the meaning of the highlighted word in the sentence: The pony's gait slowed from a canter to a run.
	A.Behavior
	B.Trot
	C.Attitude
	D.Bearing
Answer:	B.Trot
Reference ID:(19461)	खालीलपैकी वाक्प्रचार आणि त्याचा अर्थाची अयोग्य जोडी ओळखा.
	A.डोके सुन्न होणे - काही न सुचणे
	B.फडशा पाडणे - संपवणे
	C.गोरेमोरे होणे - लाज वाटणे
	D.आकाशाला गवसणी घालणे - ग्रहतारे ह्यांचा ध्यास घेणे
Answer:	D.आकाशाला गवसणी घालणे - ग्रहतारे ह्यांचा ध्यास घेणे

Reference ID:(16521)	सहा जण P , Q , R , S , X आणि Z हे दोन रांगामध्ये एकमेकांकडे तोंड करून बसले आहेत. दोन्ही रांगामध्ये प्रत्येकी तीन जण आहेत. X चा शेजारी बसलेला P हा S च्या कर्णाभिमुख आहे. S हा Z च्या डावीकडे दुसऱ्या क्रमांकावर आहे. X हा कोणत्याही रांगेच्या शेवटी बसलेला नाही. R हा Z च्या शेजारी आहे. खालीलपैकी कोण दोघे एकमेकांच्या कर्णाभिमुख बसलेले आहेत?
	A.X आणि Q
	B.Z आणि Q
	C.X आणि S
	D.X आणि R
Answer:	B.Z आणि Q
Reference ID:(23671)	खालीलपैकी समानार्थी शब्दाची बरोबर जोडी ओळखा
	A.कंटाळवाणे - मनोरंजक
	B.कोवळे - जून
	C.विभक्त - एकत्र
	D.मुद्रा - ठसा
Answer:	D.मुद्रा - ठसा
Reference ID:(23925)	खालीलपैकी विरुद्धार्थी शब्दाची बरोबर जोडी ओळखा.
	A.देव x सुर
	B.उच्च x नीच
	C.दैत्य x दानव
	D.धनुष्य x धनू
Answer:	B.उच्च x नीच

Reference ID:(33412)	बॉक्साईट _____ धातू आहे.
	A.लोह
	B.जस्त
	C.कथिल
	D.अॅल्युमिनियम
Answer:	D.अॅल्युमिनियम
Reference ID:(19969)	पुढील विधानाला जी म्हण योग्य असेल असा पर्याय ओळखा: सुनील आपली नवीन गाडी अनिलला दाखवित होता. अनिल पटकन म्हणाला 'हल्ली रस्त्यावर गाड्यांचे अपघात फार होतात. तू गाडी घ्यायला नको होतीस.' हे म्हणजे असे झाले की ...
	A.आग सोमेश्वरी, बंब रामेश्वरी
	B.शुभ बोल नाऱ्या तर म्हणे मांडवाला आग लागली
	C.मन जाणे पापा
	D.नवरा मरो नवरी मरो उपाध्यायाला दक्षिणेची जरूर
Answer:	B.शुभ बोल नाऱ्या तर म्हणे मांडवाला आग लागली
Reference ID:(26516)	परिसंस्था स्थिर राहण्याची अधिक शक्यता असते जेव्हा_____.
	A.परिसंस्थेतील प्रजातींची विविधता मोठ्या संख्येत असते
	B.परिसंस्थेतील प्रजातींची विविधता कमी संख्येत असते
	C.परिसंस्थेत एकाच प्रकारच्या प्रजाती असतात
	D.स्थिरता परिसंस्थेच्या प्रजातींवर अवलंबून नसते
Answer:	A.परिसंस्थेतील प्रजातींची विविधता मोठ्या संख्येत असते

Reference ID:(30876)	Identify the figure of speech in the following sentence: Car, please get me to work today.
	A.Euphemism
	B.Personification
	C.Apostrophe
	D.Oxymoron
Answer:	C.Apostrophe
Reference ID:(29352)	Pick the right meaning of the highlighted word in the sentence: They jeered at our efforts of making our costumes for the fancy dress competition.
	A.To ridicule or sneer at someone
	B.To cheer someone
	C.To applause someone
	D.To be disappointed with someone or something
Answer:	A.To ridicule or sneer at someone
Reference ID:(24687)	प्रश्नातील वाक्यात रिकामी जागा भरण्यास सर्वात योग्य शब्द निवडा. गावाचे निसर्ग सौंदर्यवेळ कसा निघून गेला ते कळलेच नाही.
	A.मुळमुळीत
	B.न्याहाळत
	C.गर्भगळीत
	D.वाळीत
Answer:	B.न्याहाळत

Reference ID:(28109)

Find the word opposite in meaning to: Banish

A.Dispel

B.Dismiss

C.Incorporate

D.Evict

Answer:

C.Incorporate

Reference ID:(28617)

Pick the right idiom which fits into the sentence: I shall stand by you _____

A.At one's fingers end

B.Hand in glove

C.By fits and starts

D.Through thick and thin

Answer:

D.Through thick and thin

Reference ID:(33410)

ऑलिम्पिक अॅथलेटिक्स स्पर्धेच्या अंतिम फेरीत पोहोचणारी पहिली भारतीय महिला _____ आहे.

A.पी.टी उषा

B.कर्णम मल्लेश्वरी

C.ललिता बबन

D.पी.व्ही सिंधू

Answer:

A.पी.टी उषा

Reference ID:(17383)

$$5.30 + 6.25 + 7.75 - (5.50 - 8.75 + 2.25) = \underline{\hspace{2cm}}$$

A.18.3

B.18.65

C.20.3

D.18.15

Answer:

C.20.3

Reference ID:(20474)

X चे पश्चिम दिशेला तोंड आहे. तो 90 अंश उजवीकडे वळतो. मग तो 45 अंश उजवीकडे वळतो. मग तो 180 अंश वळतो. मग तो 90 अंश उजवीकडे वळतो. शेवटी तो डावीकडे 45 अंश वळतो. आता तो कोणत्या दिशेला तोंड करून उभा आहे?

A.उत्तर पश्चिम

B.दक्षिण

C.दक्षिण पूर्व

D.पश्चिम

Answer:

D.पश्चिम

Reference ID:(18499)

"तेथ हरू म्हणे जेवि नेणजे" या वाक्यातील प्रयोग कोणता?

A.नवीन कर्मणी प्रयोग

B.प्राचीन कर्मणी प्रयोग

C.समापन कर्मणी प्रयोग

D.शक्य कर्मणी प्रयोग

Answer: B.प्राचीन कर्मणी प्रयोग

Reference ID:(22806) जर \$ आहे '+' आणि @ आहे '-', तर खालीलपैकी सर्वात मोठा पर्याय कोणता आहे ?

A.25 \$ 22 @ 15 \$ 42 \$ 12 @ 203 \$ 45 \$ 27

B.28 \$ 27 @ 25 \$ 32 @ 21 \$ 204 @ 44 @ 37

C.29 \$ 22 @ 215 \$ 42 \$ 31 \$ 203 \$ 45 \$ 27

D.38 \$ 207 @ 25 @ 32 @ 21 \$ 204 @ 44 @ 37

Answer: D.38 \$ 207 @ 25 @ 32 @ 21 \$ 204 @ 44 @ 37

Reference ID:(27047) Find the word opposite in meaning to the word: Mediate

A.Join

B.Provoke

C.Arbitrate

D.Insinuate

Answer: B.Provoke

Reference ID:(24433) खालीलपैकी व्याकरणाच्या दृष्टीने शुध्द वाक्याचा पर्याय निवडा.

A.त्यांच्यावर झालेला हल्ला आनपेक्षित होता.

B.वर्तमानपत्रातील बातमी अश्वस्थ करणारी होती.

C.ते सगळेच अविश्वासनीय होते.

D.मी काम पूर्ण करेन असे आश्वासन दिले.

Answer: D.मी काम पूर्ण करेन असे आश्वासन दिले.

Reference ID:(30395) Pick the correct meaning of the highlighted idiom: The news of his loss in business came to us like a **bolt from the blue**.

A.A sad news

B.An unexpected disaster

C.A secret not shared before

D.An exciting happening

Answer: B.An unexpected disaster

Reference ID:(17891) X हा Y हून 50% नी मोठा आहे. मग Y हा X हून _____ % लहान आहे.

A.100

B.40

C.25

D.33.33

Answer: D.33.33

Reference ID:(33413) भारतीय राष्ट्रीय काँग्रेसच्या पहिल्या महिला अध्यक्ष कोण होत्या?

A.इंदिरा गांधी

B.सरोजिनी नायडू

C.अॅनी बेझंट

D.सोनिया गांधी

Answer: C.अॅनी बेझंट

Reference ID:(26515) केरळ मधील एरावीकुलम राष्ट्रीय उद्यान खालीलपैकी कशासाठी प्रसिद्ध आहे?

A.चितळ

B.मगर

C.निलगिरी ताहर

D.अस्वल

Answer: C.निलगिरी ताहर

Reference ID:(17637) 54 च्या $\frac{1}{12}$ + 12 च्या 20% च्या 200% + $0.25 \times 60 = \underline{\hspace{2cm}}$

A.25.8

B.26.3

C.24.3

D.23.55

Answer: C.24.3

Reference ID:(19996) "प्रांत" या शब्दाचा समानार्थी शब्द ओळखा.

A.परदेशी

B.महाल

C.परगणा

D.परडी

Answer:

C.परगणा

Reference ID:(26517)

१९७३ मध्ये भारतातील वाघांची संख्या वाचवण्यासाठी पुढीलपैकी कोणता प्रकल्प सुरू करण्यात आला होता?

A.व्याघ्र प्रकल्प

B.वाघ वाचवा

C.3R

D.गिर प्रकल्प

Answer:

A.व्याघ्र प्रकल्प

Reference ID:(21717)

जर $A = 1, B = 2, C = 3, \dots, Z = 26$, तर खालील पैकी कोणते पर्याय बरोबर आहे?

A. $\{F + L + E + W\} = \{A + W + A + Y\}$

B. $\{F + L + E + W\} < \{A + W + A + Y\}$

C. $\{F + L + E + W\} > \{A + W + A + Y\}$

D. $\{A + W + A + Y\} = \{S + A + N + G\}$

Answer:

B. $\{F + L + E + W\} < \{A + W + A + Y\}$

Reference ID:(24941)

पुढील शब्दसमूहासाठी योग्य शब्द निवडा.
स्वतःशी केलेले भाषण

A.आत्मपरिक्षण

B.संभाषण

C.स्वगत

D.आख्यायिका

Answer:

C.स्वगत

Reference ID:(30649)

Convert the following active to passive voice: People speak Portuguese in Brazil

A.Brazil people speak Portuguese

B.Portuguese will be spoken by people in Brazil

C.Portuguese is spoken by people in Brazil

D.Portuguese was being spoken by people in Brazil

Answer:

C.Portuguese is spoken by people in Brazil

Reference ID:(25422)

"प्रत्यंतर" या शब्दाचा खालीलपैकी योग्य संधी विग्रह ओळखा.

A.प्रति + नंतर

B.प्रति + तर

C.प्रति + अंतर

D.प्रति + आंतर

Answer: C.प्रति + अंतर

Reference ID:(29379) Pick the right meaning of the highlighted word in the sentence:
We are determined to **eradicate** racism from our sport.

A.Eliminate something

B.Disapprove of something

C.Being wasteful about something

D.Spread something everywhere

Answer: A.Eliminate something

Reference ID:(24152) खालीलपैकी विरुद्धार्थी शब्दाची चुकीची जोडी ओळखा.

A.स्वस्थ x अस्वस्थ

B.स्वदेशी x विदेशी

C.स्तुती x निंदा

D.समुद्र x सागर

Answer: D.समुद्र x सागर

Reference ID:(32156) संत ज्ञानेश्वरांनी खालीलपैकी कोणते पुस्तक लिहिले?

A.ग्रामगीता

B.अमृतानुभव

C.दासबोध

D.एकनाथी भागवत

Answer:

B.अमृतानुभव

Reference ID:(31130)



महाराष्ट्रातील नकाशात बाणने दर्शविलेला जिल्हा खालीलपैकी कोणता आहे?

A.भंडारा

B.हिंगोली

C.गोंदीया

D.गडचिरोली

Answer:

A.भंडारा

Reference ID:(26511)

आपल्या हवामानात वातावरणाचा _____ हा थर नियमितपणे सहभागी असतो.

A.मध्यांबर

B.तपांबर

C.आयनांबर

D.स्थितांबर

Answer:

B.तपांबर

Reference ID:(26519)

चैपियन आणि सेठच्या वर्गीकरणानुसार महाराष्ट्रात किती वन प्रकार आहेत?

A.4

B.5

C.3

D.8

Answer:

B.5

Reference ID:(27046) Find the word closest in meaning to the word: Mediate

A.Cut in the middle

B.Arbitrate

C.Obliterate

D.Perform penance

Answer: B.Arbitrate

Reference ID:(29351) Pick the right meaning of the highlighted word in the sentence:
Don't **jeer** at the students who came last in the race - it's very unkind

A.To applause someone

B.To cheer someone

C.To ridicule or sneer at someone

D.To be disappointed with someone or something

Answer: C.To ridicule or sneer at someone

Reference ID:(26507) परिसंस्थेमध्ये, हिरव्या वनस्पतींना _____ सुद्धा म्हटले जाते.

A.द्वितीय उत्पादक

B.प्राथमिक उत्पादक

C.द्वितीय उपभोक्ता

D.प्राथमिक उपभोक्ता

Answer: B.प्राथमिक उत्पादक

Reference ID:(25167) समूहदर्शक शब्द ओळखा. जसा जहाजाचा काफिला तसा किल्ल्याचा _____.

A.काफिला

B.जुडगा

C.जथा

D.गट

Answer: B.जुडगा

Reference ID:(20473) X चे दक्षिण दिशेला तोंड आहे. तो 90 अंश उजवीकडे वळतो. मग तो 45 अंश उजवीकडे वळतो. मग तो 180 अंश वळतो. मग तो 90 अंश उजवीकडे वळतो. शेवटी तो डावीकडे 45 अंश वळतो. आता तो कोणत्या दिशेला तोंड करून उभा आहे?

A.उत्तर पश्चिम

B.दक्षिण

C.दक्षिण पूर्व

D.पूर्व

Answer: B.दक्षिण

Reference ID:(31945) पुढीलपैकी कोणती मणिपूरची राजधानी आहे?

A.कोहिमा

B.इंफाळ

C.ऐझवाल

D.दिसपूर

Answer: B.इंफाळ

Reference ID:(19995) "दोरखंड" या शब्दाचा समानार्थी शब्द ओळखा.

A.पाणी

B.चन्हाट

C.चंडांशू

D.कोदंड

Answer: B.चन्हाट

Reference ID:(28643) Pick the right idiom which fits into the sentence: He is so lazy that to tell him about your adventures is like _____

A.Putting the cart before the horse

B.Smelling a rat

C.Casting pearls before a swine

D.Catching a tartar

Answer: C.Casting pearls before a swine

Reference ID:(18217) पोटींच एक पद लांबविला दुजा तो ।
पक्षी तनू लपवि, भूप तया पाहतो ॥
वरील वाक्यातील अलंकार कोणता?

A.उत्प्रेक्षा

B.अर्थान्तरन्यास

C.भ्रांतिमान

D.स्वभावोक्ति

Answer:

D.स्वभावोक्ति

Reference ID:(21462)

जर ZUCHINNI हा शब्द BWEJKPPK असेल, तर TAMARIND हा शब्द _____ असेल.

A.VCODTKPG

B.VCOCTKPF

C.VCOCUKPF

D.VDODTKPF

Answer:

B.VCOCTKPF

Reference ID:(23443)

'कपोत' या शब्दाचा समानार्थी शब्द ओळखा.

A.कापूस

B.कबुतर

C.घुबड

D.किमान

Answer:

B.कबुतर

Reference ID:(19968)

पुढील विधानाला जी म्हण योग्य असेल असा पर्याय ओळखा:
प्रथमेश टीव्हीवरील गायनाच्या स्पर्धेत पहिला आला. तेव्हा त्याच्या शाळेतील अभिषेक सगळ्यांना सांगत सुटला की त्याचे व प्रथमेशचे वडील एकमेकांचे जिवलग मित्र आहेत. खरे तर ते एकमेकांना एकदाच भेटले होते. म्हणतात ना

A.आऊचा काऊ तो म्हणे मावसभाऊ

B.वाहत्या गंगेत हात धुणे

C.बाप तसा बेटा

D.ताज्या घोड्यावरच्या गोमाशा

Answer:

A.आऊचा काऊ तो म्हणे मावसभाऊ

Reference ID:(20246)

एक माणूस त्याच्या घरापासून उत्तर दिशेने 10.5 कि.मी. चालतो.
मग तो डावीकडे वळतो आणि 5 कि.मी. चालतो.
मग तो उजवीकडे वळतो आणि 1 कि.मी. चालतो.
मग तो उजवीकडे वळतो आणि 7 कि.मी. चालतो.
मग तो उजवीकडे वळतो आणि 4 कि.मी. चालतो.
मग तो उजवीकडे वळतो आणि 3 कि.मी. चालतो.
मग तो डावीकडे वळतो आणि 4 कि.मी. चालतो.
मग तो डावीकडे वळतो आणि 1 कि.मी. चालतो.
तो त्याच्या घरापासून किती दूर आहे?

A.2.5 कि.मी.

B.3.5 कि.मी.

C.1.5 कि.मी.

D.3 कि.मी.

Answer:

B.3.5 कि.मी.

Reference ID:(27400)

Identify the figure of speech in the following sentence: Oh rains, how drenched you got us.

A.Oxymoron

B.Hyperbole

C.Apostrophe

D.Euphemism

Answer: C.Apostrophe

Reference ID:(26510) महाराष्ट्रातील टिपेश्वर वन्यजीव अभयारण्य खालीलपैकी कोणत्या जिल्ह्यात आहे ?

A.जळगाव

B.यवतमाळ

C.गडचिरोली

D.सिंधुदुर्ग

Answer: B.यवतमाळ

Reference ID:(31102) Fill in the blanks with the right set of words:
The policeman _____ the thief. He had to be _____ a lot before he was caught

A.Was catching, pursuing

B.Catch, pursue

C.Caught, pursued

D.Catched, pursued

Answer: C.Caught, pursued

Reference ID:(31950) भारतात सतीप्रथा बंद होण्यासाठी प्रमुख कार्य खालीलपैकी कोणी केले?

A.राजाराम मोहन राय

B.मल्हारराव होळकर

C.शिवाजी महाराज

D.महात्मा फुले

Answer: A.राजाराम मोहन राय

Reference ID:(17863) 44 च्या $\frac{1}{8}$ + 50 च्या 60% च्या 200% + $0.30 \times 180 = \underline{\hspace{2cm}}$

A.121

B.121.5

C.118.75

D.119.5

Answer: D.119.5

Reference ID:(29632) Pick the Synonym for the word:
deception

A.Fraud

B.Honesty

C.Goodness

D.Joyful

Answer: A.Fraud

Reference ID:(31943) कर्नाटकाचा राज्यप्राणी कोणता आहे?

A.हत्ती

B.अस्वल

C.हरिण

D.खार

Answer: A.हत्ती

Reference ID:(31949) संत तुकडोजी महाराजांनी खालीलपैकी कोणता ग्रंथ लिहिला?

A.ग्रामगीता

B.अमृतानुभव

C.दासबोध

D.एकनाथी भागवत

Answer: A.ग्रामगीता

Reference ID:(18498) "पक्षी आकाशात उडतो." या वाक्यातील प्रयोग कोणता?

A.सकर्मक कर्तरी प्रयोग

B.नवीन कर्मणी प्रयोग

C.अकर्मक कर्तरी प्रयोग

D.शक्य कर्मणी प्रयोग

Answer: C.अकर्मक कर्तरी प्रयोग

Reference ID:(31948)	संसदेच्या कनिष्ठ सभागृहामध्ये एकूण जागा _____ आहेत.
	A.545
	B.565
	C.530
	D.555
Answer:	A.545
Reference ID:(24940)	पुढील शब्दसमूहासाठी योग्य शब्द निवडा. सभेत धीटपणे भाषण करणारा
	A.ढालगज
	B.सभाधीट
	C.आगंतुक
	D.जहाल
Answer:	B.सभाधीट
Reference ID:(21489)	जर $A = 1, B = 2, \dots, M = 13$; आणि $N = 13, O = 12, \dots, Z = 1$, तर खालील पैकी कोणते पर्याय बरोबर आहे?
	A. $\{M + A + C + E\} > \{M + A + D + E\}$
	B. $\{M + A + C + E\} = \{M + A + D + E\}$
	C. $\{M + A + C + E\} < \{M + A + D + E\}$
	D. $\{M + A + C + E\} = \{N + I + C + E\}$
Answer:	C. $\{M + A + C + E\} < \{M + A + D + E\}$

Reference ID:(33406)	भारतात खनिज आणि पदार्थ तंत्रज्ञान संस्था (Institute of Minerals and Materials Technology) कोठे स्थित आहे?
	A.भुवनेश्वर
	B.कटक
	C.बैंगलोर
	D.मुंबई
Answer:	A.भुवनेश्वर
Reference ID:(16547)	जर @ आहे 'भागाकार' आणि \$ आहे 'गुणाकार', तर खालील पर्यायांपैकी दुसऱ्या क्रमांकाचा सर्वात लहान कोण आहे?
	A.39@5
	B.4.25\$2.5
	C.31@4
	D.2.75\$2.5
Answer:	C.31@4
Reference ID:(20981)	मालिकेतील रिकामी जागा भरा: O P R __ Y D J
	A.Q
	B.T
	C.S
	D.U

Answer:

D.U

Reference ID:(31129)



महाराष्ट्रातील नकाशात बाणने दर्शविलेला जिल्हा खालीलपैकी कोणता आहे?

A.जळगाव

B.बुलढाणा

C.नागपूर

D.जालना

Answer:

B.बुलढाणा

Reference ID:(33405)

भारतात नॅशनल मेटलर्जिकल लॅबोरेटरीचे मुख्यालय कोठे आहे?

A.जमशेदपूर

B.बोकारो

C.धनबाद

D.हजारीबाग

Answer:

A.जमशेदपूर

Reference ID:(33198)

"स्वराज्य माझा जन्मसिद्ध अधिकार आहे आणि तो मी मिळवणारच" ही घोषणा _____ ह्यांनी म्हटली होती.

A.बाळ गंगाधर टिळक

B.लाला लजपत राय

C.बिपीन चंद्र पाल

D.गोपाळ कृष्ण गोखले

Answer:

A.बाळ गंगाधर टिळक

Reference ID:(24432)

खालीलपैकी व्याकरणाच्या दृष्टीने शुध्द वाक्याचा पर्याय निवडा.

A.गणेशोत्सव सार्वजनीक कार्यक्रम आहे.

B.तो समारंभ निर्विघ्नपणे पार पडला.

C.त्यांनी खूप मोठी मीरवणूक काढली.

D.गुंडांची वृत्ती समाजविघाटक असते.

Answer:

B.तो समारंभ निर्विघ्नपणे पार पडला.

Reference ID:(30875)	Identify the figure of speech in the following sentence: Time marches at its own drum.
	A.Oxymoron
	B.Personification
	C.Simile
	D.Apostrophe
Answer:	B.Personification
Reference ID:(28135)	Find the meaning of the highlighted word in the sentence: The law compels employers to provide health insurance.
	A.Hinder
	B.Dissuades
	C.Halts
	D.Urges
Answer:	D.Urges
Reference ID:(19206)	खालील शब्दाचा समास / समास प्रकार ओळखा. कूपमंडूक
	A.सप्तमी तत्पुरुष
	B.कर्मधारय
	C.बहुव्रीहि
	D.द्विगु
Answer:	A.सप्तमी तत्पुरुष

Reference ID:(35172)	खाली दिलेल्या पत्त्यापैकी 3 पत्ते समान आहेत आणि 1 भिन्न आहे. कोणता पत्ता भिन्न ते ओळखा?
	A.B-271, SECTOR - 2, Rourkela Rourkela – 769006 Odisha PH 0850850404
	B.B-271, SECTOR - 2, Rourkela Rourkela – 769006 Odisha PH 0850850404
	C.B-271, SECTOR - 2, Rourkela Rourkela – 769006 Odisha PH 0850850404
	D.B-271, SECTOR - 2, Rourkela Rourkela – 769006 Odisha PH 0850850404
Answer:	B.B-271, SECTOR - 2, Rourkela Rourkela – 769006 Odisha PH 0850850404
Reference ID:(33404)	पुढीलपैकी कोणत्या भौतिकशास्त्रज्ञाने प्रकाश विकिरणाच्या क्षेत्रासाठी नोबेल पारितोषिक जिंकले?
	A.सी.व्ही.रमन
	B.अब्दुस सलाम
	C.हरगोविंद खुराना
	D.सुब्रमण्यम चंद्रशेखर
Answer:	A.सी.व्ही.रमन
Reference ID:(19487)	प्रश्नात दिलेल्या वाक्यप्रचाराचा योग्य वापर असलेले वाक्य पर्यायांमधून ओळखा. वावडी उडवणे

A.हुप्या माकड पाहिल्याची राजेशने गावात वावडी उडवली.

B.राजू पडल्यावर मित्रांनी हसून त्याची वावडी उडवली.

C.शिल्पाचे लग्न चांगल्या घरी जमले नाही म्हणून तिच्या पालकांनी गावात वावडी उडवली.

D.अचानक आलेल्या वादळाने रस्त्यावर वावडी उडवली.

Answer: A.हुप्या माकड पाहिल्याची राजेशने गावात वावडी उडवली.

Reference ID:(17355) $9.25 + 2.25 + 3.5 - (9.25 - 5.50 - 4.75) = \underline{\quad}$

A.15

B.16.0

C.17

D.16.25

Answer: B.16.0

Reference ID:(18244) खालीलपैकी वसंततिलका वृत्तातील वाक्य ओळखा.

A.नको फार हव्यास गे भूषणांचा, धरी लोभ चित्ती सदा सद्गुणांचा

B.आम्ही वैकुंठवासी | आलो याचि कारणासी | बोलिले जे ऋषि | साच भावे वर्तावया ||

C.व्योमी विहार करिती खग जे तयांसी, | यांची, - ' अहर्निश ' भजाच तुम्ही प्रभुंसी ||

D.हंसू लागला, तो सुखे ऊर दाटें | फुटे प्रेम पान्हा ; तिला स्वर्ग भेटे ||

Answer: C.व्योमी विहार करिती खग जे तयांसी, | यांची, - ' अहर्निश ' भजाच तुम्ही प्रभुंसी ||

Reference ID:(20954)

मालिकेतील रिकामी जागा भरा: B, __, D, F, G, H, J, K

A.E

B.C

C.I

D.L

Answer:

B.C

Reference ID:(26502)

भारतातील जंगली गाढवाचे एकमात्र घर खालीलपैकी कोणते आहे?

A.थार वाळवंट

B.कच्छचे छोटे रण

C.सुंदरबन भूप्रदेश

D.निलगिरी पर्वतरांगा

Answer:

B.कच्छचे छोटे रण

Reference ID:(27627)

Pick the correct meaning of the highlighted idiom or phrase from the following:
I **let the cat out of the bag** when I reveled her secret birthday party details

A.To accidently revel a secret

B.To be smart and understand all details

C.To gossip about someone or something

D.To have animals perform at a party

Answer:

A.To accidently revel a secret

Reference ID:(26501)

पुढीलपैकी कोणता जलीय परिसंस्थेच्या वर्गाचा घटक आहे?

A.गोडे पाणी

B.मचूळ पाणी

C.समुद्र पाणी

D.वरीलपैकी सर्व

Answer:

D.वरीलपैकी सर्व

Reference ID:(24151)

खालीलपैकी विरुद्धार्थी शब्दाची चुकीची जोडी ओळखा.

A.सिंह x केसरी

B.सगुण x निर्गुण

C.ज्ञानी x अज्ञानी

D.हार x जीत

Answer:

A.सिंह x केसरी

Reference ID:(25194)

"परीक्षा" या शब्दाचा खालीलपैकी योग्य संधी विग्रह ओळखा.

A.परि + ईक्षा

B.परी + इक्षा

C.परि + क्षा

D.परि + कक्षा

Answer:

A.परि + ईक्षा

Reference ID:(28616)	Pick the right idiom which fits into the sentence: He _____ before his exams.
	A.Died by inches
	B.Burnt the candles at both ends
	C.Held water
	D.Saw red
Answer:	B.Burnt the candles at both ends
Reference ID:(29886)	Pick the right antonym for the word: vicious
	A.Pious
	B.Fearsome
	C.Acute
	D.Intensive
Answer:	A.Pious
Reference ID:(34945)	जर 15 (224) 16; 23 (462) 21; तर 31 (?) 17. "?" च्या मूल्य शोधा
	A.630
	B.510
	C.430
	D.480

Answer:	B.510
Reference ID:(20219)	X चे पश्चिम दिशेला तोंड आहे. तो 45 अंश डावीकडे वळतो. मग तो 75 अंश उजवीकडे वळतो. मग तो 180 अंश वळतो. मग तो 15 अंश उजवीकडे वळतो. शेवटी तो डावीकडे 45 अंश वळतो. आता तो कोणत्या दिशेला तोंड करून उभा आहे?
	A.दक्षिण
	B.उत्तर
	C.पश्चिम
	D.पूर्व
Answer:	D.पूर्व
Reference ID:(31947)	भारतीय संविधानाने कोणत्या देशाकडून लेखी संविधान घेतले आहे.
	A.कॅनडा
	B.युनायटेड किंगडम
	C.ऑस्ट्रेलिया
	D.युनायटेड स्टेट्स ऑफ अमेरिका
Answer:	D.युनायटेड स्टेट्स ऑफ अमेरिका
Reference ID:(26505)	खालीलपैकी कोणती तेल गळती ही जगाच्या इतिहासातील सर्वात मोठ्या समुद्री तेल गळतीपैकी एक समजली जाते?
	A.डकोटा तेल गळती
	B.बेले फ्रॉचें तेल गळती

C.गल्फ ऑफ मेक्सिको तेल गळती

D.बेयरिंग समुद्र तेल गळती

Answer: C.गल्फ ऑफ मेक्सिको तेल गळती

Reference ID:(28108) Find the word closet in meaning to: Banish

A.Expel

B.Accept

C.Admit

D.Hold

Answer: A.Expel

Reference ID:(29605) Pick the right meaning of the highlighted word in the sentence:
Hardship and **penury** wore him off before time

A.State of being very poor

B.To be well off

C.To lead a very luxurious life

D.To have excessive pride about something

Answer: A.State of being very poor

Reference ID:(18979) खालील शब्दाचा समास / समास प्रकार ओळखा.
एकवीस

A.कर्मधारय

B.इतरेतर द्वंद्व

C.तत्पुरुष

D.अव्ययीभाव

Answer: B.इतरेतर द्वंद्व

Reference ID:(24913) पुढील शब्दसमूहासाठी योग्य शब्द निवडा.
आपल्या वेळची परिस्थिती बदलून तिला योग्य वळण देणारा

A.शूरपुरुष

B.युगपुरुष

C.मूळपुरुष

D.सत्पुरुष

Answer: B.युगपुरुष

Reference ID:(22579) खालीलपैकी सर्वात लहान पर्याय कोणता आहे ?

A.55 + 22 - 75 + 42 - 12 - 23 + 45 + 27

B.228 + 27 - 25 + 32 - 221 + 204 - 44 - 37

C.79 + 42 + 215 + 42 + 31 - 203 + 45 + 27

D.38 - 207 - 25 - 32 - 21 + 204 + 244 - 7

Answer: A.55 + 22 - 75 + 42 - 12 - 23 + 45 + 27

Reference ID:(19233) "डोळ्यावर धुंदी चढणे" या वाक्प्रचाराचा खालीलपैकी कोणता अर्थ योग्य आहे?

A.डोळ्यात कचरा गेल्याने चक्कर येणे

B.योगसमाधी लागणे

C.बेफाट गर्व चढून माजणे

D.जास्त वेळ झोप लागणे

Answer:

C.बेफाट गर्व चढून माजणे

Reference ID:(19460)

खालीलपैकी वाक्प्रचार आणि त्याचा अर्थाची अयोग्य जोडी ओळखा.

A.हात तोकडे पडणे - मदत करण्यास क्षमता कमी पडणे

B.हिरमुसले होणे - नाराज होणे

C.पांग फेडणे - अपमान करणे

D.विटून जाणे - त्रासणे

Answer:

C.पांग फेडणे - अपमान करणे

Reference ID:(29378)

Pick the right meaning of the highlighted word in the sentence:
The government is battling to **eradicate** illnesses such as malaria and polio.

A.Eliminate something

B.Disapprove of something

C.Being wasteful about something

D.Spread something everywhere

Answer:

A.Eliminate something

Reference ID:(32151)

महाराष्ट्रातील भीमा नदी ही कोणत्या नदीची उपनदी आहे?

A.वर्धा

B.कृष्णा

C.तापी

D.गोदावरी

Answer:

B.कृष्णा

Reference ID:(22833)

जर \$ आहे '+' आणि @ आहे '-', तर खालीलपैकी सर्वात लहान पर्याय कोणता आहे ?

A.25 \$ 22 @ 15 \$ 42 \$ 12 @ 203 \$ 45 \$ 27

B.28 \$ 27 @ 25 \$ 32 @ 21 \$ 204 @ 44 @ 37

C.29 \$ 22 @ 215 \$ 42 \$ 31 \$ 203 \$ 45 \$ 27

D.38 \$ 207 @ 25 @ 32 @ 21 \$ 204 @ 44 @ 37

Answer:

A.25 \$ 22 @ 15 \$ 42 \$ 12 @ 203 \$ 45 \$ 27

Reference ID:(26506)

अन्न साखळीतील प्रत्येक पातळीला _____ म्हणतात.

A.टुंड्रा पातळी

B.आर्टिक पातळी

C.पोषण पातळी

D.पॅसिफिक पातळी

Answer:

C.पोषण पातळी

Reference ID:(21235)

जर ARTICHOKE हा शब्द TRAHCIOKE असेल, तर FUZZBALLS हा शब्द _____ असेल.

A.LLSBAFUZZ

B.ZUFABZLLS

C.ZZFUBASLL

D.LLBASFUZZ

Answer: B.ZUFABZLLS

Reference ID:(33200) महाराष्ट्रातील कोणत्या किल्ल्यावर छत्रपती शिवाजी महाराजांचा जन्म झाला होता?

A.शिवनेरी

B.रायगड

C.कर्नाळा

D.लोहगड

Answer: A.शिवनेरी

Reference ID:(18725) विक्रांत अभ्यास करत जाईल. ह्या वाक्यात खलीलपैकी कोणता काळ वापरला आहे?

A.साधा भविष्यकाळ

B.पूर्ण भविष्यकाळ

C.रिती भविष्यकाळ

D.अपूर्ण भविष्यकाळ

Answer: C.रिती भविष्यकाळ

Reference ID:(31944) वूलर सरोवर _____ मध्ये स्थित आहे.

A.शिमला

B.नैनताल

C.काश्मीर

D.मनाली

Answer: C.काश्मीर

Reference ID:(19714) पुढील म्हण पूर्ण करण्यासाठी योग्य पर्याय निवडा. घर फिरले की घराचे _____ फिरतात.

A.वासेही

B.नोकरही

C.दारेही

D.रंगही

Answer: A.वासेही

Reference ID:(28389) Find the meaning of the highlighted word in the sentence: He walked with a slow stiff **gait**.

A.bearing

B.attitude

C.stride

D.behavior

Answer: C.stride

Reference ID:(24178) खालीलपैकी व्याकरणाच्या दृष्टीने शुद्ध शब्द-लेखन असलेला शब्द ओळखा.

A.दीगविजय

B.दिग्वीजय

C.दिग्विजय

D.दिकविजय

Answer:

C.दिग्विजय

Reference ID:(21208)

मालिकेतील रिकामी जागा भरा: 5, __, 7, 9, 9, 6, 11, 3, 13

A.6

B.12

C.11

D.5

Answer:

B.12

Reference ID:(18952)

पुढीलपैकी अपूर्ण भविष्यकाळ असलेले वाक्य कोणते?

A.मी आंबा खात असेल.

B.मी प्रवास करीत असेल.

C.ती क्लासला जात असेल.

D.वरीलपैकी सर्व.

Answer:

D.वरीलपैकी सर्व.

Reference ID:(26503)

भारतातील १० जैवभौगोलिक क्षेत्रापैकी खालीलपैकी कोणता/ते जैवभौगोलिक क्षेत्र आहे?

A) ट्रान्स हिमालयीन क्षेत्र

B) निम शुष्क क्षेत्र

c) किनारपट्टी क्षेत्र

A.A आणि B

B.B आणि C

C.A आणि C

D.सर्व A , B आणि C

Answer:

D.सर्व A , B आणि C

Reference ID:(30367)

Find the meaning of the highlighted word in the sentence: The police said they had no reason to **suspect** foul play.

A.Definitive

B.Positive

C.Doubt

D.Decisive

Answer:

C.Doubt

Reference ID:(33199)

"सशस्त्र दल वैद्यकीय महाविद्यालय (Armed Forces Medical College)" महाराष्ट्रातील कोणत्या शहरात आहे?

A.नागपूर

B.पुणे

C.मुंबई

D.औरंगाबाद

Answer: B.पुणे

Reference ID:(28870) Convert the simple sentence to a complex sentence: The cause of her death is not known

A.No one knows why she died

B.The reason how she died is unknown

C.Unknown is her cause of death

D.Her death reason is unknown

Answer: B.The reason how she died is unknown

Reference ID:(25421) जगज्जीवन या शब्दाचा खालीलपैकी योग्य संधी विग्रह ओळखा.

A.जगत + जीवन

B.जग + जीवन

C.जगजी + वन

D.जगत् + जीवन

Answer: D.जगत् + जीवन

Reference ID:(16520)	सहा जण P , Q , R , S , X आणि Z हे दोन रांगामध्ये एकमेकांकडे तोंड करून बसले आहेत. दोन्ही रांगामध्ये प्रत्येकी तीन जण आहेत. X चा शेजारी बसलेला P हा S च्या कर्णाभिमुख आहे. S हा Z च्या डावीकडे दुसऱ्या क्रमांकावर आहे. X हा कोणत्याही रांगेच्या शेवटी बसलेला नाही. R हा Z च्या शेजारी आहे. X आणि S ची जागेची अदलाबदल केल्यानंतर नव्या ठिकाणी S चा शेजारी कोण असतील?
	A.P आणि Q
	B.Z आणि Q
	C.P आणि R
	D.वरीलपैकी काहीही नाही
Answer:	A.P आणि Q

Reference ID:(24686)	प्रश्नातील वाक्यात रिक्ामी जागा भरण्यास सर्वात योग्य शब्द निवडा. पंचनामे झाल्यावर नुकसान भरपाईचाशासनाकडे पाठवण्यात आला.
	A.प्रक्षालन
	B.प्रजन
	C.प्रस्ताव
	D.प्रसरण
Answer:	C.प्रस्ताव

Reference ID:(34918)	जर $16 \times 3 = 2304$, $7 \times 9 = 3969$, आणि $5 \times 3 = 225$, तर $2 \times 2 = ?$
	A.16
	B.32
	C.28
	D.24
Answer:	A.16

Reference ID:(28362)	Find the meaning of the highlighted word in the sentence: Travel can be an escape from the routine drudgery of life.
	A.Entertainment
	B.Fun
	C.Slavery
	D.Party
Answer:	C.Slavery
Reference ID:(17101)	$12/20 + 5.5 - 5/40 = ?$
	A.5.6
	B.6.225
	C.5.975
	D.7.9
Answer:	C.5.975
Reference ID:(20500)	जर NK = 3, HK = -3, तर MJ =
	A.3
	B.-3
	C.4

D.0

Answer: A.3

Reference ID:(17890) X हा Y हून 350% नी मोठा आहे. मग Y हा X हून _____ % लहान आहे.

A.66.66

B.250

C.23.33

D.77.77

Answer: D.77.77

Reference ID:(16874) $15/25 + 0.5 - 5/40 = ?$

A.0.975

B.0.625

C.0.875

D.1.55

Answer: A.0.975

Reference ID:(24659) प्रश्नातील वाक्यात रिकामी जागा भरण्यास सर्वात योग्य शब्द निवडा.
राज्यकर्त्यांनी विकासाचा कितीहीकेला, तरी जनतेला सत्य कळत असते.

A.भाव

B.जीव

C.कीव

D.आव

Answer: D.आव

Reference ID:(26509) मासे, सरपटणारे प्राणी आणि पक्षी _____ ची उदाहरणे आहेत.

A.अपृष्ठवंशीय प्राणी

B.पृष्ठवंशीय प्राणी

C.सस्तन प्राणी

D.सील

Answer: A.अपृष्ठवंशीय प्राणी

Reference ID:(33403) भारताद्वारे बांग्लादेशाला भाडेपट्टीने दिलेला "तीन बीघा" _____ चा भाग होता.

A.पश्चिम बंगाल

B.आसाम

C.त्रिपुरा

D.मेघालय

Answer: A.पश्चिम बंगाल

Reference ID:(30648) Convert the following active to passive voice: The traffic might have delayed Jimmy

A.Jimmy is being delayed by the traffic

B.Jimmy might have been delayed by the traffic

C.The traffic is delaying Jimmy

D.Jimmy is to have been delayed by the traffic

Answer:

B.Jimmy might have been delayed by the traffic

Reference ID:(30140)

Find the word opposite in meaning to the word: **Latter**

A.Last

B.Prior

C.Tea

D.Lag

Answer:

B.Prior

Reference ID:(17128)

खालील पर्यायांपैकी दुसऱ्या क्रमांकाचा सर्वात मोठा कोण आहे?

A.350 चे 40%

B.1300 चा 1/4

C.0.35 × 900

D.800 चा 2/5

Answer:

D.800 चा 2/5

Reference ID:(27881)

Pick the correct meaning of the highlighted idiom or phrase from the following:
We **had to pay through the nose** for her master's degree.

A.A lot of money, more than a fair sum

B.In a quick matter of time

C.Pay without any difficulty

D.Pay with great expectations

Answer: A.A lot of money, more than a fair sum

Reference ID:(23670) खालीलपैकी समानार्थी शब्दाची बरोबर जोडी ओळखा

A.इहलोक - परलोक

B.बिकट - सुलभ

C.कपट - डाव

D.शीघ्र - मंद

Answer: C.कपट - डाव

Reference ID:(17382) $13.25 + 12.55 + 4.75 - (5.25 - 8.75 + 2.25) = \underline{\quad}$

A.31.55

B.32.15

C.31.8

D.31.65

Answer: C.31.8

Reference ID:(29124)

Pick the right meaning of the highlighted word in the sentence:
Although their small island was untouched the trees and jungle beyond were **decimated**

A.When something subsides

B.Creation of something

C.To be destroyed by something

D.Something which is created by being patched up

Answer:

C.To be destroyed by something

Reference ID:(22805)

जर \$ आहे '+' आणि @ आहे '-', तर खालीलपैकी सर्वात मोठा पर्याय कोणता आहे ?

A.152 \$ 65 \$ 32 @ 74 @ 105 \$ 93 @ 42 @ 37

B.48 @ 17 @ 52 @ 35 \$ 156 \$ 104 @ 34 @ 74

C.19 \$ 15 \$ 42 @ 45 @ 36 \$ 103 @ 42 @ 507

D.144 \$ 67 \$ 52 @ 35 \$ 56 @ 104 \$ 44 \$ 13

Answer:

D.144 \$ 67 \$ 52 @ 35 \$ 56 @ 104 \$ 44 \$ 13

Reference ID:(18471)

खालीलपैकी कोणते वाक्य संयुक्त वाक्य आहे?

A.त्याने अनेक ग्रंथ वाचले परंतु त्याला एकही ग्रंथ अक्वल दर्जाचा वाटला नाही.

B.आज थंडी जरा जास्तच आहे.

C.तो परीक्षेत उत्तीर्ण झाला.

D.संजय खेळता खेळता पडला.

Answer:

A.त्याने अनेक ग्रंथ वाचले परंतु त्याला एकही ग्रंथ अक्वल दर्जाचा वाटला नाही.

Reference ID:(26508)	खालीलपैकी कोणत्या झाडाचे लाकूड चांगल्या दर्जाचे फर्निचर बनवण्यासाठी मोठी मागणी असलेले लाकूड आहे?
	A.सागाचे झाड
	B.आंबाचे झाड
	C.कडुलिंबाचे झाड
	D.चिंचाचे झाड
Answer:	A.सागाचे झाड
Reference ID:(20727)	जर US = 310, R E D = 954, A W A Y = 1517, तर C L O S E = __?
	A.12136105
	B.33815
	C.336105
	D.3361014
Answer:	C.336105
Reference ID:(28897)	Fill in the blanks with simple past or past perfect tense of the verbs: When the airplane____, the pilot ____ that a shell ____ one of the wings.
	A.Had landed..... found..... had damaged
	B.Landed..... had found..... damaged
	C.Has landed..... finds..... has damaged
	D.Had landed..... finds..... has damaged

Answer:	A.Had landed..... found..... had damaged
Reference ID:(30394)	Pick the correct meaning of the highlighted idiom: His grandfather passed away in the early hours of the morning.
	A.To die
	B.To go on a holiday
	C.To recover from bad health
	D.To settle one's difference
Answer:	A.To die
Reference ID:(22551)	खालीलपैकी सर्वात मोठा पर्याय कोणता आहे ?
	A.25 - 22 - 35 + 72 + 202 - 83 + 45 + 27
	B.48 - 27 - 25 + 32 - 221 + 204 + 44 + 72
	C.29 + 22 - 25 + 42 + 31 - 203 + 45 + 207
	D.44 + 17 - 25 - 32 - 21 + 204 - 44 - 23
Answer:	A.25 - 22 - 35 + 72 + 202 - 83 + 45 + 27
Reference ID:(27373)	Identify the figure of speech in the following sentence: He is a shining star.
	A.Personification
	B.Metaphor
	C.Apostrophe
	D.Euphemism

Answer:	B.Metaphor
Reference ID:(30113)	Find the meaning of the highlighted word in the sentence: Last year the company seemed invincible but in recent weeks has begun to have problems.
	A.Breakable
	B.Vulnerable
	C.Beatable
	D.Indomitable
Answer:	D.Indomitable
Reference ID:(33407)	प्रथम संस्कृत व्याकरण पुस्तक 'अष्टध्यायी' _____ यांनी लिहिले होते.
	A.बाणभट्ट
	B.पाणिनि
	C.सूरदास
	D.तुलसीदास
Answer:	B.पाणिनि
Reference ID:(27854)	Pick the correct meaning of the highlighted idiom or phrase from the following: He held back the main information about the robbery from the police.
	A.Not share

B.Refuse to give

C.To hesitate to proceed

D.Forget to give

Answer: A.Not share

Reference ID:(30621) Identify the word that's closest in meaning to the word: Obscure

A.Crystal

B.Eternal

C.Unclear

D.Unwell

Answer: C.Unclear

Reference ID:(19741) "गरज सरो अन वैद्य मरो" या म्हणीचा अर्थ खालीलपैकी कोणता ते ओळखा?

A.एखाद्याची गरज संपल्यावर त्याची विचारपूस देखील कधी करू नये

B.एखाद्याच्या मुखातून सारखे अमंगल शब्द निघणे

C.आपलाच शहाणपणा आपल्यालाच नडणे

D.मुळीच हट्ट न सोडणे

Answer: A.एखाद्याची गरज संपल्यावर त्याची विचारपूस देखील कधी करू नये

Reference ID:(23697) 'अनास्था' या शब्दाचा विरुद्धार्थी शब्द ओळखा.

A.आसक्ती

B.पर्वा

C.आवश्यक

D.बेसावध

Answer: B.पर्वा

Reference ID:(21716) जर A = 1, B = 2, C = 3, Z = 26, तर खालील पैकी कोणते पर्याय बरोबर आहे?

A.{H + A + V + E} = {F + L + E + W}

B.{H + A + V + E} < {F + L + E + W}

C.{H + A + V + E} > {F + L + E + W}

D.{F + L + E + W} = {A + W + A + Y}

Answer: B.{H + A + V + E} < {F + L + E + W}

Reference ID:(24405) खालीलपैकी व्याकरणाच्या दृष्टीने अशुद्ध शब्द-लेखन असलेला शब्द ओळखा.

A.पंचतारांकित

B.उपनिषद

C.गूरूकिल्ली

D.धीरगंभीर

Answer: C.गूरूकिल्ली

Reference ID:(17609) $9.55 + 15.95 + 13.75 - (2.75 + 3.5 - 4.75 + 0.5) = \underline{\hspace{2cm}}$

A.37.25

B.37.1

C.37

D.37.6

Answer: A.37.25

Reference ID:(33402) चंदीगड मधील "रॉक गार्डन" चे संस्थापक कोण आहेत?

A.नेक चंद

B.चंद्रगुप्त

C.अर्जन देव

D.अमरिंदर सिंग

Answer: A.नेक चंद

Reference ID:(17636) 39 च्या $\frac{1}{6}$ + 25 च्या 30% च्या 200% + $0.40 \times 140 =$ _____

A.79

B.79.5

C.77.5

D.76.75

Answer: C.77.5

Reference ID:(29859)

Pick the Synonym for the word:
Rebuke

A.Admonish

B.Approve

C.Tribute

D.Acclaim

Answer:

A.Admonish

Reference ID:(31946)

बोकारो स्टील प्लांट _____ मध्ये स्थित आहे.

A.छत्तीसगढ

B.आसाम

C.पश्चिम बंगाल

D.झारखंड

Answer:

D.झारखंड

Reference ID:(26504)

जगात रामसर करार कोणता वर्षी अस्तित्वात आला?

A.1969

B.1971

C.1981

D.1984

Answer:

B.1971

Reference ID:(23924)

खालीलपैकी विरुध्दार्थी शब्दाची बरोबर जोडी ओळखा.

A.दिवस x वार

B.दूध x पेय

C.उपकार x अपकार

D.देऊळ x मंदिर

Answer:

C.उपकार x अपकार

Reference ID:(33401)

भारतातील सर्वात मोठे जूट उत्पादक राज्य _____ आहे.

A.गुजरात

B.पश्चिम बंगाल

C.महाराष्ट्र

D.उत्तर प्रदेश

Answer:

B.पश्चिम बंगाल

Reference ID:(27019)

Select the correct passive voice form of the sentence: The ladies served the refreshment.

A.The ladies is serving the refreshment

B.The refreshment is being served by the ladies

C.The refreshment was served by the ladies

D.Serving of the refreshment is being done by the ladies

Answer:

C.The refreshment was served by the ladies

Question Paper Title : FG_15

Date of Exam : 18-06-2019 10:00 AM

Reference ID:(25418) कित्येक या शब्दाचा खालीलपैकी योग्य संधी विग्रह ओळखा.

A.किती + एक

B.कि + त्येक

C.किती + ऐक

D.कि + एक

Answer: A.किती + एक

Reference ID:(31920) गारो, खासी आणि जेंतिया टेकड्या भारताच्या कोणत्या राज्यात आहेत?

A.जम्मू-काश्मीर

B.मेघालय

C.मणिपूर

D.उत्तराखंड

Answer: B.मेघालय

Reference ID:(18214) बोध खलास न रुचे अहिमुखी दुग्ध होय गरल |
ह्या पंक्तिमधील अलंकार ओळखा.

A.अर्थान्तरन्यास

B.भ्रान्तिमान

C.व्यतिरेक

D.अनन्वय

Answer:

A.अर्थान्तरन्यास

Reference ID:(27397)

Identify the figure of speech in the following sentence: Oh Christmas tree; how beautifully decorated you are.

A.Personification

B.Simile

C.Apostrophe

D.Euphemism

Answer:

C.Apostrophe

Reference ID:(28640)

Pick the right idiom which fits into the sentence: His words should always be taken

A.In cold blood

B.With a grain of salt

C.On the cards

D.Like a rolling stone

Answer:

B.With a grain of salt

Reference ID:(27624)

Identify the figure of speech in the following sentence: I let out a silent scream when I the dog almost jumped on me.

A.Personification

B.Euphemism

C.Oxymoron

D.Metaphor

Answer:

C.Oxymoron

Reference ID:(27878)

Pick the correct meaning of the highlighted idiom or phrase from the following:
He is **hoping against hope** to get promoted this year.

A.Have hope when there are less chances

B.Not be too positive about something or someone

C.Betting on hard work

D.Hoping to be lucky

Answer:

A.Have hope when there are less chances

Reference ID:(29148)

Pick the right meaning of the highlighted word in the sentence:
He stole a **covert** glance at her across the table.

A.Something hidden or secret

B.Something visible to everyone

C.Something exposed for everyone to know

D.An obvious fact

Answer:

A.Something hidden or secret

Reference ID:(20724)

जर OK = 62, C A T = 312, M A C E = 4135, तर H U R R Y = ___?

A.812997

B.839951

C.83997

D.839915

Answer:

C.83997

Reference ID:(20216)

X चे दक्षिण दिशेला तोंड आहे. तो 45 अंश उजवीकडे वळतो. मग तो 90 अंश उजवीकडे वळतो. मग तो 180 अंश वळतो. मग तो 45 अंश उजवीकडे वळतो. शेवटी तो डावीकडे 90 अंश वळतो. आता तो कोणत्या दिशेला तोंड करून उभा आहे?

A.पूर्व

B.पश्चिम

C.उत्तर

D.दक्षिण

Answer:

A.पूर्व

Reference ID:(30110)

Find the meaning of the highlighted word in the sentence: She was **harsh** to the servants.

A.Rude

B.Sweet

C.Calm

D.Friendly

Answer:

A.Rude

Reference ID:(21232)	जर SUPERDRY हा शब्द EPUSYRDR असेल आणि COMPUTER हा शब्द PMOCRETU असेल, तर CUCUMBER हा शब्द _____ असेल.
	A.REBMCUCU
	B.CUCUREBM
	C.REBMUCUC
	D.UCUCREBM
Answer:	D.UCUCREBM
Reference ID:(18468)	सकाळी आठ वाजले. मी बाहेर जाण्याच्या तयारीला लागलो. या दोन वाक्यांचे एक संयुक्त वाक्य बनवायचे असल्यास खालीलपैकी कोणता पर्याय योग्य ठरेल?
	A.सकाळी आठ वाजले आणि मी बाहेर जाण्याच्या तयारीला लागलो.
	B.सकाळी आठ वाजता मी बाहेर जाण्याच्या तयारी लागलो.
	C.सकाळी आठ वाजतील तेव्हा मी बाहेर जाण्याच्या तयारीला लागेन.
	D.सकाळी आठपासूनच मी बाहेर जाण्याच्या तयारीला लागलो.
Answer:	A.सकाळी आठ वाजले आणि मी बाहेर जाण्याच्या तयारीला लागलो.
Reference ID:(23948)	खालीलपैकी विरुद्धार्थी शब्दाची चुकीची जोडी ओळखा.
	A.सोने x कनक
	B.हर्ष x खेद
	C.स्वर्ग x नरक
	D.स्वतंत्र x परतंत्र
Answer:	A.सोने x कनक

Reference ID:(16544)	जर @ आहे 'भागाकार' आणि \$ आहे 'गुणाकार', तर खालीलपैकी सर्वात लहान पर्याय कोणता आहे?
	A.49@5
	B.3.5\$4.5
	C.33@4
	D.3.75\$4.5
Answer:	C.33@4
Reference ID:(29629)	Pick the Synonym for the word: obscure
	A.Unclear
	B.Bright
	C.Direct
	D.Explicit
Answer:	A.Unclear
Reference ID:(31916)	'नामदफा राष्ट्रीय उद्यान' कोणत्या राज्यात आहे?
	A.अरुणाचल प्रदेश
	B.उत्तर प्रदेश
	C.मध्य प्रदेश
	D.आंध्र प्रदेश
Answer:	A.अरुणाचल प्रदेश

Reference ID:(18241)

जो तोषवी स्वजनकास सुपुत्र तोच,
जे दे पतीस सुख फार कलत्र तेच, ॥
जो एकरूप सुखदुःखपणी गडी तो;
हा लाभ पुर्वसुकृताविण काय होतो ?

वरील ओळीतील वृत्त कोणते?

A. नववधू

B. भुजंगप्रयात

C. पादाकुलक

D. वसंततिलका

Answer:

D. वसंततिलका

Reference ID:(33172)

कोणते मराठी वर्तमानपत्र बाळ गंगाधर टिळकांद्वारे प्रकाशित झाले होते?

A. सकाळ

B. दर्पण

C. केसरी

D. नव सत्यम

Answer:

C. केसरी

Reference ID:(25191)

"गणेशोत्सव" या शब्दाचा खालीलपैकी योग्य संधी विग्रह ओळखा.

A. गन + इश + उत्सव

B. गण + ईश + ऊत्सव

C. गण + ईश + उत्सव

D.गणेशो + उत्सव

Answer: C.गण + ईश + उत्सव

Reference ID:(29856) Pick the Synonym for the word:
perilous

A.Dangerous

B.Beneficial

C.Good

D.Innocent

Answer: A.Dangerous

Reference ID:(21459) जर ZUCHINNI हा शब्द BWEJKPPK असेल, तर MULBERRY हा शब्द _____ असेल.

A.OWNFGTTA

B.OWOGHTTA

C.OWNDGTTA

D.OWNDHTTA

Answer: C.OWNDGTTA

Reference ID:(33170) सिंधु खोरे संस्कृतीशी संबंधित असलेले _____ हे शहर गुजरातच्या वर्तमान स्थानात आहे.

A.मेहरगढ

B.लोथल

C.मोहेंजोदडो

D.हडप्पा

Answer:

B.लोथल

Reference ID:(29121)

Pick the right meaning of the highlighted word in the sentence:
He was in a state of physical suffering as if from **corporal** punishment.

A.A ghostly form of punishment

B.A form of mental torture

C.A punishment given out by someone from the army

D.A form of physical punishment

Answer:

D.A form of physical punishment

Reference ID:(22248)

खालीलपैकी सर्वात मोठा पर्याय कोणता आहे ?

A. $22 - 11 + 72 - 45 + 65 + 13 - 42 - 57$

B. $118 - 17 + 52 - 35 + 156 - 104 + 44 + 37$

C. $79 - 45 - 162 - 45 - 36 + 103 - 42 - 17$

D. $38 + 107 + 52 + 35 + 56 - 104 - 144 + 7$

Answer:

B. $118 - 17 + 52 - 35 + 156 - 104 + 44 + 37$

Reference ID:(33168)

भारतातील केंद्रीय यांत्रिक अभियांत्रिकी संशोधन (CSIR- Central Mechanical Engineering Research Institute) संस्था कोठे आहे?

A.दुर्गापुर

B.कोलकाता

C.सिलीगुड़ी

D.रांची

Answer:

A.दुर्गापुर

Reference ID:(33175)

सूरत हे _____ नदीच्या काठावर वसलेले आहे.

A.नर्मदा

B.गोदावरी

C.माही

D.तापी

Answer:

D.तापी

Reference ID:(30618)

Pick the correct meaning of the highlighted idiom: Ravi **carried the day** during the college fest.

A.To lose

B.To win

C.To compete against someone

D.To work hard

Answer:

B.To win

Reference ID:(20951)	मालिकेतील रिकामी जागा भरा: A, B, __, C, I, D, O, F, U
	A.E
	B.F
	C.J
	D.K
Answer:	A.E
Reference ID:(24429)	खालीलपैकी व्याकरणाच्या दृष्टीने शुध्द वाक्याचा पर्याय निवडा.
	A.तात्यांना हृदयविकाराचा झटका आला.
	B.मला खूप पच्छाताप झाला.
	C.पदोनती मिळून ते सहसचिव झाले.
	D.अर्थशास्त्र हा क्लिष्ट विषय आहे.
Answer:	A.तात्यांना हृदयविकाराचा झटका आला.
Reference ID:(20470)	X चे उत्तर दिशेला तोंड आहे.तो 45 अंश डावीकडे वळतो. मग तो 45 अंश उजवीकडे वळतो. मग तो 180 अंश वळतो. मग तो 90 अंश उजवीकडे वळतो. शेवटी तो डावीकडे 90 अंश वळतो. आता तो कोणत्या दिशेला तोंड करून उभा आहे?
	A.पश्चिम
	B.दक्षिण
	C.पूर्व
	D.उत्तर
Answer:	B.दक्षिण

Reference ID:(19203)	खालील शब्दाचा समास / समास प्रकार ओळखा. कृष्णश्रित
	A. बहुव्रीहि
	B. द्वितीय तत्पुरुष
	C. कर्मधारय
	D. द्विगु
Answer:	B. द्वितीय तत्पुरुष
Reference ID:(17352)	$4.55 + 5.5 + 3.25 - (4.5 - 2.75 - 2.25) = \underline{\quad}$
	A. 14.15
	B. 13.8
	C. 13.65
	D. 13.55
Answer:	B. 13.8
Reference ID:(30391)	Pick the correct meaning of the highlighted idiom: He laid aside his professional duties for a while to be with his ailing mother.
	A. To exhaust
	B. To abandon
	C. To put aside for a short while
	D. To store for future use

Answer:	C.To put aside for a short while
Reference ID:(29602)	Pick the right meaning of the highlighted word in the sentence: The story about the house was an ancient parable it was said.
	A.A fairy tale or story
	B.Reality about something
	C.Factual information about something
	D.To be calm about something
Answer:	A.A fairy tale or story
Reference ID:(24683)	प्रश्नातील वाक्यात रिकामी जागा भरण्यास सर्वात योग्य शब्द निवडा. आंतरराष्ट्रीय क्रीडा विश्वातील एकखेळाडू म्हणून सचिनचे नाव घेतले जाते.
	A.नावीन्य
	B.आरण्य
	C.अग्रगण्य
	D.अग्रोदक
Answer:	C.अग्रगण्य
Reference ID:(28132)	Find the meaning of the highlighted word from the sentence: Peter had earlier made a dive of 80 feet from the bridge over the chasm
	A.Peak
	B.Closure
	C.Gorge
	D.Solid ground

Answer: C.Gorge

Reference ID:(24402) खालीलपैकी व्याकरणाच्या दृष्टीने अशुद्ध शब्द-लेखन असलेला शब्द ओळखा.

A.शोचनीय

B.तिक्ष्ण

C.अतिप्रसंग

D.बहीणभावंडे

Answer: B.तिक्ष्ण

Reference ID:(21486) जर A = 1, B = 2,M = 13; आणि N = 13, O = 12, Z = 1, तर खालील पैकी कोणते पर्याय बरोबर आहे?

A.{T + R + Y} < {J + A + C + K}

B.{T + R + Y} = {J + A + C + K}

C.{T + R + Y} > {J + A + C + K}

D.{T + R + Y} = {B + A + L + L}

Answer: A.{T + R + Y} < {J + A + C + K}

Reference ID:(17379) $7.5 + 8.15 + 0.55 - (2.5 - 4.5 - 2 + 1.5) = \underline{\hspace{2cm}}$

A.18.45

B.19.05

C.18.7

D.18.55

Answer: C.18.7

Reference ID:(20978) मालिकेतील रिकामी जागा भरा: U T S _ Q

A.R

B.P

C.V

D.W

Answer: A.R

Reference ID:(19484) प्रश्नात दिलेल्या वाक्प्रचाराचा योग्य वापर असलेले वाक्य पर्यायांमधून ओळखा. जिवाचे कान करून ऐकणे

A.माझे हरवलेले कानातले मी जिवाचे कान करून शोधले.

B.सर धडा शिकवत असताना सोहान जिवाचे कान करून ऐकत असतो.

C.बाबांनी दिलेल्या सूचना जिवाचे कान करून ऐकल्यामुळे मनोहरला काहीच समजले नाही.

D.विनयने जिवाचे कान करून पैसा गोळा केला होता.

Answer: B.सर धडा शिकवत असताना सोहान जिवाचे कान करून ऐकत असतो.

Reference ID:(18722) आजी रामायण वाचत होती. हे वाक्य पुढीलपैकी कोणत्या काळात आहे?

A.साधा भूतकाळ

B.पूर्ण भूतकाळ

C.अपूर्ण भूतकाळ

D.रिती भूतकाळ

Answer:

C.अपूर्ण भूतकाळ

Reference ID:(24937)

पुढील शब्दसमूहासाठी योग्य शब्द निवडा.
लढण्याची इच्छा असणारा

A.युतुत्सु

B.वैष्णव

C.अजिंक्य

D.मारेकरी

Answer:

**** THIS QUESTION IS DISCARDED ****

Reference ID:(26272)

परिसंस्थेचा सजीव भाग _____ म्हणून संदर्भित आहे.

A.अजैविक घटक

B.जैविक घटक

C.सेंद्रिय घटक

D.असेंद्रिय घटक

Answer:

B.जैविक घटक

Reference ID:(28894)

Fill in the blanks with simple past or past perfect tense of the verbs: She ____ her doctorate before she ____ married.

A.Had received..... got

B.Received..... get

C.Had received..... gets

D.Receives..... gets

Answer: A.Had received..... got

Reference ID:(22802) जर \$ आहे '+' आणि @ आहे '-', तर खालीलपैकी सर्वात मोठा पर्याय कोणता आहे ?

A.12 @ 55 \$ 62 @ 45 @ 65 \$ 103 @ 42 @ 57

B.18 @ 17 \$ 52 @ 35 \$ 56 @ 104 \$ 44 \$ 38

C.19 @ 15 \$ 162 @ 45 @ 36 @ 103 @ 42 @ 17

D.38 @ 107 \$ 52 \$ 35 \$ 56 @ 104 \$ 44 \$ 37

Answer: B.18 @ 17 \$ 52 @ 35 \$ 56 @ 104 \$ 44 \$ 38

Reference ID:(19965)

पुढील विधानाला जी म्हण योग्य असेल असा पर्याय ओळखा:
मीनलने दिवाळीत मैत्रिणीला आकाशकंदील बनवून भेट द्यावा असे आईने सुचवले. मीनल म्हणाली 'जर तो चांगला नाही बनला तर?' त्यावर आई म्हणाली अगं प्रयत्न तर कर. '...' . नाही तर तो कंदील आपल्या घरी लावू.

A.राजाला दिवाळी काय कामाची

B.शेंडी तुटो की पारंबी तुटो

C.गाजराची पुंगी, वाजली तर वाजली नाही तर मोडून खाल्ली

D.चांगल्या कामाचा प्रारंभ स्वतःच्या घरापासून व्हावा

Answer: C.गाजराची पुंगी, वाजली तर वाजली नाही तर मोडून खाल्ली

Reference ID:(27851)

Pick the correct meaning of the highlighted idiom or phrase from the following:
When he finally got a job after his accident without any help, he realized **every cloud does have a silver lining**.

A.Be optimistic even in difficult times

B.Be sure of the weather before you step out

C.Never give out all your secrets

D.Good days balance bad days.

Answer: A.Be optimistic even in difficult times

Reference ID:(18976) खालील शब्दाचा समास / समास प्रकार ओळखा.
पतीपत्नी

A.द्विगू

B.अव्ययीभाव

C.तत्पुरुष

D.इतरेतर द्वंद्व

Answer: D.इतरेतर द्वंद्व

Reference ID:(23921) खालीलपैकी विरुद्धार्थी शब्दाची बरोबर जोडी ओळखा.

A.काळोख x अंधार

B.खल x दुष्ट

C.आशा x निराशा

D.घर x सदन

Answer: C.आशा x निराशा

Reference ID:(28105) Find the meaning of the highlighted word in the sentence: Try making notes of things that **annoy** you.

A.Charm

B.Irritate

C.Appease

D.Cheer

Answer:

B.Irritate

Reference ID:(35169)

खाली दिलेल्या पत्त्यापैकी 3 पत्ते समान आहेत आणि 1 भिन्न आहे. कोणता पत्ता भिन्न ते ओळखा?

A.B-401, Arya Residency, Sarbhaal
Jharsuguda
ORISSA
PH 0302100503

B.B-401, Arya Residency, Sarbahal
Jharsuguda
ORISSA
PH 0302100503

C.B-401, Arya Residency, Sarbahal
Jharsuguda
ORISSA
PH 0302100503

D.B-401, Arya Residency, Sarbahal
Jharsuguda
ORISSA
PH 0302100503

Answer:

A.B-401, Arya Residency, Sarbhaal
Jharsuguda
ORISSA
PH 0302100503

Reference ID:(33176)

पुढीलपैकी कोणते राज्य व केंद्रशासित प्रदेश 'फ्रेंच रिवेरा ऑफ द ईस्ट' म्हणून ओळखले जाते?

A.दमण आणि दीव

B.पुडुचेरी

C.गोवा

D.चंदीगढ

Answer: B.पुडुचेरी

Reference ID:(33169) "फुलकारी"- फुल प्रिंट भारताच्या कोणत्या राज्यातील प्रसिद्ध आहे?

A. पंजाब

B.हिमाचल प्रदेश

C.उत्तराखंड

D.जम्मू-कश्मीर

Answer: A. पंजाब

Reference ID:(16517) सहा जण A , B , C , D , E आणि F हे दोन रांगामध्ये एकमेकांकडे तोंड करुन बसले आहेत. दोन्ही रांगामध्ये प्रत्येकी तीन जण आहेत. E हा कोणत्याही रांगेच्या शेवटी बसलेला नाही. D हा F च्या डावीकडे दुसऱ्या क्रमांकावर आहे. E चा शेजारी बसलेला A हा D च्या कर्णाभिमुख आहे. C हा F च्या शेजारी आहे. खालीलपैकी कोण एकाच रांगेत आहेत?

A.A आणि F

B.F आणि B

C.E आणि D

D.D आणि C

Answer: D.D आणि C

Reference ID:(19711)	पुढील म्हण पूर्ण करण्यासाठी योग्य पर्याय निवडा. कावळा बसायला अन ___ तुटायला.
	A.घरटी
	B.छप्पर
	C.काठी
	D.फांदी
Answer:	D.फांदी
Reference ID:(24910)	पुढील शब्दसमूहासाठी योग्य शब्द निवडा. जगाचे नियंत्रण करणारा
	A.जगनिवारक
	B.जगन्नियंता
	C.जगन्नाथ
	D.जीवनकर्ता
Answer:	B.जगन्नियंता
Reference ID:(31918)	लोकसभेचे प्रथम सभापती कोण होते?
	A.जी. व्ही. मावळणकर
	B.सुमित्रा महाजन
	C.सोमनाथ चटर्जी
	D.हुकुम सिंह
Answer:	A.जी. व्ही. मावळणकर

Reference ID:(33173)

कोणत्या शहराला भारताचे 'इलेक्ट्रॉनिक शहर' म्हटले जाते?

A.मुंबई

B.हैद्राबाद

C.बेंगळुरू

D.गुरूग्राम

Answer:

C.बेंगळुरू

Reference ID:(17633)

42 च्या $\frac{1}{12}$ + 40 च्या 15% + $0.30 \times 120 = \underline{\hspace{2cm}}$

A.47

B.47.5

C.45.5

D.44.75

Answer:

C.45.5

Reference ID:(31919)

महाराष्ट्रातील कृष्णा नदी हि _____ नदी आहे?

A.उत्तर वाहिनी

B.पूर्व वाहिनी

C.पश्चिम वाहिनी

D.दक्षिण वाहिनी

Answer:

B.पूर्व वाहिनी

Reference ID:(26280)	जगातील पहिले राष्ट्रीय उद्यान खालीलपैकी कोणते आहे?
	A.येलोस्टोन नॅशनल पार्क
	B.मानस राष्ट्रीय उद्यान
	C.कॉर्बेट राष्ट्रीय उद्यान
	D.माऊंट केनिया राष्ट्रीय उद्यान
Answer:	A.येलोस्टोन नॅशनल पार्क
Reference ID:(34942)	जर 15 (252)18; 13 (108) 9; तर 22 (?) 28. "?" च्या मूल्य शोधा
	A.558
	B.685
	C.588
	D.587
Answer:	C.588
Reference ID:(20497)	जर MJ = 3, XC = 21, तर GZ =
	A.19
	B.18
	C.-19
	D.-18

Answer:

C.-19

Reference ID:(31917)

भारतीय संविधानाने कोणत्या देशाकडून सर्वोच्च न्यायालय प्रणाली घेतली आहे?

A.कॅनडा

B.युनायटेड किंगडम

C.ऑस्ट्रेलिया

D.युनायटेड स्टेट्स ऑफ अमेरिका

Answer:

D.युनायटेड स्टेट्स ऑफ अमेरिका

Reference ID:(26271)

पुढीलपैकी कोणती पारिस्थितिक संस्थेची मुख्य चालना आहे?

A.सौर ऊर्जा

B.ज्वारीय ऊर्जा

C.जलविद्युत ऊर्जा

D.औष्णिक ऊर्जा

Answer:

A.सौर ऊर्जा

Reference ID:(20243)	एक माणूस त्याच्या घरापासून दक्षिण दिशेने 12 कि.मी. चालतो. मग तो डावीकडे वळतो आणि 5 कि.मी. चालतो. मग तो उजवीकडे वळतो आणि 1 कि.मी. चालतो. मग तो उजवीकडे वळतो आणि 7 कि.मी. चालतो. मग तो उजवीकडे वळतो आणि 4 कि.मी. चालतो. मग तो उजवीकडे वळतो आणि 3 कि.मी. चालतो. मग तो डावीकडे वळतो आणि 5 कि.मी. चालतो. मग तो डावीकडे वळतो आणि 1 कि.मी. चालतो. तो त्याच्या घरापासून किती दूर आहे?
	A.4 कि.मी.
	B.2.5 कि.मी.
	C.2 कि.मी.
	D.3.5 कि.मी.
Answer:	A.4 कि.मी.
Reference ID:(28359)	Find the meaning of the word:: Drudgery
	A.Entertainment
	B.Fun
	C.Slavery
	D.Party
Answer:	C.Slavery
Reference ID:(31922)	भारतातील उंच धबधबापैकी एक जोग धबधबा हा कोणत्या नदीद्वारे बनलेला आहे?
	A.तुंगा नदी
	B.शरावती नदी
	C.मांडवी नदी

D.कावेरी नदी

Answer: B.शरावती नदी

Reference ID:(29375) Pick the right meaning of the highlighted word in the sentence:
Apparels are usually offered as small, medium or large.

A.A veil used to cover the face

B.A funny costume used at an event

C.A dress or clothing

D.Physical work

Answer: C.A dress or clothing

Reference ID:(33171) महाराष्ट्र दिवस कोणत्या दिवशी साजरा केला जातो?

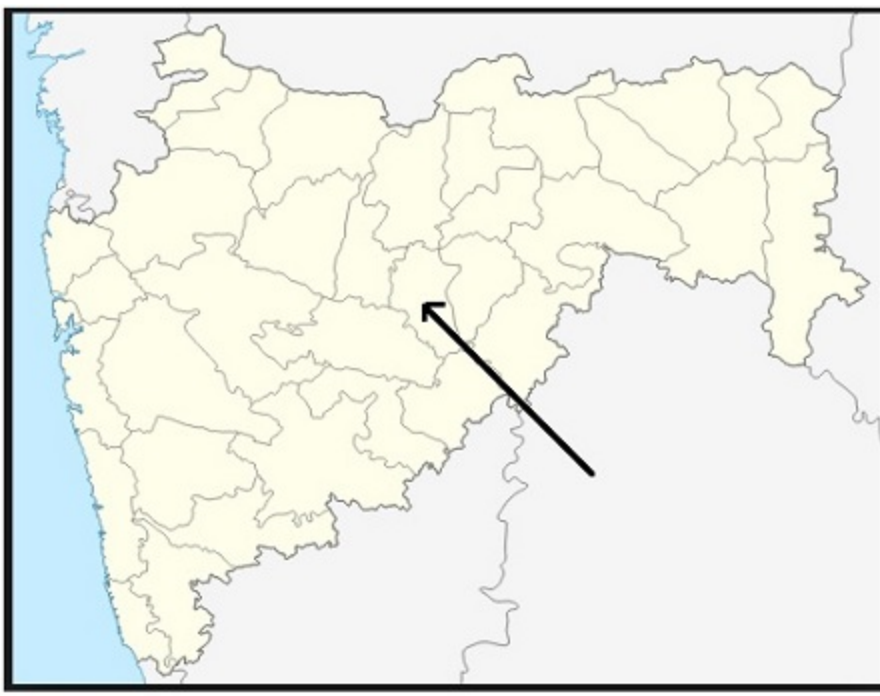
A.14 एप्रिल

B.19 मे

C.8 मार्च

D.1 मे

Answer: D.1 मे



महाराष्ट्रातील नकाशात बाणने दर्शविलेला जिल्हा खालीलपैकी कोणता आहे?

A.उस्मानाबाद

B.परभणी

C.पुणे

D.लातूर

Answer:

B.परभणी

खालीलपैकी प्रयोगाची अयोग्य जोडी ओळखा.

A.माझ्याकडून चहा घेतला गेला - नवीन कर्मणी प्रयोग

B.येथ अवधान एकले देईजे | - प्राचीन कर्मणी प्रयोग

C.आजी दृष्ट काढते - सकर्मक कर्तरी प्रयोग

D.विशालचा आंबा खाऊन झाला - शक्य कर्मणी प्रयोग

Answer:	D.विशालचा आंबा खाऊन झाला - शक्य कर्मणी प्रयोग
Reference ID:(17125)	खालील पर्यायांपैकी दुसऱ्या क्रमांकाचा सर्वात लहान कोण आहे?
	A. 350 चे 30%
	B.1300 चा 1/4
	C.0.35 × 900
	D.900 चा 2/5
Answer:	C.0.35 × 900
Reference ID:(28867)	Convert the simple sentence to a complex sentence: He is said to be a man of charming personality
	A.His personality is supposed to be charming
	B.It is said that he is a man of charming personality
	C.Charming personality is what he has
	D.A man of charming personality is what he is
Answer:	B.It is said that he is a man of charming personality
Reference ID:(27043)	Find the meaning of the highlighted word in the sentence: Amendments have been added to the bill to appease local pressure groups.
	A.Synergise
	B.Provoke
	C.Encourage
	D.Placate

Answer: D.Placate

Reference ID:(22576) खालीलपैकी सर्वात लहान पर्याय कोणता आहे ?

A. $152 + 65 + 32 - 74 - 105 + 93 - 42 - 37$

B. $48 - 17 - 52 - 35 + 156 + 104 - 34 - 74$

C. $19 + 15 + 42 - 45 - 36 + 103 - 42 - 507$

D. $144 + 67 + 52 - 35 + 56 - 104 + 44 + 13$

Answer: C. $19 + 15 + 42 - 45 - 36 + 103 - 42 - 507$

Reference ID:(28613) Pick the right idiom which fits into the sentence: He tried to put a _____ in my new project, but failed.

A. Wet blanket

B. Spoke in the wheel

C. Deaf ear

D. Weal and woe

Answer: B. Spoke in the wheel

Reference ID:(17606) $4.50 + 13.25 + 4.35 - (1.55 + 5.25 - 3.5) = \underline{\hspace{2cm}}$

A. 18.8

B. 18.65

C. 18.55

D.19.15

Answer: A.18.8

Reference ID:(22830) जर \$ आहे '+' आणि @ आहे '-', तर खालीलपैकी सर्वात लहान पर्याय कोणता आहे ?

A.52 \$ 55 \$ 32 @ 75 @ 105 \$ 83 @ 42 @ 57

B.48 \$ 17 \$ 52 @ 35 \$ 156 @ 104 @ 44 @ 71

C.19 @ 15 \$ 12 @ 45 @ 36 \$ 103 @ 42 @ 107

D.44 @ 67 \$ 52 \$ 35 \$ 56 @ 104 \$ 44 \$ 13

Answer: C.19 @ 15 \$ 12 @ 45 @ 36 \$ 103 @ 42 @ 107

Reference ID:(17860) 36 च्या $\frac{1}{8}$ + 12 च्या 20% + $0.25 \times 60 = \underline{\hspace{2cm}}$

A.23.4

B.23.9

C.21.15

D.21.9

Answer: D.21.9

Reference ID:(31923) नालंदा जिल्हा कोणत्या राज्यामध्ये स्थित आहे?

A.बिहार

B.पंजाब

C.हरियाणा

D.झारखंड

Answer: A.बिहार

Reference ID:(34915) जर $34 \times 13 = 195364$, $14 \times 19 = 70756$, आणि $15 \times 13 = 38025$, तर $2 \times 4 = ?$

A.60

B.64

C.52

D.56

Answer: B.64

Reference ID:(30137) Find the meaning of the highlighted word in the sentence: He addressed the crowd in a **jovial** manner.

A.Anguished

B.Sunny

C.Dejected

D.Unhappy

Answer: B.Sunny

Reference ID:(23440) 'तरु' या शब्दाचा समानार्थी शब्द ओळखा.

A.तलाव

B.वृक्ष

C.ओढा

D.झरा

Answer: B.वृक्ष

Reference ID:(28386) Find the meaning of the highlighted word in the sentence: She knew that her efforts to **feign** cheerfulness weren't convincing.

A.Fake

B.Demonstrate

C.Showcase

D.Generate

Answer: A.Fake

Reference ID:(16898) $16/20 + 4.5 - 5/40 = ?$

A.4.975

B.2.975

C.5.175

D.6.125

Answer: C.5.175

Reference ID:(30899)	You've been given a simple sentence. Select the appropriate complex sentence from the options below. He is angry. He is sad. He is confused. He doesn't know the reason for it.
	A.He doesn't know the reason why he is angry and sad and confused
	B.He is angry and sad and confused and he doesn't know why
	C.He does not know why he is angry, sad and confused
	D.That he is angry, sad and confused, he doesn't know the reason for it
Answer:	C.He does not know why he is angry, sad and confused
Reference ID:(26278)	पुढीलपैकी कोणता/ते घटक प्रजाती महा-विलुप्त होण्याचे कारण असू शकतात?
	A.लोकसंख्या वाढ
	B.औद्योगिकीकरण
	C.जमिनीच्या वापरांच्या स्वरूपातील बदल
	D.वरीलपैकी सर्व
Answer:	D.वरीलपैकी सर्व
Reference ID:(18749)	खाली दिलेल्या वाक्यांपैकी केवळ एका वाक्यामध्ये पूर्ण भूतकाळ आहे ते वाक्य कोणते?
	A.रावन वनात गेला होता.
	B.तो दररोज पुस्तके वाचत होता.
	C.आई मंदिरात जात होती.
	D.मुले नियमित शाळेत जात होती.
Answer:	A.रावन वनात गेला होता.

Reference ID:(26274)	पुढीलपैकी कोणत्या जमातीच्या बऱ्याच पिढ्यांनी काळवीट संरक्षित केले आहे?
	A.शोलास
	B.बिश्रोई
	C.गुज्जर
	D.टिहरी
Answer:	B.बिश्रोई
Reference ID:(16871)	$15/25 + 0.75 - 5/40 = ?$
	A.1.225
	B.0.875
	C.1.425
	D.1.45
Answer:	A.1.225
Reference ID:(27370)	Identify the figure of speech in the following sentence: That lawn is a green carpet.
	A.Hyperbole
	B.Euphemism
	C.Personification
	D.Metaphor
Answer:	D.Metaphor

Reference ID:(33174)	यूनेस्को हेरिटेज साइट "रानी की वाव" गुजरातच्या कोणत्या जिल्ह्यात आहे?
	A.भावनगर
	B.अमरेली
	C.पाटण
	D.भरूच
Answer:	C.पाटण
Reference ID:(19992)	"काष्ठ" या शब्दाचा समानार्थी शब्द ओळखा.
	A.झाड
	B.लाकूड
	C.प्राणी
	D.कावा
Answer:	B.लाकूड
Reference ID:(21713)	जर A = 1, B = 2, C = 3, Z = 26, तर खालील पैकी कोणते पर्याय बरोबर आहे?
	A.{L + I + K + E} = {P + L + A + Y}
	B.{L + I + K + E} < {B + A + L + L}
	C.{L + I + K + E} = {B + A + L + L}
	D.{B + A + L + L} = {R + E + D}

Answer: D. {B + A + L + L} = {R + E + D}

Reference ID:(23667) खालीलपैकी समानार्थी शब्दाची बरोबर जोडी ओळखा

- A. व्याघ्र - सिंह
- B. श्वान - मर्कट
- C. मत्स्य - वराह
- D. गाय - धेनू

Answer: D. गाय - धेनू

Reference ID:(26276) जीवांच्या विविधतेच्या संघटनात्मक पातळ्या _____ ह्या आहेत.

- A. आनुवंशिक
- B. प्रजाती
- C. परिसंस्था
- D. वरीलपैकी सर्व

Answer: D. वरीलपैकी सर्व

Reference ID:(24656) प्रश्नातील वाक्यात रिकामी जागा भरण्यास सर्वात योग्य शब्द निवडा.
नव्याने बांधण्यात आलेल्या मंदिरात देवाच्या मूर्तीची करण्यात येते.

- A. प्रतिष्ठापना
- B. प्रतिषिद्ध
- C. प्रतिक्षिप्त
- D. प्रतिपूर्ती

Answer:	A.प्रतिष्ठापना
Reference ID:(30645)	Convert the following active to passive voice: John will tell you later
	A.John was to tell you later
	B.You were told later by John
	C.You will be told later by John
	D.You were to have been told later by John
Answer:	C.You will be told later by John
Reference ID:(29883)	Pick the right antonym for the word: guileless
	A.Deceptive
	B.Genuine
	C.Honest
	D.Naïve
Answer:	A.Deceptive
Reference ID:(19230)	खसखस पिकणे. या वाक्प्रचाराचा खालीलपैकी कोणता अर्थ योग्य आहे?
	A.नारळातील खोबरे सुकल्यावर नारळ किसणे
	B.खसखशीचे पीक पिकणे
	C.डोक्यावरचे केस पांढरे होणे

D.मोठमोठ्याने हसणे

Answer: D.मोठमोठ्याने हसणे

Reference ID:(31924) महाराष्ट्र _____ ह्याच्या उत्तर-पश्चिम भागात वसलेले आहे.

A.माळवा पठार

B.दख्खन पठार

C.छोटा नागपूर पठार

D.मारवाड पठार

Answer: B.दख्खन पठार

Reference ID:(27016) Select the correct passive voice form of the sentence: The officers killed the mad dog.

A.The mad dog was killed by the officers

B.The officers are killing the mad dog

C.Killing of the mad dog is done by the officers

D.Has the mad dog being killed by the officers?

Answer: A.The mad dog was killed by the officers

Reference ID:(26279) 'मॉॅट्रिक्स नोंदी' मध्ये भारतातील किती दलदली क्षेत्राचा समावेश झालेला आहे?

A.2

B.3

C.5

D.7

Answer: A.2

Reference ID:(31921) 'गिर वन' जे आशियाई सिंहांचे घर आहे ते कोणत्या राज्यात स्थित आहे?

A.महाराष्ट्र

B.गुजरात

C.केरळ

D.आंध्र प्रदेश

Answer: B.गुजरात

Reference ID:(23694) 'संयोग' या शब्दाचा विरुद्धार्थी शब्द ओळखा.

A.वियोग

B.आयोग

C.सहयोग

D.नियोग

Answer: A.वियोग

Reference ID:(19457)	भगवंतरावांच्या घरी मोठी चोरी झाली परंतू त्यांनी आढल्याच दिवशी सर्व पैसे, दागिने बँकेत ठेवले होते. त्यामुळे चोराला हाती काहीच लागले नाही. यामुळे चोर चरफडत राहिला. हे स्पष्ट करण्यासाठी खालीलपैकी कोणता वाक्प्रचार वापरावा लागेल.
	A.चोराने हार खाल्ली.
	B.चोराचे हात पाय गळले.
	C.चोराने हात पाय टेकले.
	D.चोराने हात चोळणे.
Answer:	D.चोराने हात चोळणे.
Reference ID:(19738)	"घेता दिवाळी, देता शिमगा" या म्हणीचा अर्थ खालीलपैकी कोणता ते ओळखा?
	A.दिवाळीत भेटवस्तू देणारे नातेवाईक पैसे खर्च झाले म्हणून नंतर बोंबा मारतात
	B.कमाई कमी आणि खर्च जास्त होणे
	C.घेताना आनंद होतो, पण परत द्यायच्या वेळेस मात्र बोंबाबोंब
	D.खूप घाई करणे
Answer:	C.घेताना आनंद होतो, पण परत द्यायच्या वेळेस मात्र बोंबाबोंब
Reference ID:(33177)	राजस्थानमध्ये डेजर्ट फेस्टिवल(मरु महोत्सव) _____ येथे आयोजित केला जातो.
	A.जयपूर
	B.कोटा
	C.बीकानेर
	D.जैसलमेर
Answer:	D.जैसलमेर

Reference ID:(30364)

Find the meaning of the word::**Suspect**.

A.Definitive

B.Decisive

C.Disputable

D.Clear

Answer:

C.Disputable

Reference ID:(30872)

Identify the figure of speech in the following sentence: She did not realize that opportunity was knocking at her door.

A.Hyperbole

B.Personification

C.Apostrophe

D.Metaphor

Answer:

B.Personification

Reference ID:(21205)

मालिकेतील रिकामी जागा भरा: 0, 3, 8, __, 24

A.18

B.15

C.17

D.16

Answer:

B.15

Reference ID:(26275)	जागतिक वारसा स्थळामध्ये युनेस्कोकडून समाविष्ट करण्यात आलेले "कास पुष्पपठार" महाराष्ट्रातील _____ जिल्ह्यात आहे.
	A.पालघर
	B.सातारा
	C.नाशिक
	D.रत्नागिरी
Answer:	B.सातारा
Reference ID:(24175)	खालीलपैकी व्याकरणाच्या दृष्टीने शुद्ध शब्द-लेखन असलेला शब्द ओळखा.
	A.माहिति
	B.माहिती
	C.माहीती
	D.माहीति
Answer:	B.माहिती
Reference ID:(25164)	खालील वाक्यातील रिकाम्या जागी येणाऱ्या योग्य समूहदर्शक शब्दाचा पर्याय क्रमांक निवडा. कोळ्याच्या हातातील ताज्या माशांची त्याने सांगितलेल्या किमतीत विकत घेतली.
	A.गाथण
	B.जुडी
	C.गंजी
	D.गठ्ठी
Answer:	A.गाथण

Reference ID:(26273)

आवृतबीजे हे पुढीलपैकी कोणत्या वनांचे वैशिष्ट्य आहे?

A.सूचिपर्णी वने

B.सदाहरित वने

C.पानझडी वने

D.काटेरी वने

Answer:

A.सूचिपर्णी वने

Reference ID:(26277)

उष्णकटिबंधीय सदाहरित वनांप्रमाणे पुढीलपैकी कोणते प्रजातींमध्ये समृद्ध आहे?

A.प्रवाळ भित्ति

B.काटेरी वने

C.सूचिपर्णी वने

D.वाळवंट

Answer:

A.प्रवाळ भित्ति

Reference ID:(17887)

X हा Y हून 125% नी मोठा आहे. मग Y हा X हून _____ % लहान आहे.

A.50

B.125

C.2500

D.55.55

Answer:

D.55.55

Question Paper Title : FG_20

Date of Exam : 21-06-2019 02:30 PM

Reference ID:(30650) Convert the following active to passive voice: Everyone loves Prof. Shah

- A.Prof. Shah was loved by everyone
- B.Prof. Shah is being loved by everyone
- C.Prof. Shah is loved by everyone
- D.Everyone seems to love Prof. Shah

Answer: C.Prof. Shah is loved by everyone

Reference ID:(17611) 36 च्या $\frac{1}{8}$ + 50 च्या 60% + $0.25 \times 150 =$ _____

- A.72
- B.73.5
- C.74
- D.71.25

Answer: A.72

Reference ID:(28645) Pick the right idiom which fits into the sentence: We had to _____ for two hours outside the school

- A.Come with open arms
- B.Settle our account with
- C.Cool our heels

D.Wash our hands of

Answer: C.Cool our heels

Reference ID:(30877) Identify the figure of speech in the following sentence: This new car cost a zillion lakhs of rupees.

A.Apostrophe

B.Metaphor

C.Hyperbole

D.Personification

Answer: C.Hyperbole

Reference ID:(30623) Identify the word that's closest in meaning to the word: Principle

A.Ruler

B.Head of educational institute

C.Doctrine

D.Associate

Answer: C.Doctrine

Reference ID:(19970) पुढील विधानाला जी म्हण योग्य असेल असा पर्याय ओळखा:
'मोटारीत बसताना आसन पट्टा लाव' हा वडिलांचा उपदेश मंदार ऐकत नसे. मात्र त्या दिवशी वाहतूक पोलिसाने सांगताच त्याने तो लावला. म्हणतात ना ...

A.नखाने काम होते त्याला कुन्हाड कशाला

B.देखल्या देवा दंडवत

C.चुलीपुढे शिपाई अन् घराबाहेर भागूबाई

D.सोनाराने कान टोचले म्हणजे दुखत नाही

Answer: D.सोनाराने कान टोचले म्हणजे दुखत नाही

Reference ID:(28364) Find the word closest in meaning to the highlighted word: **Ecstasy**

A.Depression

B.Misery

C.Happiness

D.Turmoil

Answer: C.Happiness

Reference ID:(19997) "रुधिर" या शब्दाचा समानार्थी शब्द ओळखा.

A.दारू

B.दुध

C.रक्त

D.मध

Answer: C.रक्त

Reference ID:(26522) पाण्याच्या वाफेचे रुपांतर पाण्यामध्ये होणे म्हणजे _____ होय.

A.दृढीभवन

B.बाष्पीभवन

C.शीतकरण

D.उष्णता

Answer:

A.दृढीभवन

Reference ID:(20729)

जर DC = 43, B A L L = 2133, H A V E = 8145, तर M A D E = __?

A.311315

B.41135

C.4145

D.41414

Answer:

C.4145

Reference ID:(27629)

Pick the correct meaning of the highlighted idiom or phrase from the following:
By taking my mom on holiday, I **killed two birds with one stone**. I got to go away but also spend time with her.

A.To accomplish two things at once

B.To be able to multi task

C.To be able to make the best of an opportunity

D.To be able to do something at a slow pace

Answer:

A.To accomplish two things at once

Reference ID:(19743)

"डोव्यात केर आणि कानात फुंकर" या म्हणीचा अर्थ खालीलपैकी कोणता ते ओळखा?

A. एखाद्याचे खरे स्वरूप दिसणे.

B. समस्या वेगळी आणि उपाय भलताच.

C. समस्या एक आणि उपाय अनेक.

D. डोळ्यात कचरा गेल्यास कानात फुंकर मारावी.

Answer:

B. समस्या वेगळी आणि उपाय भलताच.

Reference ID:(23445)

'अवहेलना' या शब्दाचा समानार्थी शब्द ओळखा.

A. अपमान

B. कृतज्ञ

C. सन्मान

D. अपेक्षा

Answer:

A. अपमान

Reference ID:(32166)

भारतीय संविधानाने कोणत्या देशाकडून लोकसभेतील अध्यक्ष घेतला आहे.

A. कॅनडा

B. युनायटेड किंगडम

C. ऑस्ट्रेलिया

D. जर्मनी

Answer: B.युनायटेड किंगडम

Reference ID:(35174) खाली दिलेल्या पत्त्यापैकी 3 पत्ते समान आहेत आणि 1 भिन्न आहे. कोणता पत्ता भिन्न ते ओळखा?

A.242,M..K.B,Jagtapura,Jaipur,
Jaipur – 302017
Rajasthan
PH: 0130202509

B.242,M..K.B,Jagatpura,Jaipur,
Jaipur – 302017
Rajasthan
PH: 0130202509

C.242,M..K.B,Jagatpura,Jaipur,
Jaipur – 302017
Rajasthan
PH: 0130202509

D.242,M..K.B,Jagatpura,Jaipur,
Jaipur – 302017
Rajasthan
PH: 0130202509

Answer: A.242,M..K.B,Jagtapura,Jaipur,
Jaipur – 302017
Rajasthan
PH: 0130202509

Reference ID:(28618) Pick the right idiom which fits into the sentence: A mother stands by her children

A.By hook or by crook

B.Hand in glove

C.In weal and woe

D.On the spur of the moment

Answer:	C.In weal and woe
Reference ID:(27883)	Pick the correct meaning of the highlighted idiom or phrase from the following: They smelt a rat when he didn't show up for work after the robbery
	A.To sense something is wrong in a situation
	B.To get a bad smell
	C.To act without thinking
	D.To get worried about a situation
Answer:	A.To sense something is wrong in a situation
Reference ID:(28872)	Convert the following simple sentence to compound sentences: He must run fast to catch the train
	A.He must have to run fast to catch the train
	B.He must run fast or he will miss the train
	C.To catch the train he must run fast
	D.He will have to run fast to catch the train
Answer:	B.He must run fast or he will miss the train
Reference ID:(26526)	पुढीलपैकी कोणते सत्य आहे? (A) भारतीय संविधानाने असे म्हटले आहे की "राज्य हे पर्यावरणाचे संरक्षण आणि सुधारणा करणे आणि देशातील वने व वन्यजीवांचे रक्षण करण्यासाठी प्रयत्न करेल". (B) भारतीय संविधानाने असे म्हटले आहे की "वने, तलाव, नद्या आणि वन्यजीवन यांसह नैसर्गिक पर्यावरणाचे संरक्षण व सुधारणा करणे आणि जीवित प्राण्यांसाठी दया करणे हे भारतातील प्रत्येक नागरिकांचे कर्तव्य आहे".

A.केवळ A सत्य आहे

B.केवळ B सत्य आहे

C.दोन्ही A आणि B सत्य आहे

D.दोन्ही A आणि B सत्य नाही

Answer: C.दोन्ही A आणि B सत्य आहे

Reference ID:(30369) Find the word opposite in meaning to the word: **Ominous**.

A.Auspicious

B.Dire

C.Doomy

D.Ill boding

Answer: A.Auspicious

Reference ID:(33421) मुगल सम्राट अकबरच्या दरबारातील मुख्य 9 सदस्यांना "नवरत्न" असे म्हणतात त्यात खालीलपैकी कोणाचा समावेश नव्हता?

A.बिरबल

B.राजा भारमल

C.तानसेन

D.राजा मानसिंह

Answer: B.राजा भारमल

Reference ID:(32163)

1926 मध्ये स्थापित श्री अरबिंदो आश्रम _____ येथे स्थित आहे.

A.ओडिसा

B.तामिळनाडू

C.पुडुचेरी

D.आंध्र प्रदेश

Answer:

C.पुडुचेरी

Reference ID:(24407)

खालीलपैकी व्याकरणाच्या दृष्टीने अशुद्ध शब्द-लेखन असलेला शब्द ओळखा.

A.ध्वजारोहण

B.दृष्टिदोश

C.राष्ट्रगीत

D.समूहगीत

Answer:

B.दृष्टिदोश

Reference ID:(20956)

मालिकेतील रिकामी जागा भरा: A, B, D, G, __, P, V

A.E

B.K

C.F

D.H

Answer:

B.K

Reference ID:(26521)	पृथ्वीच्या वातावरणातील सरासरी तापमानात होणारी दीर्घकालीन वाढ ही _____ म्हणून ओळखले जाते.
	A.प्रदूषण
	B.हरित गृहाचे परिणाम
	C.जागतिक तापमानवाढ
	D.वरीलपैकी सर्व
Answer:	C.जागतिक तापमानवाढ
Reference ID:(33420)	भारतात वल्लभभाई पटेल चेस्ट संस्था कोठे आहे?
	A.दिल्ली
	B.मुंबई
	C.कोलकाता
	D.अहमदाबाद
Answer:	A.दिल्ली
Reference ID:(22835)	जर \$ आहे '+' आणि @ आहे '-', तर खालीलपैकी सर्वात लहान पर्याय कोणता आहे ?
	A.55 \$ 22 @ 75 \$ 42 @ 12 @ 23 \$ 45 \$ 27
	B.228 \$ 27 @ 25 \$ 32 @ 221 \$ 204 @ 44 @ 37
	C.79 \$ 42 \$ 215 \$ 42 \$ 31 @ 203 \$ 45 \$ 27
	D.38 @ 207 @ 25 @ 32 @ 21 \$ 204 \$ 244 @ 7
Answer:	A.55 \$ 22 @ 75 \$ 42 @ 12 @ 23 \$ 45 \$ 27

Reference ID:(24915)	पुढील शब्दसमूहासाठी योग्य शब्द निवडा. अनेक गोष्टीत एकाच वेळेस लक्ष देणाऱ्यास
	A.अतिविलक्षण
	B.अष्टावधानी
	C.कर्तव्यपरायण
	D.विजीगिषु
Answer:	B.अष्टावधानी
Reference ID:(33418)	"फ्री थ्रो" कोणत्या खेळाशी संबंधित आहे?
	A.हॉकी
	B.व्हॉलीबॉल
	C.फुटबॉल
	D.बास्केटबॉल
Answer:	D.बास्केटबॉल
Reference ID:(24688)	प्रश्नातील वाक्यात रिकामी जागा भरण्यास सर्वात योग्य शब्द निवडा. नारायण जुन्या कपड्याला फाडून सदऱ्याला त्याचेलावतो.
	A.बाष्कळ
	B.सकळ
	C.ठिगळ
	D.सढळ
Answer:	C.ठिगळ

Reference ID:(29888)	Pick the right antonym for the word: candid
	A.Inhibited
	B.Direct
	C.Difficult
	D.Upfront
Answer:	A.Inhibited
Reference ID:(27856)	Pick the correct meaning of the highlighted idiom or phrase from the following: We plan to lay out five lakhs for this business.
	A.To spend systematically
	B.Store for the future
	C.To abandon for a while
	D.To lease on hire
Answer:	A.To spend systematically
Reference ID:(19208)	खालील शब्दाचा समास / समास प्रकार ओळखा. व्याहीभोजन
	A.अव्ययीभाव
	B.कर्मधारय
	C.चतुर्थी तत्पुरुष
	D.बहुव्रीहि
Answer:	C.चतुर्थी तत्पुरुष

Reference ID:(32168)

खालीलपैकी कोण व्यक्ती महाराष्ट्राचे मुख्यमंत्री नव्हते? (1 एप्रिल 2019 रोजी)

A.यशवंतराव चव्हाण

B.बाळासाहेब ठाकरे

C.पी. के सावंत

D.वसंतराव नाईक

Answer:

B.बाळासाहेब ठाकरे

Reference ID:(27048)

Find the meaning of the highlighted word in the sentence: Trump attempted to **mediate** between the powers to end the war.

A.Cut in the middle

B.Arbitrate

C.Obliterate

D.Eliminate

Answer:

B.Arbitrate

Reference ID:(17130)

खालील पर्यायांपैकी दुसऱ्या क्रमांकाचा सर्वात मोठा कोण आहे?

A.350 चे 70%

B.1300 चा $\frac{1}{4}$

C. 0.35×900

D.700 चा $\frac{2}{5}$

Answer:

C. 0.35×900

Reference ID:(24180)	खालीलपैकी व्याकरणाच्या दृष्टीने शुद्ध शब्द-लेखन असलेला शब्द ओळखा.
	A.बहीमुख
	B.बहिमुख
	C.बहीमुख
	D.बहिमुख
Answer:	D.बहिमुख
Reference ID:(26524)	पुढीलपैकी कोणते क्लोरोफ्लोरोकार्बन्स (सी.एफ.सी) चे गुणधर्म आहेत?
	A.अत्यंत स्थिर
	B.बिनविषारी
	C.ज्वलनशील नसणे
	D.वरीलपैकी सर्व
Answer:	D.वरीलपैकी सर्व
Reference ID:(18473)	दोन किंवा अधिक केवळ वाक्ये एकत्र येऊन तयार झालेल्या वाक्यास _____ वाक्य असे म्हटले जाते.
	A.गौण
	B.संयुक्त
	C.मिश्र
	D.शुद्ध

Answer:	C.मिश्र
Reference ID:(23672)	खालीलपैकी समानार्थी शब्दाची बरोबर जोडी ओळखा
	A.माजी - आजी
	B.अंबू - जल
	C.नाशवंत - टिकाऊ
	D.ग्राह्य - त्याज्य
Answer:	B.अंबू - जल
Reference ID:(18500)	"वाक्यातील क्रियापद कर्ता किंवा कर्म यानुसार बदलत नाही" हे लक्षण कोणत्या प्रयोगाचे आहे.
	A.सकर्मक कर्तरी प्रयोग
	B.अकर्मक कर्तरी प्रयोग
	C.कर्मणी प्रयोग
	D.भावे प्रयोग
Answer:	D.भावे प्रयोग
Reference ID:(33419)	भारतात राष्ट्रीय अंतर्विषयी विज्ञान व तंत्रज्ञान संस्था (National Institute for Interdisciplinary Science and Technology) कोठे आहे?
	A.चेन्नई

B.हैदराबाद

C.बैंगलोर

D.तिरुवनंतपुरम

Answer: D.तिरुवनंतपुरम

Reference ID:(20702) जर HB = 6, NG = 7, तर SZ =

A.-7

B.7

C.6

D.-6

Answer: A.-7

Reference ID:(23699) 'सकुंचित' या शब्दाचा विरुद्धार्थी शब्द ओळखा.

A.व्यापक

B.सुविचार

C.कूपमंडूक

D.किंचित

Answer: A.व्यापक

Reference ID:(17638)	45 च्या 1/18 + 44 च्या 25% च्या 200% + 0.30 × 120 = _____
	A.62
	B.62.5
	C.60.5
	D.59.75
Answer:	C.60.5
Reference ID:(25169)	समूहदर्शक शब्द ओळखा. पिकत घातलेल्या आंब्यांची _____.
	A.काफिला
	B.अढी
	C.जथा
	D.गट
Answer:	B.अढी
Reference ID:(33422)	राजस्थानमध्ये कोणत्या शहरात 'राजस्थान आंतरराष्ट्रीय लोककला महोत्सव' साजरा केला जातो?
	A.जोधपूर
	B.जयपूर
	C.बीकानेर
	D.उदयपुर

Answer: A.जोधपूर

Reference ID:(24434) खालीलपैकी व्याकरणाच्या दृष्टीने शुध्द वाक्याचा पर्याय निवडा.

- A.विकासने यंत्र चालवण्याचे परशिक्षण घेतले.
- B.अभ्यासाने सर्जनशील व्यक्तिमत्व घडते.
- C.मीनाचे वडील एक प्रथितयश अभिनेता आहेत.
- D.परमात्माने आपल्याला सुंदर जीवन दिले आहे.

Answer: C.मीनाचे वडील एक प्रथितयश अभिनेता आहेत.

Reference ID:(17384) $9.75 + 5.75 + 3.95 - (9.25 - 5.50 - 4.75) = \underline{\hspace{2cm}}$

- A.20
- B.20.6
- C.20.45
- D.20.1

Answer: C.20.45

Reference ID:(33424) भारतातील पहिली हेलीकॉप्टर शटल सेवा (हेलि टॅक्सी) _____ येथे सुरू करण्यात आली.

- A.दिल्ली
- B.मुंबई

C.बैंगलोर

D.कोलकाता

Answer:

C.बैंगलोर

Reference ID:(29607)

Pick the right meaning of the highlighted word in the sentence:
He lived a life of **penury**

A.To lead a very luxurious life

B.To be well off

C.State of being very poor

D.To have excessive pride about something

Answer:

C.State of being very poor

Reference ID:(32160)

बैंगलूरुचे दुसरे नाव _____ हे आहे.

A.गुलाबी शहर

B.रेशीम शहर

C.उद्यान शहर

D.आध्यात्मिक शहर

Answer:

C.उद्यान शहर

Reference ID:(26528)

भारतीय जंगलांबद्दल पुढीलपैकी कोणते विधान सत्य आहे?

A) भारताचे वन आच्छादन 1990-2015 दरम्यान वाढले.

B) मध्यप्रदेश राज्यात भारतातील सर्वात मोठे जंगल आहे.

A.केवळ A

B.केवळ B

C.दोन्ही A आणि B

D.A पण नाही B पण नाही

Answer: C.दोन्ही A आणि B

Reference ID:(32167) संसदेत राष्ट्रपतींद्वारे अँग्लो इंडियन समुदायाचे किती सदस्य नामांकित केले जाऊ शकतात?

A.2 सदस्य

B.4 सदस्य

C.6 सदस्य

D.8 सदस्य

Answer: A.2 सदस्य

Reference ID:(25196) "चिंतातुर" या शब्दाचा खालीलपैकी योग्य संधी विग्रह ओळखा.

A.चिंता + तुर

B.चित + आतुर

C.चिं + आतुर

D.चिंता + आतुर

Answer: D.चिंता + आतुर

Reference ID:(33423)	स्थलांतर तपासणीसाठी नागरिकांकडे आवश्यक असलेल्या भारतीय पासपोर्टचा रंग कोणता असेल?
	A.निळा
	B.नारंगी
	C.लाल
	D.हिरवा
Answer:	B.नारंगी
Reference ID:(20221)	X चे पूर्व दिशेला तोंड आहे. तो 45 अंश डावीकडे वळतो. मग तो 75 अंश उजवीकडे वळतो. मग तो 180 अंश वळतो. मग तो 15 अंश उजवीकडे वळतो. शेवटी तो डावीकडे 45 अंश वळतो. आता तो कोणत्या दिशेला तोंड करून उभा आहे?
	A.दक्षिण
	B.उत्तर
	C.पश्चिम
	D.पूर्व
Answer:	C.पश्चिम
Reference ID:(24153)	खालीलपैकी विरुद्धार्थी शब्दाची चुकीची जोडी ओळखा.
	A.सुज्ञ x अज्ञ
	B.शत्रू x अरी
	C.सुलक्षणी x कुलक्षणी
	D.सुंदर x कुरूप
Answer:	B.शत्रू x अरी

Reference ID:(26520)	नागोया करार कोणत्या वर्षी स्वीकारण्यात आला?
	A.2000
	B.2010
	C.2011
	D.2012
Answer:	B.2010

Reference ID:(22807)	जर \$ आहे '+' आणि @ आहे '-', तर खालीलपैकी सर्वात मोठा पर्याय कोणता आहे ?
	A.25 @ 22 @ 35 \$ 72 \$ 202 @ 83 \$ 45 \$ 27
	B.48 @ 27 @ 25 \$ 32 @ 221 \$ 204 \$ 44 \$ 72
	C.29 \$ 22 @ 25 \$ 42 \$ 31 @ 203 \$ 45 \$ 207
	D.44 \$ 17 @ 25 @ 32 @ 21 \$ 204 @ 44 @ 23
Answer:	A.25 @ 22 @ 35 \$ 72 \$ 202 @ 83 \$ 45 \$ 27

Reference ID:(17357)	$3.50 + 2.55 + 4.75 - (3.25 - 6.55 + 4.75) = \underline{\hspace{2cm}}$
	A.9.45
	B.9.35
	C.8.95
	D.8.85
Answer:	B.9.35

Reference ID:(18954)	सोहान शाळेत जात होता. या वाक्यातील काळ ओळखा.
	A.साधा भूतकाळ
	B.रीती भूतकाळ
	C.चालू भूतकाळ
	D.पूर्ण भूतकाळ
Answer:	C.चालू भूतकाळ
Reference ID:(29353)	Pick the right meaning of the highlighted word in the sentence: The obscure writer was not known in the literary community.
	A.Someone who is direct with someone
	B.Someone bright and intelligent
	C.Someone relatively unknown
	D.Something explicitly mentioned or done
Answer:	C.Someone relatively unknown
Reference ID:(20248)	एक माणूस त्याच्या घरापासून पूर्व दिशेने 10.5 कि.मी. चालतो. मग तो डावीकडे वळतो आणि 5 कि.मी. चालतो. मग तो उजवीकडे वळतो आणि 1 कि.मी. चालतो. मग तो उजवीकडे वळतो आणि 7 कि.मी. चालतो. मग तो उजवीकडे वळतो आणि 4 कि.मी. चालतो. मग तो उजवीकडे वळतो आणि 3 कि.मी. चालतो. मग तो डावीकडे वळतो आणि 4 कि.मी. चालतो. मग तो डावीकडे वळतो आणि 1 कि.मी. चालतो. तो त्याच्या घरापासून किती दूर आहे?
	A.2.5 कि.मी.

B.3.5 कि.मी.

C.1.5 कि.मी.

D.3 कि.मी.

Answer: B.3.5 कि.मी.

Reference ID:(32162) कोवलम समुद्रकिनारा _____ येथे स्थित आहे.

A.गोवा

B.मुंबई

C.दमण

D.केरळ

Answer: D.केरळ

Reference ID:(25423) व्यासंग या शब्दाचा खालीलपैकी योग्य संधी विग्रह ओळखा.

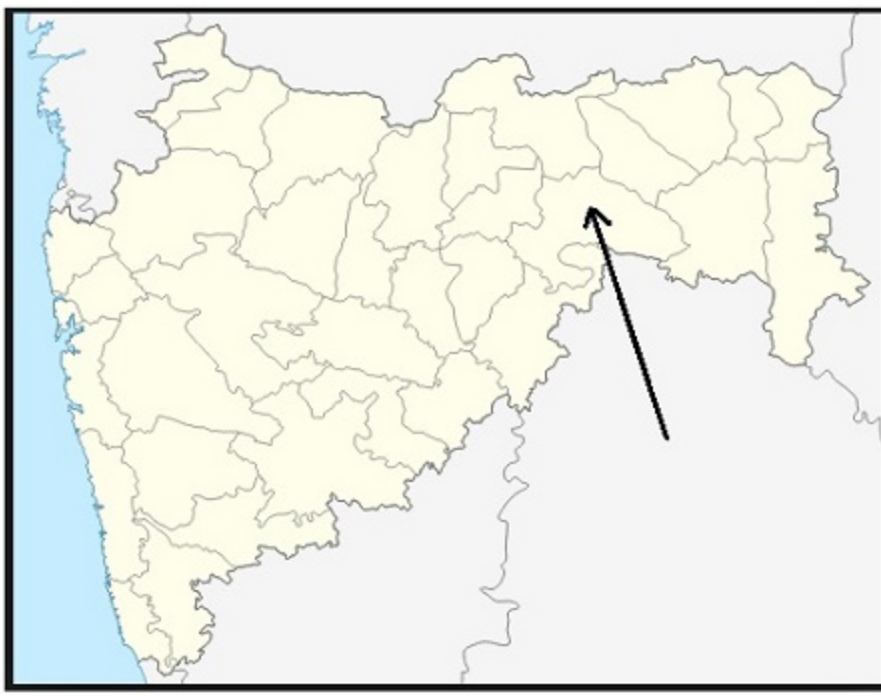
A.वि + संग

B.व्या + आसंग

C.वि + आसंग

D.वि + असंग

Answer: C.वि + आसंग



महाराष्ट्रातील नकाशात बाणने दर्शविलेला जिल्हा खालीलपैकी कोणता आहे?

A. हिंगोली

B. यवतमाळ

C. वाशिम

D. नागपूर

Answer:

B. यवतमाळ

Reference ID:(33425)

भारतातील _____ हा पहिला जिल्हा बनलेला आहे, जिथे प्राथमिक आरोग्य केंद्र 100 टक्के सौर उर्जेवर आहेत.

A. माजुली - आसाम

B. अनंतपुर - आंध्र प्रदेश

C. सूरत - गुजरात

D. अररिया - बिहार

Answer:	C.सूरत - गुजरात
Reference ID:(18727)	शोभन पुस्तक वाचतो. ह्या वाक्याला रीती वर्तमानकाळामध्ये परिवर्तीत करायचे असल्यास खालीलपैकी कोणता पर्याय योग्य आहे?
	A.शोभन पुस्तक वाचत असतो.
	B.शोभन पुस्तक वाचत असे.
	C.शोभन पुस्तक वाचत असेल.
	D.शोभन पुस्तक वाचतो.
Answer:	A.शोभन पुस्तक वाचत असतो.
Reference ID:(21718)	जर A = 1, B = 2, C = 3, Z = 26, तर खालील पैकी कोणते पर्याय बरोबर आहे?
	A.{A + W + A + Y} = {S + A + N + G}
	B.{A + W + A + Y} < {S + A + N + G}
	C.{A + W + A + Y} > {S + A + N + G}
	D.{S + A + N + G} = {G + I + R + L}
Answer:	C.{A + W + A + Y} > {S + A + N + G}
Reference ID:(16522)	सहा जण P , Q , R , S , X आणि Z हे दोन रांगामध्ये एकमेकांकडे तोंड करून बसले आहेत. दोन्ही रांगामध्ये प्रत्येकी तीन जण आहेत. X चा शेजारी बसलेला P हा S च्या कर्णाभिमुख आहे. S हा Z च्या डावीकडे दुसऱ्या क्रमांकावर आहे. X हा कोणत्याही रांगेच्या शेवटी बसलेला नाही. R हा Z च्या शेजारी आहे. खालीलपैकी कोण एकाच रांगेत आहेत?
	A.P आणि Q
	B.Z आणि Q
	C.X आणि S

D.P आणि R

Answer: A.P आणि Q

Reference ID:(33426) 'बिहू' हा सण कोणत्या राज्यात साजरा केला जातो?

A.आसाम

B.तमिळनाडु

C.तेलंगाना

D.ओडिशा

Answer: A.आसाम

Reference ID:(21491) जर $A = 1, B = 2, \dots, M = 13$; आणि $N = 13, O = 12, \dots, Z = 1$, तर खालील पैकी कोणते पर्याय बरोबर आहे?

A. $\{N + I + C + E\} > \{D + O + C + K\}$

B. $\{N + I + C + E\} = \{D + O + C + K\}$

C. $\{N + I + C + E\} < \{D + O + C + K\}$

D. $\{N + I + C + E\} = \{L + I + K + E\}$

Answer: B. $\{N + I + C + E\} = \{D + O + C + K\}$

Reference ID:(19462) खालीलपैकी वाक्प्रचार आणि त्याचा अर्थाची योग्य जोडी ओळखा.

A.धिंडवडे निघणे - सतत यशस्वी होणे

B.आटापिटा करणे - पराभव स्वीकारणे

C.माया पातळ होणे - प्रेम कमी होणे

D.वाऱ्यावर सोडणे - पळून जाणे

Answer: C.माया पातळ होणे - प्रेम कमी होणे

Reference ID:(26529) महाराष्ट्रातील सागेश्वर वन्यजीव अभयारण्य खालीलपैकी कोणत्या जिल्ह्यात आहे ?

A.नाशिक

B.सांगली

C.रायगड

D.सिंधुदुर्ग

Answer: B.सांगली

Reference ID:(30142) Find the meaning of the highlighted word in the sentence: Of the two, the **latter** is far better than the former.

A.Earlier

B.Second

C.Superior

D.Prominent

Answer: B.Second

Reference ID:(33417) भारताच्या राष्ट्रीय ध्वजाची रचना कोणी केली?

A.डॉ. बी. आर. अंबेडकर

B.पंडित जवाहरलाल नेहरू

C.सुभाष चंद्र बोस

D.पिंगली वेंकय्या

Answer: D.पिंगली वेंकय्या

Reference ID:(20983) मालिकेतील रिकामी जागा भरा: O P R U _ _ D J

A.X

B.W

C.Y

D.V

Answer: C.Y

Reference ID:(28137) Find the meaning of the highlighted word from the sentence: The high cost of material will **compel** manufacturers to increase the prices.

A.Necessitate

B.Hinder

C.Obstruct

D.Dissuade

Answer: A.Necessitate

Reference ID:(21237) जर ARTICHOKE हा शब्द TRAHCIOKE असेल, तर EMBEZZLED हा शब्द _____ असेल.

A.LEDZZBEEM

B.DZZEEBMLE

C.BMEZZELED

D.BDEEELZZM

Answer: C.BMEZZELED

Reference ID:(27375) Identify the figure of speech in the following sentence: India is a melting pot of culture.

A.Apostrophe

B.Simile

C.Metaphor

D.Oxymoron

Answer: C.Metaphor

Reference ID:(16549) जर @ आहे 'भागाकार' आणि \$ आहे 'गुणाकार', तर खालीलपैकी सर्वात मोठा पर्याय कोणता आहे?

A.41@5

B.4.25\$2.5

C.33@4

D.3.75\$2.5

Answer: B.4.25\$2.5

Reference ID:(34947) जर 9 (128) 16;
33 (288) 9;
तर 27 (?) 12.
"?" च्या मूल्य शोधा

A.334

B.289

C.328

D.312

Answer:

D.312

Reference ID:(29861)

Pick the Synonym for the word:
Fury

A.Indignation

B.Calm

C.Praise

D.Help

Answer:

A.Indignation

Reference ID:(28110)

Find the meaning of the highlighted word in the sentence: He was trying to **banish** all feelings of guilt

A.Eliminate

B.Accept

C.Include

D.Admit

Answer:

A.Eliminate

Reference ID:(32164)

तेहरी धरण कोणत्या राज्यात आहे?

A.राजस्थान

B.उत्तराखंड

C.हिमाचल प्रदेश

D.अरुणाचल प्रदेश

Answer:

B.उत्तराखंड

Reference ID:(24942)

पुढील शब्दसमूहासाठी योग्य शब्द निवडा.
कोणत्याही परिस्थितीत ज्याची बुद्धी स्थिर राहते, तो

A.अष्टावधानी

B.स्थितप्रज्ञ

C.प्रज्ञावंत

D.बुद्धिप्रामाण्यवादी

Answer:

B.स्थितप्रज्ञ

Reference ID:(26525)

जपानमध्ये फुकुशिमा आपत्ती _____ मुळे झाली होती.

A.सुनामी

B.आग

C.उल्का

D.वरीलपैकी काहीही नाही

Answer:

A.सुनामी

Reference ID:(29126)	Pick the right meaning of the highlighted word in the sentence: In order to thwart the advancing enemy troops, the captain ordered the explosives team to destroy the bridge
	A.To hate something a lot
	B.To stop something from happening
	C.To be happy for something to happen
	D.To help in making something happen
Answer:	B.To stop something from happening
Reference ID:(18981)	खालील शब्दाचा समास / समास प्रकार ओळखा. मोगलमराठे
	A.कर्मधारय
	B.इतरेतर द्वंद्व
	C.तत्पुरुष
	D.अव्ययीभाव
Answer:	B.इतरेतर द्वंद्व
Reference ID:(24661)	प्रश्नातील वाक्यात रिकामी जागा भरण्यास सर्वात योग्य शब्द निवडा. गरीब परिस्थितीत शाळेतील विद्यार्थ्यांनी मिळवलेले यश निश्चितच आहे.
	A.वागबारस
	B.वाडकरी
	C.वाखाणण्याजोगे
	D.वाताहत
Answer:	C.वाखाणण्याजोगे

Reference ID:(21464)	जर FARKLEBERRY हा शब्द IDUNOHEHUUB असेल, तर GOOSEBERRIES हा शब्द _____ असेल.
	A.JRRWHEHUULHV
	B.JRRVHEHUULHV
	C.JRRVGEGUULHV
	D.JQQVHHUULHV
Answer:	B.JRRVHEHUULHV

Reference ID:(18246)	मना सज्जना तू कडेनेच जावे न होऊन कोणासही दुखवावे. या वाक्यातील वृत्त ओळखा.
	A.भुजंगप्रयात
	B.वसंततिलका
	C.पादाकुलक
	D.ओवी
Answer:	A.भुजंगप्रयात

Reference ID:(28899)	Fill in the blanks with simple past or past perfect tense of the verbs: We ___ of attending your birthday celebrations, but some guests ___ in and we couldn't make it.
	A.Had thought..... dropped
	B.Thought..... have dropped
	C.Thought..... were dropping
	D.Had thought..... were dropping
Answer:	A.Had thought..... dropped

Reference ID:(30115)	Find the meaning of the highlighted word in the sentence: He also had an invincible faith in the hospital.
	A.Unflinching
	B.Crazy
	C.Destructible
	D.Beatable
Answer:	A.Unflinching
Reference ID:(34920)	जर $9 \times 18 = 26244$, $4 \times 18 = 5184$, आणि $5 \times 14 = 4900$, तर $5 \times 5 = ?$
	A.625
	B.1025
	C.725
	D.555
Answer:	A.625
Reference ID:(19489)	प्रश्नात दिलेल्या वाक्यप्रचाराचा योग्य वापर असलेले वाक्य पर्यायांमधून ओळखा. अग्निदिव्य करणे
	A.होळीच्या दिवशी लाकडे जाळून लोक अग्निदिव्य करतात.
	B.भूक लागली की पोट भरण्याचे अग्निदिव्य केले जाते.
	C.वचन पाळण्यासाठी प्रभुरामचंद्रांना चौदा वर्षे वनवास भोगून अग्निदिव्य करावे लागले.
	D.भटजींनी पूजा सांगताना होमहवन करून घरात अग्निदिव्य केले.
Answer:	C.वचन पाळण्यासाठी प्रभुरामचंद्रांना चौदा वर्षे वनवास भोगून अग्निदिव्य करावे लागले.

Reference ID:(32161)

बांधवगढ राष्ट्रीय उद्यान _____ येथे स्थित आहे.

A.मध्य प्रदेश

B.आंध्र प्रदेश

C.उत्तर प्रदेश

D.तामिळनाडू

Answer:

A.मध्य प्रदेश

Reference ID:(29634)

Pick the Synonym for the word:
eradicate

A.Eliminate

B.Disapprove

C.Wasteful

D.Spread

Answer:

A.Eliminate

Reference ID:(31104)

Fill in the blanks with the right set of words:

The Jawaharlal Nehru Stadium ____ _with dance and music as various troupes from different countries_____ a panorama of color and costume.

A.Will reverberate, presented

B.Reverberates, presented

C.Reverberated, present

D.Reverberated, presented

Answer: D.Reverberated, presented

Reference ID:(17892) X हा Y हून 90% नी मोठा आहे. मग Y हा X हून _____ % लहान आहे.

A.10

B.1.11

C.11.11

D.47.36

Answer: D.47.36

Reference ID:(29380) Pick the right meaning of the highlighted word in the sentence:
The government claims to be doing all it can to **eradicate** corruption.

A.Disapprove of something

B.Eliminate something

C.Being wasteful about something

D.Spread something everywhere

Answer: B.Eliminate something

Reference ID:(21210) मालिकेतील रिकामी जागा भरा: 65, 35, __, 11, 17

A.11

B.35

C.65

D.17

Answer: D.17

Reference ID:(22553) खालीलपैकी सर्वात मोठा पर्याय कोणता आहे ?

A.225 - 12 - 35 + 74 + 202 - 93 + 45 + 37

B.48 + 27 + 25 + 32 - 221 - 204 + 34 + 74

C.29 - 22 - 45 + 42 + 31 - 203 + 45 + 207

D.244 - 17 - 25 + 32 - 21 + 204 - 44 - 23

Answer: A.225 - 12 - 35 + 74 + 202 - 93 + 45 + 37

Reference ID:(26527) कोणत्या राजाच्या शासनकाळात कुप्याध्याक्ष (अधीक्षक) व वनपाल (वन रक्षक) यांच्या नेतृत्वाखाली नियमित वन विभाग होता?

A.चंद्रगुप्त मौर्य

B.टिपू सुलतान

C.शाह जहान

D.महाराणा प्रताप

Answer: A.चंद्रगुप्त मौर्य

Reference ID:(20475) X चे पश्चिम दिशेला तोंड आहे. तो 90 अंश डावीकडे वळतो. मग तो 70 अंश उजवीकडे वळतो. मग तो 180 अंश वळतो. मग तो 90 अंश उजवीकडे वळतो. शेवटी तो डावीकडे 25 अंश वळतो. आता तो कोणत्या दिशेला तोंड करून उभा आहे?

A.दक्षिण पूर्व

B.उत्तर पूर्व

C.दक्षिण पश्चिम

D.उत्तर पश्चिम

Answer:

A.दक्षिण पूर्व

Reference ID:(17865)

54 च्या $\frac{1}{12}$ + 25 च्या 30% च्या 200% + $0.25 \times 60 = \underline{\hspace{2cm}}$

A.36

B.36.5

C.33.75

D.34.5

Answer:

D.34.5

Reference ID:(23926)

खालीलपैकी विरुद्धार्थी शब्दाची बरोबर जोडी ओळखा.

A.नदी x सरिता

B.नमस्कार x वंदन

C.नवरा x पती

D.उदय x अस्त

Answer:

D.उदय x अस्त

Reference ID:(17103)

$\frac{8}{20} + 10.5 - \frac{5}{25} = ?$

A.10.3

B.12.2

C.10.7

D.11.225

Answer: C.10.7

Reference ID:(19716) पुढील म्हण पूर्ण करण्यासाठी योग्य पर्याय निवडा. दैव देते नि ____ नेते.

A.दैत्य

B.कष्ट

C.कर्म

D.दिवा

Answer: C.कर्म

Reference ID:(18219) जातीच्या सुंदरांना काहीही शोभते।
वरील ओळीत कोणता अलंकार वापरला गेला आहे ?

A.भ्रांतिमान

B.अर्थान्तरन्यास

C.स्वभावोक्ति

D.उत्प्रेक्षा

Answer: B.अर्थान्तरन्यास

Reference ID:(27021)

Select the correct passive voice form of the sentence: Why is your sister not learning her lesson?

A.The lesson is not being learnt by your sister

B.Is the lesson not being learnt by your sister?

C.Is your sister not learning the lesson?

D.Why is her lesson not being learnt by your sister?

Answer:

D.Why is her lesson not being learnt by your sister?

Reference ID:(26523)

दुर्मिळ हंगुल हिरण _____ येथे आढळतो.

A.उत्तराखंड

B.ओरिसा

C.अरुणाचल प्रदेश

D.काश्मीर

Answer:

D.काश्मीर

Reference ID:(28391)

Find the meaning of the highlighted word in the sentence: His **gait** is slow and he tires easily.

A.Behavior

B.Brain

C.Energy levels

D.Pace

Answer:

D.Pace

Reference ID:(16876)

$20/25 + 1.5 - 5/25 = ?$

A.2.1

B.1.9

C.2.7

D.1.55

Answer:

A.2.1

Reference ID:(32165)

वेदांची एकूण संख्या _____ आहे.

A.2

B.4

C.8

D.6

Answer:

B.4

Reference ID:(30396)

Pick the correct meaning of the highlighted idiom: I was amused with his **cock and bull story**.

A.An improbable story

B.A funny story

C.A story about animals

D.A story about a surprising event

Answer:

A.An improbable story

Reference ID:(22581)	खालीलपैकी सर्वात लहान पर्याय कोणता आहे ?
	A. $22 + 55 - 12 + 45 + 15 - 203 + 42 + 57$
	B. $28 + 27 - 52 + 35 - 51 + 204 - 44 - 37$
	C. $29 + 25 - 212 + 45 + 31 + 203 + 42 + 27$
	D. $38 + 207 - 52 - 35 - 51 + 204 - 44 - 37$
Answer:	A. $22 + 55 - 12 + 45 + 15 - 203 + 42 + 57$

Reference ID:(19235)	“वेसण घालणे” या वाक्प्रचाराचा खालीलपैकी कोणता अर्थ योग्य आहे?
	A. वारंवार धणकावून सांगणे
	B. घोड्याच्या नाकात दोरी अडकविणे
	C. मर्यादा घालणे
	D. दुष्ट काढणे
Answer:	C. मर्यादा घालणे

Reference ID:(27602)	Identify the figure of speech in the following sentence: Oh Night, how dark you are!
	A. Metaphor
	B. Simile
	C. Apostrophe
	D. Personification
Answer:	C. Apostrophe

Reference ID:(20715) जर IT = 58, B O Y = 84, J O Y = 100, तर F L E W = ____?

A.90

B.91

C.92

D.93

Answer: C.92

Reference ID:(18459) एकाने माणसे मोजुन पाहिली. ती नऊच भरली.
वरील वाक्यांचे संयुक्त वाक्य खालीलप्रमाणे होईल.

A.एकाने माणसे मोजुन पाहिली आणि ती नऊच भरली.

B.एकाने माणसे मोजुन पाहिली की ती नऊच भरली.

C.एकाने माणसे मोजुन पाहिली पण ती नऊच भरली.

D.एकाने नऊच माणसे मोजली.

Answer: C.एकाने माणसे मोजुन पाहिली पण ती नऊच भरली.

Reference ID:(17397) $9.95 + 2.5 + 3.25 - (2.75 + 3.5 - 4.75 + 0.5) = \underline{\hspace{2cm}}$

A.13.35

B.13.25

C.13.85

D.13.70

Answer: D.13.70

Reference ID:(18205) उपमेयाला दुसऱ्या कशाचीच उपमा देता येत नसेल. म्हणून जेव्हा उपमेयाला उपमेयाचीच उपमा दिली जाते तेव्हा अलंकार होतो.

A.उत्प्रेक्षा

B.स्वभावोक्ती

C.व्यतिरेक

D.अनन्वय

Answer: D.अनन्वय

Reference ID:(27007) Select the correct passive voice form of the sentence: Ramesh has written the letter.

A.Ramesh is into letter writing

B.Ramesh is writing the letter

C.Letter writing is being done by Ramesh

D.The letter has been written by Ramesh

Answer: D.The letter has been written by Ramesh

Reference ID:(29874) Pick the right antonym for the word:
Extraterrestrial

A.Earthly

B.Blessed

C.Forests

D.Homogenous

Answer:

A.Earthly

Reference ID:(22593)

जर \$ आहे '+' आणि @ आहे '-', तर खालीलपैकी सर्वात मोठा पर्याय कोणता आहे ?

A.125 @ 62 @ 35 \$ 74 \$ 102 @ 93 \$ 45 \$ 37

B.48 \$ 17 \$ 25 \$ 32 @ 126 @ 104 \$ 34 \$ 74

C.19 @ 12 @ 45 \$ 42 \$ 36 @ 103 \$ 45 \$ 207

D.144 @ 67 @ 25 \$ 32 @ 26 \$ 104 @ 44 @ 13

Answer:

A.125 @ 62 @ 35 \$ 74 \$ 102 @ 93 \$ 45 \$ 37

Reference ID:(19248)

"तांडवनृत्य करणे" ह्या वाक्प्रचाराला समानार्थ असा पुढीलपैकी कोणता वाक्प्रचार आहे ते ओळखा.

A.मनाशी खूणगाठ बांधणे

B.चित्त एकाग्र होणे

C.उडाणटप्पू गिरी करणे

D.थयथयाट करणे

Answer:

D.थयथयाट करणे

Reference ID:(24674)	प्रश्नातील वाक्यात रिकामी जागा भरण्यास सर्वात योग्य शब्द निवडा. बरेच शेतकरी शेती सोबत शेळीधंदा करतात.
	A.पालनाचा
	B.संचालनाचा
	C.वासनेचा
	D.कृपणाचा
Answer:	A.पालनाचा
Reference ID:(16508)	सहा जण बिनाँय, चारु, अॅलेक्स, डॅनी, एलन आणि फिरोज हे दोन रांगामध्ये एकमेकांकडे तोंड करून बसले आहेत. दोन्ही रांगामध्ये प्रत्येकी तीन जण आहेत. एलन हा कोणत्याही रांगेच्या शेवटी बसलेला नाही. डॅनी हा फिरोजच्या डावीकडे दुसऱ्या क्रमांकावर आहे. एलनचा शेजारी बसलेला अॅलेक्स हा डॅनीच्या कर्णाभिमुख आहे. चारु हा फिरोजच्या शेजारी आहे. एलन आणि चारुची जागेची अदलाबदल केल्यानंतर नव्या ठिकाणी चारुचा शेजारी कोण असतील?
	A.अॅलेक्स आणि बिनाँय
	B.फिरोज आणि बिनाँय
	C.अॅलेक्स आणि फिरोज
	D.वरीलपैकी काहीही नाही
Answer:	A.अॅलेक्स आणि बिनाँय
Reference ID:(25785)	जगात जैवविविधता करार कोणत्या वर्षी अंमलात आला?
	A.1981
	B.1997
	C.1993
	D.2000
Answer:	C.1993

Reference ID:(17370)	$8.25 + 5.5 + 12 + 6.25 - (5.25 - 8.75 + 2.25) = \underline{\hspace{2cm}}$
	A.32.75
	B.33.35
	C.33.25
	D.32.85
Answer:	C.33.25
Reference ID:(24193)	खालीलपैकी व्याकरणाच्या दृष्टीने अशुद्ध शब्द-लेखन असलेला शब्द ओळखा.
	A.पाश्चात्य
	B.भूगोल
	C.परिक्षा
	D.कल्पना
Answer:	C.परिक्षा
Reference ID:(27388)	Identify the figure of speech in the following sentence: The leaves waved in the wind.
	A.Personification
	B.Metaphor
	C.Apostrophe

D.Simile

Answer: A.Personification

Reference ID:(22567) खालीलपैकी सर्वात लहान पर्याय कोणता आहे ?

A. $22 + 11 - 72 + 45 - 65 - 13 + 42 + 57$

B. $118 + 17 - 52 + 35 - 156 + 104 - 44 - 37$

C. $79 + 45 + 162 + 45 + 36 - 103 + 42 + 17$

D. $38 - 107 - 52 - 35 - 56 + 104 + 144 - 7$

Answer: B. $118 + 17 - 52 + 35 - 156 + 104 - 44 - 37$

Reference ID:(21704) जर $A = 1, B = 2, C = 3, \dots, Z = 26$, तर खालील पैकी कोणते पर्याय बरोबर आहे?

A. $\{J + A + C + K\} = \{C + A + R\}$

B. $\{J + A + C + K\} < \{C + A + R\}$

C. $\{J + A + C + K\} > \{C + A + R\}$

D. $\{C + A + R\} = \{B + U + S\}$

Answer: C. $\{J + A + C + K\} > \{C + A + R\}$

Reference ID:(32679) भारतीय चलनासाठी "रु" चिन्हाची रचना कोणी केली?

A. आर.के पाचौरी

B. अतुल एस. पांडे

C.श्री राममुर्ती जानकी

D.उदय कुमार

Answer: D.उदय कुमार

Reference ID:(20969) मालिकेतील रिकामी जागा भरा: S, M, __, W, T, F, S, S

A.Z

B.F

C.W

D.T

Answer: D.T

Reference ID:(31441) सुभाषचंद्र बोस यांच्या भारतीय राष्ट्रीय सेनेचे रेजिमेंटल मार्चिंग गाणे कोणते होते?

A.कदम कदम बढाये जा

B.ए मेरे वतन के लोगों

C.एकला चालो रे

D.अपनी आजादी को हम

Answer: A.कदम कदम बढाये जा

Reference ID:(35160)

खाली दिलेल्या पत्त्यापैकी 3 पत्ते समान आहेत आणि 1 भिन्न आहे. कोणता पत्ता भिन्न ते ओळखा?

A.88/H/23 parmoh Kumar,
New Narotam Nagar,
Khanna, Ratan heri Road,
Punjab
PH 0208011004

B.88/H/23 parmoh Kumar,
New Narotam Nagar,
Khanna, Ratan heri Road,
Punjab
PH 0208011004

C.88/H/23 parmoh Kumar,
New Narotam Nagar,
Khanna, Ratan heri Road,
Punjab
PH 0208011004

D.88/H/23 parmoh Kumar,
New Narotam Nagar,
Khanna, Ratan hari Road,
Punjab
PH 0208011004

Answer:

D.88/H/23 parmoh Kumar,
New Narotam Nagar,
Khanna, Ratan hari Road,
Punjab
PH 0208011004

Reference ID:(29139)

Pick the right meaning of the highlighted word in the sentence:
The lit fireplace gave the room a **congenial** atmosphere

A. A dark and dingy

B.A dull and boring person or environment

C.A pleasant and enjoyable person or environment

D.A disgusting person or situation

Answer:	C.A pleasant and enjoyable person or environment
Reference ID:(32684)	खालीलपैकी कोणता लोहचा धातू नाही?
	A.बॉक्साईट
	B.हेमेटाईट
	C.वूस्टाईट
	D.मॅग्नेटाईट
Answer:	A.बॉक्साईट
Reference ID:(18740)	अंजली कॉलेजमध्ये जाईल. या वाक्याचा काळ कोणता?
	A.साधा भविष्यकाळ
	B.साधा वर्तमानकाळ
	C.साधा भूतकाळ
	D.अपूर्ण वर्तमानकाळ
Answer:	A.साधा भविष्यकाळ
Reference ID:(21223)	जर BROCCOLI हा शब्द BCCILOR असेल आणि BOWEL हा शब्द BELOW असेल, तर CABBAGE हा शब्द _____ असेल.
	A.AABBECCG
	B.BBAACEG
	C.AABBEGC
	D.AABBCEG

Answer: D.AABBCEG

Reference ID:(30355) Find the word opposite in meaning to the word: **Nimble**

A.Clever

B.Alert

C.Dull

D.Fast

Answer: C.Dull

Reference ID:(31438) नव्याने नियुक्त केन्द्रीय दक्षता आयुक्त (सीव्हीसी) आणि मुख्य माहिती आयुक्त (सीआयसी) यांना पदाची शपथ कोण देतात?

A.राष्ट्रपती

B.भारताचे मुख्य न्यायाधीश

C.सीबीआय प्रमुख

D.सर्वोच्च न्यायालयाचे कोणतेही सद्य न्यायाधीश

Answer: A.राष्ट्रपती

Reference ID:(20996) मालिकेतील रिकामी जागा भरा: 12, 23, 45, 56, 78, 89, ____, 122, 144

A.113

B.112

C.111

D.114

Answer:	C.111
Reference ID:(16862)	जर @ आहे 'भागाकार' आणि \$ आहे 'गुणाकार', तर खालीलपैकी सर्वात मोठा पर्याय कोणता आहे?
	A.33@5
	B.1.5\$1.5
	C.31@4
	D.3\$1.5
Answer:	C.31@4
Reference ID:(27642)	Pick the correct meaning of the highlighted idiom or phrase from the following: Sheetal cast away her fears and accepted the job offer in another city.
	A.To throw aside
	B.To reject
	C.To be dejected
	D.To feel shy about
Answer:	A.To throw aside
Reference ID:(27615)	Identify the figure of speech in the following sentence: It will take me a second to get there.
	A.Euphemism
	B.Oxymoron
	C.Hyperbole
	D.Apostrophe

Answer: C.Hyperbole

Reference ID:(17116) खालीलपैकी सर्वात मोठा पर्याय कोणता आहे?

A.350 चे 70%

B.2100 चा 1/4

C.0.35 × 900

D.500 चा 2/5

Answer: B.2100 चा 1/4

Reference ID:(32686) महाराष्ट्रातील वर्धा जवळील "सेवाग्राम आश्रम" कोणी स्थापन केले?

A.पंडिता रमाबाई

B.विनोबा भावे

C.अण्णा हजारे

D.महात्मा गांधी

Answer: D.महात्मा गांधी

Reference ID:(18967) खालील शब्दाचा समास / समास प्रकार ओळखा.
भाषांतर

A.कर्मधारय

B.अव्ययीभाव

C.द्विगु

D.द्वंद्व

Answer:	A.कर्मधारय
Reference ID:(21250)	जर OWL हा शब्द NVK असेल आणि TABLE हा शब्द SZAKD असेल, तर PIZZAZ हा शब्द _____ असेल.
	A.OHYYYZ
	B.OHYZZY
	C.ZYYOHY
	D.OHYZZA
Answer:	B.OHYZZY
Reference ID:(23431)	'कंजूष' या शब्दाचा समानार्थी शब्द ओळखा.
	A.नमन
	B.कृपण
	C.दृष्ट
	D.अधम
Answer:	B.कृपण
Reference ID:(18486)	खालीलपैकी कोणते वाक्य प्रधानकर्तुक कर्मणी प्रयोगाचे नाही?
	A.रामाने आंबा खाल्ला
	B.पोलिसांनी चोर पकडला

C.प्रीतीने कविता वाचली

D.त्याचे पत्र लिहून झाले

Answer:

D.त्याचे पत्र लिहून झाले

Reference ID:(32680)

भारतात पहिला ई-पासपोर्ट कोणाला दिला गेला?

A.सोमनाथ चटर्जी

B.प्रणव मुखर्जी

C.नरेंद्र मोदी

D.प्रतिभा पाटील

Answer:

D.प्रतिभा पाटील

Reference ID:(28858)

Pick the right idiom which fits into the sentence: My words _____ on him.

A.Loaves and fish

B.Were a far cry

C.Fell flat

D.Daggers drawn

Answer:

C.Fell flat

Reference ID:(23912)

खालीलपैकी विरुद्धार्थी शब्दाची बरोबर जोडी ओळखा.

A.सुगंध x मुद्रंध

B.होकार x नकार

C.वात x वायू

D.कडक x टणक

Answer: B.होकार x नकार

Reference ID:(17143) $9.55 + 5.85 + 3.75 - (9.25 - 5.50 - 4.75) = \underline{\hspace{2cm}}$

A.20.15

B.20.1

C.20

D.20.6

Answer: A.20.15

Reference ID:(20488) जर $S + A + N + G = 41$, $G + I + R + L = 46$, तर $F + R + I + E + S = \underline{\hspace{2cm}}?$

A.57

B.61

C.58

D.60

Answer: A.57

Reference ID:(30636) Convert the following active to passive voice: She has written a novel

A.A novel has been written by her

B.A novel is written by her

C.A novel had been written by her

D.A novel was been written by her

Answer: A.A novel has been written by her

Reference ID:(28885) Supply the correct tense of the verb in the sentence: When I ___to the hospital, the doctor ____ the operation.

A.Went..... had performed

B.Was going..... will be performing

C.Go..... performed

D.Went..... is performing

Answer: A.Went..... had performed

Reference ID:(25788) खालीलपैकी निसर्ग संवर्धनासाठी कार्यरत असणारी भारतातील कोणती संस्था गिधाडांच्या प्रजनन कार्यक्रमाच्या संवर्धनासाठी कार्य करीत आहे?

A.बॉम्बे नॅचरल हिस्ट्री सोसायटी (BNHS)

B.सेव्ह व्हल्वर्स (Save Vultures)

C.बोर्ड फॉर इंडियन वाईल्डलाईफ

D.इंडियन वाईल्डलाईफ असोसिएशन

Answer: A.बॉम्बे नॅचरल हिस्ट्री सोसायटी (BNHS)

Reference ID:(31436) 'कान्हा टाइगर रिजर्व' भारतातील कोणत्या राज्यात आहे?

A.मध्य प्रदेश

B.गुजरात

C.तेलंगाना

D.छत्तीसगड

Answer: A.मध्य प्रदेश

Reference ID:(20207) X चे पूर्व दिशेला तोंड आहे. तो 90 अंश उजवीकडे वळतो. मग तो 45 अंश डावीकडे वळतो. मग तो 180 अंश वळतो. शेवटी तो डावीकडे 45 अंश वळतो. आता तो कोणत्या दिशेला तोंड करून उभा आहे?

A.पूर्व

B.पश्चिम

C.उत्तर

D.दक्षिण

Answer: B.पश्चिम

Reference ID:(34933) जर सांकेतिक भाषेत 432567 हे 523476 आहे , तर 543217 हे सांकेतिक भाषेत काय असेल?

A.633126

B.643126

C.634216

D.634126

Answer: D.634126

Reference ID:(22821) जर \$ आहे '+' आणि @ आहे '-', तर खालीलपैकी सर्वात लहान पर्याय कोणता आहे ?

A.12 \$ 55 @ 62 \$ 45 \$ 65 @ 103 \$ 42 \$ 57

B.18 \$ 17 @ 52 \$ 35 @ 56 \$ 104 @ 44 @ 37

C.19 \$ 15 @ 162 \$ 45 \$ 36 \$ 103 \$ 42 \$ 17

D.38 \$ 107 @ 52 @ 35 @ 56 \$ 104 @ 44 @ 37

Answer: B.18 \$ 17 @ 52 \$ 35 @ 56 \$ 104 @ 44 @ 37

Reference ID:(27869) Pick the correct meaning of the highlighted idiom or phrase from the following:
On the flip side Amit realised he was better off with a leaner staff in his office.

A.On the other hand

B.Thinking from a negative point of view

C.Seeing from both sides of a situation

D.After a lot of thinking

Answer: A.On the other hand

Reference ID:(16889) $5/20 + 11.5 - 5/25 = ?$

A.12.975

B.11.55

C.12.175

D.12.7

Answer: B.11.55

Reference ID:(23939)	खालीलपैकी विरुद्धार्थी शब्दाची चुकीची जोडी ओळखा.
	A.झपाझप x सावकाश
	B.चढण x उतरण
	C.स्तुती x वंदना
	D.घट्ट x सैल
Answer:	C.स्तुती x वंदना
Reference ID:(30101)	Pick the right antonym for the word: Deficient
	A.Complete
	B.Partial
	C.Sketchy
	D.Extensive
Answer:	A.Complete
Reference ID:(25782)	भारतामध्ये सर्वात जास्त वाघांची संख्या खालीलपैकी कोणत्या राज्यामध्ये आहे?
	A.कर्नाटक
	B.मध्य प्रदेश
	C.प. बंगाल
	D.आसाम
Answer:	A.कर्नाटक

Reference ID:(19729)	“खाई त्याला खवखवे” या म्हणीचा अर्थ खालीलपैकी कोणता ते ओळखा?
	A.एखादी व्यक्ती जेवढे अधाशासारखे अन्न खाते तेवढी त्याला अधिक भूक लागत जाते
	B.हावरट पण केल्यास गळ्यामध्ये खवखव सुरु होते म्हणून थोडे कमी खावे
	C.वाईट कृत्य करणाऱ्याच्या मनात सतत ही जाणीव असते कि त्याने चुकीचे कृत्य केले आहे
	D.जो सतत खात राहतो त्याला पोटदुखीचा त्रास निश्चित होतोच
Answer:	C.वाईट कृत्य करणाऱ्याच्या मनात सतत ही जाणीव असते कि त्याने चुकीचे कृत्य केले आहे

Reference ID:(25789)	खालीलपैकी कोणत्या ठिकाणी प्रवाळ भितीका (कोरल रीफ) आढळत नाही?
	A.मन्नारचे आखात
	B.सुंदरबन त्रिभुज प्रदेश
	C.कच्छचे आखात
	D.अंडमान आणि निकोबार बेटे
Answer:	B.सुंदरबन त्रिभुज प्रदेश

Reference ID:(27034)	Find the meaning of the highlighted word in the sentence: Trim the grass using a powerful mower.
	A.Short
	B.Decorate
	C.Grow
	D.Crop
Answer:	D.Crop

Reference ID:(17851)

54 च्या 1/12 + 50 च्या 60% च्या 200% + 0.30 × 120 = _____

A.102

B.102.5

C.99.75

D.100.5

Answer:

D.100.5

Reference ID:(24928)

पुढील शब्दसमूहासाठी योग्य शब्द निवडा.
तंटा सोडविण्यासाठी उभय पक्षांनी मान्य केलेले लोक

A.पक्षपाती

B.पंच

C.निरपेक्ष

D.पुढारी

Answer:

B.पंच

Reference ID:(20234)

एक माणूस त्याच्या घरापासून उत्तर दिशेने 7 कि.मी. चालतो.
मग तो डावीकडे वळतो आणि 4 कि.मी. चालतो.
मग तो उजवीकडे वळतो आणि 1 कि.मी. चालतो.
मग तो उजवीकडे वळतो आणि 7 कि.मी. चालतो.
मग तो उजवीकडे वळतो आणि 4 कि.मी. चालतो.
मग तो उजवीकडे वळतो आणि 3 कि.मी. चालतो.
तो त्याच्या घरापासून किती दूर आहे?

A.4 कि.मी.

B.3. 5 कि.मी.

C.2 कि.मी.

D.2. 5 कि.मी.

Answer: A.4 कि.मी.

Reference ID:(22239) खालीलपैकी सर्वात मोठा पर्याय कोणता आहे ?

A.52 - 55 - 32 + 75 + 105 - 83 + 42 + 57

B.48 - 17 - 52 + 35 - 156 + 104 + 44 + 71

C.19 + 15 - 12 + 45 + 36 - 103 + 42 + 107

D.44 + 67 - 52 - 35 - 56 + 104 - 44 - 13

Answer: A.52 - 55 - 32 + 75 + 105 - 83 + 42 + 57

Reference ID:(30609) Pick the correct meaning of the highlighted idiom: Your parents presence in your life is **worth its weight in gold** .

A.Very auspicious

B.Very lucky with something

C.Very valuable

D.Getting a new start in life

Answer: C.Very valuable

Reference ID:(25790) 'रेड डाटा बुक' (IUCN Red List) मधील 'हरित पृष्ठे' काय दर्शवितात?

A.आधीपासूनच धोकामुक्त असणाऱ्या वन्यप्रजातीची यादी.

B.पूर्वी धोकाग्रस्त असलेल्या परंतु संवर्धन कार्यक्रमांमुळे धोक्यातून बाहेर पडलेल्या वन्यप्रजाती.

C.जीवसंख्येत सतत वाढ होत असणाऱ्या वन्यप्रजाती.

D.धोकाग्रस्त बनलेल्या वनस्पती प्रजाती

Answer: B.पूर्वी धोकाग्रस्त असलेल्या परंतु संवर्धन कार्यक्रमांमुळे धोक्यातून बाहेर पडलेल्या वन्यप्रजाती.

Reference ID:(31443) महाराष्ट्रात पेंच नदीवर कोणते धरण बांधलेले आहे?

A.इसापूर

B.तोतला डोह

C.उजनी

D.जायकवाडी

Answer: B.तोतला डोह

Reference ID:(32682) दिल्लीतील 'शांतीवन' भारताच्या कोणत्या पंतप्रधानांना समर्पित केलेले स्मारक आहे?

A.राजीव गांधी

B.जवाहरलाल नेहरू

C.अटल बिहारी वाजपेयी

D.इंदिरा गांधी

Answer: B.जवाहरलाल नेहरू

Reference ID:(23685) 'स्वस्थ' या शब्दाचा विरुद्धार्थी शब्द ओळखा.

A.बैचेन

B.चैनी

C.अल्लड

D.शरीर

Answer: A.बैचेन

Reference ID:(31439) खालीलपैकी कोणती व्यक्ती खेळाडू आहे?

A.साक्षी मलिक

B.शोभा डे

C.अलीशा चिनाँय

D.यामी गौतम

Answer: A.साक्षी मलिक

Reference ID:(23658) खालीलपैकी समानार्थी शब्दाची चुकीची जोडी ओळखा

A.ओळख – परिचय

B.गुन्हा – अपराध

C.झोपडी – महाल

D.छिद्र – भोक

Answer: C.झोपडी – महाल

Reference ID:(16535) 30 च्या 80% - 16/20 + 2.25 = _____

A.25.95

B.25.45

C.25.2

D.25.85

Answer: B.25.45

Reference ID:(25787) भारतातील खालील राज्यांचा एकूण भौगोलिक क्षेत्रानुसार जास्त वनांच्या टक्केवारीनुसार (%) योग्य क्रम कोणता आहे?

A.मिझोराम > अरुणाचल प्रदेश > त्रिपुरा > नागालँड

B.अरुणाचल प्रदेश > मिझोराम > नागालँड > मेघालय

C.मिझोराम > अरुणाचल प्रदेश > नागालँड > त्रिपुरा

D.मिझोराम > अरुणाचल प्रदेश > त्रिपुरा > मेघालय

Answer: C.मिझोराम > अरुणाचल प्रदेश > नागालँड > त्रिपुरा

Reference ID:(18232) जे हिंडती पशु समस्त धरातळाला,
जे मीन सेविति पयोनिधिच्या जळाला,
व्योमी विहार करिती खग जे तयांसी
यांची - अहर्निश भजाच तुम्ही प्रभूसी

वरील ओळींमधील वृत्त कोणते?

A.भुजंगप्रयात

B.ओवी

C.पादाकुलक

D.वसंततिलका

Answer: D.वसंततिलका

Reference ID:(19221) "धाबे दणाणणे" या वाक्प्रचाराचा खालीलपैकी कोणता अर्थ योग्य आहे?

A.प्रचंड घाबरणे

B.अतिशय जोरात धोब्याने कपडे धुणे

C.जोरात उड्या मारणे

D.स्तुती करणे

Answer: A.प्रचंड घाबरणे

Reference ID:(30890) Identify the figure of speech in the following sentence: Stop being a big baby.

A.Oxymoron

B.Hyperbole

C.Metaphor

D.Simile

Answer: A.Oxymoron

Reference ID:(19983) 'मानभंग' या शब्दाचा समानार्थी शब्द ओळखा.

A.अपमान

B.मान्यता

C.सन्मान

D.शिक्षा

Answer: A.अपमान

Reference ID:(29366) Pick the right meaning of the highlighted word in the sentence:
You should always warm up before you exercise so that your muscles are **pliable**.

A.Something which is easily flexible

B.Something inelastic

C.Something easily breakable

D.Something which is very hot

Answer: A.Something which is easily flexible

Reference ID:(29393) Pick the right meaning of the highlighted word in the sentence:
He was angry with his father's **rebukes**.

A.To be stubborn about something

B.Endorsement about something

C.Seldom do something about anything

D.Disapproval about something

Answer: D.Disapproval about something

Reference ID:(18994)	खालील शब्दाचा समास / समास प्रकार ओळखा. सनाथ
	A.द्वंद्व
	B.सहबहुव्रीहि
	C.अव्ययीभाव
	D.तत्पुरुष
Answer:	B.सहबहुव्रीहि
Reference ID:(19475)	प्रश्नात दिलेल्या वाक्यप्रचाराचा योग्य वापर असलेले वाक्य पर्यायांमधून ओळखा. धारेवर धरणे
	A.अनिताकाकी नेहेमी फळे कापताना सुरी धारेवर धरून फळे कापायची.
	B.जोशीबुवा नेहेमी देवाला अभिषेक करताना दुधाचे भांडे धारेवर धरायचे.
	C.जगातील सर्वात जास्त पाउस पडणारी जागा म्हणजे चेरापुंजी जिथे पाऊस धारेवर धरून पडत असतो.
	D.बास्केटबॉल स्पर्धेत शाळेच्या संघाचा निष्कारण पराभव झाला तर प्रशिक्षक सर्व संघाला धारेवर धरायचे.
Answer:	D.बास्केटबॉल स्पर्धेत शाळेच्या संघाचा निष्कारण पराभव झाला तर प्रशिक्षक सर्व संघाला धारेवर धरायचे.
Reference ID:(31435)	पहिले 'सागवृक्षाचे संग्रहालय (टीक संग्रहालय)' कोणत्या शहरात स्थित आहे?
	A.कोडाईकनाल
	B.ऊटी
	C.निलांबुर
	D.तिरुचिरापल्ली
Answer:	C.निलांबुर

Reference ID:(17878)	X हा Y च्या 20% आहे. मग Y हा X च्या _____ % आहे.
	A.20
	B.1000
	C.500
	D.400
Answer:	C.500
Reference ID:(24447)	प्रश्नातील वाक्यात रिकामी जागा भरण्यास सर्वात योग्य शब्द निवडा. आपल्या कुटुंबासाठी आपण पुरेसा वेळ देऊ शकत नाही याची अनेक सैनिकांना वाटत असते.
	A.रवंथ
	B.खंत
	C.संथ
	D.दंत
Answer:	B.खंत
Reference ID:(17624)	45 च्या $\frac{1}{18}$ + 25 च्या 30% च्या 200% + $0.25 \times 150 =$ _____
	A.56.5
	B.55
	C.57
	D.54.25
Answer:	B.55

Reference ID:(31440)	खालीलपैकी कोणते शहर एका राज्याची राजधानी आहे?
	A.दिसपुर
	B.कोईम्बतूर
	C.अहमदाबाद
	D.दार्जीलिंग
Answer:	A.दिसपुर
Reference ID:(32683)	पुढीलपैकी कोणते योग्यरित्या जुळलेले नाही? (शास्त्रीय नृत्य - भारतीय राज्य)
	A.भरतनाट्यम-तमिळनाडु
	B.कथकली-उत्तर प्रदेश
	C.सतरिया-आसाम
	D.कुचिपुडी-आंध्र प्रदेश
Answer:	B.कथकली-उत्तर प्रदेश
Reference ID:(32678)	भारतीय ऊस संशोधन संस्था (आयआयएसआर)(Indian Institute of Sugarcane Research) _____ येथे स्थित आहे.
	A.महाराष्ट्र
	B.पश्चिम बंगाल
	C.मध्य प्रदेश
	D.उत्तर प्रदेश

Answer: D.उत्तर प्रदेश

Reference ID:(31437) संविधान सभेने भारताच्या संविधानावर किती वर्षे, महिने आणि दिवस कार्य केले?

A.2 वर्षे, 11 महिने आणि 17 दिवस

B.3 वर्षे, 12 महिने आणि 16 दिवस

C.4 वर्षे, 18 महिने आणि 6 दिवस

D.वरीलपैकी काहीही नाही

Answer: A.2 वर्षे, 11 महिने आणि 17 दिवस

Reference ID:(25182) 'हरेक' या शब्दाचा खालीलपैकी योग्य संधी विग्रह ओळखा.

A.हर + ऐक

B.हर + एक

C.हर + क

D.हरे + एक

Answer: B.हर + एक

Reference ID:(24901) पुढील शब्दसमूहासाठी योग्य शब्द निवडा.
वर्णन करण्याची हातोटी किंवा पध्दती

A.लेखनशैली

B.देहबोली

C.वर्णनशैली

D.आत्मचिंतन

Answer:

C.वर्णनशैली

Reference ID:(30382)

Find the word opposite in meaning to the word: **Pace**

A.March

B.Stride

C.Slow

D.Gait

Answer:

C.Slow

Reference ID:(25409)

'काकडारती' या शब्दाचा खालीलपैकी योग्य संधी विग्रह ओळखा.

A.काकड + रती

B.काकडा + अरती

C.काकड + आरती

D.काक + आरती

Answer:

C.काकड + आरती

Reference ID:(25784)

ठाणे क्रीक फ्लेमिंगो अभयारण्य हे _____ चे उदाहरण आहे.

- A.समुद्री संरक्षित क्षेत्र
- B.राष्ट्रीय उद्यान
- C.जागतिक वारसा साइट
- D.जीवावरण राखीव क्षेत्र

Answer:

A.समुद्री संरक्षित क्षेत्र

Reference ID:(24420)

खालीलपैकी व्याकरणाच्या दृष्टीने शुद्ध वाक्याचा पर्याय निवडा.

- A.त्याची त्याच्या गुरूंवर निसीम भक्ती होती.
- B.गुरुची आज्ञा शिरसांवद्य मानावी.
- C.ज्ञानेश्वरांनी संजीवन समाधी घेतली.
- D.रुषींची तपस्या भंग पावली.

Answer:

C.ज्ञानेश्वरांनी संजीवन समाधी घेतली.

Reference ID:(27896)

Find the meaning of the highlighted word in the sentence: Lucky for him, his **alibi** is watertight.

- A.Request
- B.Question
- C.Excuse
- D.Denial

Answer:

C.Excuse

Reference ID:(20461)	X चे दक्षिण पूर्व दिशेला तोंड आहे. तो 45 अंश डावीकडे वळतो. मग तो 90 अंश उजवीकडे वळतो. मग तो 180 अंश वळतो. मग तो 45 अंश उजवीकडे वळतो. शेवटी तो डावीकडे 45 अंश वळतो. आता तो कोणत्या दिशेला तोंड करून उभा आहे?
	A.पश्चिम
	B.दक्षिण
	C.पूर्व
	D.उत्तर
Answer:	D.उत्तर
Reference ID:(30863)	Identify the figure of speech in the following sentence: When he reached the top of the hill he felt as strong as an ox.
	A.Metaphor
	B.Simile
	C.Apostrophe
	D.Euphemism
Answer:	B.Simile
Reference ID:(29620)	Pick the Synonym for the word: decimate
	A.destroy
	B.create
	C.subside
	D.patch
Answer:	A.destroy

Reference ID:(28631)	Pick the right idiom which fits into the sentence: The two brothers often _____ with each other
	A.Split hair
	B.Turn one's tail
	C.Neck and neck
	D.Blue blood
Answer:	A.Split hair
Reference ID:(28377)	Find the meaning of the highlighted word in the sentence: Ergo , your principle is to use powerful words in order to convey ideas.
	A.With regard
	B.Unacceptably
	C.Irrevocably
	D.Therefore
Answer:	D.Therefore
Reference ID:(29112)	Fill in the blanks using the right form of simple present or present continuous tense: We _____ a battle against population growth on many fronts.
	A.Are fighting
	B.Fight
	C.Have fought
	D.Will fight

Answer: A.Are fighting

Reference ID:(28604) Find the meaning closest to the highlighted word: **Graphic**

A.Unclear

B.Obscure

C.Vague

D.Striking

Answer: D.Striking

Reference ID:(34906) जर $88 \times 32 = 240$, $71 \times 7 = 156$ आणि $31 \times 22 = 106$, तर $55 \times 8 = ?$

A.63

B.118

C.126

D.124

Answer: C.126

Reference ID:(31442) भारतातील पहिल्या महिला राष्ट्रपती कोण होत्या?

A.प्रतिभा पाटील

B.सरोजिनी नायडू

C.विजयलक्ष्मी पंडित

D.नजमा हेपतुल्ला

Answer: A.प्रतिभा पाटील

Reference ID:(25783)	भारतातील क्षेत्रफळाच्या दृष्टीने सर्वात मोठ्या आकाराचे राष्ट्रीय उद्यान खालीलपैकी कोणते आहे?
	A.हेमिस राष्ट्रीय उद्यान
	B.नामडाफा राष्ट्रीय उद्यान
	C.काजीरंगा राष्ट्रीय उद्यान
	D.राजीव गांधी राष्ट्रीय उद्यान
Answer:	A.हेमिस राष्ट्रीय उद्यान
Reference ID:(25155)	समूहदर्शक शब्द ओळखा. जशी यात्रेकरुंची जत्रा तशी सैनिकांची
	A.पलटण
	B.टोळी
	C.रांग
	D.लढाई
Answer:	A.पलटण
Reference ID:(32681)	महात्मा गांधी यांनी सत्याग्रह प्रथम कोणत्या ठिकाणी सुरू केला होता?
	A.दिल्ली
	B.चंपारण
	C.कलकत्ता
	D.बडोदा
Answer:	B.चंपारण

Reference ID:(19702)

पुढील म्हण पूर्ण करण्यासाठी योग्य पर्याय निवडा. कोठे इंद्राचा ऐरावत नि

- A.कोठे विष्णूचा गरूड
- B.कोठे शंकराचा नंदी
- C.कोठे इंद्राची नगरी
- D.कोठे श्यामभट्टाची तट्टणी

Answer:

D.कोठे श्यामभट्टाची तट्टणी

Reference ID:(25781)

भारतात वन महोत्सवाला केव्हा सुरुवात झाली?

- A.1960
- B.1950
- C.1970
- D.1940

Answer:

B.1950

Reference ID:(32685)

मराठा साम्राज्यात गोळा केलेला कर _____ म्हणून ओळखला जात असे.

- A.चौथ
- B.तीर्थयात्रा कर
- C.जाझिया
- D.यापैकी काहीही नाही

Answer:

A.चौथ

Reference ID:(25786) भारतातील 'शीत वाळवंट' हे जीवावरण राखीव क्षेत्र कोणत्या राज्यामध्ये स्थित आहे?

A.मध्य प्रदेश

B.गुजरात

C.हिमाचल प्रदेश

D.अरुणाचल प्रदेश

Answer: C.हिमाचल प्रदेश

Reference ID:(30128) Find the meaning of the word:: **Inhibit**

A.Clear

B.Open

C.Hamper

D.Free

Answer: C.Hamper

Reference ID:(32687) 'बटरफ्लाय स्ट्रोक' हा शब्द कोणत्या खेळाशी संबंधित आहे?

A.कुस्ती

B.टेनिस

C.जलतरण

D.वॉलीबॉल

Answer:

C.जलतरण

Reference ID:(31117)



महाराष्ट्रातील नकाशात बाणने दर्शविलेला जिल्हा खालीलपैकी कोणता आहे?

A.परभणी

B.गडचिरोली

C.गोंदीया

D.चंद्रपूर

Answer:

B.गडचिरोली

Reference ID:(29647)

Pick the Synonym for the word: Vain

A.Futile

B.Everlasting

C.Real

D.Stale

Answer:

A.Futile

Reference ID:(28150)

Find the word opposite in meaning to the word: **Discreet**

A.Rash

B.Cautious

C.Careful

D.Restrained

Answer:

A.Rash

Reference ID:(27361)

Identify the figure of speech in the following sentence: They wore jeans, which made me stand out like a sore thumb.

A.Apostrophe

B.Metaphor

C.Simile

D.Euphemism

Answer:

C.Simile

Reference ID:(24166)

खालीलपैकी व्याकरणाच्या दृष्टीने शुद्ध शब्द-लेखन असलेला शब्द ओळखा.

A.सहानुभूती

B.साहनुभुती

C.सहानूभुति

D.साहनुभूती

Answer:

A.सहानुभूती

Reference ID:(28123)

Find the word closest in meaning to the highlighted word: Caper

A.Dress down

B.Serious

C.Frolic

D.Calm

Answer:

C.Frolic

Reference ID:(18713)

खालीलपैकी कोणत्या वाक्यात रीती भूतकाळ नाही?

A.तो चणे विकतो.

B.समर्थ रामदास व्यायामाचे महत्त्व सांगत असत.

C.आजी मला खाऊ देत असे.

D.आमचे शिक्षक कडक शिक्षा करत असत.

Answer:

A.तो चणे विकतो.

Reference ID:(21477)	जर A = 1, B = 2,M = 13; आणि N = 13, O = 12, Z = 1, तर खालील पैकी कोणते पर्याय बरोबर आहे?
	A.{B + U + G} > {S + H + E}
	B.{B + U + G} = {S + H + E}
	C.{B + U + G} < {S + H + E}
	D.{B + U + G} = {J + A + Y}
Answer:	C.{B + U + G} < {S + H + E}

Reference ID:(20742)	जर OH = 7540, S U N = 9510570, तर P L A Y = ___?
	A.8060525
	B.1612125
	C.7317
	D.80605125
Answer:	D.80605125

Reference ID:(19956)	पुढील विधानाला जी म्हण योग्य असेल असा पर्याय ओळखा: सुट्टीत मावशीच्या घरी गेलेल्या राजसच्या ताटात त्याची नावडती भाजी होती. तरी त्याने ती _____ म्हणत चुपचाप खाल्ली.
	A.भरल्या ब्राम्हणा दही करकरीत
	B.नावडतीचे मीठ अळणी
	C.माय मरो पण मावशी जगो
	D.आलीया भोगासी असावे सादर

Answer:

D.आलीया भोगासी असावे सादर

Question Paper Title : FG_04

Date of Exam : 10-06-2019 02:30 PM

Reference ID:(21702) जर A = 1, B = 2, C = 3, Z = 26, तर खालील पैकी कोणते पर्याय बरोबर आहे?

A. $\{J + O + Y\} = \{T + R + Y\}$

B. $\{J + O + Y\} < \{T + R + Y\}$

C. $\{J + O + Y\} > \{T + R + Y\}$

D. $\{T + R + Y\} = \{J + A + C + K\}$

Answer: B. $\{J + O + Y\} < \{T + R + Y\}$

Reference ID:(22591) जर \$ आहे '+' आणि @ आहे '-', तर खालीलपैकी सर्वात मोठा पर्याय कोणता आहे ?

A. 25 @ 22 @ 35 \$ 72 \$ 102 @ 83 \$ 45 \$ 27

B. 48 @ 17 @ 25 \$ 32 @ 126 \$ 104 \$ 44 \$ 71

C. 19 \$ 12 @ 15 \$ 42 \$ 36 @ 103 \$ 45 \$ 107

D. 44 \$ 67 @ 25 @ 32 @ 26 \$ 104 @ 44 @ 13

Answer: C. 19 \$ 12 @ 15 \$ 42 \$ 36 @ 103 \$ 45 \$ 107

Reference ID:(21221) जर TOMATO हा शब्द AOOMTT असेल आणि BOWEL हा शब्द EOBLW असेल, तर ZIGZAG हा शब्द _____ असेल.

A. AGGIZZ

B. AIGGZZ

C. AZZIGG

D.AIZZGG

Answer: B.AIGGZZ

Reference ID:(21248) जर OWL हा शब्द NVK असेल आणि TABLE हा शब्द SZAKD असेल, तर STATUE हा शब्द _____ असेल.

A.SRZSTD

B.ZSRTSD

C.RSZSTD

D.RSZTSD

Answer: C.RSZSTD

Reference ID:(31421) खालीलपैकी कोणता जिल्हा महाराष्ट्रात नाही?

A.अहमदनगर

B.गुना

C.चंद्रपूर

D.नंदुरबार

Answer: B.गुना

Reference ID:(24672) प्रश्नातील वाक्यात रिकामी जागा भरण्यास सर्वात योग्य शब्द निवडा.
मैदानी स्पर्धा संपल्यानंतर अनेक मान्यवरांच्या उपस्थितीतवितरण समारंभ पार पडला.

A.आन्हिक

B.आकाशक

C.बक्षीस

D.पारिपत्य

Answer:

C.बक्षीस

Reference ID:(29872)

Pick the right antonym for the word:
barbaric

A.Tender

B.Cruel

C.Grim

D.Savage

Answer:

A.Tender

Reference ID:(29899)

Pick the right antonym for the word: Worthwhile

A.Futile

B.Empty

C.Abortive

D.Precious

Answer:

A.Futile

Reference ID:(17876)

X हा Y हून 300% नी मोठा आहे. मग Y हा X हून _____ % लहान आहे.

A.75

B.50

C.25

D.66.66

Answer:

A.75

Reference ID:(23910)

खालीलपैकी विरुद्धार्थी शब्दाची बरोबर जोडी ओळखा

A.सुवर्ण x कनक

B.पाद x पाय

C.थोर x सान

D.कांगावा x तक्रार

Answer:

C.थोर x सान

Reference ID:(29137)

Pick the right meaning of the highlighted word in the sentence:
None of the servers wanted to wait on the **captious** woman who complained about everything.

A.A person who is hard to please

B.A person who is undemanding and easy going

C.A charitable kind of person

D.A selfish kind of person

Answer:

A.A person who is hard to please

Reference ID:(34931)

जर सांकेतिक भाषेत 432567 हे 523476 आहे , तर 876745 हे सांकेतिक भाषेत काय असेल?

A.977654

B.967754

C.975654

D.967654

Answer: D.967654

Reference ID:(19219) चांदीचा चमचा तोंडात घेऊन जन्माला येणे. या वाक्प्रचाराचा खालीलपैकी अर्थ कोणता?

A.गर्भ श्रीमंत असणे.

B.योग्यतेप्रमाणे वागवणे.

C.परिस्थिती वाईट होणे.

D.जन्मतः च चांदीचे दान असणे.

Answer: A.गर्भ श्रीमंत असणे.

Reference ID:(28883) Supply the correct tense of the verb in the sentence: The children who ___ kites from him ten years ago ___ now adults.

A.Bought..... were

B.Buy..... are

C.Bought..... will be

D.Buy..... were

Answer: A.Bought..... were

Reference ID:(17368) $9.65 + 5.95 + 3.75 - (2.75 + 3.5 - 4.75 + 0.5) = \underline{\hspace{2cm}}$

A.16.05

B.17.60

C.17.35

D.17.10

Answer: C.17.35

Reference ID:(31424) महाराष्ट्रात खालीलपैकी कोणत्या जिल्ह्याचे क्षेत्रफळ सर्वात जास्त आहे?

A.सोलापूर

B.गडचिरोली

C.चंद्रपुर

D.अहमदनगर

Answer: D.अहमदनगर

Reference ID:(22565) खालीलपैकी सर्वात लहान पर्याय कोणता आहे ?

A.12 + 55 - 62 + 45 + 65 - 103 + 42 + 57

B.18 + 17 - 52 + 35 - 56 + 104 - 44 - 37

C.19 + 15 - 162 + 45 + 36 + 103 + 42 + 17

D.38 + 107 - 52 - 35 - 56 + 104 - 44 - 37

Answer: B.18 + 17 - 52 + 35 - 56 + 104 - 44 - 37

Reference ID:(29110)

Fill in the blanks using the right form of simple present or present continuous tense: I ___ money usually. I ____ it today to take my daughter to the doctor.

A.Do not borrow..... am borrowing

B.Do not borrow..... borrowed

C.Had not borrowed..... borrowed

D.Have not borrowed..... am borrowing

Answer:

A.Do not borrow..... am borrowing

Reference ID:(32663)

भारतातील उच्च न्यायालयाच्या मुख्य न्यायाधीशाची नियुक्ती _____द्वारे केली जाते.

A.राष्ट्रपती

B.पंतप्रधान

C.राज्यपाल

D.कायदा आणि न्याय मंत्री

Answer:

A.राष्ट्रपती

Reference ID:(23937)

खालीलपैकी विरुद्धार्थी शब्दाची चुकीची जोडी ओळखा.

A.समता x विषमता

B.जलद x घाईत

C.कृतज्ञ x कृतघ्न

D.उगवती x मावळती

Answer:	B.जलद x घाईत
Reference ID:(28121)	Find the meaning of the highlighted word from the sentence: We are always trying to improve the caliber of our schools.
	A.Weakness
	B.Competence
	C.Inferiority
	D.Ineptness
Answer:	B.Competence
Reference ID:(18711)	खालीलपैकी योग्य जोडी ओळखा.
	A.मी आंबा खाईन. - पूर्ण भूतकाळ
	B.आम्ही सर्कस पहायला गेलो होतो. – अपूर्ण वर्तमानकाळ
	C.तिला नेहमीच उशीर होतो. – रीती वर्तमानकाळ
	D.ती चिडते. – चालू वर्तमानकाळ
Answer:	C.तिला नेहमीच उशीर होतो. – रीती वर्तमानकाळ
Reference ID:(25180)	'लघुत्तरी' या शब्दाचा खालीलपैकी योग्य संधी विग्रह ओळखा.
	A.लघू + त्तरी
	B.लघू: + उत्तरी
	C.लघू + उत्तरी

D.लघू + उत्तरी

Answer:

D.लघू + उत्तरी

Reference ID:(20713)

जर GO = 44, F L Y = 86, B U G = 60, तर J A C K = __?

A.50

B.52

C.53

D.54

Answer:

A.50

Reference ID:(27005)

Select the correct passive voice form of the sentence: The judge pronounced the sentence.

A.Is the sentence being pronounced by the judge?

B.The judge is pronouncing the sentence

C.The sentence was pronounced by the judge

D.Sentencing was pronounced by the judge

Answer:

C.The sentence was pronounced by the judge

Reference ID:(25153)

समूहदर्शक शब्द ओळखा. जशी उतारुंची झुंबड तशी साधूंचा

A.जथा

B.जमावडा

C. झुंड

D. घोळका

Answer: A. जथा

Reference ID:(27894) Pick the correct meaning of the highlighted idiom or phrase from the following:
The old couple **was left high and dry** by his children.

A. Unattended too

B. With utmost care

C. Being thoughtful in thought and action

D. Without any thought

Answer: A. Unattended too

Reference ID:(18992) खालील शब्दाचा समास / समास प्रकार ओळखा.
सक्रिय

A. द्वंद्व

B. सहबहुव्रीहि

C. अव्ययीभाव

D. तत्पुरुष

Answer: B. सहबहुव्रीहि

Reference ID:(31417) भारताचा पूर्व तटीय मैदानाचा दक्षिणेकडील भाग म्हणून ओळखला जातो.

A. कोकण किनारपट्टी

B.मलबार किनारपट्टी

C.कोरोमंडल किनारपट्टी

D.उत्तरी सरकार किनारपट्टी

Answer:

C.कोरोमंडल किनारपट्टी

Reference ID:(20205)

X चे उत्तर दिशेला तोंड आहे. तो 45 अंश उजवीकडे वळतो. मग तो 180 अंश वळतो. मग तो 45 अंश डावीकडे वळतो. शेवटी तो डावीकडे 45 अंश वळतो. आता तो कोणत्या दिशेला तोंड करून उभा आहे?

A.उत्तर पूर्व

B.दक्षिण पूर्व

C.उत्तर पश्चिम

D.दक्षिण पश्चिम

Answer:

B.दक्षिण पूर्व

Reference ID:(24418)

खालीलपैकी व्याकरणाच्या दृष्टीने शुध्द वाक्याचा पर्याय निवडा.

A.आपल्या सुभेच्छा मिळाल्या.

B.विराजला उन्हामुळे मृच्छा आली.

C.तिने पाहुण्यांचे आदरातिथ्य केले.

D.माझ्या मनाचे इस्पित साध्य झाले.

Answer:

A.आपल्या सुभेच्छा मिळाल्या.

Reference ID:(19246)	"मोठ्या कामात लहान काम उद्भवण" ह्या अर्थाचा खालीलपैकी कोणता वाक्प्रचार आहे ते ओळखा.
	A.शेंडीस फुले बांधणे
	B.शेंडी हातात सापडणे
	C.शेंडी फुटणे
	D.शेंडीचा गुंता होणे
Answer:	C.शेंडी फुटणे

Reference ID:(32667)	पोर्ट ब्लेअर ही _____ ची राजधानी आहे.
	A.अंदमान आणि निकोबार बेट
	B.नागालँड
	C.मिझोरम
	D.दादर आणि नगर हवेली
Answer:	A.अंदमान आणि निकोबार बेट

Reference ID:(16860)	जर @ आहे 'भागाकार' आणि \$ आहे 'गुणाकार', तर खालील पर्यायांपैकी दुसऱ्या क्रमांकाचा सर्वात लहान कोण आहे?
	A.24@5
	B.1.5\$4.25
	C.29@4

D.3\$2.5

Answer: B.1.5\$4.25

Reference ID:(27359) Identify the figure of speech in the following sentence: This dress is perfect because it fits like a glove.

A.Euphemism

B.Personification

C.Metaphor

D.Simile

Answer: D.Simile

Reference ID:(20459) X चे उत्तर पूर्व दिशेला तोंड आहे. तो 45 अंश डावीकडे वळतो. मग तो 90 अंश उजवीकडे वळतो. मग तो 180 अंश वळतो. मग तो 45 अंश उजवीकडे वळतो. शेवटी तो डावीकडे 45 अंश वळतो. आता तो कोणत्या दिशेला तोंड करून उभा आहे?

A.पश्चिम

B.दक्षिण

C.पूर्व

D.उत्तर

Answer: A.पश्चिम

Reference ID:(31423) महाराष्ट्रातील दुसऱ्या क्रमांकाचे साल्हेर शिखर खालीलपैकी कोणत्या जिल्ह्यात आहे?

A.सातारा

B.रत्नागिरी

C.पुणे

D.नाशिक

Answer: D.नाशिक

Reference ID:(29618) Pick the right meaning of the highlighted word in the sentence:
The boy thought his holiday was **stupendous**

A.Something very boring

B.Something of little importance

C.Something that is amazing

D.Something terrible

Answer: C.Something that is amazing

Reference ID:(17622) 39 च्या $\frac{1}{6}$ + 50 च्या 60% च्या 200% + $0.25 \times 60 = \underline{\hspace{2cm}}$

A.83

B.81.5

C.83.5

D.80.75

Answer: B.81.5

Reference ID:(19727) कोरड्या बरोबर ओले जळते. या म्हणीतून काय व्यक्त होते?

A.समानता

B.बंधुभाव

C.वाईट संगत

D.शत्रुत्व

Answer:

C.वाईट संगत

Reference ID:(27386)

Identify the figure of speech in the following sentence: The alarm clock yells at me every morning to get out of bed.

A.Apostrophe

B.Personification

C.Hyperbole

D.Euphemism

Answer:

B.Personification

Reference ID:(16506)

सहा जण बिनाॅय, चारु, अॅलेक्स, डॅनी, एलन आणि फिरोज हे दोन रांगामध्ये एकमेकांकडे तोंड करुन बसले आहेत. दोन्ही रांगामध्ये प्रत्येकी तीन जण आहेत. एलन हा कोणत्याही रांगेच्या शेवटी बसलेला नाही. डॅनी हा फिरोजच्या डावीकडे दुसऱ्या क्रमांकावर आहे. एलनचा शेजारी बसलेला अॅलेक्स हा डॅनीच्या कर्णाभिमुख आहे. चारु हा फिरोजच्या शेजारी आहे. खालीलपैकी कोण एकाच रांगेत आहेत?

A.अॅलेक्स आणि बिनाॅय

B.फिरोज आणि बिनाॅय

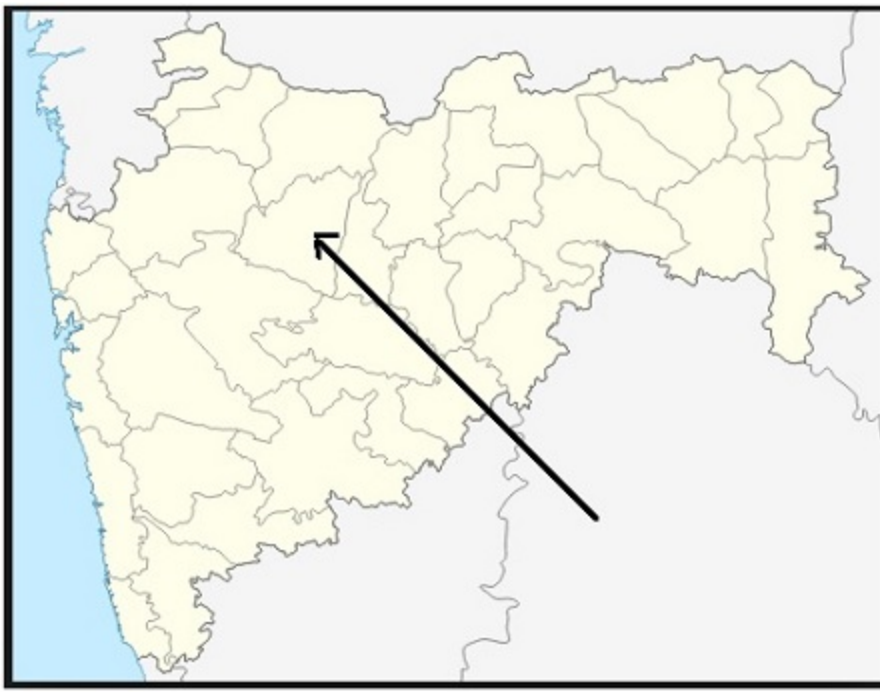
C.एलन आणि डॅनी

D.अॅलेक्स आणि चारु

Answer:

A.अॅलेक्स आणि बिनाॅय

Reference ID:(16533)	90 च्या 60% - $5/20 + 2.75 =$ _____
	A.57
	B.56.5
	C.56.25
	D.56.9
Answer:	B.56.5
Reference ID:(20994)	मालिकेतील रिकामी जागा भरा: 12, 23, 45, 56, __, 89, 111, 122, 144
	A.81
	B.79
	C.78
	D.80
Answer:	C.78
Reference ID:(18484)	खालीलपैकी प्रयोगाची अयोग्य जोडी शोधा.
	A.बाबा कार्यालयातून आत्ताच आले – सकर्मक कर्तरी प्रयोग
	B.आईने मीराला खुणावले – सकर्मक भावे प्रयोग
	C.मला घरी जावते – अकर्मक भावे प्रयोग
	D.आज तिला मळमळते – अकर्तुक भावे प्रयोग
Answer:	A.बाबा कार्यालयातून आत्ताच आले – सकर्मक कर्तरी प्रयोग



महाराष्ट्रातील नकाशात बाणने दर्शविलेला जिल्हा खालीलपैकी कोणता आहे?

A. धुळे

B. औरंगाबाद

C. जळगाव

D. नाशिक

Answer:

B. औरंगाबाद

Reference ID:(28629)

Pick the right idiom which fits into the sentence: She _____ when she saw the snake in the garden, and disappeared.

A. Was neck or nothing

B. Stood her ground

C. Was at sea

D. Took to her heels

Answer:	D.Took to her heels
Reference ID:(22819)	जर \$ आहे '+' आणि @ आहे '-', तर खालीलपैकी सर्वात लहान पर्याय कोणता आहे ?
	A.55 \$ 11 @ 75 \$ 42 @ 62 @ 13 \$ 45 \$ 27
	B.118 \$ 17 @ 25 \$ 32 @ 126 \$ 104 @ 44 @ 37
	C.79 \$ 42 \$ 165 \$ 42 \$ 36 @ 103 \$ 45 \$ 17
	D.38 @ 107 @ 25 @ 32 @ 26 \$ 104 \$ 144 @ 7
Answer:	A.55 \$ 11 @ 75 \$ 42 @ 62 @ 13 \$ 45 \$ 27
Reference ID:(18203)	सर्व दानांहून मरणोत्तर देहदान हे सर्वोत्तम आहे. ह्या वाक्यात कोणता अलंकार वापरला गेला आहे.
	A.अर्थान्तरन्यास
	B.भ्रांतिमान
	C.व्यतिरेक
	D.स्वभावोक्ती
Answer:	C.व्यतिरेक
Reference ID:(25770)	भारतातील पश्चिम घाटातील पर्यावरणाच्या संवर्धनासाठी "वेस्टर्न घाट्स इकोलॉजी एक्सपर्ट पैनल" (WGEEP) स्थापन केले त्याचे अध्यक्ष खालीलपैकी कोण होते?
	A.डॉ. माधव गाडगीळ
	B.श्री. बी.जे. कृष्णन
	C.डॉ. के. एन. गणेश्या
	D.डॉ. व्ही. एस. विजयन

Answer: A.डॉ. माधव गाडगीळ

Reference ID:(32658) भारताचे पहिले 'टेक्नो पार्क' येथे स्थित आहे.

A.बंगलोर

B.पुणे

C.मुंबई

D.तिरुवनंतपुरम

Answer: D.तिरुवनंतपुरम

Reference ID:(20232) एक माणूस त्याच्या घरापासून पूर्व दिशेने 8 कि.मी. चालतो. मग तो डावीकडे वळतो आणि 3 कि.मी. चालतो. मग तो उजवीकडे वळतो आणि 1 कि.मी. चालतो. मग तो उजवीकडे वळतो आणि 2 कि.मी. चालतो. मग तो उजवीकडे वळतो आणि 4 कि.मी. चालतो. मग तो डावीकडे वळतो आणि 1 कि.मी. चालतो. तो त्याच्या घरापासून किती दूर आहे?

A.4 कि.मी.

B.5 कि.मी.

C.4. 5 कि.मी.

D.5. 5 कि.मी.

Answer: B.5 कि.मी.

Reference ID:(16887) $16/20 + 0.5 - 5/40 = ?$

A.2.975

B.1.175

C.0.775

D.1.025

Answer:

B.1.175

Reference ID:(28148)

Find the meaning of the highlighted word in the sentence: Are apps a **fad** or are they here to stay?

A.Vogue

B.Standard

C.Tradition

D.Custom

Answer:

A.Vogue

Reference ID:(28856)

Pick the right idiom which fits into the sentence: He _____ when he saw his daughter enter home after midnight.

A.Saw red

B.Burnt his fingers

C.Greased the palms of

D.Was a wet blanket

Answer:

A.Saw red

Reference ID:(21475)	जर A = 1, B = 2,M = 13; आणि N = 13, O = 12, Z = 1, तर खालील पैकी कोणते पर्याय बरोबर आहे?
	A.{D + O + G} > {R + E + D}
	B.{D + O + G} = {R + E + D}
	C.{D + O + G} < {R + E + D}
	D.{D + O + G} = {B + U + G}
Answer:	A.{D + O + G} > {R + E + D}

Reference ID:(30888)	Identify the figure of speech in the following sentence: The teacher asked the children to run slowly on the playground.
	A.Apostrophe
	B.Simile
	C.Oxymoron
	D.Euphemism
Answer:	C.Oxymoron

Reference ID:(25761)	भारतीय संविधानानुसार, वन्य प्राणी व पक्ष्यांचे संरक्षण ___ चा भाग आहे.
	A.केंद्रीय सूची
	B.राज्य सूची
	C.समवर्ती सूची
	D.अवशिष्ट विषय
Answer:	C.समवर्ती सूची

Reference ID:(23683)

'अग्रज' या शब्दाचा विरुद्धार्थी शब्द ओळखा.

A.प्रसिद्ध

B.अनन्य

C.पूर्वज

D.अनुज

Answer:

D.अनुज

Reference ID:(30634)

Convert the following active to passive voice: Did she do her duty?

A.Had her duty been done by her?

B.Was she done her duty?

C.Has her duty been done by her?

D.Was her duty done by her?

Answer:

D.Was her duty done by her?

Reference ID:(23429)

'कुसुम' या शब्दाचा समानार्थी शब्द ओळखा.

A.पुष्प

B.वेल

C.गवत

D.सोने

Answer:

A.पुष्प

Reference ID:(18457)

खालील केवळ वाक्यांचे संयुक्त वाक्य बनवताना कोणते अव्यय जास्त समर्पक आहे?
वाटेत मोटार नादुरुस्त झाली. मला यावयास उशीर झाला.

A.किंवा

B.आणि

C.म्हणून

D.पण

Answer:

C.म्हणून

Reference ID:(25767)

खालीलपैकी भारतातील पहिले जीवावरण राखीव क्षेत्र कोणते आहे?

A.नंदादेवी

B.ग्रेट निकोबर

C.मानस

D.निलगिरी

Answer:

D.निलगिरी

Reference ID:(18230)

आरक्त होय फुलुनी प्रणयी पलाश,
फेकी रसाल तरुही मधुगंधपाश

ह्या ओळींतील वृत्त कोणते?

A. भुजंगप्रयात

B. वसंततिलका

C. पादाकुलक

D. नववधू

Answer: B. वसंततिलका

Reference ID:(31418) 'सालार जंग' संग्रहालय कोणत्या शहरात आहे?

A. मुंबई

B. हैदराबाद

C. जयपूर

D. लखनऊ

Answer: B. हैदराबाद

Reference ID:(25766) केंद्रीय पर्यावरण व वन मंत्रालयाने स्थापन केलेले 'राष्ट्रीय खारफुटी वने जनुकीय संसाधने केंद्र' खालीलपैकी कोणत्या राज्यामध्ये / केंद्रशासित प्रदेशात स्थित आहे?

A. गुजरात

B. पश्चिम बंगाल

C. ओडिशा

D. अंदमान व निकोबार बेटसमूह

Answer: C. ओडिशा

Reference ID:(28375) Find the meaning of the highlighted word in the sentence: Change from within will take too long. **Ergo** change must come from outside.

A.Unsuitably

B.Irrespective

C.Hence

D.Without regard

Answer:

C.Hence

Reference ID:(35158)

खाली दिलेल्या पत्त्यापैकी 3 पत्ते समान आहेत आणि 1 भिन्न आहे. कोणता पत्ता भिन्न ते ओळखा?

A.Dr. No.1-4/1, Rasi nagar,
near duvvada colony,
Vedullanarava sabbavaram,
Visakhapatnam
PH 0170806907

B.Dr. No.1-4/1, Rasi nagar,
near duvvada colony,
Vedullanarava sabbavaram,
Visakhapatnam
PH 0170806907

C.Dr. No.1-4/1, Rasi nagar,
near duvvada colony,
Vedullanarava sabbavaram,
Visakhapataam
PH 0170806907

D.Dr. No.1-4/1, Rasi nagar,
near duvvada colony,
Vedullanarava sabbavaram,
Visakhapatnam
PH 0170806907

Answer:

C.Dr. No.1-4/1, Rasi nagar,
near duvvada colony,
Vedullanarava sabbavaram,
Visakhapataam
PH 0170806907

Reference ID:(19954)	पुढील विधानाला जी म्हण योग्य असेल असा पर्याय ओळखा: मालतीने रात्रभर जागून मुलीसाठी गोधडी शिवली. मात्र मुलीने ती भडक रंगाची आहे असे म्हटले. म्हणतात ना.....
	A.शेळी जाते जीवनिशी खाणारा म्हणतो वातड कशी
	B.रात्र थोडी सोंगे फार
	C.लेकी बोले सुने लागे
	D.दुसऱ्याच्या डोळ्यातले कुसळ दिसते पण स्वतःच्या डोळ्यातले मुसळ दिसत नाही
Answer:	A.शेळी जाते जीवनिशी खाणारा म्हणतो वातड कशी
Reference ID:(32659)	पुढीलपैकी कोणता कार्यक्रम 2 ऑक्टोबर 2014 ला सुरु झाला होता?
	A.स्वच्छ भारत अभियान
	B.बेटी बचाओ बेटी पढाओ
	C.अटल पेंशन योजना
	D.दीन दयाल उपाध्याय ग्रामीण कौशल्य योजना
Answer:	A.स्वच्छ भारत अभियान
Reference ID:(24445)	प्रश्नातील वाक्यात रिकामी जागा भरण्यास सर्वात योग्य शब्द निवडा. देशाच्या स्वातंत्र्य लढ्यात अनेक लोकांनी आपल्या प्राणांची दिली.
	A.आहुति
	B.आकृति
	C.आखाती
	D.कृती
Answer:	A.आहुति

Reference ID:(17114)

खालीलपैकी सर्वात मोठा पर्याय कोणता आहे?

A.350 चे 90%

B.1700 चा 1/4

C.0.35 × 900

D.700 चा 2/5

Answer:

B.1700 चा 1/4

Reference ID:(24191)

खालीलपैकी व्याकरणाच्या दृष्टीने अशुद्ध शब्द-लेखन असलेला शब्द ओळखा.

A.संगित

B.न्याहारी

C.बालहत्या

D.प्रतीक्षा

Answer:

A.संगित

Reference ID:(17649)

44 च्या 1/8 + 44 च्या 25% + 0.40 × 140 = _____

A.74

B.74.5

C.71.75

D.72.5

Answer:

D.72.5

Reference ID:(32666)

पुढीलपैकी कशावर युनिसेफचे मुख्य लक्षकेंद्रीत आहे?

A.आजार

B.मानवी हक्क

C.मुले

D.शिक्षण

Answer:

C.मुले

Reference ID:(17395)

$8 + 9.5 + 12 + 2.25 - (3.5 + 10 - 2.5 + 4) = \underline{\hspace{1cm}}$

A.16.2

B.16.1

C.17.1

D.16.75

Answer:

D.16.75

Reference ID:(27640)

Pick the correct meaning of the highlighted idiom or phrase from the following:
Veena finally **brought around** her father to see her point of view

A.To persuade

B.To reveal clearly

C.To cause to happen

D.To demand something

Answer:	A.To persuade
Reference ID:(25762)	भारताच्या एकूण भौगोलिक क्षेत्रापैकी वन आच्छादनाची टक्केवारी अंदाजे ____ टक्के आहे.
	A.15
	B.18
	C.22
	D.30
Answer:	C.22
Reference ID:(29364)	Pick the right meaning of the highlighted word in the sentence: Even though the hose seemed pliable , Henry wasn't able to curve it around the corner of the house.
	A.Something which is easily flexible
	B.Something inelastic
	C.Something easily breakable
	D.Something which is very trustworthy
Answer:	A.Something which is easily flexible
Reference ID:(25765)	'माँट्रिक्स नोंदी' खालीलपैकी कोणत्या कराराशी संबंधित आहे?
	A.रोटरडॅम करार
	B.क्योटो करार

C.माँट्रियल करार

D.रामसर करार

Answer:

D.रामसर करार

Reference ID:(22237)

खालीलपैकी सर्वात मोठा पर्याय कोणता आहे ?

A.125 - 62 - 35 + 74 + 102 - 93 + 45 + 37

B.48 + 17 + 25 + 32 - 126 - 104 + 34 + 74

C.19 - 12 - 45 + 42 + 36 - 103 + 45 + 207

D.144 - 67 - 25 + 32 - 26 + 104 - 44 - 13

Answer:

A.125 - 62 - 35 + 74 + 102 - 93 + 45 + 37

Reference ID:(19500)

पुढील म्हण पूर्ण करण्यासाठी योग्य पर्याय निवडा. ज्याचे पोट दुखेल

A.तोच औषध मागेल.

B.तोच दुआ मागेल

C.तोच वैद्य बोलवेल

D.तोच ओवा मागेल.

Answer:

D.तोच ओवा मागेल.

Reference ID:(25769)

खालीलपैकी महाराष्ट्रातील सर्वात लहान आकाराचे वन्यजीव अभयारण्य कोणते आहे?

A.कोयना

B.मेळघाट

C.लोणार

D.पैनगंगा

Answer: C.लोणार

Reference ID:(27613) Identify the figure of speech in the following sentence: It feels like my birthday will never come.

A.Metaphor

B.Simile

C.Hyperbole

D.Oxymoron

Answer: C.Hyperbole

Reference ID:(32662) "कथक" हे लोकप्रिय लोकनृत्य भारताच्या कोणत्या राज्याचे आहे?

A.हरियाणा

B.पंजाब

C.उत्तर प्रदेश

D.राजस्थान

Answer: C.उत्तर प्रदेश

Reference ID:(31422) देवधर चषक खालीलपैकी कोणत्या खेळाशी संबंधित आहे?

A.बॅडमिंटन

B.क्रिकेट

C.टेबल टेनिस

D.फुटबॉल

Answer: B.क्रिकेट

Reference ID:(29391) Pick the right meaning of the highlighted word in the sentence:
The courts developed the **doctrine** of breach of contract.

A.Being unlawful about something

B.Abiding to a principal

C.Feeling faint about something

D.Avoiding something

Answer: B.Abiding to a principal

Reference ID:(19981) 'अवचित' या शब्दाचा समानार्थी शब्द ओळखा.

A.अपेक्षित

B.प्रसंग

C.अचानक

D.परिचित

Answer: C.अचानक

Reference ID:(30607) Pick the correct meaning of the highlighted idiom: The Parliament opposed the bill **tooth and nail** .

A.With a lot of vengeance

B.Very strongly

C.In an angry way

D.To push for something to happen

Answer:

B.Very strongly

Reference ID:(29645)

Pick the Synonym for the word:
Stupendou

A.Tremendous

B.Boring

C.Jaded

D.Dull

Answer:

A.Tremendous

Reference ID:(31425)

महाराष्ट्रात पानशेत धरण खालीलपैकी कोणत्या जिल्ह्यात आहे?

A.पुणे

B.औरंगाबाद

C.सातारा

D.बीड

Answer:

A.पुणे

Reference ID:(28602)

Find the meaning of the highlighted word in the sentence: She's a **glutton** for work.
She stays late every evening.

A.Slow worker

B.Avoiding

C.Eager for more

D.Assertive

Answer: C.Eager for more

Reference ID:(27032) Find the meaning of the highlighted word in the sentence: His face was freshly shaved, his clothes neat and **trim**.

A.Small

B.Smart

C.Short

D.Cut

Answer: B.Smart

Reference ID:(20486) जर $D + O + G = 26$, $L + I + K + E = 37$, तर $U + N + I + V + E + R + S + A + L = \underline{\quad}$?

A.123

B.121

C.122

D.124

Answer: B.121

Reference ID:(23656) खालीलपैकी समानार्थी शब्दाची चुकीची जोडी ओळखा

A.उचित - बरोबर

B.कचित - कधीतरी

C.वंचित - वचनबद्ध

D.संचित - एकत्रित

Answer:

C.वंचित - वचनबद्ध

Reference ID:(24699)

पुढील शब्दसमूहासाठी योग्य शब्द निवडा.
सत्य, असत्य व बुध्दीला स्मरुन

A.विवेकशून्य

B.सद्सद्विवेकबुध्दी

C.अर्धसत्य

D.सत्यार्थी

Answer:

B.सद्सद्विवेकबुध्दी

Reference ID:(32661)

दिल्लीतील 'वीरभूमी' भारताच्या कोणत्या पंतप्रधानांना समर्पित केलेले स्मारक आहे?

A.राजीव गांधी

B.इंदिरा गांधी

C.लाल बहादुर शास्त्री

D.जवाहरलाल नेहरू

Answer:

A.राजीव गांधी

Reference ID:(31419)

..... संविधान सभेच्या मसुदा समितीचे अध्यक्ष होते.

A.बी. एन. राव

B.जवाहरलाल नेहरू

C.बी. आर. आंबेडकर

D.सच्चिदानंद सिन्हा

Answer:

C.बी. आर. आंबेडकर

Reference ID:(24164)

खालीलपैकी व्याकरणाच्या दृष्टीने शुद्ध शब्द-लेखन असलेला शब्द ओळखा.

A.उत्कृष्ट

B.उत्कृष्ट

C.ऊत्कृष्ट

D.उत्क्रष्ट

Answer:

A.उत्कृष्ट

Reference ID:(18738)

वंदना सिनेमाला गेली. ह्या वाक्याचे अपूर्ण वर्तमानकाळ रूपांतर करताना खालीलपैकी कोणता पर्याय निवडावा लागेल.

A.वंदना सिनेमाला जाते.

B.वंदना सिनेमाला जात होती.

C.वंदना सिनेमाला जात आहे.

D.वंदना सिनेमाला गेली होती.

Answer:

C.वंदना सिनेमाला जात आहे.

Reference ID:(30353)

Find the meaning of the highlighted word in the sentence: She threw her hands up in **mock** horror.

A.Happy

B.Genuine

C.Fake

D.Easy

Answer:

C.Fake

Reference ID:(24926)

पुढील शब्दसमूहासाठी योग्य शब्द निवडा.
तांब्याच्या पत्र्यावर कोरलेला लेख

A.पत्रावळी

B.ताम्रपट

C.तांबूल

D.वज्रलेख

Answer:

B.ताम्रपट

Reference ID:(33700)

खालीलपैकी कोणाला "भारतीय नाइटिंगेल" म्हटले जाते?

A.मीरा बाई

B.सरोजिनी नायडू

C.डॉ. ऍनी बेझंट

D.वंदना शिवा

Answer:

B.सरोजिनी नायडू

Reference ID:(25763)

सायबेरियन क्रेन भारतातील पुढीलपैकी कोणत्या उद्यानात/अभयारण्यात स्थलांतर करित होता?

A.केवलादेव राष्ट्रीय उद्यान

B.वेदांतंगल पक्षी अभयारण्य

C.गिर वन्यजीव अभयारण्य

D.काझीरंगा राष्ट्रीय उद्यान

Answer: A.केवलादेव राष्ट्रीय उद्यान

Reference ID:(17141) $3.35 + 2.55 + 4.75 - (5.25 - 8.75 + 2.25) = \underline{\hspace{2cm}}$

A.11.90

B.11.65

C.11.55

D.12.15

Answer: A.11.90

Reference ID:(27867) Pick the correct meaning of the highlighted idiom or phrase from the following:
After the first year's profit, he got carried away and **started burning the candle at both ends** and got into a debt trap

A.To spend without thinking

B.To tire yourself out

C.To suffer a loss

D.To be careless about ways of working

Answer: A.To spend without thinking

Reference ID:(32664) "महाराष्ट्र केसरी" क्रीडा स्पर्धा _____ शी संबंढित आहे.

A.बॉक्सिंग

B.कुस्ती

C.कबड्डी

D.खो-खो

Answer: B.कुस्ती

Reference ID:(32660) नरेंद्र नाथ दत्त हे _____ ह्यांचे मूळ नाव आहे.

A.स्वामी विवेकानंद

B.रामकृष्ण परमहंस

C.राजा राम मोहन राय

D.रवींद्रनाथ टागोर

Answer: A.स्वामी विवेकानंद

Reference ID:(25407) 'सर्वार्ग' या शब्दाचा खालीलपैकी योग्य संधी विग्रह ओळखा.

A.सर्व + अंग

B.सर्व + ग

C.सर्व + गं

D.सर्व: + अंग

Answer: A.सर्व + अंग

Reference ID:(20967) मालिकेतील रिकामी जागा भरा: J, F, M, A, M, J, J, __, S

A.M

B.J

C.S

D.A

Answer: D.A

Reference ID:(30861) Identify the figure of speech in the following sentence: Her smile felt like warm sunshine.

A.Apostrophe

B.Hyperbole

C.Simile

D.Metaphor

Answer: C.Simile

Reference ID:(18965) खालील शब्दाचा समास / समास प्रकार ओळखा.
चरणकमल

A.द्वितीया तत्पुरुष

B.नत्र बहुव्रीहि

C.कर्मधारय

D.द्वंद्व

Answer: C.कर्मधारय

Reference ID:(30380) Find the meaning of the highlighted word in the sentence: He was a lawyer, yet he tried to **outwit** the law.

A.Protect

B.Assist

C.Deceive

D.Support

Answer: C.Deceive

Reference ID:(25768) पर्यावरणाशी संबंधित खालीलपैकी कोणती आंतरराष्ट्रीय संस्था जैवविविधता हॉटस्पॉट्स घोषित करते?

A.वर्ल्ड वाइल्डलाईफ फंड (WWF)

B.आय. यु. सी. एन. (IUCN)

C.कॉन्झर्व्हेशन इंटरनॅशनल (CI)

D.संयुक्त राष्ट्र पर्यावरण कार्यक्रम (UNEP)

Answer: C.कॉन्झर्व्हेशन इंटरनॅशनल (CI)

Reference ID:(25764) पृथ्वीवरील वातावरणात कार्बन डायऑक्साईडचे प्रमाण खालीलपैकी किती टक्के आहे?

A.0.32

B.0.23

C.0.04

D.0.02

Answer: C.0.04

Reference ID:(31420) केंद्रीय माहिती आयोग (सीआयसी) हे केंद्र सरकारद्वारे _____ च्या अंतर्गत स्थापित करण्यात आला आहे.

A.माहितीचा अधिकार अधिनियम, 2006

B.माहितीचा अधिकार अधिनियम, 2005

C.माहितीचा अधिकार अधिनियम, 2002

D.केंद्रीय माहिती आयोग कायदा, 2008

Answer: B.माहितीचा अधिकार अधिनियम, 2005

Reference ID:(30126) Find the meaning of the highlighted word in the sentence: The company president was **indicted** for taking bribes.

A.Excused

B.Acquitted

C.Pardoned

D.Charged

Answer: D.Charged

Reference ID:(20740) जर IS = 4595, N I C E = 70451525, तर K N O W = ___?

A.55775115

B.557075115

C.11141523

D.2565

Answer: B.557075115

Reference ID:(34904) जर $17 \times 2 = 38$, $16 \times 7 = 46$ आणि $19 \times 6 = 50$, तर $8 \times 21 = ?$

A.50

B.58

C.39

D.56

Answer: B.58

Reference ID:(19473) प्रश्नात दिलेल्या वाक्यप्रचाराचा योग्य वापर असलेले वाक्य पर्यायांमधून ओळखा. शड्डू ठोकणे

A.गवंड्याने घरबांधणी करते वेळेस भिंतीत शड्डू ठोकला.

B.सुधा मावशी शड्डू ठोकत अप्रतिम गोड जेवण बनवायची.

C.मीनलने शड्डू ठोकत झाडांना पाणी दिले.

D.रिंगणात उतरताच राजा पहिलवानाने प्रतिस्पर्धासमोर शड्डू ठोकला

Answer:

D.रिंगणात उतरताच राजा पहिलवानाने प्रतिस्पर्धासमोर शड्डू ठोकला

Question Paper Title : FG_17

Date of Exam : 19-06-2019 10:00 AM

Reference ID:(34917) जर $12 \times 14 = 28224$, $24 \times 2 = 2304$, आणि $27 \times 3 = 6561$, तर $2 \times 6 = ?$

A.144

B.128

C.96

D.140

Answer: A.144

Reference ID:(20980) मालिकेतील रिकामी जागा भरा: U T S R Q __

A.U

B.P

C.W

D.V

Answer: B.P

Reference ID:(18497) पुढीलपैकी कोणते समापन कर्मणी प्रयोगाचे उदाहरण नाही.

A.त्याची कादंबरी लिहून झाली

B.आजीची गोष्ट सांगून झाली

C.विशालचा आंबा खारून झाला

D.विनयने निबंध वाचला

Answer: D.विनयने निबंध वाचला

Reference ID:(31936) जम्मू-काश्मीरमधील 'हेमिस नॅशनल पार्क' कोणत्या प्राण्यासाठी प्रसिद्ध आहे?

A.सुवर्ण गरुड

B.वाघ

C.लांडगा

D.हिम बिबट्या

Answer: D.हिम बिबट्या

Reference ID:(22578) खालीलपैकी सर्वात लहान पर्याय कोणता आहे ?

A.25 - 22 - 35 + 72 + 202 - 83 + 45 + 27

B.48 - 27 - 25 + 32 - 221 + 204 + 44 + 72

C.29 + 22 - 25 + 42 + 31 - 203 + 45 + 207

D.44 + 17 - 25 - 32 - 21 + 204 - 44 - 23

Answer: D.44 + 17 - 25 - 32 - 21 + 204 - 44 - 23

Reference ID:(33193) लोकसंख्येची घनता _____ ने मोजली जाते.

A.देशातील लोकांची संख्या

B.देशातील घरांची संख्या

C.व्यक्तींची संख्या प्रति वर्ग कि.मी.

D.देशाच्या एका जनगणनेपासून ते दुसरीपर्यंतच्या जन्मांची संख्या

Answer: C.व्यक्तींची संख्या प्रति वर्ग कि.मी.

Reference ID:(21207)	मालिकेतील रिकामी जागा भरा: 5, 12, 7, __, 9, 6, 11, 3, 13
	A.6
	B.9
	C.8
	D.5
Answer:	B.9
Reference ID:(22832)	जर \$ आहे '+' आणि @ आहे '-', तर खालीलपैकी सर्वात लहान पर्याय कोणता आहे ?
	A.152 \$ 65 \$ 32 @ 74 @ 105 \$ 93 @ 42 @ 37
	B.48 @ 17 @ 52 @ 35 \$ 156 \$ 104 @ 34 @ 74
	C.19 \$ 15 \$ 42 @ 45 @ 36 \$ 103 @ 42 @ 507
	D.144 \$ 67 \$ 52 @ 35 \$ 56 @ 104 \$ 44 \$ 13
Answer:	C.19 \$ 15 \$ 42 @ 45 @ 36 \$ 103 @ 42 @ 507
Reference ID:(19967)	पुढील विधानाला जी म्हण योग्य असेल असा पर्याय ओळखा: पार्थला दूरचे दिसत नव्हते तेव्हा त्याला चष्मा लावण्याची गरज होती. पण त्याने डोळ्यात घालायचे अंजन आणले. म्हणतात ना ...
	A.दुरून डोंगर साजरे
	B.हत्तीच्या दाढीमध्ये मिन्याचा दाणा
	C.दृष्टीआड सृष्टी
	D.दुसऱ्याच्या डोळ्यातले कुसळ दिसते पण स्वतःच्या डोळ्यातले मुसळ दिसत नाही
Answer:	B.हत्तीच्या दाढीमध्ये मिन्याचा दाणा

Reference ID:(24177)	खालीलपैकी व्याकरणाच्या दृष्टीने शुद्ध शब्द-लेखन असलेला शब्द ओळखा.
	A.कुकर्म
	B.कूकर्म
	C.कुकरम
	D.कूकम
Answer:	A.कुकर्म
Reference ID:(18243)	सर्वस्वांचे दान अधी करि सर्वस्वच ये स्वये तुझ्या घरि सर्वस्वाचा यज्ञ करीं तरि रे स्वये सैल बंधन पंडते. वरील ओळीतील वृत्त ओळखा.
	A.वसंततिलका
	B.नववधू
	C.पादाकुलक
	D.भुजंगप्रयात
Answer:	B.नववधू
Reference ID:(31942)	खालीलपैकी कोणती व्यक्ती खेळाडू आहे?
	A.अश्विनी पोनप्पा
	B.साधना सरगम
	C.कविता कृष्णमूर्ती
	D.मीरा नायर

Answer: A.अश्विनी पोनप्पा

Reference ID:(19994) "उदरनिर्वाह" या शब्दाचा समानार्थी शब्द ओळखा.

A.पोटदुखी

B.चरितार्थ

C.गरिबी

D.प्रवास

Answer: B.चरितार्थ

Reference ID:(16873) $20/25 + 2.5 - 10/25 = ?$

A.2.9

B.2.7

C.0.975

D.1.225

Answer: A.2.9

Reference ID:(17608)

$4.40 + 5.35 + 6.85 - (2.5 - 4.5 - 2 + 1.5) = \underline{\hspace{2cm}}$

A.19.1

B.18.65

C.18.55

D.19.25

Answer:

A.19.1

Reference ID:(23669)

खालीलपैकी समानार्थी शब्दाची बरोबर जोडी ओळखा

A.कृपण - उदार

B.जरठ - वृद्ध

C.राव - रंक

D.फिकट - गडद

Answer:

B.जरठ - वृद्ध

Reference ID:(19205)

खालील शब्दाचा समास / समास प्रकार ओळखा.
वनभोजन

A.अव्ययीभाव

B.बहुव्रीहि

C.द्विगु

D.सप्तमी तत्पुरुष

Answer: D.सप्तमी तत्पुरुष

Reference ID:(26297) पुढीलपैकी कोणत्या एककांमध्ये टोटल कॉलम ओझोनची नोंद केली जाते?

A.डीबी (DB)

B.अर्ग (erg)

C.डीयु (DU)

D.ज्यूल (Joule)

Answer: C.डीयु (DU)

Reference ID:(21488) जर $A = 1, B = 2, \dots, M = 13$; आणि $N = 13, O = 12, \dots, Z = 1$, तर खालील पैकी कोणते पर्याय बरोबर आहे?

A. $\{B + A + L + L\} < \{M + A + C + E\}$

B. $\{B + A + L + L\} = \{M + A + C + E\}$

C. $\{B + A + L + L\} > \{M + A + C + E\}$

D. $\{B + A + L + L\} = \{M + A + D + E\}$

Answer: C. $\{B + A + L + L\} > \{M + A + C + E\}$

Reference ID:(17381) $4.70 + 3.45 + 4.35 - (4.5 - 2.75 - 2.25) = \underline{\hspace{2cm}}$

A.12.35

B.12.95

C.13.0

D.12.45

Answer: C.13.0

Reference ID:(33197) "मेघदूत" ही कविता _____ यांनी लिहिली होती.

A.तुलसीदास

B.कालिदास

C.सूरदास

D.कबीरदास

Answer: B.कालिदास

Reference ID:(30112) Find the word opposite in meaning to the word: **Invincible**

A.Unbeatable

B.Bulletproof

C.Vulnerable

D.Indomitable

Answer: C.Vulnerable

Reference ID:(18978) खालील शब्दाचा समास / समास प्रकार ओळखा.
शिवपार्वती

A.कर्मधारय

B.इतरेतर द्वंद्व

C.तत्पुरुष

D.अव्ययीभाव

Answer: B.इतरेतर द्वंद्व

Reference ID:(30620) Pick the correct meaning of the highlighted idiom: He will have to **eat humble pie** for being arrogant with others.

A.To apologise

B.To stand corrected

C.To be selfish with others

D.To understand the other persons motive

Answer: A.To apologise

Reference ID:(33194) सुप्रसिध्द मीनाक्षी मंदिर _____ येथे स्थित आहे.

A.लखनऊ

B.चेन्नई

C.अहमदाबाद

D.मदुराई

Answer: D.मदुराई

Reference ID:(28869) Convert the simple sentence to a complex sentence: He showed me how to do it

A.He showed me how is it to be done

B.He showed me how I should do it

C.I got to know how it is to be done from him

D.How to do it, he showed me

Answer:

B.He showed me how I should do it

Reference ID:(25420)

"भारतीय" या शब्दाचा खालीलपैकी योग्य संधी विग्रह ओळखा.

A.भार + तीय

B.भारत + ईय

C.भारत + अय

D.भारत + इय

Answer:

B.भारत + ईय

Reference ID:(28615)

Pick the right idiom which fits into the sentence: The two robbers were _____ with each other

A.At one's fingers' end

B.Men of parts

C.Over head and ears

D.Hand in glove

Answer:

D.Hand in glove

Reference ID:(27853)

Pick the correct meaning of the highlighted idiom or phrase from the following:
It took him years **to get over** his dog's death.

A.To recover or overcome from a situation

B.To finish

C.To be involved in

D.Not to do any longer

Answer:

A.To recover or overcome from a situation

Reference ID:(27372)

Identify the figure of speech in the following sentence: The calm lake was a mirror.

A.Metaphor

B.Simile

C.Personification

D.Apostrophe

Answer:

A.Metaphor

Reference ID:(26300)

महाराष्ट्रातील नवेगाव राष्ट्रीय उद्यान खालीलपैकी कोणत्या जिल्ह्यात आहे ?

A.नागपुर

B.गोंदिया

C.रायगड

D.सोलापूर

Answer: B.गोंदिया

Reference ID:(26295) _____ ही भारतातील वनविज्ञान संशोधनांसाठी जबाबदार असलेली सर्वात मोठी सरकारी संस्था आहे.

- A.भारतीय वनविज्ञान संशोधन आणि शिक्षण मंडळ
- B.भारतीय वन व्यवस्थापन संस्था
- C.वन-आधारित उपजीविका आणि विस्तार केंद्र
- D.वन जैवविविधता संस्था

Answer: A.भारतीय वनविज्ञान संशोधन आणि शिक्षण मंडळ

Reference ID:(28642) Pick the right idiom which fits into the sentence: The Principle of the college was a _____

- A.Fry cry
- B.Chip of the new block
- C.Man of letters
- D.Man of straw

Answer: C.Man of letters

Reference ID:(17635) 44 च्या $\frac{1}{8}$ + 70 च्या 40% च्या 200% + $0.30 \times 180 =$ _____

- A.117
- B.117.5
- C.115.5
- D.114.75

Answer:	C.115.5
Reference ID:(26294)	भारतातील पुढीलपैकी कोणते आरक्षित जैवमंडल युनेस्को मनुष्य व जैवमंडल योजनेच्या अंतर्गत येणाऱ्या आरक्षित जैवमंडलाच्या जागतिक नेटवर्कचा भाग नाही?
	A.कच्छ आरक्षित जैवमंडल
	B.मन्नारचे आखात आरक्षित जैवमंडल
	C.निलगिरी आरक्षित जैवमंडल
	D.सुंदरबन आरक्षित जैवमंडल
Answer:	A.कच्छ आरक्षित जैवमंडल
Reference ID:(31934)	भारतात "नाग टिब्बा शिखर" कोठे आहे?
	A.उत्तराखंड
	B.महाराष्ट्र
	C.मध्य प्रदेश
	D.आंध्र प्रदेश
Answer:	A.उत्तराखंड
Reference ID:(23696)	'आमंत्रित' या शब्दाचा विरुद्धार्थी शब्द ओळखा.
	A.शुभेच्छुक
	B.आगंतुक
	C.निमंत्रित

D.अकल्पित

Answer:

B.आगंतुक

Reference ID:(33196)

भारतातील केंद्रीय नारळ संशोधन संस्था कोठे आहे?

A.केरळ

B.पश्चिम बंगाल

C.गुजरात

D.महाराष्ट्र

Answer:

A.केरळ

Reference ID:(23950)

खालीलपैकी विरुद्धार्थी शब्दाची चुकीची जोडी ओळखा.

A.सुकाळ x दुष्काळ

B.स्वार्थ x परमार्थ

C.स्त्री x ललना

D.साम्य x भेद

Answer:

C.स्त्री x ललना

Reference ID:(22804)

जर \$ आहे '+' आणि @ आहे '-', तर खालीलपैकी सर्वात मोठा पर्याय कोणता आहे ?

A.22 @ 11 \$ 72 @ 45 \$ 65 \$ 13 @ 42 @ 57

B.118 @ 17 \$ 52 @ 35 \$ 156 @ 104 \$ 44 \$ 37

C.79 @ 45 @ 162 @ 45 @ 36 \$ 103 @ 42 @ 17

D.38 \$ 107 \$ 52 \$ 35 \$ 56 @ 104 @ 144 \$ 7

Answer: B.118 @ 17 \$ 52 @ 35 \$ 156 @ 104 \$ 44 \$ 37

Reference ID:(23923) खालीलपैकी विरुद्धार्थी शब्दाची बरोबर जोडी ओळखा.

A.उंच x ठेंगू

B.झाड x वृक्ष

C.तलाव x सरोवर

D.तोंड x आनन

Answer: A.उंच x ठेंगू

Reference ID:(28134) Find the word opposite in meaning to the word: Compel

A.Force

B.Urge

C.Dissuade

D.Oblige

Answer: C.Dissuade

Reference ID:(27626) Pick the correct meaning of the highlighted idiom or phrase from the following:
I realized that flying a kite is **a piece of cake**

A.When something is very easy

B.When something is difficult to make

C.When things are outside of your comfort zone and you've never done it

D.When you feel compelled to do something because others say so

Answer: A.When something is very easy

Reference ID:(17889) X हा Y हून 250% नी मोठा आहे. मग Y हा X हून _____ % लहान आहे.

A.65

B.35

C.63.63

D.71.42

Answer: D.71.42

Reference ID:(20218) X चे पश्चिम दिशेला तोंड आहे. तो 45 अंश उजवीकडे वळतो. मग तो 90 अंश उजवीकडे वळतो. मग तो 180 अंश वळतो. मग तो 45 अंश उजवीकडे वळतो. शेवटी तो डावीकडे 90 अंश वळतो. आता तो कोणत्या दिशेला तोंड करून उभा आहे?

A.पूर्व

B.पश्चिम

C.उत्तर

D.दक्षिण

Answer: D.दक्षिण

Reference ID:(31941) सर्वात मोठी विधानसभा कोणत्या राज्यात आहे?

A.कर्नाटक

B.पश्चिम बंगाल

C.उत्तर प्रदेश

D.महाराष्ट्र

Answer: C.उत्तर प्रदेश

Reference ID:(30393) Pick the correct meaning of the highlighted idiom: The rich neighbors **looked down on** the poor family.

A. To examine

B.To regard with contempt

C.To use for one's benefit

D.To take care off

Answer: B.To regard with contempt

Reference ID:(17127) खालील पर्यायांपैकी दुसऱ्या क्रमांकाचा सर्वात लहान कोण आहे?

A.450 चे 35%

B.1700 चा $\frac{1}{4}$

C. 0.35×900

D.1100 चा $\frac{2}{5}$

Answer: C. 0.35×900

Reference ID:(30647) Convert the following active to passive voice: Somebody should do the work

A.The work should have been done by somebody

B.Is somebody doing the work?

C.Somebody should be doing the work

D.The work should be done by somebody

Answer: D.The work should be done by somebody

Reference ID:(23442) 'मधुप' या शब्दाचा समानार्थी शब्द ओळखा.

A.मध

B.भुंगा

C.कोकीळ

D.अश्रू

Answer: B.भुंगा

Reference ID:(29885) Pick the right antonym for the word:
husky

A.Puny

B.Chunky

C.Athletic

D.Muscular

Answer: A.Puny

Reference ID:(26298) पाण्यात वावरणारा पक्षांच्या अभयारण्यांपैकी पुढीलपैकी कोणते अभयारण्य जगात सर्वात प्रसिद्ध आहे?

A.भरतपुर अभयारण्य

B.कान्हा अभयारण्य

C.जिम कॉर्बेट राष्ट्रीय उद्यान

D.रणथंभोर राष्ट्रीय उद्यान

Answer: A.भरतपुर अभयारण्य

Reference ID:(24658) प्रश्नातील वाक्यात रिकामी जागा भरण्यास सर्वात योग्य शब्द निवडा.
वृक्षतोडीला घालण्यासाठी सरकारने विविध उपक्रम हाती घेतले आहेत.

A.माळा

B.बाळा

C.आळा

D.टाळा

Answer: C.आळा

Reference ID:(29123) Pick the right meaning of the highlighted word in the sentence:
Half the population of this planet had been **decimated** by famine and war.

A.To be destroyed by something

B.Creation of something

C.When something subsides

D.Something which is created by being patched up

Answer: A.To be destroyed by something

Reference ID:(26293) सुंदरबन राष्ट्रीय उद्यान _____ येथे वसले आहे

A.केरळ

B.महाराष्ट्र

C.पश्चिम बंगाल

D.ओडिशा

Answer: C.पश्चिम बंगाल

Reference ID:(17354) $7.45 + 8.5 + 0.55 - (4.50 - 7.75 + 1.25) = \underline{\hspace{2cm}}$

A.18.75

B.18.5

C.18.05

D.17.90

Answer: B.18.5

Reference ID:(24912) पुढील शब्दसमूहासाठी योग्य शब्द निवडा.
मोफत कोरडा शिधा मिळण्याचे ठिकाण

A.उद्दाहक

B.सदावर्त

C.उपाहारगृह

D.आर्यसदन

Answer: B.सदावर्त

Reference ID:(18470)	खालीलपैकी कोणते वाक्य मिश्र वाक्य नाही?
	A.जो वेगाने धावेल तोच सर्वात आधी पोहोचेल.
	B.रामरावांनी आदेश दिला की, प्रत्येकाने आता प्रचाराला लागावे.
	C.तो कार्यालयात गेला आणि कामाला लागला.
	D.मुले जेव्हा सहलीला गेली तेव्हा त्यांना घरी येण्यास उशीर झाला ; कारण वाटेत गाडी बंद पडली.
Answer:	C.तो कार्यालयात गेला आणि कामाला लागला.
Reference ID:(16519)	सहा जण P , Q , R , S , X आणि Z हे दोन रांगामध्ये एकमेकांकडे तोंड करून बसले आहेत. दोन्ही रांगामध्ये प्रत्येकी तीन जण आहेत. X चा शेजारी बसलेला P हा S च्या कर्णाभिमुख आहे. S हा Z च्या डावीकडे दुसऱ्या क्रमांकावर आहे. X हा कोणत्याही रांगेच्या शेवटी बसलेला नाही. R हा Z च्या शेजारी आहे. Z च्या समोर कोण बसले आहे?
	A.X
	B.Q
	C.S
	D.P
Answer:	D.P
Reference ID:(24685)	प्रश्नातील वाक्यात रिकामी जागा भरण्यास सर्वात योग्य शब्द निवडा. अफगाणी सरकारने अनेकदा अंतर्गतसामना केला आहे.
	A.अडपंचाचा
	B.अन्यबीजाचा
	C.विद्रोहाचा
	D.कथलाचा
Answer:	C.विद्रोहाचा

Reference ID:(28388)	Find the meaning of the word:: gait
	A.behavior
	B.attitude
	C.bearing
	D.stride
Answer:	D.stride

Reference ID:(20953)	मालिकेतील रिकामी जागा भरा: B, C, D, F, G, __, J, K
	A.L
	B.N
	C.H
	D.O
Answer:	C.H

Reference ID:(16900)	$5/20 + 2.75 - 10/25 = ?$
	A.2.7
	B.3.175
	C.2.6
	D.3.55

Answer:

C.2.6

Reference ID:(20245)

एक माणूस त्याच्या घरापासून पश्चिम दिशेने 12 कि.मी. चालतो.
मग तो डावीकडे वळतो आणि 5 कि.मी. चालतो.
मग तो उजवीकडे वळतो आणि 1 कि.मी. चालतो.
मग तो उजवीकडे वळतो आणि 7 कि.मी. चालतो.
मग तो उजवीकडे वळतो आणि 4 कि.मी. चालतो.
मग तो उजवीकडे वळतो आणि 3 कि.मी. चालतो.
मग तो डावीकडे वळतो आणि 5 कि.मी. चालतो.
मग तो डावीकडे वळतो आणि 1 कि.मी. चालतो.
तो त्याच्या घरापासून किती दूर आहे?

A.4 कि.मी.

B.2.5 कि.मी.

C.2 कि.मी.

D.3.5 कि.मी.

Answer:

A.4 कि.मी.

Reference ID:(25193)

"चंद्रास्त" या शब्दाचा खालीलपैकी योग्य संधी विग्रह ओळखा.

A.चंद्रा + अस्त

B.चंद्र + स्त

C.चंद्रा + स्त

D.चंद्र + अस्त

Answer:

D.चंद्र + अस्त

Reference ID:(20726)

जर AS = 110, D O G = 467, L I K E = 3925, तर U N I V E R S A L = ___?

A.359459113

B.3594591013

C.3591359113

D.35945910121

Answer:

B.3594591013

Reference ID:(18724)

अभिषेक खेळत असेल. ह्या वाक्याचा काळ कोणता?

A.साधा भविष्यकाळ

B.चालू भविष्यकाळ

C.पूर्ण भविष्यकाळ

D.रिती भविष्यकाळ

Answer:

B.चालू भविष्यकाळ

Reference ID:(20499)

जर SL = 7, VB = 20, तर IO =

A.-6

B.6

C.5

D.-5

Answer:

A.-6

Reference ID:(30366)	Find the meaning of the highlighted word in the sentence: I began to suspect they were trying to get rid of me.
	A.Be Clear
	B.Understand
	C.Doubt
	D.Be Positive
Answer:	C.Doubt
Reference ID:(26296)	योग्य तापमान आणि परिचालन परिस्थितीनुसार योग्यरित्या रचना केलेल्या भट्टीमध्ये नगरपालिका घन कचरा जाळण्याची प्रक्रिया _____ म्हणून ओळखली जाते
	A.भस्मीकरण प्रक्रिया
	B.उष्मायन प्रक्रिया
	C.गांडूळखत प्रक्रिया
	D.वरीलपैकी काहीच नाही
Answer:	A.भस्मीकरण प्रक्रिया
Reference ID:(17862)	15 च्या $\frac{1}{6}$ + 40 च्या 15% + $0.25 \times 150 = \underline{\hspace{2cm}}$
	A.47.5
	B.48
	C.45.25
	D.46
Answer:	D.46

Reference ID:(31938)

भारतीय संविधानाने कोणत्या देशाकडून पंचवार्षिक योजना घेतली आहे.

A.कॅनडा

B.युनायटेड किंगडम

C.ऑस्ट्रेलिया

D.रशिया

Answer:

D.रशिया

Reference ID:(27045)

Find the meaning of the highlighted word in the sentence: She claimed that the government had only changed the law in order to **appease** their critics.

A.Reduce

B.Provoke

C.Encourage

D.Placate

Answer:

D.Placate

Reference ID:(29604)

Pick the right meaning of the highlighted word in the sentence:
The ministers speech sounded like a **parable**.

A.Reality about something

B.A fairy tale or story

C.Factual information about something

D.To be calm about something

Answer:

B.A fairy tale or story

Reference ID:(19486)	प्रश्नात दिलेल्या वाक्यप्रचाराचा योग्य वापर असलेले वाक्य पर्यायांमधून ओळखा. पळता भुई थोडी होणे
	A.शेतात भरपूर पीक आल्याने महादूला पळता भुई थोडी झाली.
	B.उंचावरील गड चढताना आम्हाला पळता भुई थोडी झाली.
	C.शिंंगे रोखून बैल अंगावर येताच राजूला पळता भुई थोडी झाली.
	D.मोठे घर सोडून लहान घरात रहायला आल्यावर सुमनबाईंना पळता भुई थोडी झाली.
Answer:	C.शिंंगे रोखून बैल अंगावर येताच राजूला पळता भुई थोडी झाली.
Reference ID:(31935)	'व्हॅली ऑफ फ्लॉवर्स' राष्ट्रीय उद्यान जे यूनेस्को जागतिक वारसा स्थान आहे, भारतातील कोणत्या राज्यात आहे?
	A.उत्तराखंड
	B.राजस्थान
	C.गुजरात
	D.जम्मू-काश्मीर
Answer:	A.उत्तराखंड
Reference ID:(27880)	Pick the correct meaning of the highlighted idiom or phrase from the following: He got into hot water with the society for parking the car in the wrong place.
	A.To get into trouble
	B.To have someone pour hot water on you
	C.To be spoken insultingly against
	D.To become insignificant
Answer:	A.To get into trouble

Reference ID:(27018)

Select the correct passive voice form of the sentence: The manager recently employed ten men.

A.The manager is employing ten men

B.Employing of ten men was recently done by the manager

C.Ten men were recently employed by the manager

D.Are the ten men being employed by the manager?

Answer:

C.Ten men were recently employed by the manager

Reference ID:(18951)

खालील वाक्यांपैकी साधा भविष्यकाळ नसलेले वाक्य ओळखा.

A.मी मुंबईला जाईल.

B.मी पंतप्रधान होईल.

C.मी तुमच्याकडे येईल.

D.ते रीयाज करत असतील.

Answer:

D.ते रीयाज करत असतील.

Reference ID:(24431)

खालीलपैकी व्याकरणाच्या दृष्टीने शुध्द वाक्याचा पर्याय निवडा.

A.तुझे मान्सिक समाधान मलाही समाधान देते.

B.सुषमाचे आईवडील कृतकुर्य झाले.

C.सरांनी माझ्या कामगिरीचा आवर्जून उलेख केला.

D.कारखान्यातील यंत्रे आगीच्या भक्ष्यस्थानी पडली.

Answer:

D.कारखान्यातील यंत्रे आगीच्या भक्ष्यस्थानी पडली.

Reference ID:(28896)

Fill in the blanks with simple past or past perfect tense of the verbs: We ___ to the zoo when he ___ on us.

A.Had gone..... called

B.Went..... was calling

C.Go..... call

D.Had gone..... calls

Answer:

A.Had gone..... called

Reference ID:(19459)

खालीलपैकी वाक्प्रचार आणि त्याचा अर्थाची अयोग्य जोडी ओळखा.

A.नामोहरम होणे - बदनामी होणे

B.पदर पसरणे - याचना करणे

C.पाणउतारा करणे - अपमान करणे

D.वाली नसणे - रक्षणकर्ता नसणे

Answer:

A.नामोहरम होणे - बदनामी होणे

Reference ID:(22250)

खालीलपैकी सर्वात मोठा पर्याय कोणता आहे ?

A.25 + 22 - 15 + 42 + 12 - 203 + 45 + 27

B.28 + 27 - 25 + 32 - 21 + 204 - 44 - 37

C.29 + 22 - 215 + 42 + 31 + 203 + 45 + 27

D.38 + 207 - 25 - 32 - 21 + 204 - 44 - 37

Answer:

D.38 + 207 - 25 - 32 - 21 + 204 - 44 - 37

Reference ID:(33191)	पुढीलपैकी कोणता महाराष्ट्रातील जलदुर्ग नाही?
	A. मुरुड-जंजिरा किल्ला
	B. विजयदुर्ग किल्ला
	C. बेकल किल्ला
	D. उंदेरी किल्ला
Answer:	C. बेकल किल्ला
Reference ID:(33189)	पुढीलपैकी कोणती जोडी योग्य रित्या जुळली आहे?
	A. कुचिपुडी - मध्य प्रदेश
	B. कथकली - केरळ
	C. भरतनाट्यम - आंध्र प्रदेश
	D. कथक - तामिळनाडू
Answer:	B. कथकली - केरळ
Reference ID:(20472)	X चे पूर्व दिशेला तोंड आहे. तो 90 अंश उजवीकडे वळतो. मग तो 45 अंश उजवीकडे वळतो. मग तो 180 अंश वळतो. मग तो 90 अंश उजवीकडे वळतो. शेवटी तो डावीकडे 45 अंश वळतो. आता तो कोणत्या दिशेला तोंड करून उभा आहे?
	A. उत्तर पश्चिम
	B. पश्चिम
	C. दक्षिण पूर्व
	D. पूर्व
Answer:	D. पूर्व

Reference ID:(31937)	कर्नाटकातील सर्वोच्च शिखर कोणते आहे?
	A.चामुंडी पर्वत
	B.मुलायनगिरी
	C.पश्चिम पर्वत
	D.नंदी हिस्स
Answer:	B.मुलायनगिरी
Reference ID:(26291)	समाजाला नैसर्गिक संसाधनांची पूर्तता करण्यासाठी आवश्यक असलेले जमीन क्षेत्र आणि तिच्या कचऱ्याची विल्हेवाट हे _____ म्हणून संबोधले जाते.
	A.जैवविविधता पदचिन्ह
	B.पारिस्थितिकी पदचिन्ह
	C.कार्बन पदचिन्ह
	D.वरीलपैकी काहीच नाही
Answer:	B.पारिस्थितिकी पदचिन्ह
Reference ID:(33190)	कोणत्या प्राचीन भाषेत 'जातक कथा' लिहिल्या गेल्या?
	A.पाली
	B.प्राकृत
	C.संस्कृत
	D.तामिळ
Answer:	A.पाली

Reference ID:(16546)	जर @ आहे 'भागाकार' आणि \$ आहे 'गुणाकार', तर खालील पर्यायांपैकी दुसऱ्या क्रमांकाचा सर्वात मोठा कोण आहे?
	A.39@5
	B.4.25\$2.5
	C.31@4
	D.2.75\$2.5
Answer:	A.39@5
Reference ID:(26299)	ऑक्टोपस _____ चे उदाहरण आहे.
	A.अपृष्ठवंशीय प्राणी
	B.पृष्ठवंशीय प्राणी
	C.सस्तन प्राणी
	D.मासे
Answer:	A.अपृष्ठवंशीय प्राणी
Reference ID:(31101)	You've been given a simple sentence. Select the appropriate complex sentence from the options below. You will find such people. You may go wherever.
	A.Wherever you go and you will find such people
	B.You may go wherever and you will find such people
	C.You will find such people wherever you go
	D.Wherever you go but you will find such people
Answer:	C.You will find such people wherever you go

Reference ID:(29631)	Pick the Synonym for the word: Pliable
	A.Flexible
	B.Inelastic
	C.Breakable
	D.Brittle
Answer:	A.Flexible
Reference ID:(26292)	पुढीलपैकी कोणते वाहते पाणी परिसंस्थेच्या वर्गाचा घटक आहे?
	A.ओढा
	B.तळे
	C.सरोवर
	D.त्रिभुज प्रदेश
Answer:	A.ओढा
Reference ID:(31940)	भीमा नदीचा उगम महाराष्ट्रातील खालीलपैकी कोणत्या जिल्ह्यात होतो?
	A.औरंगाबाद
	B.पुणे
	C.रत्नागिरी
	D.कोल्हापूर
Answer:	B.पुणे

Reference ID:(33188)

मराठी भाषा दिवस _____ ला साजरा केला जातो.

A.12 मार्च

B.17 जून

C.27 फेब्रुवारी

D.5 जून

Answer:

C.27 फेब्रुवारी

Reference ID:(29377)

Pick the right meaning of the highlighted word in the sentence:
The new store sells only women's and children's **apparel**.

A.A veil used to cover the face

B.A funny costume used at an event

C.A dress or clothing

D.Gift items

Answer:

C.A dress or clothing

Reference ID:(33192)

"वन संशोधन संस्था (Forest Research Institute)" कोणत्या शहरात स्थापन केली आहे?

A.देहरादून

B.मसूरी

C.बेंगळुरू

D.शिमला

Answer: A.देहरादून

Reference ID:(21461) जर ZUCHINNI हा शब्द BWEJKPPK असेल, तर RASPBERRIES हा शब्द _____ असेल.

A.TCURFTTHIGU

B.TCURDTTHJGU

C.TCURDGTTKGU

D.TCURDTTKIGU

Answer: C.TCURDGTTKGU

Reference ID:(21234) जर ARTICHOKE हा शब्द TRAHCIOKE असेल, तर BLACKJACK हा शब्द _____ असेल.

A.JACKBLACK

B.LABJKCACK

C.ALBJKCACK

D.KKJAABKKJ

Answer: C.ALBJKCACK

Reference ID:(35171) खाली दिलेल्या पत्त्यापैकी 3 पत्ते समान आहेत आणि 1 भिन्न आहे. कोणता पत्ता भिन्न ते ओळखा?

A.401, white pearl, plot 49/50,
galli no 2, tapasya square,
Oppo ST vincent high school,
uday nagar, Maharashtra,
Nagpur - 440024
PH : - 0708030901

B.401, white pearl, plot 49/50,
galli no 2, tapasya square,
Oppo ST vincent high school,
uday nagar, Maharashtra,
Nagpur - 440024
PH : - 0708030901

C.401, white pearl, plot 49/50,
galli no 2, tapsaya square,
Oppo ST vincent high school,
uday nagar, Maharashtra,
Nagpur - 440024
PH : - 0708030901

D.401, white pearl, plot 49/50,
galli no 2, tapasya square,
Oppo ST vincent high school,
uday nagar, Maharashtra,
Nagpur - 440024
PH : - 0708030901

Answer:

C.401, white pearl, plot 49/50,
galli no 2, tapsaya square,
Oppo ST vincent high school,
uday nagar, Maharashtra,
Nagpur - 440024
PH : - 0708030901

Reference ID:(21715)

जर A = 1, B = 2, C = 3, Z = 26, तर खालील पैकी कोणते पर्याय बरोबर आहे?

A. $\{R + E + D\} = \{H + A + V + E\}$

B. $\{R + E + D\} < \{H + A + V + E\}$

C. $\{R + E + D\} > \{H + A + V + E\}$

D. $\{H + A + V + E\} = \{F + L + E + W\}$

Answer:

B. $\{R + E + D\} < \{H + A + V + E\}$

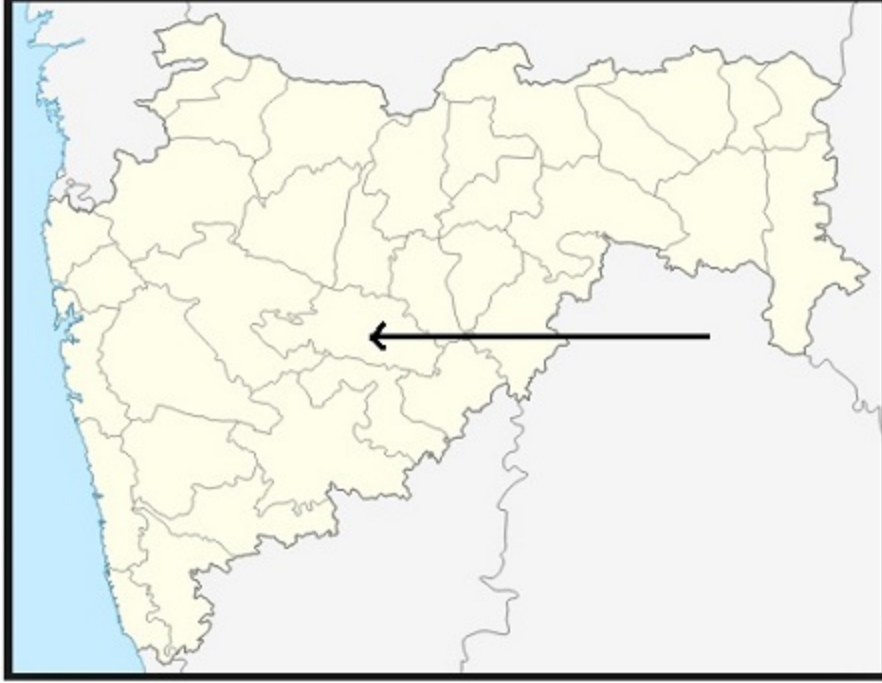
Reference ID:(29858)	Pick the Synonym for the word: bigoted
	A.Intolerant
	B.Objective
	C.Impartial
	D.Poor
Answer:	A.Intolerant
Reference ID:(19740)	"आपलेच दात अन आपलेच ओठ" या म्हणीचा अर्थ खालीलपैकी कोणता ते ओळखा?
	A.आपला सेवक आपल्याहुन श्रेष्ठ पदी पोहोचणे
	B.आपल्याच जवळच्या व्यक्तिमुळे होणारा त्रास किंवा नुकसान
	C.जोराने भांडू लागणे
	D.अनावर हसू येणे
Answer:	B.आपल्याच जवळच्या व्यक्तिमुळे होणारा त्रास किंवा नुकसान
Reference ID:(19232)	भावनेचा बांध फुटणे. या वाक्प्रचाराचा खालीलपैकी कोणता अर्थ योग्य आहे?
	A.खूप घाबरणे
	B.वेड लागणे
	C.दबलेली भावना उफाळून येणे
	D.रागारागाने एखाद्याशी सर्व संबंध तोडणे

Answer:	C.दबलेली भावना उफाळून येणे
Reference ID:(31939)	लोकसभेत एका वर्षात किती सत्र आयोजित केले जातात?
	A.4 सत्र
	B.3 सत्र
	C.5 सत्र
	D.2 सत्र
Answer:	B.3 सत्र
Reference ID:(30139)	Find the meaning of the word:: Latier
	A.Premier
	B.Coffee
	C.Last
	D.Superior
Answer:	C.Last
Reference ID:(28107)	Find the meaning of the highlighted word in the sentence: He was trying to annoy his teachers with his mimicry.
	A.Appease
	B.Charm
	C.Harass
	D.Delight

Answer:

C.Harass

Reference ID:(31128)



महाराष्ट्रातील नकाशात बाणने दर्शविलेला जिल्हा खालीलपैकी कोणता आहे?

A.बीड

B.परभणी

C.उस्मानाबाद

D.नंदुरबार

Answer:

A.बीड

Reference ID:(34944)

जर 24 (276) 12;
23 (264) 12;
तर 21 (?)18.
"?" च्या मूल्य शोधा

A.342

B.410

C.360

D.296

Answer: C.360

Reference ID:(24404) खालीलपैकी व्याकरणाच्या दृष्टीने अशुद्ध शब्द-लेखन असलेला शब्द ओळखा.

A.उष्माघात

B.वात्सल्य

C.संशोदन

D.पूर्णचैतन्य

Answer: C.संशोदन

Reference ID:(18216) मखमलीहुनी मऊ तुझे गाल बाळा
गुलाबाहुनी बालगुलाब हा फुललेला
वरील वाक्यातील अलंकार ओळखा.

A.अर्थान्तरन्यास

B.भ्रान्तिमान

C.व्यतिरेक

D.उत्प्रेक्षा

Answer: C.व्यतिरेक

Reference ID:(29150)

Pick the right meaning of the highlighted word in the sentence:
I didn't come here today to **jeer**: I want to give advice.

A.To cheer someone

B.To ridicule or sneer at someone

C.To applause someone

D.To be disappointed with someone or something

Answer:

B.To ridicule or sneer at someone

Reference ID:(28361)

Find the meaning of the highlighted word in the sentence: He spent his life in
pointless **drudgery**

A.Fun

B.Menial work

C.Entertainment

D.Party

Answer:

B.Menial work

Reference ID:(27399)

Identify the figure of speech in the following sentence: Oh sun, how you scorch us
with your rays.

A.Personification

B.Apostrophe

C.Hyperbole

D.Metaphor

Answer:

B.Apostrophe

Reference ID:(30874) Identify the figure of speech in the following sentence: The jungle fire wan wild.

- A.Apostrophe
- B.Oxymoron
- C.Personification
- D.Hyperbole

Answer: C.Personification

Reference ID:(19713) पुढील म्हण पूर्ण करण्यासाठी योग्य पर्याय निवडा. वासरात _____ गाय शहाणी.

- A.समजूतदार
- B.लंगडी
- C.म्हातारी
- D.हुशार

Answer: B.लंगडी

Reference ID:(24939) पुढील शब्दसमूहासाठी योग्य शब्द निवडा.
उडत उडत केलेले वाचन

- A.सांगोपांग
- B.घोकंपट्टी
- C.विडंबन
- D.शाखाचक्रमण

Answer: D.शाखाचक्रमण

Reference ID:(25166)

खालील वाक्यातील रिकाम्या जागी येणाऱ्या योग्य समूहदर्शक शब्दाचा पर्याय क्रमांक निवडा.
घरघर आवाज करत एक लढाऊ विमानांचा आकाशातून वेगात निघून गेला.

A.काफिला

B.ताफा

C.जथा

D.गट

Answer:

B.ताफा

Reference ID:(33195)

पुण्यात 'आर्य महिला समाज' ची स्थापना कोणी केली होती?

A.सावित्रीबाई फुले

B.पंडिता रमाबाई

C.ज्योती राव फुले

D.बेगम रोकिया

Answer:

B.पंडिता रमाबाई

Question Paper Title : FG_13

Date of Exam : 17-06-2019 10:00 AM

Reference ID:(17150) $4.10 + 5.45 + 6.75 - (2.5 - 4.5 - 2 + 1.5) = \underline{\hspace{2cm}}$

A.19.15

B.18.8

C.18.65

D.18.55

Answer: B.18.8

Reference ID:(17858) $54 \text{ च्या } 1/12 + 70 \text{ च्या } 40\% + 0.30 \times 180 = \underline{\hspace{2cm}}$

A.88

B.88.5

C.85.75

D.86.5

Answer: D.86.5

Reference ID:(29400) Pick the right meaning of the highlighted word in the sentence:
The local people tried to **segregate** the two lovers

A.To unite someone

B.To physically separate someone from others

C.To link someone to something

D.To explain their point of view

Answer: B.To physically separate someone from others

Reference ID:(26252) 1950 मध्ये भारतात वन महोत्सवाची सुरवात कोणी केली होती?

A.कोटा शिवराम कारन्त

B.कन्हैयालाल. एम. मुंशी

C.सुंदरलाल बहुगुणा

D.भगत पुरण सिंह

Answer: B.कन्हैयालाल. एम. मुंशी

Reference ID:(30108) Find the word opposite in meaning to the word: **Harsh**

A.Sharp

B.Rigid

C.Cheerful

D.Coarse

Answer: C.Cheerful

Reference ID:(22828)	जर \$ आहे '+' आणि @ आहे '-', तर खालीलपैकी सर्वात लहान पर्याय कोणता आहे ?
	A.125 \$ 62 \$ 35 @ 74 @ 102 \$ 93 @ 45 @ 37
	B.48 @ 17 @ 25 @ 32 \$ 126 \$ 104 @ 34 @ 74
	C.19 \$ 12 \$ 45 @ 42 @ 36 \$ 103 @ 45 @ 207
	D.144 \$ 67 \$ 25 @ 32 \$ 26 @ 104 \$ 44 \$ 13
Answer:	C.19 \$ 12 \$ 45 @ 42 @ 36 \$ 103 @ 45 @ 207

Reference ID:(31698)	"चिल्का तलाव पक्षी अभयारण्य" येथे स्थित आहे.
	A.ओडिशा
	B.केरळ
	C.तमिळनाडु
	D.कर्नाटक
Answer:	A.ओडिशा

Reference ID:(19990)	"कटी" या शब्दाचा समानार्थी शब्द ओळखा.
	A.कर
	B.खांब
	C.कंबर
	D.मस्तक
Answer:	C.कंबर

Reference ID:(16869)	जर @ आहे 'भागाकार' आणि \$ आहे 'गुणाकार', तर खालीलपैकी सर्वात लहान पर्याय कोणता आहे?
	A.39@5
	B.4.25\$1.5
	C.31@4
	D.2.75\$1.5
Answer:	D.2.75\$1.5
Reference ID:(16542)	जर @ आहे 'भागाकार' आणि \$ आहे 'गुणाकार', तर खालील पर्यायांपैकी दुसऱ्या क्रमांकाचा सर्वात मोठा कोण आहे?
	A.49@5
	B.3.5\$4.5
	C.33@4
	D.3.75\$4.5
Answer:	B.3.5\$4.5
Reference ID:(28892)	Supply the correct tense of the verb in the sentence: The Nawab ____ his art. These memories ____ his lonely heart.
	A.Had appreciated..... had comforted
	B.Appreciates..... comforting
	C.Appreciates..... is comforting
	D.Had appreciated..... are comforts in
Answer:	A.Had appreciated..... had comforted

Reference ID:(19228)	डोळे पांढरे होणे या वाक्प्रचाराचा खालीलपैकी कोणता अर्थ योग्य आहे?
	A.डोळ्यात मोतीबिंदू होणे
	B.एखादी व्यक्ती मरायला टेकणे
	C.एखाद्याची भरभराट पाहून आश्चर्यचकित होणे
	D.खूप आनंदी होणे
Answer:	C.एखाद्याची भरभराट पाहून आश्चर्यचकित होणे
Reference ID:(31905)	'वैगई' नदी कोणत्या राज्यातून वाहते?
	A.तमिळनाडु
	B.राजस्थान
	C.जम्मू-काश्मीर
	D.उत्तराखंड
Answer:	A.तमिळनाडु
Reference ID:(20976)	मालिकेतील रिकामी जागा भरा: P R T __ YBD
	A.U
	B.V
	C.W
	D.T

Answer: C.W

Reference ID:(16515) सहा जण A , B , C , D , E आणि F हे दोन रांगामध्ये एकमेकांकडे तोंड करुन बसले आहेत. दोन्ही रांगामध्ये प्रत्येकी तीन जण आहेत. E हा कोणत्याही रांगेच्या शेवटी बसलेला नाही. D हा F च्या डावीकडे दुसऱ्या क्रमांकावर आहे. E चा शेजारी बसलेला A हा D च्या कर्णाभिमुख आहे. C हा F च्या शेजारी आहे. A च्या समोर कोण बसले आहे?

A.E

B.B

C.D

D.F

Answer: D.F

Reference ID:(29627) Pick the Synonym for the word:
Covert

A.Secretive

B.Visible

C.Exposed

D.Obvious

Answer: A.Secretive

Reference ID:(31906) पुढीलपैकी कोणते राज्य दख्खन पठारात आहे?

A.झारखंड

B.पश्चिम बंगाल

C.कर्नाटक

D.तमिळनाडु

Answer: C.कर्नाटक

Reference ID:(33154) मुंबईतील पहिली कापूस गिरणी कोणी स्थापन केली?

A.मफतलाल

B.जमशेदजी टाटा

C.कावसजी नानाभाई दावर

D.के.जी.एन. डाबर

Answer: C.कावसजी नानाभाई दावर

Reference ID:(29881) Pick the right antonym for the word:
Apathy

A.Compassion

B.Numbness

C.Dirty

D.Rarity

Answer: A.Compassion

Reference ID:(18747) पुढीलपैकी कोणत्या वाक्यात साधा भूतकाळ नाही?

A.श्रीरामने अभ्यास केला.

B.त्यांनी पुस्तके वाचली.

C.आम्ही जेवण करीत होतो.

D. गीताने सिनेमा पाहिला.

Answer: C. आम्ही जेवण करीत होतो.

Reference ID:(24200) खालीलपैकी व्याकरणाच्या दृष्टीने अशुद्ध शब्द-लेखन असलेला शब्द ओळखा.

A. वकीली

B. शेतीप्रधान

C. लघूनिबधं

D. विशोभित

Answer: C. लघूनिबधं

Reference ID:(27368) Identify the figure of speech in the following sentence: The village was buzzing like a beehive.

A. Euphemism

B. Simile

C. Hyperbole

D. Oxymoron

Answer: B. Simile

Reference ID:(17377) $8.55 + 5.25 + 3.5 - (1.55 + 5.25 - 3.5) = \underline{\quad}$

A. 13.75

B. 14.35

C.14

D.13.85

Answer: C.14

Reference ID:(23665) खालीलपैकी समानार्थी शब्दाची बरोबर जोडी ओळखा

A.कटू - गोड

B.साखर - शर्करा

C.दूध - तोय

D.पातळ - घट्ट

Answer: B.साखर - शर्करा

Reference ID:(18239) त – भ – ज – ज – ग – ग हे कोणत्या वृत्ताचे गण आहेत?

A.अभंग

B.भुजंगप्रयात

C.पादाकुलक

D.वसंततिलका

Answer: D.वसंततिलका

Reference ID:(28611) Pick the right idiom which fits into the sentence: Let us _____ and live in peace

A.Call in question

B.Cut a sorry figure

C.Bury the hatchet

D.Eat our words

Answer: C.Bury the hatchet

Reference ID:(20241) एक माणूस त्याच्या घरापासून उत्तर दिशेने 12 कि.मी. चालतो. मग तो डावीकडे वळतो आणि 5 कि.मी. चालतो. मग तो उजवीकडे वळतो आणि 1 कि.मी. चालतो. मग तो उजवीकडे वळतो आणि 7 कि.मी. चालतो. मग तो उजवीकडे वळतो आणि 4 कि.मी. चालतो. मग तो उजवीकडे वळतो आणि 2 कि.मी. चालतो. तो त्याच्या घरापासून किती दूर आहे?

A.8 कि.मी.

B.9 कि.मी.

C.7 कि.मी.

D.7.5 कि.मी.

Answer: B.9 कि.मी.

Reference ID:(20722) जर OH = 46, SUN = 108, CAR = 44, तर PLAY = ___?

A.106

B.107

C.108

D.109

Answer: C.108

Reference ID:(28865)

Convert the simple sentence to a complex sentence: Let us hope for better times

A.Will the time get better?

B.Let us to hope that times will get better

C.Let us hope that better times will come

D.We were awaiting better time

Answer:

C.Let us hope that better times will come

Reference ID:(24427)

खालीलपैकी व्याकरणाच्या दृष्टीने शुध्द वाक्याचा पर्याय निवडा.

A.सोहमचा आनंद दिव्यगुणित झाला.

B.उगाच तिरास्कार करू नये.

C.तो स्वायलंबी होता.

D.त्याने अत्युच्च शिखर गाठले.

Answer:

D.त्याने अत्युच्च शिखर गाठले.

Reference ID:(23692)

'अनुरक्ती' या शब्दाचा विरुद्धार्थी शब्द ओळखा.

A.जिव्हाळा

B.स्नेह

C.संताप

D.पाठिंबा

Answer:

C.संताप

Reference ID:(25189)	"अंतर्गत" या शब्दाचा खालीलपैकी योग्य संधी विग्रह ओळखा.
	A.अंत + गत
	B.अंत: + गत
	C.अंत + गत:
	D.अंत + गरत
Answer:	B.अंत: + गत
Reference ID:(33156)	नालंदा विद्यापीठातील शिक्षण _____ यावर आधारित आहे.
	A.शिख धर्म
	B.जैन धर्म
	C.वैष्णव धर्म
	D.बौद्ध धर्म
Answer:	D.बौद्ध धर्म
Reference ID:(29373)	Pick the right meaning of the highlighted word in the sentence: He described the deception as a hoax.
	A.Resorting to fraud or trickery
	B.Being honest about something
	C.Brave act

D.Joyful state

Answer: A.Resorting to fraud or trickery

Reference ID:(30643) Convert the following active to passive voice: The cleaner has cleaned the office

A.The office has been cleaned by the cleaner

B.The office is being cleaned by the cleaner

C.The cleaner has been cleaning the office

D.Cleaning of the office has been done by the cleaner

Answer: A.The office has been cleaned by the cleaner

Reference ID:(29146) Pick the right meaning of the highlighted word in the sentence:
The **covert** spy had a closet full of disguises that he frequently wore.

A.Something visible to everyone

B.Something hidden or secret

C.Something exposed for everyone to know

D.An obvious fact

Answer: B.Something hidden or secret

Reference ID:(32948) राष्ट्रीय प्राणी अनुवांशिक संसाधन ब्यूरो (The National Bureau of Animal Genetic Resources) चे मुख्यालय येथे आहे.

A.कर्नाल

B.मुंबई

C.नवी दिल्ली

D.जयपूर

Answer:

A.कर्नाल

Reference ID:(32949)

कोणत्या ठिकाणी डीआरडीओने जगातील सर्वात उच्च 'स्थलीय संशोधन केंद्र' (Terrestrial Research Center) स्थापन केले आहे?

A.लेह

B.लडाख

C.तेझू

D.मनाली

Answer:

B.लडाख

Reference ID:(18212)

सावळा ग रामचंद्र | रत्नमंचकी झोपतो |
त्याला पाहता लाजून | चंद्र आभाळी लोपतो ||
वरील ओळीत हा अलंकार वापरला गेला आहे.

A.अर्थान्तरन्यास

B.उत्प्रेक्षा

C.व्यतिरेक

D.भ्रांतिमान

Answer:

C.व्यतिरेक

Reference ID:(19709)	पुढील म्हण पूर्ण करण्यासाठी योग्य पर्याय निवडा. जळत्या घराचा
	A.वासा पडतो
	B.पळता वासा
	C.सडता वासा
	D.मोडता ढाचा
Answer:	B.पळता वासा
Reference ID:(16896)	$5/20 + 0.75 - 10/25 = ?$
	A.0.7
	B.2.975
	C.0.6
	D.2.9
Answer:	C.0.6
Reference ID:(18493)	पुढीलपैकी कोणता प्रधान कर्तुक कर्मणी प्रयोग नाही.
	A.मधुने चित्र काढले
	B.लखुदादाने कौल लावला
	C.जयंतने पुस्तक वाचले
	D.आजी दृष्ट काढते.

Answer: D.आजी दृष्ट काढते.

Reference ID:(28130) Find the meaning of the highlighted word from the sentence: There is a **chasm** between the rich and the poor in our society.

A.Junction

B.Closure

C.Gulf

D.Finishing line

Answer: C.Gulf

Reference ID:(30362) Find the meaning of the highlighted word in the sentence: Sameer sought for the great **oblivion** of sleep.

A.Awareness

B.Alertness

C.Total Forgetfulness

D.Consciousness

Answer: C.Total Forgetfulness

Reference ID:(31903) कोणत्या प्रकरणात सर्वोच्च न्यायालयाने 'संविधानाच्या मुलभूत संरचनेची' संकल्पना विकसित केली?

A.गोलक नाथ प्रकरण

B.शंकरी प्रसाद प्रकरण

C.मिनर्वा मिल्स प्रकरण

D.केशवानंद भारती प्रकरण

Answer: D.केशवानंद भारती प्रकरण

Reference ID:(20495) जर VD = 18, SR = 1 ,तर CS =

A.16

B.15

C.-16

D.-15

Answer: C.-16

Reference ID:(17631) 45 च्या $\frac{1}{18}$ + 12 च्या 20% + $0.40 \times 140 =$ _____

A.62.4

B.62.9

C.60.9

D.60.15

Answer: C.60.9

Reference ID:(26258) भारत हा खालीलपैकी कोणत्या वर्षी जागतिक पर्यावरण दिवसाचा जागतिक यजमान होता?

A.2011

B.2017

C.2019

D.2010

Answer: A.2011

Reference ID:(33151)	विक्रम साराभाई यांना _____ चे भारताचे जनक मानले जाते.
	A.भौतिकशास्त्र
	B.पत्रकारिता
	C.भूगोल
	D.अंतराळ कार्यक्रम
Answer:	D.अंतराळ कार्यक्रम
Reference ID:(33157)	भारतातील सेंट्रल ग्लास अँड सिरेमिक रिसर्च इंस्टिट्यूट चा मुख्यालय कोठे आहे?
	A.कोलकाता
	B.दुर्गापुर
	C.आसनसोल
	D.विजयवाडा
Answer:	A.कोलकाता
Reference ID:(25416)	"जलौघ" या शब्दाचा खालीलपैकी योग्य संधी विग्रह ओळखा.
	A.जल + औघ
	B.जल + ओघ
	C.जल + घ
	D.जलौ + ओघ

Answer: B.जल + ओघ

Reference ID:(31699) पुढीलपैकी कोणाला "राष्ट्र संत" असेही म्हटले जाते?

A.नामदेव

B.तुकाराम

C.तुकडोजी महाराज

D.बाबा आमटे

Answer: C.तुकडोजी महाराज

Reference ID:(27622) Identify the figure of speech in the following sentence: Is that a genuine imitation watch?

A.Euphemism

B.Metaphor

C.Oxymoron

D.Apostrophe

Answer: C.Oxymoron

Reference ID:(27041) Find the word closest in meaning to the word: Appease

A.Ridicule

B.Placate

C.Synergise

D.Praise

Answer:	B.Placate
Reference ID:(19201)	खालील शब्दाचा समास / समास प्रकार ओळखा. गुरुसेवा
	A.नत्र तत्पुरुष
	B.मध्यमपदलोपी
	C.अव्ययीभाव
	D.षष्ठी तत्पुरुष
Answer:	D.षष्ठी तत्पुरुष
Reference ID:(21203)	मालिकेतील रिकामी जागा भरा: __, 3, 8, 15, 24
	A.1
	B.0
	C.2
	D.-1
Answer:	B.0
Reference ID:(35167)	खाली दिलेल्या पत्त्यापैकी 3 पत्ते समान आहेत आणि 1 भिन्न आहे. कोणता पत्ता भिन्न ते ओळखा?
	A.Qtr no -317/A,sector-5,ukkunagaram visakhapatnam steel plant Andhrapradesh PH 0382050401
	B.Qtr no -317/A,sector-5,ukkunagaram visakhapatnam stell plant Andhrapradesh PH 0382050401

C.Qtr no -317/A,sector-5,ukkunagaram
visakhapatnam steel plant
Andhrapradesh
PH 0382050401

D.Qtr no -317/A,sector-5,ukkunagaram
visakhapatnam steel plant
Andhrapradesh
PH 0382050401

Answer: B.Qtr no -317/A,sector-5,ukkunagaram
visakhapatnam stell plant
Andhrapradesh
PH 0382050401

Reference ID:(19455) खालीलपैकी वाक्प्रचार आणि त्याचा अर्थाची योग्य जोडी ओळखा.

A.पाढा वाचणे – मामुली गोष्टीला भलतेच महत्त्व देणे.

B.पार उडणे - निराधार होणे.

C.पायाला भिंगरी बांधणे – सतत फिरतीवर असणे.

D.दुधात साखर पडणे – विवाह होणे.

Answer: C.पायाला भिंगरी बांधणे – सतत फिरतीवर असणे.

Reference ID:(20214) X चे उत्तर दिशेला तोंड आहे.तो 90 अंश उजवीकडे वळतो. मग तो 45 अंश उजवीकडे वळतो. मग तो 180 अंश वळतो. मग तो 45 अंश उजवीकडे वळतो. शेवटी तो डावीकडे 90 अंश वळतो. आता तो कोणत्या दिशेला तोंड करून उभा आहे?

A.पूर्व

B.पश्चिम

C.उत्तर

D.दक्षिण

Answer: B.पश्चिम

Reference ID:(26257)	उत्तर-पूर्व भारतात लागवडीसाठी जमीन तयार करण्यासाठी लहान जंगलांची कापणी आणि जाळण्याची रीत म्हणजे _____
	A.चिपको
	B.बालन
	C.भस्म
	D.झूम
Answer:	D.झूम
Reference ID:(24681)	प्रश्नातील वाक्यात रिकामी जागा भरण्यास सर्वात योग्य शब्द निवडा. सदानंद हे साहित्यिक क्षेत्रातील एकव्यक्तिमत्व आहे.
	A.रायभोग
	B.रुक्षांग
	C.ऋषितुल्य
	D.साष्टांग
Answer:	C.ऋषितुल्य
Reference ID:(26260)	भारतात खालीलपैकी कोणते जैवविविधता हॉटस्पॉट्स आहेत? 1. हिमालय 2. गल्फ ऑफ मन्नार 3. पश्चिम घाट
	A.1, 2
	B.1, 3

C.2, 3

D.1, 2, 3

Answer: B.1, 3

Reference ID:(34940) जर सांकेतिक भाषेत 432567 हे 523476 आहे , तर 785388 हे सांकेतिक भाषेत काय असेल?

A.875297

B.876197

C.876397

D.876297

Answer: D.876297

Reference ID:(31904) महाराष्ट्रात पैनागंगा नदीवर कोणते धरण बांधलेले आहे?

A.इसापूर

B.तोतलाडोह

C.उजनी

D.कोयना

Answer: A.इसापूर

Reference ID:(26253) भारतातील सर्वात पहिले राष्ट्रीय उद्यान 'जिम कॉर्बेट राष्ट्रीय उद्यान' हे कोणत्या वर्षी स्थापन करण्यात आले?

A.1925

B.1932

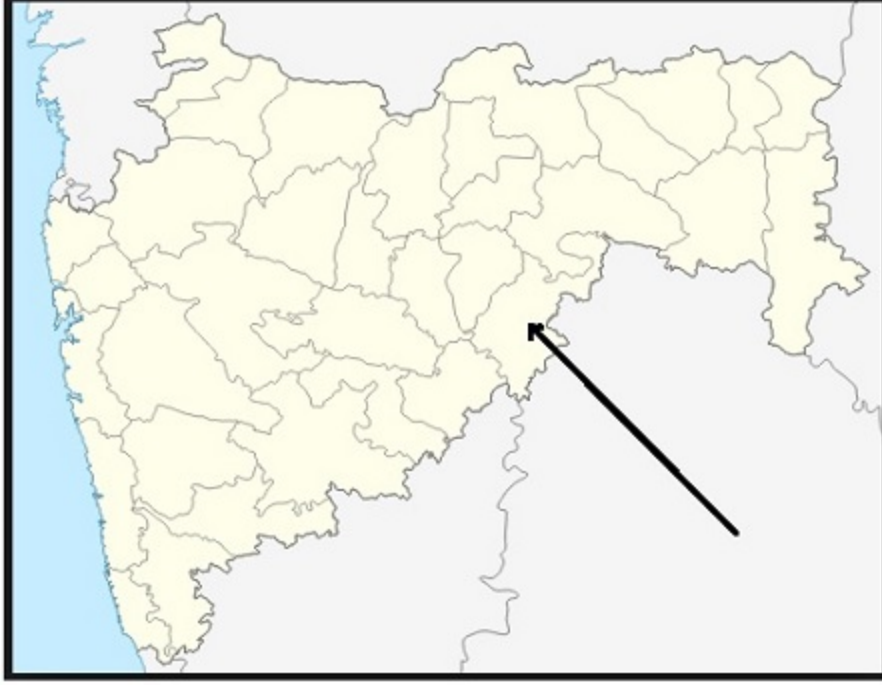
C.1936

D.1943

Answer:

C.1936

Reference ID:(31124)



महाराष्ट्रातील नकाशात बाणने दर्शविलेला जिल्हा खालीलपैकी कोणता आहे?

A.उस्मानाबाद

B.नांदेड

C.परभणी

D.नाशिक

Answer:

B.नांदेड

Reference ID:(30389)	Find the meaning of the highlighted word in the sentence: I am parched with the heat.
	A.Dehydrated
	B.Hydrated
	C.Saturated
	D.Soaking
Answer:	A.Dehydrated
Reference ID:(27014)	Select the correct passive voice form of the sentence: The engine is driving the train.
	A.I am driving the engine for the train
	B.The engine is being driven by the train
	C.The train is being driven by the engine
	D.The train is driving the engine
Answer:	C.The train is being driven by the engine
Reference ID:(19482)	प्रश्नात दिलेल्या वाक्यप्रचाराचा योग्य वापर असलेले वाक्य पर्यायांमधून ओळखा. आबादानी होणे
	A.सदूभाऊंना कामावरून काढून टाकल्याने त्यांच्या घरी आबादानी झाली.
	B.अचानक आलेल्या संकटाने सगळीकडे आबादानी झाली.
	C.तान्हे बाळ रडल्यावर घरात आबादानी होते.
	D.शेतात पीक पूर्ण आले की शेतकऱ्याच्या घरात आबादानी होते.
Answer:	D.शेतात पीक पूर्ण आले की शेतकऱ्याच्या घरात आबादानी होते.

Reference ID:(26255)	जगातील धोकाग्रस्त प्राण्यांची 'रेड लिस्ट' खालीलपैकी कोणती आंतरराष्ट्रीय संस्था जाहीर करते?
	A.आय. यु. सी. एन. (IUCN)
	B.वर्ल्ड वाईल्डलाईफ फंड (WWF)
	C.कॉन्झर्व्हेशन इंटरनॅशनल (CI)
	D.संयुक्त राष्ट्र पर्यावरण कार्यक्रम (UNEP)

Answer: A.आय. यु. सी. एन. (IUCN)

Reference ID:(30135)	Find the meaning of the highlighted word in the sentence: Prem seemed like a jovial chap.
	A.Glum
	B.Sad
	C.Dejected
	D.Jolly

Answer: D.Jolly

Reference ID:(31700)	भारताचा राष्ट्रीय जलचर प्राणी कोणता आहे?
	A.गोड्या पाण्यातील डॉल्फिन
	B.मगर
	C.घरियल
	D.हिरवा बेडूक

Answer: A.गोड्या पाण्यातील डॉल्फिन

Reference ID:(27649)

Pick the correct meaning of the highlighted idiom or phrase from the following:
The man was only **beating around the bush** with the police regarding the robbery.

- A.Avoiding the main topic
- B.To hide behind trees
- C.To talk in a sly manner
- D.To postpone something until later

Answer: A.Avoiding the main topic

Reference ID:(21484)

जर A = 1, B = 2,M = 13; आणि N = 13, O = 12, Z = 1, तर खालील पैकी कोणते पर्याय बरोबर आहे?

- A. $\{S + U + N\} < \{Y + O + U\}$
- B. $\{S + U + N\} = \{Y + O + U\}$
- C. $\{S + U + N\} > \{Y + O + U\}$
- D. $\{S + U + N\} = \{T + R + Y\}$

Answer: C. $\{S + U + N\} > \{Y + O + U\}$

Reference ID:(22574)

खालीलपैकी सर्वात लहान पर्याय कोणता आहे ?

- A. $52 + 55 + 32 - 75 - 105 + 83 - 42 - 57$
- B. $48 + 17 + 52 - 35 + 156 - 104 - 44 - 71$
- C. $19 - 15 + 12 - 45 - 36 + 103 - 42 - 107$
- D. $44 - 67 + 52 + 35 + 56 - 104 + 44 + 13$

Answer: C. $19 - 15 + 12 - 45 - 36 + 103 - 42 - 107$

Reference ID:(17885)	X हा Y हून 33.33% नी मोठा आहे. मग Y हा X हून _____ % लहान आहे.
	A.300
	B.66.66
	C.400
	D.25
Answer:	D.25
Reference ID:(18466)	खालीलपैकी कोणते पर्याय संयुक्त वाक्यरचना सुचवतात? अ) मामांनी मला जत्रेतून एक पतंग आणला आणि ताईला एक बाहुली आणली. ब) उद्या सुट्टी मिळाली तर मी तुझ्याकडे येईन.
	A.फक्त अ
	B.फक्त ब
	C.दोन्ही अ आणि ब
	D.दोन्ही अ आणि ब नाही
Answer:	A.फक्त अ
Reference ID:(33152)	कोणत्या भारतीय शहराला "पूर्वेकडील ऑक्सफर्ड" म्हटले जाते?
	A.कानपूर
	B.पुणे
	C.नोएडा
	D.इंदौर
Answer:	B.पुणे

Reference ID:(17123)

खालील पर्यायांपैकी दुसऱ्या क्रमांकाचा सर्वात लहान कोण आहे?

A. 350 चे 20%

B.1100 चा 1/4

C.0.35 × 900

D.1400 चा 2/5

Answer:

B.1100 चा 1/4

Reference ID:(24173)

खालीलपैकी व्याकरणाच्या दृष्टीने शुद्ध शब्द-लेखन असलेला शब्द ओळखा.

A.वांगमय

B.वाँग्मःय

C.वाड्मःय

D.वाङ्गय

Answer:

D.वाङ्गय

Reference ID:(31902)

भारतीय संविधानाने कोणत्या देशाकडून निवडणूक आयोग घेतला आहे.

A.कॅनडा

B.युनायटेड किंगडम

C.ऑस्ट्रेलिया

D.युनायटेड स्टेट्स ऑफ अमेरिका

Answer:

B.युनायटेड किंगडम

Reference ID:(28103)

Find the word closest in meaning to : Annoy

A.Pleasant

B.Harass

C.Appease

D.Charm

Answer:

B.Harass

Reference ID:(22600)

जर \$ आहे '+' आणि @ आहे '-', तर खालीलपैकी सर्वात मोठा पर्याय कोणता आहे ?

A.55 @ 11 \$ 75 @ 42 \$ 62 \$ 13 @ 45 @ 27

B.118 @ 17 \$ 25 @ 32 \$ 126 @ 104 \$ 44 \$ 37

C.79 @ 42 @ 165 @ 42 @ 36 \$ 103 @ 45 @ 17

D.38 \$ 107 \$ 25 \$ 32 \$ 26 @ 104 @ 144 \$ 7

Answer:

B.118 @ 17 \$ 25 @ 32 \$ 126 @ 104 \$ 44 \$ 37

Reference ID:(34913)

जर $2 \times 34 = 4624$, $22 \times 32 = 495616$, आणि $11 \times 13 = 20449$, तर $5 \times 2 = ?$

A.120

B.100

C.96

D.92

Answer:

B.100

Reference ID:(26259)

‘डोडो’ हा खालीलपैकी कोणत्या प्रकारातील आहे?

A.सस्तनशील प्राणी

B.पक्षी

C.उभयचर प्राणी

D.वटवाघूळ गटातील प्राणी

Answer:

B.पक्षी

Reference ID:(29854)

Pick the Synonym for the word:
Prosaic

A.Dull

B.Funny

C.Queer

D.Bizarre

Answer:

A.Dull

Reference ID:(27395)

Identify the figure of speech in the following sentence: Trees, how majestic your branches are!

A.Euphemism

B.Metaphor

C.Apostrophe

D.Oxymoron

Answer:

C.Apostrophe

Reference ID:(31901)	भारतातील शेअर मार्केटवर पुढीलपैकी कोण नियंत्रण करतो?
	A.बीआयएफआर (BIFR)
	B.सेबी (SEBI)
	C.एफईआरए (FERA)
	D.एमआरटीपी (MRTP) कायदा
Answer:	B.सेबी (SEBI)
Reference ID:(27876)	Pick the correct meaning of the highlighted idiom or phrase from the following: He acted like a wet blanket when his friends told him about the party.
	A.Be a discouraging factor
	B.Be jealous of a situation or of someone
	C.To be enthusiastic about something
	D.To be the centre of attention
Answer:	A.Be a discouraging factor
Reference ID:(24935)	पुढील शब्दसमूहासाठी योग्य शब्द निवडा. अतिशय मूर्खपणा करणारा / मूर्खातील मूर्ख
	A.नादिष्ट
	B.खुळचट
	C.मूर्खशिरोमणी

D.मनमौजी

Answer: C.मूर्खशिरोमणी

Reference ID:(21457) जर KUMQUAT हा शब्द LVNRVBU असेल, तर STRAWBERRIES हा शब्द _____ असेल.

A.TUSADESSJFTX

B.TUSBXCFSJSFT

C.TUSBXCFSSJFT

D.TUSBXCFSSFJT

Answer: C.TUSBXCFSSJFT

Reference ID:(20468) X चे पूर्व दिशेला तोंड आहे. तो 45 अंश डावीकडे वळतो. मग तो 45 अंश उजवीकडे वळतो. मग तो 180 अंश वळतो. मग तो 90 अंश उजवीकडे वळतो. शेवटी तो डावीकडे 90 अंश वळतो. आता तो कोणत्या दिशेला तोंड करून उभा आहे?

A.पश्चिम

B.दक्षिण

C.पूर्व

D.उत्तर

Answer: A.पश्चिम

Reference ID:(17604) $7.25 + 8.5 + 0.45 - (4.30 + 5.25 - 9.75) = \underline{\hspace{2cm}}$

A.16.4

B.16.25

C.16.15

D.16.75

Answer: A.16.4

Reference ID:(30897) Identify the figure of speech in the following sentence: I had no choice but to do as I was told.

A.Hyperbole

B.Personification

C.Oxymoron

D.Metaphor

Answer: C.Oxymoron

Reference ID:(32950) भारतीय अर्थव्यवस्थेमध्ये पुढीलपैकी कोणती नियामक संस्था नाही?

A.आरबीआय (RBI)

B.सेबी (SEBI)

C.सिबिल (CIBIL)

D.आयआरडीएआय (IRDAI)

Answer: C.सिबिल (CIBIL)

Reference ID:(26254)

भारतातील 2011 यावर्षी स्थापन झालेले जीवावरण राखीव क्षेत्र खालीलपैकी कोणते आहे?

A.सेशचलम पर्वतरांगा

B.निलगिरी

C.पन्ना

D.मानस

Answer:

C.पन्ना

Reference ID:(33153)

'म्हैसूर सिल्क' भारतातील कोणत्या राज्यातील प्रसिद्ध आहे?

A.कर्नाटक

B.चेन्नई

C.बिहार

D.पश्चिम बंगाल

Answer:

A.कर्नाटक

Reference ID:(18974)

खालील शब्दाचा समास / समास प्रकार ओळखा.
कांदेबटाटे

A.कर्मधारय

B.तत्पुरुष

C.इतरेतर द्वंद्व

D.बहुव्रीहि

Answer:

C.इतरेतर द्वंद्व

Reference ID:(30870)	Identify the figure of speech in the following sentence: The sea waved at the sands.
	A.Apostrophe
	B.Oxymoron
	C.Simile
	D.Personification
Answer:	D.Personification
Reference ID:(26256)	पुढीलपैकी कोणते भारताने मंजूर केलेले पर्यावरणाशी संबंधित कायदे आहे/ आहेत? A) जल (प्रदूषण प्रतिबंध व नियंत्रण) कायदा B) वन (संवर्धन) कायदा C) वायु (प्रदूषण प्रतिबंध व नियंत्रण) कायदा D) पर्यावरण (संरक्षण) कायदा
	A.A आणि C
	B.B आणि D
	C.A आणि D
	D.A, B, C आणि D
Answer:	D.A, B, C आणि D
Reference ID:(19736)	“दगडावरील रेघ” या म्हणीचा अर्थ खालीलपैकी कोणता ते ओळखा?
	A.ठाम निर्णय
	B.नर्मदा नदीच्या पत्रातील विशिष्ट दगड ज्यांच्यावर रेघा असतात
	C.मूर्खपणाने घेतलेला निर्णय
	D.लहान मुलाने दगडावर कोरलेली रेघ
Answer:	A.ठाम निर्णय

Reference ID:(18720)	सागरने निबंध लिहिला. हे वाक्य खालीलपैकी कोणत्या काळात आहे.
	A.साधा भूतकाळ
	B.रिती भूतकाळ
	C.चालू भूतकाळ
	D.पूर्ण भूतकाळ
Answer:	A.साधा भूतकाळ
Reference ID:(28357)	Find the meaning of the highlighted word in the sentence: It is difficult to discern the truth.
	A.Overlook
	B.Ascertain
	C.Mix up
	D.Forget
Answer:	B.Ascertain
Reference ID:(26251)	प्रसिद्ध पर्यावरणवादी सलीम अली यांचा नावावर असलेले "सलीम अली पक्षीविज्ञान आणि प्राकृतिक इतिहास केंद्र" पुढीलपैकी कोणत्या ठिकाणी आहे?
	A.कोयंबतूर
	B.मुंबई
	C.चेन्नई
	D.कोलकाता
Answer:	A.कोयंबतूर

Reference ID:(23438)	'महती' या शब्दाचा समानार्थी शब्द ओळखा.
	A.थोरवी
	B.गोडवा
	C.भूपती
	D.भावार्थ
Answer:	A.थोरवी
Reference ID:(21711)	जर A = 1, B = 2, C = 3, Z = 26, तर खालील पैकी कोणते पर्याय बरोबर आहे?
	A.{W + H + A + T} = {P + L + A + Y}
	B.{W + H + A + T} < {P + L + A + Y}
	C.{W + H + A + T} > {P + L + A + Y}
	D.{P + L + A + Y} = {L + I + K + E}
Answer:	B.{W + H + A + T} < {P + L + A + Y}
Reference ID:(29119)	Pick the right meaning of the highlighted word in the sentence: Meena abstained from drinking too much coffee
	A.Being capable of something
	B.Adapting to something
	C.Keeping away from something

D. Being able to believe in something

Answer: C. Keeping away from something

Reference ID:(20749) जर SU = 1011, WOW = 12812, तर 148 _____ असू शकते

A. AOG

B. AGO

C. ADO

D. AHO

Answer: B. AGO

Reference ID:(33155) कोणते शहर महाराष्ट्राची दुसरी राजधानी म्हणून समजले जाते?

A. नाशिक

B. नागपूर

C. औरंगाबाद

D. पुणे

Answer: B. नागपूर

Reference ID:(30616) Pick the correct meaning of the highlighted idiom: He was **brought to book** for embezzling funds.

A. To be punished

B.To be employed for his knowledge

C.To balance books of accounts

D.To make error in judgement

Answer: A.To be punished

Reference ID:(24908) पुढील शब्दसमूहासाठी योग्य शब्द निवडा.
मोटेचे पाणी जेथे पडते तेथील दगडांनी बांधलेल्या कुंडीवजा जागा

A.थारले

B.कालवा

C.थारोळे

D.विवर

Answer: C.थारोळे

Reference ID:(19963) पुढील विधानाला जी म्हण योग्य असेल असा पर्याय ओळखा:
एका सुप्रसिद्ध नटीच्या आईने मुलाखतीत सांगितले की तिच्या मुलीला एक वर्षाची असल्यापासून अभिनय करण्याची आवड होती. म्हणतात ना

A.मुलाचे पाय पाळण्यात दिसतात

B.करावे तसे भरावे

C.काही सोन्याचा गुण, काही सवयीचा गुण

D.मनी वसे ते स्वप्नी दिसे

Answer: A.मुलाचे पाय पाळण्यात दिसतात

Reference ID:(22246) खालीलपैकी सर्वात मोठा पर्याय कोणता आहे ?

A. $12 - 55 + 62 - 45 - 65 + 103 - 42 - 57$

B. $18 - 17 + 52 - 35 + 56 - 104 + 44 + 38$

C. $19 - 15 + 162 - 45 - 36 - 103 - 42 - 17$

D. $38 - 107 + 52 + 35 + 56 - 104 + 44 + 37$

Answer: B. $18 - 17 + 52 - 35 + 56 - 104 + 44 + 38$

Reference ID:(23946) खालीलपैकी विरुद्धार्थी शब्दाची चुकीची जोडी ओळखा.

A. हात x कर

B. सरस x नीरस

C. सुचिन्ह x दुश्चिन्ह

D. आधार x निराधार

Answer: A. हात x कर

Reference ID:(28638) Pick the right idiom which fits into the sentence: Beware of Sajay, they said, he's _____

A. Far and few between from others

B. Miles behind everyone

C. A bolt from the blue

D. A wolf in a sheep's clothing

Answer: D. A wolf in a sheep's clothing

Reference ID:(25162) खालील वाक्यातील रिकाम्या जागी येणाऱ्या योग्य समूहदर्शक शब्दाचा पर्याय क्रमांक निवडा. बांबूच्या वाघ आपल्या भक्ष्यासाठी दबा धरून बसला होता.

A.गंजीत

B.बनात

C.झाडांत

D.ढिगात

Answer:

B.बनात

Reference ID:(28384)

Find the word opposite in meaning to the word: **Feign**

A.Conscious

B.Simple

C.Honest

D.Assume

Answer:

C.Honest

Reference ID:(21230)

जर SUPERDRY हा शब्द EPUSYRDR असेल आणि COMPUTER हा शब्द PMOCRETU असेल, तर ZUCCHINI हा शब्द _____ असेल.

A.INIHCCUZ

B.CCUZINIH

C.CCUZHINI

D.INHICCZU

Answer:

B.CCUZINIH

Reference ID:(23919)

खालीलपैकी विरुद्धार्थी शब्दाची बरोबर जोडी ओळखा.

A.आकाश x गगन

B.अवघड x सोपे

C.आनंद x हर्ष

D.आश्चर्य x नवल

Answer:

B.अवघड x सोपे

Reference ID:(24654)

प्रश्नातील वाक्यात रिकामी जागा भरण्यास सर्वात योग्य शब्द निवडा.
पालकांनी मुलींना मैदानी खेळ खेळण्यासाठी द्यावे.

A.हनन

B.पावन

C.प्रोत्साहन

D.गतोत्साह

Answer:

C.प्रोत्साहन

Question Paper Title : FG_14

Date of Exam : 17-06-2019 02:30 PM

Reference ID:(20750) जर KI = 65, EGG = 344, तर 151 _____ असू शकते

A.IEA

B.AIA

C.AAI

D.IAE

Answer: B.AIA

Reference ID:(30109) Find the meaning of the highlighted in the sentence: The minister received some **harsh** criticism.

A.Petty

B.Bland

C.Bitter

D.Cheerful

Answer: C.Bitter

Reference ID:(30644) Convert the following active to passive voice: He had written three books before 2000

A.He was to have written three books before 2000

B.Before 2000 three books had been written by him

C.Three books had been written by him before 2000

D.He is to have written three books before 2000

Answer: C.Three books had been written by him before 2000

Reference ID:(18494) खालीलपैकी प्रयोगाची अचूक जोडी ओळखा.

A.पोपट डाळिंब खातो - सकर्मक कर्तरी प्रयोग

B.त्याची कादंबरी लिहून झाली - शक्य कर्मणी प्रयोग

C.रूपाली पत्र लिहते - अकर्मक कर्तरी प्रयोग

D.मला पत्र लिहवते - नवीन कर्मणी प्रयोग

Answer: A.पोपट डाळिंब खातो - सकर्मक कर्तरी प्रयोग

Reference ID:(17378) $8 + 5.5 + 12 + 6.25 - (3.5 + 10 - 2.5 + 4) = \underline{\quad}$

A.16.9

B.17.15

C.16.75

D.16.8

Answer: C.16.75

Reference ID:(23947) खालीलपैकी विरुद्धार्थी शब्दाची चुकीची जोडी ओळखा.

A.सावध x बेसावध

B.हत्ती x कुंजर

C.सजातीय x विजातीय

D.होकार x नकार

Answer: B.हत्ती x कुंजर

Reference ID:(24909) पुढील शब्दसमूहासाठी योग्य शब्द निवडा.
सामान्य लोकांत अपवादाने आढळणारा सज्जन

A.सत्वपुरुष

B.जनप्रवर्तक

C.लोकहितवादी

D.लोकोत्तर

Answer: D.लोकोत्तर

Reference ID:(18240) प्रत्येक चरणात मात्रा सारख्या असल्या तरी त्याची मांडणी भिन्न असल्यामुळे या वृत्ताला विषमजाती मात्रावृत्त म्हटले जाते.

A.भुजंगप्रयात

B.नववधू

C.पादाकुलक

D.वसंततिलका

Answer: B.नववधू

Reference ID:(29147) Pick the right meaning of the highlighted word in the sentence:
My husband is always snooping into my affairs, which makes it difficult to keep his surprise party **covert**.

A. Something exposed for everyone to know

B. Something visible to everyone

C. Something hidden or secret

D. An obvious fact

Answer: C. Something hidden or secret

Reference ID:(16870) $20/25 + 0.5 - 5/40 = ?$

A. 1.175

B. 0.975

C. 1.425

D. 1.45

Answer: A. 1.175

Reference ID:(33162) गौतम बुद्धांनी पहिला उपदेश त्यांच्या पाच भिक्षुंना कोणत्या ठिकाणी दिला?

A. सारनाथ

B. हरिद्वार

C. काशी

D. वृंदावन

Answer: A. सारनाथ

Reference ID:(27623)	Identify the figure of speech in the following sentence: The city was empty – like the land of the living dead.
	A.Simile
	B.Apostrophe
	C.Metaphor
	D.Oxymoron
Answer:	D.Oxymoron
Reference ID:(17886)	X हा Y हून 75% नी मोठा आहे. मग Y हा X हून _____ % लहान आहे.
	A.10
	B.20
	C.25
	D.42.85
Answer:	D.42.85
Reference ID:(33158)	रेशीम आणि कापूस यांचे मिश्रणातून बनलेली 'चंदेरी साडी' भारताच्या कोणत्या राज्यातील प्रसिद्ध आहे?
	A.मध्य प्रदेश
	B.पश्चिम बंगाल
	C.उत्तर प्रदेश
	D.बिहार

Answer:	A.मध्य प्रदेश
Reference ID:(27369)	Identify the figure of speech in the following sentence: The sun is a golden ball.
	A.Oxymoron
	B.Apostrophe
	C.Metaphor
	D.Euphemism
Answer:	C.Metaphor
Reference ID:(28358)	Find the meaning of the highlighted word in the sentence: One could faintly discern the flavor of lemon.
	A.Recognize
	B.Mix up
	C.Miss
	D.Overlook
Answer:	A.Recognize
Reference ID:(31909)	नर्मदा आणि तापी ह्या नद्या कोणत्या समुद्रात जाऊन मिळतात?
	A.लाल समुद्र
	B.अंदमान समुद्र
	C.अरबी समुद्र
	D.लक्कादीव समुद्र

Answer:

C.अरबी समुद्र

Reference ID:(26268)

जैवविविधतेचे संवर्धन _____ साठी महत्वाचे आहे

A.वनस्पती

B.प्राणी

C.दोन्ही वनस्पती आणि प्राणी

D.सर्व जीवांसाठी

Answer:

D.सर्व जीवांसाठी

Reference ID:(24174)

खालीलपैकी व्याकरणाच्या दृष्टीने शुद्ध शब्द-लेखन असलेला शब्द ओळखा.

A.पारितोषिक

B.पारीतोषिक

C.पारितोषीक

D.परीतोषीक

Answer:

A.पारितोषिक

Reference ID:(22829)

जर \$ आहे '+' आणि @ आहे '-', तर खालीलपैकी सर्वात लहान पर्याय कोणता आहे ?

A.12 @ 55 \$ 62 @ 45 @ 65 \$ 103 @ 42 @ 57

B.18 @ 17 \$ 52 @ 35 \$ 56 @ 104 \$ 44 \$ 37

C.19 @ 15 \$ 162 @ 45 @ 36 @ 103 @ 42 @ 17

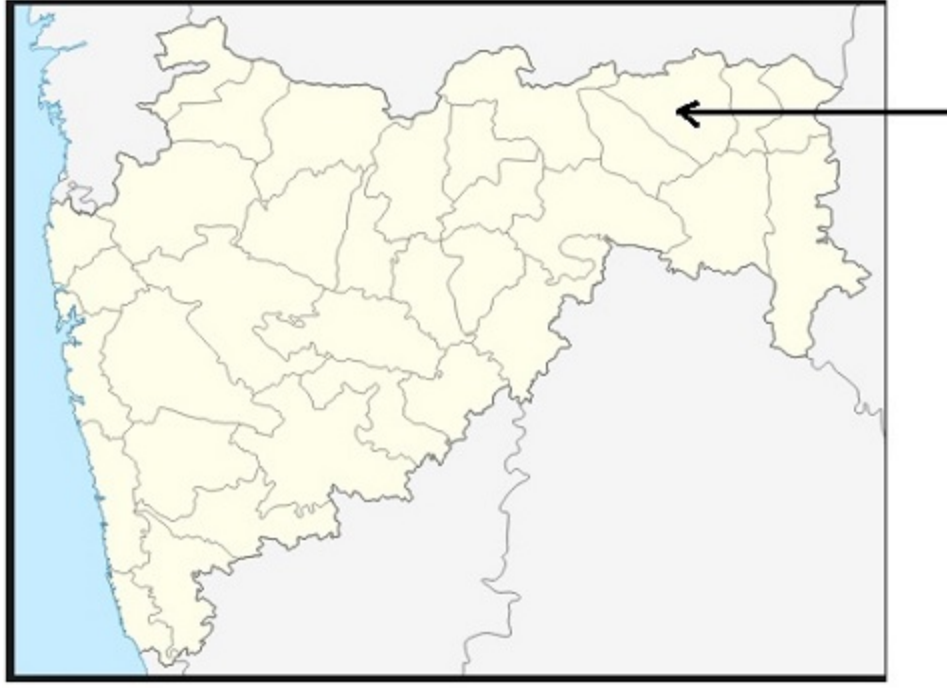
D.38 @ 107 \$ 52 \$ 35 \$ 56 @ 104 \$ 44 \$ 37

Answer:

A.12 @ 55 \$ 62 @ 45 @ 65 \$ 103 @ 42 @ 57

Reference ID:(26270)	जल संस्थेत शैवालाची अत्यधिक वाढ _____ चा परिणाम आहे.
	A.युट्रोफिकेशन
	B.क्षारण
	C.गाळ
	D.वरीलपैकी काहीच नाही
Answer:	A.युट्रोफिकेशन
Reference ID:(33166)	चित्तोडगड किल्ला _____ यांनी बांधला आहे.
	A.कुंभ
	B.चित्रांगद मोरी
	C.रतन सिंह
	D.बप्पा रावल
Answer:	B.चित्रांगद मोरी
Reference ID:(30363)	Find the meaning of the highlighted word in the sentence: An unexpected victory saved him from political oblivion .
	A.Obcurity
	B.Alertness
	C.Awareness
	D.Consciousness
Answer:	A.Obcurity

Reference ID:(31125)



महाराष्ट्रातील नकाशात बाणने दर्शविलेला जिल्हा खालीलपैकी कोणता आहे?

A. लातूर

B. नागपूर

C. हिंगोली

D. गोंदीया

Answer:

B. नागपूर

Reference ID:(16543)

जर @ आहे 'भागाकार' आणि \$ आहे 'गुणाकार', तर खालील पर्यायांपैकी दुसऱ्या क्रमांकाचा सर्वात लहान कोण आहे?

A. 49@5

B. 3.5\$4.5

C.33@4

D.3.75\$4.5

Answer: A.49@5

Reference ID:(33159) सिंधु खोरे संस्कृतीमध्ये खालीलपैकी कोणत्या शहरात गोदी(बंदर) होते?

A.मेहरगढ

B.लोथल

C.मोहेंजोदारो

D.हडप्पा

Answer: B.लोथल

Reference ID:(28639) Pick the right idiom which fits into the sentence: The _____ was clear, Arun was to be the next CEO.

A.Loaves and fishes

B.Mare's nest

C.Writing on the wall

D.Cut one dead

Answer: C.Writing on the wall

Reference ID:(17859) 45 च्या $\frac{1}{18}$ + 25 च्या 30% + $0.40 \times 140 = \underline{\hspace{2cm}}$

A.67.5

B.68

C.65.25

D.66

Answer: D.66

Reference ID:(19202) खालील शब्दाचा समास / समास प्रकार ओळखा.
सुखप्राप्त

A.तृतीय तत्पुरुष

B.मध्यमपदलोपी

C.नत्र बहुव्रीहि

D.अव्ययीभाव

Answer: A.तृतीय तत्पुरुष

Reference ID:(20977) मालिकेतील रिकामी जागा भरा: P R T WY __ D

A.Z

B.A

C.C

D.B

Answer: D.B

Reference ID:(21485) जर A = 1, B = 2,M = 13; आणि N = 13, O = 12, Z = 1, तर खालील पैकी कोणते पर्याय बरोबर आहे?

A. {Y + O + U} > {T + R + Y}

B. {Y + O + U} = {T + R + Y}

C. {Y + O + U} < {T + R + Y}

D. {Y + O + U} = {J + A + C + K}

Answer: A. {Y + O + U} > {T + R + Y}

Reference ID:(30898)

You've been given a simple sentence. Select the appropriate complex sentence from the options below.

She begins to sing. She does so at the time of her liking.

A. At her time of liking she begins to sing

B. She begins to sing at her time of her liking

C. She begins to sing whenever she likes

D. As her liking goes, she begins to sing

Answer: C. She begins to sing whenever she likes

Reference ID:(31912)

कोणत्या प्रकरणाने निश्चित केले की उद्देशिका संविधानाचा एक भाग आहे?

A. केशवानंद भारती प्रकरण

B. बेरुबारी संघ प्रकरण

C. गोलकनाथ प्रकरण

D. मिनर्वा मिल्स प्रकरण

Answer: A. केशवानंद भारती प्रकरण

Reference ID:(24682)	प्रश्नातील वाक्यात रिकामी जागा भरण्यास सर्वात योग्य शब्द निवडा. एकासंस्कृतीच्या पाऊलखुणा जंगलात सापडल्या आहेत.
	A.आदिम
	B.आडकाम
	C.आदिष्टपदार्थ
	D.आदीसोयरा
Answer:	A.आदिम
Reference ID:(25163)	खालील वाक्यातील रिकाम्या जागी येणाऱ्या योग्य समूहदर्शक शब्दाचा पर्याय क्रमांक निवडा. दूरवर रात्रीच्या चांदण्यात वाळवंटातून उंटांचा पुढे सरकत होता.
	A.घोळका
	B.कळप
	C.कबिला
	D.तांडा
Answer:	D.तांडा
Reference ID:(30390)	Find the meaning of the highlighted word in the sentence: The grass parched up in summer.
	A.Saturated
	B.Hydrated
	C.Dried
	D.Soaked
Answer:	C.Dried

Reference ID:(26262)	परिसंस्थेची प्राथमिक उत्पादकता _____ ने निश्चित केली जाते.
	A.प्राणी
	B.पाणी
	C.वनस्पती
	D.मानव
Answer:	C.वनस्पती
Reference ID:(26265)	महाराष्ट्राचे राज्यफूल कोणते आहे?
	A.चाफा
	B.पलाश
	C.झेंडू
	D.जारूल
Answer:	D.जारूल
Reference ID:(33164)	मुंबई विद्यापीठाची स्थापना कोणत्या वर्षी झाली?
	A.1835
	B.1857
	C.1843
	D.1888
Answer:	B.1857

Reference ID:(27877)	Pick the correct meaning of the highlighted idiom or phrase from the following: His books were lying at sixes and sevens in the room.
	A.Scattered and in a state of disarray
	B.To be in piles of six or more in number
	C.To be in a torn condition
	D.To be of no value
Answer:	A.Scattered and in a state of disarray
Reference ID:(19229)	शंभर वर्षे भरणे. या वाक्प्रचाराचा खालीलपैकी कोणता अर्थ योग्य आहे?
	A.वयाची शंभरी उलटून जाणे
	B.वयाची नव्याणौ वर्षे उलटून शंभर वर्षाचा वाढदिवस जवळ येणे
	C.वयाची शंभरी उलटून गेल्यावर डोके फिरणे
	D.एखाद्या व्यक्तीचा विनाशकाळ ओढवणे
Answer:	D.एखाद्या व्यक्तीचा विनाशकाळ ओढवणे
Reference ID:(27015)	Select the correct passive voice form of the sentence: Children are laughing at the old man.
	A.The old man and the children are being laughed at
	B.The children laughed at the old man
	C.The old man is being laughed at by the children

D.Are the children laughing at the old man?

Answer: C.The old man is being laughed at by the children

Reference ID:(18975) खालील शब्दाचा समास / समास प्रकार ओळखा.
नाकडोळे

A.तत्पुरुष

B.द्विगू

C.कर्मधारय

D.इतरेतर द्वंद्व

Answer: D.इतरेतर द्वंद्व

Reference ID:(30617) Pick the correct meaning of the highlighted idiom: Let us **bury the hatchet** on past issues.

A.To punish someone for something

B.To continue warring

C.To let go and make peace

D.To continue enmity with someone

Answer: C.To let go and make peace

Reference ID:(18748) पुढीलपैकी रीती भूतकाळ असलेले वाक्य सांगा.

A.शाम रोज व्यायाम करीत असे.

B.सिद्धीने काम संपविले होते.

C.सरांनी छान शिकविले होते.

D.मुलांनी चांगला पेपर लिहिला होता.

Answer: A.शाम रोज व्यायाम करीत असे.

Reference ID:(27396) Identify the figure of speech in the following sentence: Feet, don't fail me now.

A.Oxymoron

B.Metaphor

C.Euphemism

D.Apostrophe

Answer: D.Apostrophe

Reference ID:(17605) $9.75 + 2.8 + 3.25 - (9.55 - 3.95 - 3.75) = \underline{\hspace{2cm}}$

A.13.95

B.12.95

C.13.4

D.14

Answer: A.13.95

Reference ID:(18721) अमोल कविता करीत असे. हे वाक्य कोणत्या काळात आहे.

A.साधा भूतकाळ

B.रिती भूतकाळ

C.चालू भूतकाळ

D.पूर्ण भूतकाळ

Answer: B.रिती भूतकाळ

Reference ID:(24936) पुढील शब्दसमूहासाठी योग्य शब्द निवडा.
कोणालाही कळू न देता

A.गुप्तहेर

B.बिनबोभाट

C.अवर्णनीय

D.अप्रस्तुत

Answer: B.बिनबोभाट

Reference ID:(18213) आहे ताजमहाल एक जगती तो तोच त्याच्यापरी |
ह्या काव्यपंक्तिमधील अलंकार कोणता?

A.अर्थान्तरन्यास

B.भ्रांतिमान

C.व्यतिरेक

D.अनन्वय

Answer: D.अनन्वय

Reference ID:(35168) खाली दिलेल्या पत्त्यापैकी 3 पत्ते समान आहेत आणि 1 भिन्न आहे. कोणता पत्ता भिन्न ते ओळखा?

A.H.NO 3-202/2 , Opposite
S.V.junior College Road
Nayanagar, Suryapet (District)
Telangana
PH 0754701200

B.H.NO 3-202/2 , Opposite
S.V.junior College Road
Nayanagar, Suryapet (District)
Telangana
PH 0754701200

C.H.NO 3-202/2 , Opposite
S.V.junior College Road
Nayanagar, Suryapet (District)
Telangana
PH 0754701200

D.H.NO 3-202/2 , Opposite
S.V.junior Collage Road
Nayanagar, Suryapet (District)
Telangana
PH 0754701200

Answer:

D.H.NO 3-202/2 , Opposite
S.V.junior Collage Road
Nayanagar, Suryapet (District)
Telangana
PH 0754701200

Reference ID:(21231)

जर SUPERDRY हा शब्द EPUSYRDR असेल आणि COMPUTER हा शब्द PMOCRETU असेल, तर BROCCOLI हा शब्द _____ असेल.

A.CCORBILO

B.CCOOBRLI

C.CORBILOC

D.CCOOLIBR

Answer:

C.CORBILOC

Reference ID:(20242)	एक माणूस त्याच्या घरापासून उत्तर दिशेने 12 कि.मी. चालतो. मग तो डावीकडे वळतो आणि 5 कि.मी. चालतो. मग तो उजवीकडे वळतो आणि 1 कि.मी. चालतो. मग तो उजवीकडे वळतो आणि 7 कि.मी. चालतो. मग तो उजवीकडे वळतो आणि 4 कि.मी. चालतो. मग तो उजवीकडे वळतो आणि 3 कि.मी. चालतो. मग तो डावीकडे वळतो आणि 5 कि.मी. चालतो. मग तो डावीकडे वळतो आणि 1 कि.मी. चालतो. तो त्याच्या घरापासून किती दूर आहे?
	A.4 कि.मी. B.2.5 कि.मी. C.2 कि.मी. D.3.5 कि.मी.
Answer:	A.4 कि.मी.
Reference ID:(26263)	यू.एन.ई.पी. (UNEP) चे पूर्ण रूप _____
	A.युनायटेड नेशन्स एजुकेशन प्रोग्रॅम B.युनायटेड नेशन्स एलिफन्ट प्रोग्रॅम C.युनायटेड नॅशनल एन्व्हायरन्मेंट प्रोग्रॅम D.वरीलपैकी काहीच नाही
Answer:	C.युनायटेड नॅशनल एन्व्हायरन्मेंट प्रोग्रॅम
Reference ID:(19737)	"पिकते तिथे विकत नाही" या म्हणीचा अर्थ खालीलपैकी कोणता ते ओळखा?
	A.जिथे ठराविक पिके उधवली जातात त्या ठिकाणी त्याची विक्री होऊ शकत नाही B.ज्या ठिकाणी एखाद्या गोष्टीची निर्मिती होती त्याच ठिकाणी ती गोष्ट विकली जाते C.याचकाला मदत करायची सोडून उलट जास देणे वा अपमानित करणे

D.जिथे आपण जनमतो अथवा बालपण घालवतो तिथे आपला मोठेपणा माहीत नसतो

Answer: D.जिथे आपण जनमतो अथवा बालपण घालवतो तिथे आपला मोठेपणा माहीत नसतो

Reference ID:(23920) खालीलपैकी विरुद्धार्थी शब्दाची बरोबर जोडी ओळखा.

A.कमळ x सरोज

B.कावळा x काक

C.काळजी x चिंता

D.आदी x अंत

Answer: D.आदी x अंत

Reference ID:(33160) 1932 मध्ये पुणे करार हा महात्मा गांधी आणि _____ यांच्यात झाला होता?

A.बी. आर. अंबेडकर

B.मोहम्मद जिन्ना अली

C.जवाहरलाल नेहरू

D.सुभाषचंद्र बोस

Answer: A.बी. आर. अंबेडकर

Reference ID:(29882) Pick the right antonym for the word:
opaque

A.Transparent

B.Fuzzy

C.Unclear

D.Dim

Answer: A.Transparent

Reference ID:(19964) पुढील विधानाला जी म्हण योग्य असेल असा पर्याय ओळखा:
गोपाळरावांचे बाजारात १० वर्षांपासून दुकान होते. १ महिन्यापूर्वी त्यांच्या शेजारी किसन शेठनी दुकान उघडले. किसन शेठचे दुकान गोपाळरावांपेक्षा टापटीप होते, त्यामुळे त्यांच्याकडे जास्त गर्दी व्हायला लागली. गोपाळरावांना किसन शेठबद्दल वाटले ...

A.कानामागून आली आणि तिखट झाली

B.जळात राहून माशाशी वैर

C.ढवळ्या शेजारी बांधला पवळा वाण नाही पण गुण लागला

D.कोठे राजा भोज, कोठे गंगू तेली

Answer: A.कानामागून आली आणि तिखट झाली

Reference ID:(29628) Pick the Synonym for the word:
jeer

A.Sneer

B.Cheer

C.Applause

D.Disappoint

Answer: A.Sneer

Reference ID:(28612) Pick the right idiom which fits into the sentence: She visits her mother's place _____

A.Once in a blue moon

B.Hand in glove

C.In flesh and blood

D.Over head and ears

Answer: A.Once in a blue moon

Reference ID:(28385) Find the meaning of the highlighted word in the sentence: Some animals **feign** death when in danger.

A.Pretend

B.Stimulate

C.Lose consciousness

D.Conclude

Answer: A.Pretend

Reference ID:(22247) खालीलपैकी सर्वात मोठा पर्याय कोणता आहे ?

A.52 + 55 + 32 - 75 - 105 + 83 - 42 - 57

B.48 + 17 + 52 - 35 + 156 - 104 - 44 - 71

C.19 - 15 + 12 - 45 - 36 + 103 - 42 - 107

D.44 - 67 + 52 + 35 + 56 - 104 + 44 + 13

Answer: D.44 - 67 + 52 + 35 + 56 - 104 + 44 + 13

Reference ID:(31914) टेहरी धरण संघर्षाचे नेते कोण होते?

A.सुंदरलाल बहुगुणा

B.अण्णा हजारे

C.मेधा पाटकर

D.अमृता देवी

Answer: A.सुंदरलाल बहुगुणा

Reference ID:(26267) राष्ट्रीय उद्याने, अभयारण्ये _____ यासाठी बनवली जातात.

A.शिकार

B.पर्यटन

C.संवर्धन

D.व्यावसायिक वापर

Answer: C.संवर्धन

Reference ID:(17124) खालील पर्यायांपैकी दुसऱ्या क्रमांकाचा सर्वात मोठा कोण आहे?

A. 350 चे 30%

B.1300 चा 1/4

C.0.35 × 900

D.900 चा 2/5

Answer: B.1300 चा 1/4

Reference ID:(21458) जर KUMQUAT हा शब्द LVNRVBU असेल, तर ORANGES हा शब्द _____ असेल.

A.PSBOFHT

B.PSOBFHT

C.PDBOTFH

D.PSBOHFT

Answer: D.PSBOHFT

Reference ID:(29120) Pick the right meaning of the highlighted word in the sentence:
The President gave his **assent** to the new bill

A.Asking to withhold something

B.Avenging something

C.Giving consent to something

D.Asking to withdraw something

Answer: C.Giving consent to something

Reference ID:(24428) खालीलपैकी व्याकरणाच्या दृष्टीने शुद्ध वाक्याचा पर्याय निवडा.

A.भावी पिढी सूसंस्कारीत व्हायला हवी.

B.चौथीचा शिष्यवृत्ती परीक्षेचा निकाल जाहीर झाला.

C.पिकीने वक्तृत्वस्पर्धेत भाग घेतला.

D.त्या महाविद्यालयात राहुलला प्रवेश मिळाला.

Answer: C.पिकीने वक्तृत्वस्पर्धेत भाग घेतला.

Reference ID:(19456) खालीलपैकी वाक्प्रचार आणि त्याचा अर्थाची अयोग्य जोडी ओळखा.

A.हतखंडा असणे – कुशलता असणे.

B.हतबल होणे – असमर्थ ठरणे.

C.हातचा मळ असणे – ढवळाढवळ करणे.

D.हातावर तुरी देणे – फसविणे.

Answer: C.हातचा मळ असणे – ढवळाढवळ करणे.

Reference ID:(27650) Pick the correct meaning of the highlighted idiom or phrase from the following:
At first she didn't like the job, but allowing her to work from home she realized was a **blessing in disguise**

A.Something good that isn't recognized at first

B.To only see a negative in a situation

C.To not understand the true meaning of something

D.To be overly optimistic

Answer: A.Something good that isn't recognized at first

Reference ID:(28104) Find the word opposite in meaning to: Annoy

A.Agitate

B.Harass

C.Irritate

D.Cheer

Answer: D.Cheer

Reference ID:(33161) अब्दुल कलाम बेट पूर्वी कोणत्या नावाने ओळखले जात होते?

A.हॅव्लॉक बेट

B.एलिफंट बेट

C.कडमत बेट

D.क्विलर डेट

Answer: D.क्विलर डेट

Reference ID:(21204) डललकेतील रलकलडी डलडल डरल: 0, __, 8, 15, 24

A.4

B.6

C.3

D.5

Answer: C.3

Reference ID:(29855) Pick the Synonym for the word:
malice

A.Nastiness

B.Passion

C.Love

D.Friendliness

Answer: A.Nastiness

Reference ID:(21712) डर A = 1, B = 2, C = 3, Z = 26, तर खललल डैकी कुणते डरुडड डरुडड आडे?

A.{P + L + A + Y} = {L + I + K + E}

B.{P + L + A + Y} < {L + I + K + E}

C.{P + L + A + Y} > {L + I + K + E}

D. {L + I + K + E} = {B + A + L + L}

Answer: C. {P + L + A + Y} > {L + I + K + E}

Reference ID:(30871) Identify the figure of speech in the following sentence: The first rays of the sun tip toed on the window.

A. Personification

B. Euphemism

C. Apostrophe

D. Oxymoron

Answer: A. Personification

Reference ID:(26266) गेंड्यांची शिकार प्रामुख्याने त्यांच्या कोणत्या गोष्टीसाठी केली जाते?

A. मांस

B. दात

C. लोकर

D. शिंग

Answer: D. शिंग

Reference ID:(20496) जर $KL = -1$, $WE = 18$, तर $QW =$

A. -6

B. 6

C. -5

D.5

Answer: A.-6

Reference ID:(16516) सहा जण A , B , C , D , E आणि F हे दोन रांगामध्ये एकमेकांकडे तोंड करून बसले आहेत. दोन्ही रांगामध्ये प्रत्येकी तीन जण आहेत. E हा कोणत्याही रांगेच्या शेवटी बसलेला नाही. D हा F च्या डावीकडे दुसऱ्या क्रमांकावर आहे. E चा शेजारी बसलेला A हा D च्या कर्णाभिमुख आहे. C हा F च्या शेजारी आहे. E आणि C ची जागेची अदलाबदल केल्यानंतर नव्या ठिकाणी C चा शेजारी कोण असतील?

A.A आणि B

B.F आणि B

C.A आणि F

D.वरीलपैकी काहीही नाही

Answer: A.A आणि B

Reference ID:(24401) खालीलपैकी व्याकरणाच्या दृष्टीने अशुद्ध शब्द-लेखन असलेला शब्द ओळखा.

A.पूजासाहित्य

B.अपभ्रंश

C.संविधान

D.विधानपरिषद

Answer: A.पूजासाहित्य

Reference ID:(31908) बालपक्रम राष्ट्रीय उद्यान (Balphakram National Park) भारतातील कोणत्या राज्यात आहे?

A.मेघालय

B.मध्य प्रदेश

C.उत्तर प्रदेश

D.पश्चिम बंगाल

Answer:

A.मेघालय

Reference ID:(17351)

$9.55 + 5.95 + 3.75 - (2.75 + 3.5 - 4.75 + 0.5) = \underline{\hspace{2cm}}$

A.17.9

B.17.25

C.17.1

D.17.5

Answer:

B.17.25

Reference ID:(20469)

X चे दक्षिण दिशेला तोंड आहे. तो 45 अंश डावीकडे वळतो. मग तो 45 अंश उजवीकडे वळतो. मग तो 180 अंश वळतो. मग तो 90 अंश उजवीकडे वळतो. शेवटी तो डावीकडे 90 अंश वळतो. आता तो कोणत्या दिशेला तोंड करून उभा आहे?

A.पश्चिम

B.दक्षिण

C.पूर्व

D.उत्तर

Answer:	D.उत्तर
Reference ID:(19483)	<p>प्रश्नात दिलेल्या वाक्यप्रचाराचा योग्य वापर असलेले वाक्य पर्यायांमधून ओळखा. कासावीस होणे</p> <p>A.परीक्षेत चांगले यश मिळाल्याने धनु कासावीस झाला.</p> <p>B.खूप दिवासांनी माहेरी आलेल्या मुलीला पाहून आई आनंदाने कासावीस झाली.</p> <p>C.खूप रात्र झाली होती तरी निशा घरी आली नव्हती म्हणून तिच्या आईचा जीव कासावीस झाला होता.</p> <p>D.धंद्याची होणारी भरभराट पाहून विलासराव कासावीस झाले.</p>
Answer:	C.खूप रात्र झाली होती तरी निशा घरी आली नव्हती म्हणून तिच्या आईचा जीव कासावीस झाला होता.
Reference ID:(18467)	<p>खालीलपैकी कोणते पर्याय मिश्र वाक्यरचना सुचवतात?</p> <p>अ) सुर्य बराच वर आला आहे. पण तो ढगांनी व्यापला आहे.</p> <p>ब) कितीही उपाय केले तरी मूळचे रूप पालटत नाही.</p> <p>A.फक्त अ</p> <p>B.फक्त ब</p> <p>C.दोन्ही अ आणि ब</p> <p>D.दोन्ही अ आणि ब नाही</p>
Answer:	B.फक्त ब
Reference ID:(23666)	<p>खालीलपैकी समानार्थी शब्दाची बरोबर जोडी ओळखा</p> <p>A.खिडकी – गवाक्ष</p> <p>B.राजमार्ग – आडमार्ग</p> <p>C.स्वर्ग – नरक</p> <p>D.आकाश – पाताळ</p>

Answer: A.खिडकी – गवाक्ष

Reference ID:(20723) जर GO = 76, F L Y = 637, B U G = 237, तर COURT = __?

A.361292

B.36392

C.362911

D.31492

Answer: B.36392

Reference ID:(25417) "स्वरौघ" या शब्दाचा खालीलपैकी योग्य संधी विग्रह ओळखा.

A.स्वर + औघ

B.स्वर + ओघ

C.स्वर + घ

D.स्वर + रौघ

Answer: B.स्वर + ओघ

Reference ID:(26264) अल- नीनो खालीलपैकी काय आहे.

(1) शीत सागरी प्रवाह

(2) गरम सागरी प्रवाह

A.फक्त (1)

B.फक्त (2)

C.दोन्ही (1) आणि (2)

D.दोन्ही (1) आणि (2) नाही

Answer:

B.फक्त (2)

Reference ID:(19991)

"श्रवण" या शब्दाचा समानार्थी शब्द ओळखा.

A.कान

B.कठोर

C.कंट

D.कर

Answer:

A.कान

Reference ID:(31913)

_____ च्या किनारपट्टीवर 'मन्नारचे आखात' स्थित आहे.

A.तमिळनाडु

B.गुजरात

C.आंध्र प्रदेश

D.कर्नाटक

Answer:

A.तमिळनाडु

Reference ID:(31911)

भारतीय संविधानाने कोणत्या देशाकडून संघ सूची आणि राज्य सूची घेतली आहे.

A.कॅनडा

B.युनायटेड किंगडम

C.ऑस्ट्रेलिया

D.युनायटेड स्टेट्स ऑफ अमेरिका

Answer: A.कॅनडा

Reference ID:(17632) 36 च्या $\frac{1}{8}$ + 44 च्या 25% + $0.25 \times 60 = \underline{\hspace{2cm}}$

A.32

B.32.5

C.30.5

D.29.75

Answer: C.30.5

Reference ID:(27042) Find the word opposite in meaning to the word: Appease

A.Synergise

B.Provoke

C.Encourage

D.Placate

Answer: B.Provoke

Reference ID:(34941) जर 14 (156)12;
23 (198) 9;
तर 32 (?)18.
"?" च्या मूल्य शोधा

A.558

B.485

C.455

D.554

Answer: A.558

Reference ID:(28131) Find the meaning of the highlighted word from the sentence: The earthquake created a **chasm** on the road.

A.Peak

B.Junction

C.Closure

D.Fissure

Answer: D.Fissure

Reference ID:(31915) भारतातील कोणत्या राज्यात हम्पी हे पुरातत्त्विक स्थळ आहे?

A.कर्नाटक

B.गुजरात

C.तमिळनाडु

D.आंध्र प्रदेश

Answer: A.कर्नाटक

Reference ID:(33163)	महाराष्ट्राचे पहिले मुख्यमंत्री कोण होते?
	A.वसंतराव नाईक
	B.यशवंराव चव्हाण
	C.पी.के सावंत
	D.विलासराव देशमुख
Answer:	B.यशवंराव चव्हाण
Reference ID:(34914)	जर $23 \times 3 = 4761$, $24 \times 9 = 46656$, आणि $25 \times 3 = 5625$, तर $3 \times 2 = ?$
	A.28
	B.36
	C.32
	D.34
Answer:	B.36
Reference ID:(29374)	Pick the right meaning of the highlighted word in the sentence: She looked lovely, despite her strange apparel
	A.A veil used to cover the face
	B.A funny costume used at an event
	C.A dress or clothing
	D.Behaviour
Answer:	C.A dress or clothing

Reference ID:(25190)	"सन्मती" या शब्दाचा खालीलपैकी योग्य संधी विग्रह ओळखा.
	A.स + मती
	B.सत् + मती
	C.स + नमती
	D.सन + मती
Answer:	B.सत् + मती
Reference ID:(28893)	Fill in the blanks with simple past or past perfect tense of the verbs: After I ____ the news, I ____ to see him.
	A.Had heard..... hurried
	B.Heard about..... hurried
	C.Have heard..... hurry
	D.Heard..... hurry
Answer:	A.Had heard..... hurried
Reference ID:(31910)	रिपो रेट आणि रिव्हर्स रेपो रेट हे _____ शी संबंधित आहेत.
	A.सरकारचे आर्थिक धोरण
	B.सार्वजनिक कर्ज
	C.आयात निर्यात

D.रिझर्व् बँकेचे पतधोरण

Answer: D.रिझर्व् बँकेचे पतधोरण

Reference ID:(23693) 'परिहार्य' या शब्दाचा विरुद्धार्थी शब्द ओळखा.

A.निमंत्रित

B.अटळ

C.आगंतुक

D.निरसन

Answer: B.अटळ

Reference ID:(26269) आम्ल वर्षा _____ च्या कणांमुळे होते.

A.सल्फर

B.नायट्रोजन

C.दोन्ही सल्फर आणि नायट्रोजन

D.वरीलपैकी काहीच नाही

Answer: C.दोन्ही सल्फर आणि नायट्रोजन

Reference ID:(24655)	प्रश्नातील वाक्यात रिकामी जागा भरण्यास सर्वात योग्य शब्द निवडा. सत्ताधारी पक्षातील नेत्यांमध्ये तात्विक असल्याने त्याचा फायदा विरोधी पक्षांना झाला.
	A.निर्बोध
	B.मंत्रमुग्ध
	C.मतभेद
	D.माधुकरी
Answer:	C.मतभेद
Reference ID:(30136)	Find the meaning of the highlighted word in the sentence: When we next met, he was much more jovial .
	A.Dejected
	B.Sad
	C.Happy
	D.Depressed
Answer:	C.Happy
Reference ID:(26261)	बायोस्फीअर रिझर्वचा _____ झोन पर्यटनपासून मुक्त ठेवला आहे. (a) कोर झोन (b) ट्रांजिशन झोन (c) बफर झोन
	A.फक्त a
	B.दोन्ही a आणि b
	C.दोन्ही a आणि c

D.फक्त c

Answer: A.फक्त a

Reference ID:(29601) Pick the right meaning of the highlighted word in the sentence:
Some societies still **segregate** men and women.

A.To link someone to something

B.To unite someone

C.To physically separate someone from others

D.To create uniquely

Answer: C.To physically separate someone from others

Reference ID:(33165) भारतातील केंद्रीय खनन आणि इंधन संशोधन (CSIR- Central Institute of Mining and Fuel Research) संस्था चे मुख्यालय कोठे आहे?

A.बोकारो

B.धनबाद

C.रांची

D.जमशेदपूर

Answer: B.धनबाद

Reference ID:(19710)

पुढील म्हण पूर्ण करण्यासाठी योग्य पर्याय निवडा. घरोघरी _____ चुली.

A.मातीच्या

B.दगडाच्या

C.धातूच्या

D.कोळशाच्या

Answer:

A.मातीच्या

Reference ID:(16897)

$12/20 + 2.5 - 5/40 = ?$

A.1.6

B.2.975

C.1.975

D.1.175

Answer:

B.2.975

Reference ID:(28866)

Convert the simple sentence to a complex sentence: The news of his safe return made us happy

A.His safe return news made us happy

B.We were happy he returned safely

C.The news that he has returned safely made us happy

D.That he returned home safely made us happy

Answer:	C.The news that he has returned safely made us happy
Reference ID:(22575)	खालीलपैकी सर्वात लहान पर्याय कोणता आहे ? A. $22 - 11 + 72 - 45 + 65 + 13 - 42 - 57$ B. $118 - 17 + 52 - 35 + 156 - 104 + 44 + 37$ C. $79 - 45 - 162 - 45 - 36 + 103 - 42 - 17$ D. $38 + 107 + 52 + 35 + 56 - 104 - 144 + 7$
Answer:	C. $79 - 45 - 162 - 45 - 36 + 103 - 42 - 17$
Reference ID:(20215)	X चे उत्तर दिशेला तोंड आहे.तो 45 अंश उजवीकडे वळतो. मग तो 90 अंश उजवीकडे वळतो. मग तो 180 अंश वळतो. मग तो 45 अंश उजवीकडे वळतो. शेवटी तो डावीकडे 90 अंश वळतो. आता तो कोणत्या दिशेला तोंड करून उभा आहे? A. पूर्व B. पश्चिम C. उत्तर D. दक्षिण
Answer:	B. पश्चिम
Reference ID:(33167)	राजस्थानांच्या हस्तकला वस्तु _____ नावाने विकल्या जातात. A. राजदरबार B. राजस्थली C. राजदर्पण D. महाराजा

Answer: B.राजस्थली

Reference ID:(31907) पारादीप बंदर भारतातील कोणत्या राज्यात स्थित आहे?

A.आंध्र प्रदेश

B.ओडिसा

C.तमिळनाडु

D.केरळ

Answer: B.ओडिसा

Reference ID:(23439) 'तेज' या शब्दाचा समानार्थी शब्द ओळखा.

A.आभा

B.नभ

C.भूमंडळ

D.हळूहळू

Answer: A.आभा

Reference ID:(22801) जर \$ आहे '+' आणि @ आहे '-', तर खालीलपैकी सर्वात मोठा पर्याय कोणता आहे ?

A.125 \$ 62 \$ 35 @ 74 @ 102 \$ 93 @ 45 @ 37

B.48 @ 17 @ 25 @ 32 \$ 126 \$ 104 @ 34 @ 74

C.19 \$ 12 \$ 45 @ 42 @ 36 \$ 103 @ 45 @ 207

D.144 \$ 67 \$ 25 @ 32 \$ 26 @ 104 \$ 44 \$ 13

Answer:

D.144 \$ 67 \$ 25 @ 32 \$ 26 @ 104 \$ 44 \$ 13

Reference ID:(17398) $4.50 + 3.05 + 4.35 - (4.5 - 2.75 - 2.25) = \underline{\hspace{2cm}}$

A.12.45

B.12.35

C.12.95

D.12.40

Answer: D.12.40

Reference ID:(20489) जर $B + A + L + L = 27$, $H + A + V + E = 36$, तर $M + A + D + E = \underline{\hspace{2cm}}?$

A.23

B.25

C.24

D.26

Answer: A.23

Reference ID:(20743) जर $GO = 48$, $YOU = 13811$, तर 11110 असू शकते

A.BBSA

B.UAS

C.AASS

D.USA

Answer: B.UAS

Reference ID:(17117) खालीलपैकी सर्वात लहान पर्याय कोणता आहे?

A.350 चे 70%

B.1300 चा 1/4

C.0.35 × 900

D.700 चा 2/5

Answer: A.350 चे 70%

Reference ID:(18460) विजा चमकू लागल्या. पावसाला सुरुवात झाली.
ह्या वाक्याचे संयुक्त वाक्य बनवण्यासाठी खालीलपैकी कोणता पर्याय योग्य ठरेल?

A.जेव्हा विजा चमकू लागल्या तेव्हा पावसाला सुरुवात झाली

B.विजा चमकू लागल्या आणि पावसाला सुरुवात झाली

C.जर विजा चमकू लागल्या तर पावसाला सुरुवात होईल.

D.विजा चमकून पाऊस सुरु झाला.

Answer: B.विजा चमकू लागल्या आणि पावसाला सुरुवात झाली

Reference ID:(17144)

$4.55 + 5.25 + 3.5 - (5.50 + 3.25 - 4.35) = \underline{\hspace{2cm}}$

A.8.9

B.7.75

C.9.65

D.9.25

Answer:

A.8.9

Reference ID:(25794)

वनस्पती व प्राणी प्रजातींचे संरक्षण करण्यासाठी _____ हा भारतीय संसदेचा अधिनियमित केलेला कायदा आहे.

A.वन्यजीव संरक्षण कायदा, 1972

B.भारतीय वन अधिनियम, 1927

C.वन संवर्धन अधिनियम, 1980

D.वन आश्रित समुदायाची मालकी कायदा, 2005

Answer:

A.वन्यजीव संरक्षण कायदा, 1972

Reference ID:(31444)

खालीलपैकी कोणत्या राज्यात प्रसिद्ध "मुळांचे साकव (लिविंग रूट ब्रिज)" आढळतात?

A.आसाम

B.मिझोरम

C.मेघालय

D.सिक्किम

Answer: C.मेघालय

Reference ID:(20716) जर AS = 40, D O G = 52, L I K E = 74, तर U N I V E R S A L = ___?

A.240

B.239

C.241

D.242

Answer: D.242

Reference ID:(27035) Find the word closest in meaning to the word: Ridicule

A.Small

B.Mock

C.Throw

D.Jump

Answer: B.Mock

Reference ID:(30383) Find the meaning of the highlighted word in the sentence: He was walking at a very quick **pace** and I had to jog to keep up with him.

A.Temper

B.Cramp

C.Speed

D.Humor

Answer: C.Speed

Reference ID:(21705) जर A = 1, B = 2, C = 3, Z = 26, तर खालील पैकी कोणते पर्याय बरोबर आहे?

A.{C + A + R} = {B + U + S}

B.{C + A + R} < {B + U + S}

C.{C + A + R} > {B + U + S}

D.{B + U + S} = {D + O + C + K}

Answer: B.{C + A + R} < {B + U + S}

Reference ID:(28124) Find the word opposite in meaning to the highlighted word: Caper

A.Jump

B.Serious

C.Dance

D.Prank

Answer: B.Serious

Reference ID:(19730) "भिकेची हंडी शिंक्याला चढत नाही" या म्हणीचा अर्थ खालीलपैकी कोणता ते ओळखा?

A.एखाद्या हंडीमध्ये भिक्षा मागून आणलेले अन्न हे कधी शिंक्यामध्ये बंधू नये

B.दुसऱ्या व्यक्तीवर सतत अवलंबून असणारी व्यक्ती ही स्वतः नेहेमीच दरिद्री राहते

C.हंडीमध्ये शिजवलेले अन्न हे कधी आढ्याला टांगून ठेवू नये

D.उधारीवर घेतलेले अन्न हे सहजासहजी पचत नाही

Answer: B.दुसऱ्या व्यक्तीवर सतत अवलंबून असणारी व्यक्ती ही स्वतः नेहेमीच दरिद्री राहते

Reference ID:(32691) महात्मा गांधी यांना 'राष्ट्रपिता' म्हणून प्रथम कोणी संबोधित केले होते?

A.सुभाष चंद्र बोस

B.रवींद्रनाथ टागोर

C.बाळ गंगाधर टिळक

D.जवाहरलाल नेहरू

Answer: A.सुभाष चंद्र बोस

Reference ID:(18206) परवाचा भूकंप म्हणजे जणू सृष्टीचे तांडवच ।
ह्या वाक्यात कोणत्या अलंकाराचा वापर झालेला आढळतो.

A.उत्प्रेक्षा

B.व्यतिरेक

C.अपन्हृती

D.भ्रांतिमान

Answer: A.उत्प्रेक्षा

Reference ID:(21224) जर BROCCOLI हा शब्द BCCILLOOR असेल आणि BOWEL हा शब्द BELOW असेल, तर OREGANO हा शब्द _____ असेल.

A.AEGNOOR

B.OOAEGNR

C.AENGOOR

D.AENGROO

Answer: A.AEGNOOR

Reference ID:(29113) Fill in the blanks with the correct form of future continuous or future perfect tense: Which government agency _____ the case.

A.Will be investigating

B.Is investigating

C.Was investigating

D.Investigated

Answer: A.Will be investigating

Reference ID:(17852) 45 च्या $\frac{1}{18}$ + 70 च्या 40% च्या 200% + $0.25 \times 150 =$ _____

A.97.5

B.98

C.95.25

D.96

Answer: D.96

Reference ID:(30356) Find the meaning of the highlighted word in the sentence: She was extremely **nimble** on her feet.

A.Quick

B.Slow

C.Soft

D.Daft

Answer: A.Quick

Reference ID:(22822) जर \$ आहे '+' आणि @ आहे '-', तर खालीलपैकी सर्वात लहान पर्याय कोणता आहे ?

A.52 @ 55 @ 32 \$ 75 \$ 105 @ 83 \$ 42 \$ 57

B.48 @ 17 @ 52 \$ 35 @ 156 \$ 104 \$ 44 \$ 71

C.19 \$ 15 @ 12 \$ 45 \$ 36 @ 103 \$ 42 \$ 107

D.44 \$ 67 @ 52 @ 35 @ 56 \$ 104 @ 44 @ 13

Answer: D.44 \$ 67 @ 52 @ 35 @ 56 \$ 104 @ 44 @ 13

Reference ID:(16863) जर @ आहे 'भागाकार' आणि \$ आहे 'गुणाकार', तर खालील पर्यायांपैकी दुसऱ्या क्रमांकाचा सर्वात मोठा कोण आहे?

A.33@5

B.1.5\$1.5

C.31@4

D.3\$1.5

Answer: A.33@5

Reference ID:(25183) 'प्रत्यक्ष' या शब्दाचा खालीलपैकी योग्य संधी विग्रह ओळखा.

A.प्रति + कक्ष

B.प्रति + अश

C.प्रति + अक्ष

D.प्रते + अक्ष

Answer:

C.प्रति + अक्ष

Reference ID:(27008)

Select the correct passive voice form of the sentence: We adopted his recommendation.

A.Did we adopt his recommendation?

B.He recommended and we adopted

C.His recommendation has been adopted by us

D.We are going to adopt his recommendation

Answer:

C.His recommendation has been adopted by us

Reference ID:(35161)

खाली दिलेल्या पत्त्यापैकी 3 पत्ते समान आहेत आणि 1 भिन्न आहे. कोणता पत्ता भिन्न ते ओळखा?

A.Plot no 98 and 99, shivem Autotech limited,
Vemagal, kolar
Karnataka
PH 0090506060

B.Plot no 98 and 99, shivam Autotech limited,
Vemagal, kolar
Karnataka
PH 0090506060

C.Plot no 98 and 99, shivam Autotech limited,
Vemagal, kolar
Karnataka
PH 0090506060

D.Plot no 98 and 99, shivam Autotech limited,
Vemagal, kolar
Karnataka
PH 0090506060

Answer: A.Plot no 98 and 99, shivem Autotech limited,
Vemagal, kolar
Karnataka
PH 0090506060

Reference ID:(24448) प्रश्नातील वाक्यात रिकामी जागा भरण्यास सर्वात योग्य शब्द निवडा.
श्रावणबाळाने आपल्या आई वडिलांची सेवा केली

A.सवत

B.कसरत

C.अनवरत

D.इशारत

Answer: C.अनवरत

Reference ID:(19222) "बार उडवणे" या वाक्प्रचाराचा खालीलपैकी कोणता अर्थ योग्य आहे?

A.एखाद्या कार्याची पूर्तता करणे

B.दिवाळीच्या फटाक्यांचा आनंद लुटणे

C.लक्ष्मी नावाचा आवाज करणारा फटका फोडणे

D.एखाद्याच्या मुस्कटात मारणे

Answer: A.एखाद्या कार्याची पूर्तता करणे

Reference ID:(31445)	'फ्रेंच भाषा ' भारतातील कोणत्या केंद्रशासित प्रदेशाची अधिकृत भाषा आहे?
	A.गोवा
	B.पुडुचेरी
	C.दमण आणि दीव
	D.लक्षद्वीप
Answer:	B.पुडुचेरी
Reference ID:(22240)	खालीलपैकी सर्वात मोठा पर्याय कोणता आहे ?
	A. $22 + 11 - 72 + 45 - 65 - 13 + 42 + 57$
	B. $118 + 17 - 52 + 35 - 156 + 104 - 44 - 37$
	C. $79 + 45 + 162 + 45 + 36 - 103 + 42 + 17$
	D. $38 - 107 - 52 - 35 - 56 + 104 + 144 - 7$
Answer:	C. $79 + 45 + 162 + 45 + 36 - 103 + 42 + 17$
Reference ID:(25799)	महाराष्ट्रात 2012 मध्ये स्थापन केलेले वन्यजीव अभयारण्य खालीलपैकी कोणते आहे?
	A.मयुरेश्वर सुपे
	B.मानसिंघदेव
	C.कारंज सोहोळ
	D.उमरेड – खारंगला

Answer: D.उमरेड – खारंगला

Reference ID:(18968) खालील शब्दाचा समास / समास प्रकार ओळखा.
श्यांमसुंदर

A.बहुव्रीहि

B.कर्मधारय

C.द्वंद्व

D.अव्ययीभाव

Answer: B.कर्मधारय

Reference ID:(28859) Convert the simple sentence to a complex sentence: He liked his former place

A.The place that he lived formerly was liked by him

B.He likes the place where he had lived formerly

C.He liked the place that he lived formerly

D.His former place was liked by him

Answer: C.He liked the place that he lived formerly

Reference ID:(32695) गुजरातच्या राज्यप्राणीचे नाव काय आहे?

A.एशियाई सिंह

B.वाघ

C.हत्ती

D.जिराफ

Answer:	A.एशियाई सिंह
Reference ID:(24194)	खालीलपैकी व्याकरणाच्या दृष्टीने अशुद्ध शब्द-लेखन असलेला शब्द ओळखा.
	A.ग्रामीण
	B.गिन्हाईक
	C.प्रतीष्ठित
	D.गृहस्थ
Answer:	C.प्रतीष्ठित
Reference ID:(24929)	पुढील शब्दसमूहासाठी योग्य शब्द निवडा. समोरासमोरील कुंपणामुळे तयार झालेली गावातील किंवा शेतातील वाट
	A.वहिवाट
	B.गावरान
	C.शिवार
	D.पाणंदी
Answer:	D.पाणंदी
Reference ID:(17625)	36 च्या $\frac{1}{8}$ + 12 च्या 20% च्या 200% + $0.30 \times 180 =$ _____
	A.64.8
	B.63.3
	C.65.3
	D.62.55

Answer:

B.63.3

Reference ID:(21478)

जर A = 1, B = 2,M = 13; आणि N = 13, O = 12, Z = 1, तर खालील पैकी कोणते पर्याय बरोबर आहे?

A. $\{S + H + E\} < \{J + A + Y\}$

B. $\{S + H + E\} = \{J + A + Y\}$

C. $\{S + H + E\} > \{J + A + Y\}$

D. $\{S + H + E\} = \{B + U + S\}$

Answer:

C. $\{S + H + E\} > \{J + A + Y\}$

Reference ID:(17371)

$7.55 + 8.5 + 0.55 - (4.50 - 7.75 + 1.25) = \underline{\hspace{2cm}}$

A.17.95

B.18.55

C.18.60

D.18.05

Answer:

C.18.60

Reference ID:(32697)

भारतातील नील क्रांतीचे जनक खालीलपैकी कोण आहेत?

A.हिरला चौधरी

B.एम. एस. स्वामीनाथन

C.व्हर्गीज कुरियन

D.शालीहोत्र

Answer: A.हिरला चौधरी

Reference ID:(21451) जर CLEMENTINE हा शब्द ZIBJBKQFKB असेल, तर ELDERBERRY हा शब्द _____ असेल.

A.BIAOBYBOOV

B.BIABOYBOOV

C.BIABOYOOBV

D.BAIBOYOPPV

Answer: B.BIABOYBOOV

Reference ID:(24421) खालीलपैकी व्याकरणाच्या दृष्टीने शुध्द वाक्याचा पर्याय निवडा.

A.मनोहररावांनी स्वेच्छानिवृत्ती स्वीकारली.

B.विनोद आणि मिलिंद अप्तेष्ट आहेत.

C.आज कंपनीचा वरधापनदिन आहे.

D.आता तिने तारुण्यात पदार्पण केले.

Answer: A.मनोहररावांनी स्वेच्छानिवृत्ती स्वीकारली.

Reference ID:(20997) मालिकेतील रिकामी जागा भरा: 8, __, 26, 50, 98

A.14

B.18

C.15

D.16

Answer: A.14

Reference ID:(28632) Pick the right idiom which fits into the sentence: Sam _____ in connection with the dispute with his neighbor

A.Had a finger in the pie

B.Hoped against hope

C.Got into hot water

D.Got the better off

Answer: C.Got into hot water

Reference ID:(25798) _____ ह्यांना "भारताचे जलपुरुष" म्हणून ओळखले जाते.

A.एम एस स्वामिनाथन

B.राजेंद्र सिंह

C.जी डी अगरवाल

D.राजेश्वर जय सिंह

Answer: B.राजेंद्र सिंह

Reference ID:(16509) सहा जण बिनाँय, चारु, अॅलेक्स, डॅनी, एलन आणि फिरोज हे दोन रांगामध्ये एकमेकांकडे तोंड करून बसले आहेत. दोन्ही रांगामध्ये प्रत्येकी तीन जण आहेत. एलन हा कोणत्याही रांगेच्या शेवटी बसलेला नाही. डॅनी हा फिरोजच्या डावीकडे दुसऱ्या क्रमांकावर आहे. एलनचा शेजारी बसलेला अॅलेक्स हा डॅनीच्या कर्णाभिमुख आहे. चारु हा फिरोजच्या शेजारी आहे. खालीलपैकी कोण एकाच रांगेत आहेत?

A.अॅलेक्स आणि फिरोज

B.फिरोज आणि बिनाॅय

C.एलन आणि डॅनी

D.डॅनी आणि चारु

Answer:

D.डॅनी आणि चारु

Reference ID:(32690)

कुंडनकुलम परमाणू ऊर्जा प्रकल्प स्थानक कोणत्या राज्यात स्थित आहे?

A.आंध्र प्रदेश

B.तमिळनाडु

C.कर्नाटक

D.केरळ

Answer:

B.तमिळनाडु

Reference ID:(32696)

गोव्याची अधिकृत भाषा काय आहे?

A.इंग्रजी

B.हिंदी

C.कोंकणी

D.पोर्तुगीज

Answer:

C.कोंकणी

Reference ID:(25800)

‘कॅम्पा’ (CAMPA) चे पूर्ण स्वरूप खालीलपैकी काय आहे?

A.कोऑर्डिनेटेड अग्रीकल्चर मॅनेजमेंट अँड प्लानिंग अॅथॉरटी

B.कोऑपरेटिव्ह अँग्रीकल्चर मँनेजमेंट अँण्ड प्लानिंग अँथॉरटी

C.कॉम्पेनसेटरी अँफोरेस्टेशन फंड मँनेजमेंट अँण्ड प्लानिंग अँथॉरटी

D.कोऑपरेटिव्ह अँफोरेस्टेशन फंड मँनेजमेंट अँण्ड प्लानिंग अँथॉरटी

Answer:

C.कॉम्पेनसेटरी अँफोरेस्टेशन फंड मँनेजमेंट अँण्ड प्लानिंग अँथॉरटी

Reference ID:(19249)

"जीवाची उलाघाल होणे" या वाक्प्रचाराचा खालील पर्यायातून समानार्थी वाक्प्रचार ओळखा.

A.पोटात धस्स होणे

B.जीव वरखाली होणे

C.उरस्फोड करणे

D.जीव मुठीत धरणे

Answer:

B.जीव वरखाली होणे

Reference ID:(29140)

Pick the right meaning of the highlighted word in the sentence:

Because Jaya is not a **congenial** person, people rarely accept her invitations for dinner.

A.A lazy person

B.A pleasant and enjoyable person or environment

C.A dull and boring person or environment

D.A disgusting person or situation

Answer:

B.A pleasant and enjoyable person or environment

Reference ID:(17879)

X हा Y च्या 25% आहे. मग Y हा X च्या _____ % आहे.

A.75

B.25

C.750

D.400

Answer:

D.400

Reference ID:(25796)

खालीलपैकी कोणत्या वर्षी भारत जागतिक पर्यावरण दिवस (WED) चा जागतिक यजमान होता?

A.2018

B.2013

C.2015

D.2016

Answer:

A.2018

Reference ID:(25792)

कॅम्पा (CAMPA) बिल संसदेत केव्हा मंजूर केला?

A.1992-93

B.2015-16

C.1998-99

D.2012-13

Answer:

B.2015-16

Reference ID:(29875)

Pick the right antonym for the word:
illusion

A.Reality

B.Mirage

C.Idea

D.Fable

Answer:

A.Reality

Reference ID:(32689)

1951 मध्ये 'भूदान आंदोलन' _____ यांनी सुरू केले.

A.विनोबा भावे

B.बाबा आमटे

C.मेधा पाटकर

D.विनायक दामोदर सावरकर

Answer:

A.विनोबा भावे

Reference ID:(23659)

खालीलपैकी समानार्थी शब्दाची चुकीची जोडी ओळखा

A.खात्री – विश्वास

B.किमया – जादू

C.कष्ट – श्रम

D.जन – मन

Answer:

D.जन – मन

Reference ID:(28378)

Find the meaning of the word: **Feisty**

A.Spirited

B.Dull

C.Timid

D.Cowardly

Answer:

A.Spirited

Reference ID:(30637)

Convert the following active to passive voice: She has learned her lessons

A.Her lessons has been learned by her

B.Her lessons were learned by her

C.Her lessons have been learned by her

D.She will be learning her lessons

Answer:

C.Her lessons have been learned by her

Reference ID:(20970)

मालिकेतील रिकामी जागा भरा: S, M, T, __, T, F, S, S

A.F

B.Z

C.W

D.T

Answer:

C.W

Reference ID:(27643)

Pick the correct meaning of the highlighted idiom or phrase from the following:
How did this state of things **came about** in our city,
wondered the citizens.

A.To happen or occur

B.To obtain

C.To overtake or to level out

D.To waste something

Answer:

A.To happen or occur

Reference ID:(18714)

आई पुरणपोळी करते. या वाक्याचे पूर्ण वर्तमानकाळात रूपांतर कसे होईल?

A.आई पुरणपोळी करत आहे.

B.आईने पुरणपोळी केली आहे.

C.आईने पुरणपोळी केली.

D.आई पुरणपोळी करत असेल.

Answer:

B.आईने पुरणपोळी केली आहे.

Reference ID:(22594)

जर \$ आहे '+' आणि @ आहे '-', तर खालीलपैकी सर्वात मोठा पर्याय कोणता आहे ?

A.12 \$ 55 @ 62 \$ 45 \$ 65 @ 103 \$ 42 \$ 57

B.18 \$ 17 @ 52 \$ 35 @ 56 \$ 104 @ 44 @ 37

C.19 \$ 15 @ 162 \$ 45 \$ 36 \$ 103 \$ 42 \$ 17

D.38 \$ 107 @ 52 @ 35 @ 56 \$ 104 @ 44 @ 37

Answer:

C.19 \$ 15 @ 162 \$ 45 \$ 36 \$ 103 \$ 42 \$ 17

Reference ID:(30864)

Identify the figure of speech in the following sentence: His jokes were as flat as a soda on the children.

A.Euphemism

B.Metaphor

C.Simile

D.Personification

Answer:

C.Simile

Reference ID:(27362)

Identify the figure of speech in the following sentence: My love for you is as deep as the ocean.

A.Personification

B.Simile

C.Hyperbole

D.Apostrophe

Answer:

B.Simile

Reference ID:(23913)

खालीलपैकी विरुद्धार्थी शब्दाची बरोबर जोडी ओळखा.

A.उदाहरण x दाखला

B.खच x ढीग

C.हिरमोड x अपेक्षाभंग

D.क्षणिक x चिरकाळ

Answer:

D.क्षणिक x चिरकाळ

Reference ID:(25797)

_____ हा जैव विविधतेचे संवर्धन आणि टिकाऊ वापरासाठी राष्ट्रीय धोरणे विकसित करण्याच्या उद्देशाने एक बहुपक्षीय करार आहे आणि शाश्वत विकासासाठी हा एक प्रमुख दस्तऐवज मानला जातो.

A.राष्ट्रीय जैवविविधता धोरणे आणि कार्य योजना

B.जैविक विविधतेवर करार

C.जैवसुरक्षेवरील शिष्टाचार

D.जागतिक वनस्पती संवर्धन धोरण

Answer:

B.जैविक विविधतेवर करार

Reference ID:(34934)

जर सांकेतिक भाषेत 432567 हे 523476 आहे , तर 768345 हे सांकेतिक भाषेत काय असेल?

A.859254

B.869254

C.858254

D.859354

Answer:

A.859254

Reference ID:(19984)

'अपाय' या शब्दाचा समानार्थी शब्द ओळखा.

A.इजा

B.अपहार

C.अपचन

D.अनीती

Answer:

A.इजा

Reference ID:(18233)

नमस्ते | जगत्कारणा आदिशक्ते
नमस्ते | प्रभो, श्रेमदात्रे नमस्ते।
जसे ध्वांत सुर्यागक्ष्मी नाश पावे,
तसे त्वत्कृपे पाप माझे जळावे

ह्या ओळीतील वृत्त ओळखा.

A.भुजंगप्रयात

B.पादाकुलक

C.वसंततिलका

D.नववधू

Answer:

A.भुजंगप्रयात

Reference ID:(31449)

भारतातील कोणत्या राज्यात एलिफेंट फॉल्स (Elephant Falls) स्थित आहे?

A.ओडिशा

B.मणिपूर

C.मेघालय

D.मिझोरम

Answer:

C.मेघालय

Reference ID:(34907)

जर $23 \times 12 = 70$, $2 \times 77 = 158$ आणि $28 \times 5 = 66$, तर $52 \times 5 = ?$

A.107

B.62

C.112

D.114

Answer:

D.114

Reference ID:(23940)

खालीलपैकी विरुद्धार्थी शब्दाची चुकीची जोडी ओळखा.

A.प्रसरण x आकुंचन

B.निर्भय x भित्रा

C.अबोल x वाचाळ

D.निद्रिस्त x सुप्त

Answer:

D.निद्रिस्त x सुप्त

Reference ID:(31450)

भारतीय संविधानाच्या उद्देशिकेमध्ये 'न्याय' शब्दाचा उल्लेख व्यक्त करतो.

A.सामाजिक, राजकीय आणि धार्मिक न्याय

B.सामाजिक, आर्थिक आणि सांस्कृतिक न्याय

C.सामाजिक, आर्थिक आणि राजकीय न्याय

D.आर्थिक आणि राजकीय न्याय

Answer:

C.सामाजिक, आर्थिक आणि राजकीय न्याय

Reference ID:(27616)

Identify the figure of speech in the following sentence: My father is working every minute of the day.

A.Hyperbole

B.Simile

C.Metaphor

D.Apostrophe

Answer:

A.Hyperbole

Reference ID:(28886)

Supply the correct tense of the verb in the sentence: After getting into the bus we ____ that we ____ the wrong one.

A.Discovered..... had boarded

B.Discover..... board

C.Discover..... boarded

D.Discovered..... were boarded

Answer:

A.Discovered..... had boarded

Reference ID:(29394)

Pick the right meaning of the highlighted word in the sentence:
I **rebuked** her for her carelessness

A.Disapproval about something

B.Endorsement about something

C.Seldom do something about anything

D.To be stubborn about something

Answer:

A.Disapproval about something

Reference ID:(27389)	Identify the figure of speech in the following sentence: The moon smiled at the stars in the night.
	A.Apostrophe
	B.Hyperbole
	C.Personification
	D.Oxymoron
Answer:	C.Personification

Reference ID:(16890)	$12/20 + 5.5 - 10/25 = ?$
	A.4.975
	B.5.7
	C.6.175
	D.5.9
Answer:	B.5.7

Reference ID:(20235)	एक माणूस त्याच्या घरापासून दक्षिण दिशेने 7 कि.मी. चालतो. मग तो डावीकडे वळतो आणि 4 कि.मी. चालतो. मग तो उजवीकडे वळतो आणि 1 कि.मी. चालतो. मग तो उजवीकडे वळतो आणि 7 कि.मी. चालतो. मग तो उजवीकडे वळतो आणि 4 कि.मी. चालतो. मग तो उजवीकडे वळतो आणि 3 कि.मी. चालतो. तो त्याच्या घरापासून किती दूर आहे?
	A.4 कि.मी.

B.3. 5 कि.मी.

C.2 कि.मी.

D.2. 5 कि.मी.

Answer: A.4 कि.मी.

Reference ID:(30610) Pick the correct meaning of the highlighted idiom: Kapil loves to **blow his own trumpet** .

A.Praise oneself

B.Be critical of oneself

C.Be a humble person

D.Someone who is a modest person

Answer: A.Praise oneself

Reference ID:(32693) "मोहिनीअट्टम्" नृत्य शैली कोणत्या राज्यात विकसित झाली?

A.कर्नाटक

B.केरळ

C.तमिळनाडु

D.तेलंगाना

Answer: B.केरळ

Reference ID:(27001) खालीलपैकी कोणता देश कार्बन डायऑक्साइडचा सर्वात मोठा उत्सर्जक आहे?

A.भारत

B.चीन

C.अमेरिका

D.रशिया

Answer: B.चीन

Reference ID:(18487) आई जीना चढते. ह्या वाक्याचे शक्य कर्मणी प्रयोगात रूपांतर करण्याचे झाल्यास खालीलपैकी कोणता पर्याय योग्य ठरेल

A.आईच्याने जीना चढवतो.

B.आई जीना चढली.

C.आईने जीना चढला.

D.आईकडून जीना चढला गेला.

Answer: A.आईच्याने जीना चढवतो.

Reference ID:(25793) पुढीलपैकी कोणते भारतातील पर्यावरण संरक्षणाशी संबंधित धोरण नाही?

A.राष्ट्रीय वन धोरण

B.प्रदूषण प्रतिबंधनासाठी धोरण विधान

C.पर्यावरण आणि विकासावरील राष्ट्रीय संवर्धन धोरण आणि धोरण विधान

D.सार्वजनिक आरोग्य, सुरक्षितता, सुविधा धोरण

Answer: D.सार्वजनिक आरोग्य, सुरक्षितता, सुविधा धोरण

Reference ID:(19703) पुढील म्हण पूर्ण करण्यासाठी योग्य पर्याय निवडा. काठी मारल्याने दुभंगत नाही.

A.पाणी

B.भित

C.जमिन

D.स्वर्ग

Answer: A.पाणी

Reference ID:(29648) Pick the Synonym for the word:
vivid

A.Realistic

B.Vague

C.Sketchy

D.Dim

Answer: A.Realistic

Reference ID:(18741) खालील जोड्यांमधील योग्य जोडी ओळखा.

A.मी पुस्तक वाचतो – अपूर्ण भूतकाळ

B.मी पुस्तक वाचत आहे - अपूर्ण वर्तमानकाळ

C.मी पुस्तक वाचले आहे - साधा भूतकाळ

D.मी पुस्तक वाचत असतो - पूर्ण वर्तमानकाळ

Answer: B.मी पुस्तक वाचत आहे - अपूर्ण वर्तमानकाळ

Reference ID:(31446)	बिश्रोई संप्रदायाचे संस्थापक कोण आहेत?
	A.गुरु जम्भेश्वर
	B.सुंदरलाल बहुगुणा
	C.सुघाता कुमारी
	D.अमृता देवी
Answer:	A.गुरु जम्भेश्वर

Reference ID:(16536)	75 च्या 10% - 8/20 + 0.5 = ____
	A.8.1
	B.7.6
	C.7.35
	D.8
Answer:	B.7.6

Reference ID:(19476)	प्रश्नात दिलेल्या वाक्प्रचाराचा योग्य वापर असलेले वाक्य पर्यायांमधून ओळखा. कंबर कसणे
	A.कुणालने पिल्लाची कंबर कसण्यासाठी पिल्लाना भरपूर दुध आणि अंडी खायला दिली.
	B.सोहानने कंबर कसून तयारी केल्यामुळे बॅटमिनटनच्या अंतिम सामन्यात विजयी होऊ शकला.
	C.सतत काम केल्यामुळे विमालामावशीची कंबर कसली होती.
	D.दर पावसाळ्यात रस्त्यांवर पडणाऱ्या खड्ड्यांमुळे मुंबईकरांची कंबर कसली होती.
Answer:	B.सोहानने कंबर कसून तयारी केल्यामुळे बॅटमिनटनच्या अंतिम सामन्यात विजयी होऊ शकला.

Reference ID:(27897)	Find the meaning of the highlighted word in the sentence: They invented a very convincing alibi .
	A.Reasons
	B.Question
	C.Excuse
	D.Blame
Answer:	C.Excuse
Reference ID:(20462)	X चे दक्षिण पश्चिम दिशेला तोंड आहे. तो 45 अंश डावीकडे वळतो. मग तो 90 अंश उजवीकडे वळतो. मग तो 180 अंश वळतो. मग तो 45 अंश उजवीकडे वळतो. शेवटी तो डावीकडे 45 अंश वळतो. आता तो कोणत्या दिशेला तोंड करून उभा आहे?
	A.पश्चिम
	B.दक्षिण
	C.पूर्व
	D.उत्तर
Answer:	C.पूर्व
Reference ID:(18995)	खालील शब्दाचा समास / समास प्रकार ओळखा. सरूप
	A.द्वंद्व
	B.सहबहुव्रीहि
	C.अव्ययीभाव
	D.तत्पुरुष
Answer:	B.सहबहुव्रीहि

Reference ID:(30891)	Identify the figure of speech in the following sentence: She is my least favorite aunt.
	A.Hyperbole
	B.Euphemism
	C.Oxymoron
	D.Personification
Answer:	C.Oxymoron
Reference ID:(20208)	X चे दक्षिण दिशेला तोंड आहे. तो 90 अंश उजवीकडे वळतो. मग तो 45 अंश डावीकडे वळतो. मग तो 180 अंश वळतो. शेवटी तो डावीकडे 45 अंश वळतो. आता तो कोणत्या दिशेला तोंड करून उभा आहे?
	A.पूर्व
	B.पश्चिम
	C.उत्तर
	D.दक्षिण
Answer:	C.उत्तर
Reference ID:(29367)	Pick the right meaning of the highlighted word in the sentence: He had always thought the plant was very pliable .
	A.Something which is very brittle
	B.Something inelastic
	C.Something easily breakable
	D.Something which is easily flexible

Answer:

D.Something which is easily flexible

Reference ID:(32692)

‘अकबरनामा’ [अकबरचे पुस्तक] हे चरित्र कोणी लिहिले?

A.शेख मुबारक

B.अहमद लाहौरी

C.उस्ताद ईसा

D.अबुल फजल

Answer:

D.अबुल फजल

Reference ID:(25410)

‘उच्चांक’ या शब्दाचा खालीलपैकी योग्य संधी विग्रह ओळखा.

A.उच्च + अक

B.उच्चां + क

C.उच्च + आंक

D.उच्च + अंक

Answer:

D.उच्च + अंक

Reference ID:(28351)

Find the meaning of the highlighted word in the sentence: They were gossiping and not always **discreetly**

A.Cautiously

B.Tactlessly

C.Foolishly

D.Carelessly

Answer:

A.Cautiously

Reference ID:(32694)

मध्य प्रदेशातील बालाघाट खाणी _____ साठी प्रसिद्ध आहेत.

A.कांस्य

B.अॅल्युमिनियम

C.तांबे

D.लोह

Answer:

C.तांबे

Reference ID:(29621)

Pick the Synonym for the word:
thwart

A.Prevent from doing

B.Hate

C.Throw down

D.Help

Answer:

A.Prevent from doing

Reference ID:(23432)

'पर्वत' या शब्दाचा समानार्थी शब्द ओळखा.

A.हिमालय

B.शैल

C.सलिल

D.कळस

Answer: B.शैल

Reference ID:(24675) प्रश्नातील वाक्यात रिकामी जागा भरण्यास सर्वात योग्य शब्द निवडा.
कायद्याची प्रभावीपणेव्हावी यासाठी केंद्र शासन विशेष प्रयत्न करित आहे.

A.गुळवणी

B.अंमलबजावणी

C.कढतवणी

D.सरबराई

Answer: B.अंमलबजावणी

Reference ID:(22568) खालीलपैकी सर्वात लहान पर्याय कोणता आहे ?

A.152 - 65 - 32 + 74 + 105 - 93 + 42 + 37

B.48 + 17 + 52 + 35 - 156 - 104 + 34 + 74

C.19 - 15 - 42 + 45 + 36 - 103 + 42 + 507

D.144 - 67 - 52 + 35 - 56 + 104 - 44 - 13

Answer: B.48 + 17 + 52 + 35 - 156 - 104 + 34 + 74

Reference ID:(30102)

Pick the right antonym for the word:
Timid

A.Courageous

B.Fearsome

C.Jumpy

D.Detest

Answer:

A.Courageous

Reference ID:(24167)

खालीलपैकी व्याकरणाच्या दृष्टीने शुद्ध शब्द-लेखन असलेला शब्द ओळखा.

A.निर्भर्त्सना

B.नीर्भत्सना

C.निर्भर्त्सणा

D.निर्भर्त्सना

Answer:

A.निर्भर्त्सना

Reference ID:(24902)

पुढील शब्दसमूहासाठी योग्य शब्द निवडा.
पूर्वी कधी पाहिले नाही असे

A.अनभिज्ञ

B.अप्रूप

C.अपूर्व

D.अभिजात

Answer:

C.अपूर्व

Reference ID:(31447)

कांगरा दरी भारतातील कोणत्या राज्यात आहे?

A.पंजाब

B.हिमाचल प्रदेश

C.जम्मू-काश्मीर

D.उत्तराखंड

Answer:

B.हिमाचल प्रदेश

Reference ID:(31651)

कोणत्या समितीने केंद्रीय दक्षता आयोगाची स्थापना करण्याची शिफारस केली?

A.सरकारिया समिती

B.संथनम समिती

C.बलवंत राय मेहता समिती

D.नरसिंहम समिती

Answer:

B.संथनम समिती

Reference ID:(31652)

खालीलपैकी कोणते शहर एका राज्याची राजधानी आहे?

A.कोची

B.अमृतसर

C.वाराणसी

D.देहरादून

Answer:

D.देहरादून

Reference ID:(27870)	Pick the correct meaning of the highlighted idiom or phrase from the following: Don't lose patience, things will improve by and by
	A.Gradually
	B.By any means, good or bad
	C.At a rapid pace
	D.At intervals
Answer:	A.Gradually

Reference ID:(25156)	समूहदर्शक शब्द ओळखा. जसा फुलांचा गुच्छा तसा फुलझाडाचा
	A.ताटवा
	B.टोळी
	C.घोस
	D.जुडी
Answer:	A.ताटवा

Reference ID:(19957)	पुढील विधानाला जी म्हण योग्य असेल असा पर्याय ओळखा: सदाशिवरावांच्या कंपनीतून काही कामगारांना नोकरीवरून काढून टाकले होते. सदाशिवरावांना ठेवून घेतले होते पण त्यांच्या पगारात कपात केली होती. त्यांनी विचार केला 'हे ठीक आहे, ...'
	A.दगडापेक्षा वीट मऊ
	B.दाम करी काम
	C.अडली गाय फटके खाय
	D.दिवस बुडाला मजूर उडाला

Answer:	A.दगडापेक्षा वीट मऊ
Reference ID:(32688)	ऊस पैदास संस्था (ICAR - Sugarcane Breeding Institute) _____ मध्ये स्थित केंद्रीय संशोधन संस्था आहे.
	A.बिहार
	B.तमिळनाडु
	C.मध्य प्रदेश
	D.उत्तर प्रदेश
Answer:	B.तमिळनाडु
Reference ID:(28605)	Find the word opposite in meaning to the word: Graphic
	A.Stirring
	B.Striking
	C.Obscure
	D.Telling
Answer:	C.Obscure
Reference ID:(31448)	भारतातील पहिले बायोस्फीअर रिझर्व _____ येथे स्थापित केले आहे.
	A.नंदा देवी
	B.हजारीबाग

C.नीलगिरी

D.चामुंडा देवी

Answer:

C.नीलगिरी

Reference ID:(25795)

पुढीलपैकी कोणते राष्ट्रीय उद्यान युनेस्को जागतिक वारसा स्थळ आहे?

A.जिम कॉर्बेट राष्ट्रीय उद्यान

B.मन्नार समुदी राष्ट्रीय उद्यानाचे आखात

C.गिर वन्य राष्ट्रीय उद्यान

D.सुंदरबन राष्ट्रीय उद्यान

Answer:

D.सुंदरबन राष्ट्रीय उद्यान

Reference ID:(31118)



महाराष्ट्रातील नकाशात बाणने दर्शविलेला जिल्हा खालीलपैकी कोणता आहे?

A.बुलढाणा

B.चंद्रपूर

C.गोंदिया

D.गडचिरोली

Answer:

C.गोंदिया

Reference ID:(23686)

'प्राचीन' या शब्दाचा विरुद्धार्थी शब्द ओळखा.

A.पूर्वाचल

B.अर्वाचीन

C.अश्मयुग

D.पाषाणयुग

Answer:

B.अर्वाचीन

Reference ID:(30129)

Find the word opposite in meaning to the word: **Inhibit**

A.Unplug

B.Open

C.Restrict

D.Clear

Answer:

A.Unplug

B.Open

D.Clear

Question Paper Title : FG_12

Date of Exam : 15-06-2019 02:30 PM

Reference ID:(17603) $8.25 + 5.5 + 12.15 + 6.25 - (3.25 - 6.55 + 4.75) = \underline{\hspace{2cm}}$

A.30.70

B.30.15

C.30.05

D.30.95

Answer: A.30.70

Reference ID:(21202) मालिकेतील रिकामी जागा भरा: 2, 5, 18, , 74

A.42

B.41

C.44

D.43

Answer: B.41

Reference ID:(32938) राजस्थान उच्च न्यायालय _____ मध्ये स्थित आहे.

A.उदयपुर

B.जयपूर

C.बीकानेर

D.जोधपूर

Answer: D.जोधपूर

Reference ID:(30361) Find the word opposite in meaning to the word:**Oblivion**

A.Forgetfulness

B.Consciousness

C.Nirvana

D.Unaware

Answer: B.Consciousness

Reference ID:(18973) खालील शब्दाचा समास / समास प्रकार ओळखा.
कृष्णार्जुन

A.बहुव्रीहि

B.इतरेतर द्वंद्व

C.अव्ययीभाव

D.कर्मधारय

Answer: B.इतरेतर द्वंद्व

Reference ID:(26043) जैवसुरक्षेची संबंधित असणारा खालीलपैकी कोणता करार आहे?

A.नागोया करार

B.स्टॉकहोम करार

C.रोटरडॅम करार

D.काटजिना करार

Answer: D.काटजिना करार

Reference ID:(28610) Pick the right idiom which fits into the sentence: Jose decided to _____ all troubles

A.Steer clear off

B.Dance to the tune off

C.Let sleeping dogs like

D.Be at his wits end

Answer: A.Steer clear off

Reference ID:(24934) पुढील शब्दसमूहासाठी योग्य शब्द निवडा.
ज्याला खूप माहिती आहे असा

A.बहुरूपी

B.बुद्धिजीवी

C.व्यवहारज्ञानी

D.बहुश्रुत

Answer: D.बहुश्रुत

Reference ID:(19000) खालील शब्दाचा समास / समास प्रकार ओळखा.
घरभेदी

A.अव्ययीभाव

B.द्वंद्व

C.षष्ठी तत्पुरुष

D.बहुव्रीहि

Answer:

C.षष्ठी तत्पुरुष

Reference ID:(31691)

उत्तर प्रदेशचे राज्य वृक्ष कोणते आहे?

A.अशोक

B.कडुनिंब

C.पिंपळ

D.साग

Answer:

A.अशोक

Reference ID:(30615)

Pick the correct meaning of the highlighted idiom: Gautam Buddha was **born with a silver spoon in his mouth** .

A. Someone who shows compassion towards others

B. To be born knowledgeable

C. To be born rich

D. Someone who is spoon fed all the time

Answer:

C. To be born rich

Reference ID:(28891)

Supply the correct tense of the verb in the sentence:

At one time, he _____ beautiful kites. His kites _____ like butterflies in the air.

A. Had made..... had danced

B.Was making..... dancing

C.Has made..... had danced

D.Has made..... are dancing

Answer: A.Had made..... had danced

Reference ID:(20213) X चे दक्षिण दिशेला तोंड आहे. तो 90 अंश उजवीकडे वळतो. मग तो 45 अंश उजवीकडे वळतो. मग तो 180 अंश वळतो. मग तो 45 अंश उजवीकडे वळतो. शेवटी तो डावीकडे 90 अंश वळतो. आता तो कोणत्या दिशेला तोंड करून उभा आहे?

A.पूर्व

B.पश्चिम

C.उत्तर

D.दक्षिण

Answer: A.पूर्व

Reference ID:(29626) Pick the Synonym for the word:
indigenous

A.Native

B.Imported

C.Immigrant

D.Alien

Answer: A.Native

Reference ID:(16895) $8/20 + 0.5 - 5/25 = ?$

A.2.9

B.0.875

C.0.7

D.1.55

Answer: C.0.7

Reference ID:(24680) प्रश्नातील वाक्यात रिकामी जागा भरण्यास सर्वात योग्य शब्द निवडा.
पत्रकार परिषदेत संयोजकांनी कार्यक्रमाचीसांगितली.

A.भूमधरेषा

B.रूपरेषा

C.बुभुक्षा

D.रूपस

Answer: B.रूपरेषा

Reference ID:(24426) खालीलपैकी व्याकरणाच्या दृष्टीने शुध्द वाक्याचा पर्याय निवडा.

A.हा दिवस वैशीष्ट्यपूर्ण आहे.

B.आज काही तरी विशेष आहे.

C.आजचा दिवस विशेष आहे.

D.हेच तर आजचे वैशिष्ट्य आहे.

Answer: C.आजचा दिवस विशेष आहे.

Reference ID:(26047) भारताच्या संविधानाचे कोणते कलम "राज्याने पर्यावरण संरक्षण आणि सुधारण्यासाठी आणि देशाच्या वन्यजीव व वन्यजीवांचे रक्षण करण्यासाठी प्रयत्न करायला हवे" असे म्हणते.

A.कलम 12

B.कलम 24

C.कलम 36

D.कलम 48

Answer: D.कलम 48

Reference ID:(32941) 'कुल्लू शॉल्स' भारतातील कोणत्या राज्यातील प्रसिद्ध आहे?

A.हिमाचल प्रदेश

B.उत्तराखंड

C.जम्मू-काश्मीर

D.मध्य प्रदेश

Answer: A.हिमाचल प्रदेश

Reference ID:(27040) Find the meaning of the highlighted word in the sentence: It may have been a simple **ridicule**, but it still made him feel rejected.

A.Poverty

B.Statement

C.Job

D.Mockery

Answer: D.Mockery

Reference ID:(22245) खालीलपैकी सर्वात मोठा पर्याय कोणता आहे ?

A.125 + 62 + 35 - 74 - 102 + 93 - 45 - 37

B.48 - 17 - 25 - 32 + 126 + 104 - 34 - 74

C.19 + 12 + 45 - 42 - 36 + 103 - 45 - 207

D.144 + 67 + 25 - 32 + 26 - 104 + 44 + 13

Answer:

D.144 + 67 + 25 - 32 + 26 - 104 + 44 + 13

Reference ID:(21456)

जर KUMQUAT हा शब्द LVNRVBU असेल, तर NECTARINE हा शब्द _____ असेल.

A.OFDUBSJOF

B.OFBEDFJOE

C.OEBUDSIOF

D.OEBUDSIOE

Answer:

A.OFDUBSJOF

Reference ID:(31694)

भारतीय संविधानाने कोणत्या देशाकडून मुलभूत अधिकार घेतले आहेत.

A.युनायटेड स्टेट्स ऑफ अमेरिका

B.कॅनडा

C.युनायटेड किंगडम

D.ऑस्ट्रेलिया

Answer:

A.युनायटेड स्टेट्स ऑफ अमेरिका

Reference ID:(19454)

खालीलपैकी वाक्प्रचार आणि त्याचा अर्थाची योग्य जोडी ओळखा.

A.जीव भांड्यात पडणे – खूप चैन करणे.

B.जीव खालीवर होणे – भीतीने अस्वस्थ होणे.

C.खेटे घालणे – कष्टाची कामे करणे.

D.गर्भगळीत होणे – मृत्यू पावणे.

Answer: B.जीव खालीवर होणे – भीतीने अस्वस्थ होणे.

Reference ID:(20721) जर WO = 76, W H A T = 104, S H E = 64, तर W A S H = ___?

A.99

B.100

C.101

D.102

Answer: D.102

Reference ID:(24653) प्रश्नातील वाक्यात रिकामी जागा भरण्यास सर्वात योग्य शब्द निवडा.
दहशतवाद हे दुर्दैवाने आजच्या जगाचे आहे.

A.पांडव

B.पुनव

C.प्रणव

D.वास्तव

Answer: D.वास्तव

Reference ID:(29399) Pick the right meaning of the highlighted word in the sentence:
The teachers had to **segregate** him from the rest of the students

A.To physically separate someone from others

B.To unite someone

C.To link someone to something

D.To be distant with someone or something

Answer: A.To physically separate someone from others

Reference ID:(17376) $9.65 + 5.95 + 3.65 - (9.55 - 3.95 - 3.75) = \underline{\hspace{2cm}}$

A.17.15

B.17.75

C.17.40

D.17.25

Answer: C.17.40

Reference ID:(23918) खालीलपैकी विरुद्धार्थी शब्दाची बरोबर जोडी ओळखा.

A.अब्रू x बेअब्रू

B.अश्व x घोडा

C.अही x साप

D.आई x माता

Answer: A.अब्रू x बेअब्रू

Reference ID:(29118)

Fill in the blanks with the correct form of future continuous or future perfect tense: We hope that all fighting ____ by end of the year.

A.Will have stopped

B.Stopped

C.Is stopping

D.Had stopped

Answer:

A.Will have stopped

Reference ID:(31697)

कुंभमेळा भारतातील ठराविक चार ठिकाणी आयोजित केला जातो. खालीलपैकी असे कोणते स्थान आहे कि जेथे कुंभमेळा आयोजित होत नाही ?

A.अलाहाबाद

B.हरिद्वार

C.नाशिक

D.बनारस

Answer:

D.बनारस

Reference ID:(28383)

Find the meaning of the word:: **Feign**

A.Simple

B.Honest

C.Unconscious

D.Pretend

Answer:

D.Pretend

Reference ID:(24199)	खालीलपैकी व्याकरणाच्या दृष्टीने अशुद्ध शब्द-लेखन असलेला शब्द ओळखा.
	A.अलिकडे
	B.पत्रदर्शनी
	C.अष्टपैलू
	D.परिग्रह
Answer:	A.अलिकडे
Reference ID:(22827)	जर \$ आहे '+' आणि @ आहे '-', तर खालीलपैकी सर्वात लहान पर्याय कोणता आहे ?
	A.55 @ 11 \$ 75 @ 42 \$ 62 \$ 13 @ 45 @ 27
	B.118 @ 17 \$ 25 @ 32 \$ 126 @ 104 \$ 44 \$ 37
	C.79 @ 42 @ 165 @ 42 @ 36 \$ 103 @ 45 @ 17
	D.38 \$ 107 \$ 25 \$ 32 \$ 26 @ 104 @ 144 \$ 7
Answer:	C.79 @ 42 @ 165 @ 42 @ 36 \$ 103 @ 45 @ 17
Reference ID:(20467)	X चे पश्चिम दिशेला तोंड आहे. तो 45 अंश डावीकडे वळतो. मग तो 45 अंश उजवीकडे वळतो. मग तो 180 अंश वळतो. मग तो 90 अंश उजवीकडे वळतो. शेवटी तो डावीकडे 90 अंश वळतो. आता तो कोणत्या दिशेला तोंड करून उभा आहे?
	A.पश्चिम
	B.दक्षिण
	C.पूर्व
	D.उत्तर
Answer:	C.पूर्व

Reference ID:(16514)	सहा जण A , B , C , D , E आणि F हे दोन रांगामध्ये एकमेकांकडे तोंड करून बसले आहेत. दोन्ही रांगामध्ये प्रत्येकी तीन जण आहेत. E हा कोणत्याही रांगेच्या शेवटी बसलेला नाही. D हा F च्या डावीकडे दुसऱ्या क्रमांकावर आहे. E चा शेजारी बसलेला A हा D च्या कर्णाभिमुख आहे. C हा F च्या शेजारी आहे. खालीलपैकी कोण एकाच रांगेत आहेत?
	A.A आणि B
	B.F आणि B
	C.E आणि D
	D.A आणि C
Answer:	A.A आणि B

Reference ID:(16541)	जर @ आहे 'भागाकार' आणि \$ आहे 'गुणाकार', तर खालीलपैकी सर्वात मोठा पर्याय कोणता आहे?
	A.49@5
	B.3.5\$4.5
	C.33@4
	D.3.75\$4.5
Answer:	D.3.75\$4.5

Reference ID:(32940)	आरबीआय (RBI) _____ साठी अंतिम कर्जदाता आहे.
	A.केंद्र सरकार
	B.कॉर्पोरेट बॉडी
	C.शेअर बाजार
	D.व्यावसायिक बँका

Answer: D.व्यावसायिक बँका

Reference ID:(30642) Convert the following active to passive voice: Picasso was painting Guernica at that time

A.Guernica was to be painted by Picasso at that time

B.Picasso had been painting Guernica at that time

C.Guernica was being painted at that time by Picasso.

D.Guernica was to have been painted by Picasso at that time

Answer: C.Guernica was being painted at that time by Picasso.

Reference ID:(23437) 'शत्रू' या शब्दाचा समानार्थी शब्द ओळखा.

A.अद्री

B.रिपू

C.रुद्र

D.नृप

Answer: B.रिपू

Reference ID:(26046) पुढीलपैकी कोणत्या पर्यावरणवादीला पद्मविभूषणाने सन्मानित करण्यात आले आहे?

A.सुंदरलाल बहुगुणा

B.अरुंधती रॉय

C.मेधा पाटकर

D.चंडी प्रसाद भट्ट

Answer: A.सुंदरलाल बहुगुणा

Reference ID:(18719) खालील वाक्याचा काळ ओळखा.
मी रस्त्याने चालत आहे

A.साधा वर्तमानकाळ

B.रिती वर्तमानकाळ

C.चालू वर्तमानकाळ

D.पूर्ण वर्तमानकाळ

Answer: C.चालू वर्तमानकाळ

Reference ID:(19962) पुढील विधानाला जी म्हण योग्य असेल असा पर्याय ओळखा:
विश्वासचे घड्याळ साधेच होते पण १२ वर्षे टिकले होते. त्याच्या मित्राने एक आठवड्यापूर्वी आणलेले
भपकेबाज घड्याळ आज बंद पडले. म्हणतात ना ...

A.चकाकते ते सारे सोनेच नसते

B.घटका पाणी पिते, घड्याळ टोले खाते

C.दाखविलं सोनं, हसे मूल तान्हं!

D.दैव देते नि कर्म नेते

Answer: A.चकाकते ते सारे सोनेच नसते

Reference ID:(27648) Pick the correct meaning of the highlighted idiom or phrase from the following:
When the court sent him a notice, he realized that
the ball is in his court

A.It is up to you to make the next decision

B.To postpone something till later

C.To avoid a situation altogether

D.To make the most of a situation

Answer: A.It is up to you to make the next decision

Reference ID:(16868) जर @ आहे 'भागाकार' आणि \$ आहे 'गुणाकार', तर खालील पर्यायांपैकी दुसऱ्या क्रमांकाचा सर्वात लहान कोण आहे?

A.39@5

B.4.25\$1.5

C.31@4

D.2.75\$1.5

Answer: B.4.25\$1.5

Reference ID:(19708) पुढील म्हण पूर्ण करण्यासाठी योग्य पर्याय निवडा. कुऱ्हाडीचा दांडा

A.पायावर घाला

B.मशालीला वापरा

C.गोतास काळ

D.भांडण तंटा

Answer: C.गोतास काळ

Reference ID:(21229) जर LETTUCE हा शब्द TELTUEC असेल आणि COMPUTE हा शब्द MOCPUET असेल, तर CABBAGE हा शब्द _____ असेल.

A.BACBAGE

B.BACBAEG

C.BACABEG

D.BACABGE

Answer: B.BACBAEG

Reference ID:(34912) ज़र $6 \times 12 = 5184$, $3 \times 3 = 81$, आणल $8 \times 9 = 5184$, तर $4 \times 3 = ?$

A.1140

B.122

C.144

D.354

Answer: C.144

Reference ID:(29372) Pick the right meaning of the highlighted word in the sentence:
She didn't have the courage to admit to her **deception**.

A.Hard work

B.Being honest about something

C.Resorting to fraud or trickery

D.Weaknesses

Answer: C.Resorting to fraud or trickery

Reference ID:(29145)

Pick the right meaning of the highlighted word in the sentence:
The students used a **covert** plan to hack into the school computer to change their grades

A. Something exposed for everyone to know

B. Something visible to everyone

C. Something hidden or secret

D. An obvious fact

Answer:

C. Something hidden or secret

Reference ID:(17857)

39 च्या $\frac{1}{6}$ + 50 च्या 60% + $0.25 \times 150 = \underline{\hspace{2cm}}$

A. 75.5

B. 76

C. 73.25

D. 74

Answer:

D. 74

Reference ID:(25415)

"राजैश्वर्य" या शब्दाचा खालीलपैकी योग्य संधी विग्रह ओळखा.

A. राजा + अश्वर्य

B. राजा + ऐश्वर्य

C. राजा + श्वर्य

D. राजै + ऐश्वर्य

Answer: B.राजा + ऐश्वर्य

Reference ID:(32945) स्वातंत्र्यानंतर भारताचे पहिले मुख्य न्यायाधीशचे नाव काय आहे?

A.एम. पतंजली शास्त्री

B.मेहरचंद महाजन

C.हरिलाल जे. कानिया

D.सुधी रंजन दास

Answer: C.हरिलाल जे. कानिया

Reference ID:(26048) आंतरराष्ट्रीय जैवविविधता दिवस कोणत्या दिवशी साजरा केला जातो?

A.21-जून

B.22-मे

C.24-ऑगस्ट

D.25-जानेवारी

Answer: B.22-मे

Reference ID:(19481) प्रश्नात दिलेल्या वाक्प्रचाराचा योग्य वापर असलेले वाक्य पर्यायांमधून ओळखा. अंतःकरणाचा ठाव घेणे

A.डोळ्यांसमोर जळणाऱ्या वाड्याने माधवरांवाच्या अंतःकरणाचा ठाव घेतला.

B.चोराने पोलिसांच्या अंतःकरणाचा ठाव घेतला.

C.मधुने बनवलेल्या जेवणाने पाहुण्यांच्या अंतःकरणाचा ठाव घेतला.

D.लपाछपीच्या खेळात निशाने लपलेल्या मुलांच्या अंतःकरणाचा ठाव घेतला.

Answer: A.डोळ्यांसमोर जळणाऱ्या वाड्याने माधवरांवाच्या अंतःकरणाचा ठाव घेतला.

Reference ID:(26050) पुढीलपैकी कोणते युनेस्को जागतिक वारसा स्थळ नाही?

- A.सुंदरबन राष्ट्रीय उद्यान
- B.काझीरंगा, आसाम
- C.व्हॅली ऑफ फ्लॉवर्स राष्ट्रीय उद्यान
- D.कच्छचे रण, गुजरात

Answer: D.कच्छचे रण, गुजरात

Reference ID:(17149) $3.35 + 2.55 + 4.65 - (3.5 + 10 - 2.5 + 4) = \underline{\hspace{1cm}}$

- A.-4.1
- B.-4.45
- C.-4.6
- D.-4.7

Answer: B.-4.45

Reference ID:(24907) पुढील शब्दसमूहासाठी योग्य शब्द निवडा.
देशासाठी वा समाजासाठी ज्याने प्राण वेचले तो

- A.हुतात्मा
- B.योद्धा

C.क्रांतिकारी

D.लोहपुरुष

Answer:

A.हुतात्मा

Reference ID:(31690)

_____ पेशवे हे पेशवे राजवंशांचे संस्थापक होते.

A.बाळाजी विश्वनाथ

B.बाजीराव

C.बाळाजी बाजीराव

D.संभाजी

Answer:

A.बाळाजी विश्वनाथ

Reference ID:(22599)

जर \$ आहे '+' आणि @ आहे '-', तर खालीलपैकी सर्वात मोठा पर्याय कोणता आहे ?

A.25 \$ 22 \$ 35 @ 72 @ 102 \$ 83 @ 45 @ 27

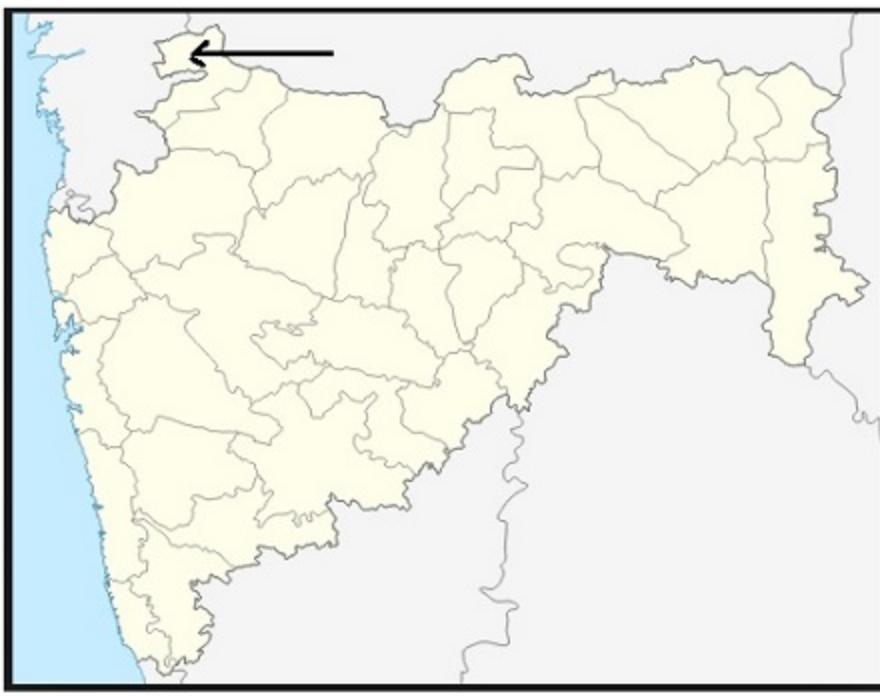
B.48 \$ 17 \$ 25 @ 32 \$ 126 @ 104 @ 44 @ 71

C.19 @ 12 \$ 15 @ 42 @ 36 \$ 103 @ 45 @ 107

D.44 @ 67 \$ 25 \$ 32 \$ 26 @ 104 \$ 44 \$ 13

Answer:

D.44 @ 67 \$ 25 \$ 32 \$ 26 @ 104 \$ 44 \$ 13



महाराष्ट्रातील नकाशात बाणने दर्शविलेला जिल्हा खालीलपैकी कोणता आहे?

A. नाशिक

B. नंदुरबार

C. धुळे

D. बुलढाणा

Answer:

B. नंदुरबार

Identify the figure of speech in the following sentence: The new teacher in the school is pretty ugly.

A. Personification

B. Hyperbole

C. Oxymoron

D. Euphemism

Answer:	C.Oxymoron
Reference ID:(30107)	Find the meaning of the word:: Harsh
	A.Cheerful
	B.Bland
	C.Calm
	D.Severe
Answer:	D.Severe
Reference ID:(25161)	खालील वाक्यातील रिकाम्या जागी येणाऱ्या योग्य समूहदर्शक शब्दाचा पर्याय क्रमांक निवडा. त्यांनी फुलांचा देऊन पाहुण्यांचे स्वागत केले.
	A.गुच्छ
	B.थवा
	C.घोस
	D.झुपका
Answer:	A.गुच्छ
Reference ID:(26044)	प्रसिद्ध पर्यावरणवादी सलीम अली यांचे आत्मचरित्र असलेले खालीलपैकी कोणते पुस्तक आहे?
	A.द बुक ऑफ इंडियन बर्ड्स
	B.द फॉल ऑफ अ स्पॅरो
	C.द बर्ड्स ऑफ केरला
	D.इंडियन हिल बर्ड्स

Answer: B.द फॉल ऑफ अ स्पॅरो

Reference ID:(31695) भारतीय संविधानाचे दहावे परिशिष्ट _____ शी संबंधित आहे.

A.पक्षांतर बंदी कायदा

B.पंचायती राज

C.जमीन सुधारणा

D.संघ आणि राज्यांमधील अधिकारांचे वितरण

Answer: A.पक्षांतर बंदी कायदा

Reference ID:(20975) मालिकेतील रिकामी जागा भरा: P R __ WYBD

A.Q

B.A

C.T

D.S

Answer: C.T

Reference ID:(17884) X हा Y हून 25% नी मोठा आहे. मग Y हा X हून _____ % लहान आहे.

A.75

B.25

C.400

D.20

Answer: D.20

Reference ID:(24172) खालीलपैकी व्याकरणाच्या दृष्टीने शुद्ध शब्द-लेखन असलेला शब्द ओळखा.

A.दडनिधार

B.दढनिर्धार

C.दढनीर्धार

D.दुढनिर्धार

Answer: B.दढनिर्धार

Reference ID:(28102) Find the meaning of the highlighted word in the sentence: Something seems to be **amiss**, can I help?

A.Wrong

B.Ethical

C.Functioning

D.Suitable

Answer: A.Wrong

Reference ID:(18746) दिलेल्या वाक्यांपैकी चालू भूतकाळात नसलेले वाक्य निवडा.

A.तो पेरू खात होता.

B.शौनक गाणे गात होता.

C.सीताने वर्तमानपत्र वाचले.

D.सायली सायकल चालवित होती.

Answer: C.सीताने वर्तमानपत्र वाचले.

Reference ID:(32944) अंदमान आणि निकोबार बेटे खालीलपैकी कोणाच्या अधिकार क्षेत्रात येतात?

A.कोलकाता उच्च न्यायालय

B.चेन्नई उच्च न्यायालय

C.अहमदाबाद उच्च न्यायालय

D.मुंबई उच्च न्यायालय

Answer: A.कोलकाता उच्च न्यायालय

Reference ID:(32947) भारतात लिंगराज मंदिर कोठे आहे?

A.उज्जैन

B.भुवनेश्वर

C.तिरुवनंतपुरम

D.चेन्नई

Answer: B.भुवनेश्वर

Reference ID:(19735) "दुधात साखर पडणे" या म्हणीचा अर्थ खालीलपैकी कोणता ते ओळखा?

A.आनंदात आणखीन भर पडणे

B.चिड व्यक्त करणे

C.खूप दुःख होणे

D.गोड गोड बोलणे

Answer:	A.आनंदात आणखीन भर पडणे
Reference ID:(29880)	Pick the right antonym for the word: annihilation
	A.Survival
	B.Extinction
	C.Loss
	D.Havoc
Answer:	A.Survival
Reference ID:(22573)	खालीलपैकी सर्वात लहान पर्याय कोणता आहे ?
	A.12 - 55 + 62 - 45 - 65 + 103 - 42 - 57
	B.18 - 17 + 52 - 35 + 56 - 104 + 44 + 37
	C.19 - 15 + 162 - 45 - 36 - 103 - 42 - 17
	D.38 - 107 + 52 + 35 + 56 - 104 + 44 + 37
Answer:	A.12 - 55 + 62 - 45 - 65 + 103 - 42 - 57
Reference ID:(29853)	Pick the Synonym for the word: Extrude
	A.Eject
	B.Accept
	C.Admit
	D.detain

Answer:	A.Eject
Reference ID:(35166)	खाली दिलेल्या पत्त्यापैकी 3 पत्ते समान आहेत आणि 1 भिन्न आहे. कोणता पत्ता भिन्न ते ओळखा?
	A.Near Indrapaul building Gaurav path Bhanpuri chowk Chhatisgrah PH 0509803403
	B.Near Indrapaul building Gaurav path Bhanpuri chowk Chhatisgrah PH 0509803403
	C.Near Indrapaul buliding Gaurav path Bhanpuri chowk Chhatisgrah PH 0509803403
	D.Near Indrapaul building Gaurav path Bhanpuri chowk Chhatisgrah PH 0509803403
Answer:	C.Near Indrapaul buliding Gaurav path Bhanpuri chowk Chhatisgrah PH 0509803403
Reference ID:(26049)	___ हे 1986 मध्ये पर्यावरण संरक्षण आणि सुधारणा करण्याच्या उद्देशाने भारत सरकारद्वारे अधिनियमित करण्यात आले.
	A.पर्यावरण (संरक्षण) अधिनियम
	B.भारतीय वन अधिनियम
	C.वन (संवर्धन) अधिनियम
	D.वन्यजीव संरक्षण अधिनियम
Answer:	A.पर्यावरण (संरक्षण) अधिनियम

Reference ID:(30134)	Find the word opposite in meaning to the word: Jovial
	A.Festive
	B.Laughing
	C.Sad
	D.Happy
Answer:	C.Sad
Reference ID:(25188)	"दिगंतर" या शब्दाचा खालीलपैकी योग्य संधी विग्रह ओळखा.
	A.दिक् + अंतर
	B.दिक् + गंतर
	C.दि + अंतर
	D.दिग + अंतर
Answer:	A.दिक् + अंतर
Reference ID:(31693)	जगातील सर्वात मोठ्या लांबीची वाळूच्या खडकाची गुहा "क्रेम पुरी" ही नुकतीच कोणत्या राज्यात आढळली आहे?
	A.ओडिशा
	B.अरुणाचल प्रदेश
	C.मध्य प्रदेश

D.मेघालय

Answer: D.मेघालय

Reference ID:(31692) भारतात पहिले कीटक संग्रहालय _____ येथे उघडण्यात आले.

A.केरळ

B.तमिळनाडु

C.झारखंड

D.पश्चिम बंगाल

Answer: B.तमिळनाडु

Reference ID:(23664) खालीलपैकी समानार्थी शब्दाची बरोबर जोडी ओळखा

A.दाट – विरळ

B.धीट – लाजरा

C.अंधार – तिमिर

D.पुढारी – अनुयायी

Answer: C.अंधार – तिमिर

Reference ID:(32946) सिंधु खोरे संस्कृतीचा भाग असलेला कालीबंगा भारतातील कोणत्या राज्यात आहे?

A.पश्चिम बंगाल

B.राजस्थान

C.गुजरात

D.उत्तर प्रदेश

Answer:	B.राजस्थान
Reference ID:(28637)	Pick the right idiom which fits into the sentence: Sarita and Aruna fought publicly and as a result _____
	A.Minded their P's and Q's
	B.Turned tables on others
	C.Washed all their dirty linen in public
	D.Kept the wolves at the door
Answer:	C.Washed all their dirty linen in public
Reference ID:(23945)	खालीलपैकी विरुध्दार्थी शब्दाची चुकीची जोडी ओळखा.
	A.स्वस्त x महाग
	B.सोय x गैरसोय
	C.क्षय x नाश
	D.सुर x असुर
Answer:	C.क्षय x नाश
Reference ID:(18211)	अत्रीच्या आश्रमी नेलें मज वाटें माहेरची वाटें खरेखुरें वरील ओळीतील अलंकार ओळखा.
	A.अर्थान्तरन्यास
	B.उत्प्रेक्षा
	C.भ्रांतिमान
	D.व्यतिरेक

Answer:	B.उत्प्रेक्षा
Reference ID:(21483)	जर A = 1, B = 2,M = 13; आणि N = 13, O = 12, Z = 1, तर खालील पैकी कोणते पर्याय बरोबर आहे?
	A.{J + O + Y} > {S + U + N}
	B.{J + O + Y} = {S + U + N}
	C.{J + O + Y} < {S + U + N}
	D.{J + O + Y} = {Y + O + U}
Answer:	C.{J + O + Y} < {S + U + N}
Reference ID:(27394)	Identify the figure of speech in the following sentence: The night was creeping on the ground.
	A.Apostrophe
	B.Metaphor
	C.Personification
	D.Euphemism
Answer:	C.Personification
Reference ID:(32942)	भारतीय संसदेतील कनिष्ठ सभागृह _____ नावाने ओळखले जाते?
	A.लोकसभा
	B.राज्यसभा
	C.राज्य परिषद

D.यापैकी काहीही नाही

Answer: A.लोकसभा

Reference ID:(26045) खालीलपैकी कोण/कोणते व्यक्ती चिपको आंदोलनाशी संबंधित आहे?

A) सुंदरलाल बहुगुणा

B) चंडी प्रसाद भट्ट

C) मेधा पाटकर

D) विनोबा भावे

A.A आणि B

B.A आणि C

C.B आणि C

D.A आणि D

Answer: A.A आणि B

Reference ID:(17122) खालील पर्यायांपैकी दुसऱ्या क्रमांकाचा सर्वात मोठा कोण आहे?

A. 350 चे 20%

B.1100 चा 1/4

C.0.35 × 900

D.1400 चा 2/5

Answer: C.0.35 × 900

Reference ID:(31689)	पटकाई पर्वत रांगा भारतातील कोणत्या भागात आहेत?
	A.उत्तर पूर्वी
	B.दक्षिण पूर्वी
	C.उत्तर पश्चिमी
	D.दक्षिण पश्चिमी
Answer:	A.उत्तर पूर्वी
Reference ID:(19989)	"अवकाश" या शब्दाचा समानार्थी शब्द ओळखा.
	A.अंत
	B.अंतरिक्ष
	C.विशाल
	D.मुक्ती
Answer:	B.अंतरिक्ष
Reference ID:(26042)	सोनेरी माकड हे खालीलपैकी कोणत्या संरक्षित क्षेत्रामध्ये सापडते?
	A.नोकरेक राष्ट्रीय उद्यान
	B.मानस वन्यजीव अभयारण्य
	C.वायनाड अभयारण्य
	D.पेरियार अभयारण्य
Answer:	B.मानस वन्यजीव अभयारण्य

Reference ID:(30896)	Identify the figure of speech in the following sentence: I'm on a heavy diet till my birthday.
	A.Oxymoron
	B.Euphemism
	C.Apostrophe
	D.Hyperbole
Answer:	A.Oxymoron
Reference ID:(20240)	एक माणूस त्याच्या घरापासून दक्षिण दिशेने 12 कि.मी. चालतो. मग तो डावीकडे वळतो आणि 5 कि.मी. चालतो. मग तो उजवीकडे वळतो आणि 1 कि.मी. चालतो. मग तो उजवीकडे वळतो आणि 7 कि.मी. चालतो. मग तो उजवीकडे वळतो आणि 4 कि.मी. चालतो. मग तो उजवीकडे वळतो आणि 2 कि.मी. चालतो. तो त्याच्या घरापासून किती दूर आहे?
	A.8 कि.मी.
	B.9 कि.मी.
	C.7 कि.मी.
	D.7.5 कि.मी.
Answer:	B.9 कि.मी.
Reference ID:(27367)	Identify the figure of speech in the following sentence: The truth was like a bad taste in his mouth.
	A.Metaphor
	B.Hyperbole

C.Simile

D.Personification

Answer: C.Simile

Reference ID:(19227) षटकर्णी होणे. या वाक्प्रचाराचा खालीलपैकी कोणता अर्थ योग्य आहे?

A.एखादी बातमी सहाजणांना समजणे

B.सहा लोकांनी एखादी बातमी सर्वांना सांगणे

C.एखादी गुप्त बातमी सर्वांना माहित होणे

D.कोणी व्यक्तीने एखादी गुप्त बातमी सर्वांना ओरडून सांगणे

Answer: C.एखादी गुप्त बातमी सर्वांना माहित होणे

Reference ID:(31696) भारताच्या पंतप्रधानपदी सर्वात जास्त काळ राहणारे खालीलपैकी कोणते पंतप्रधान होते?

A.इंदिरा गांधी

B.राजीव गांधी

C.जवाहरलाल नेहरू

D.मनमोहन सिंग

Answer: C.जवाहरलाल नेहरू

Reference ID:(32943)	भारतात सशस्त्र दलांचे सर्वोच्च प्रमुख असतात.
	A.द कमांडर इन चीफ
	B.पंतप्रधान
	C.भारताचे राष्ट्रपती
	D.संरक्षण मंत्री
Answer:	C.भारताचे राष्ट्रपती
Reference ID:(30388)	Find the meaning of the highlighted word from the sentence: He raised the water bottle to his parched lips.
	A.Hydrated
	B.Damp
	C.Saturated
	D.Dry
Answer:	D.Dry
Reference ID:(21710)	जर A = 1, B = 2, C = 3, Z = 26, तर खालील पैकी कोणते पर्याय बरोबर आहे?
	A.{V + E + R + B} = {W + H + A + T}
	B.{V + E + R + B} < {W + H + A + T}
	C.{V + E + R + B} > {W + H + A + T}
	D.{W + H + A + T} = {P + L + A + Y}
Answer:	B.{V + E + R + B} < {W + H + A + T}

Reference ID:(34939)	जर सांकेतिक भाषेत 432567 हे 523476 आहे , तर 765217 हे सांकेतिक भाषेत काय असेल?
	A.855126
	B.856126
	C.856216
	D.856116
Answer:	B.856126
Reference ID:(17630)	54 च्या $\frac{1}{12}$ + 25 च्या 30% + $0.30 \times 180 =$ _____
	A.67.5
	B.68
	C.66
	D.65.25
Answer:	C.66
Reference ID:(28129)	Find the word opposite in meaning to the highlighted word: Chasm
	A.Closure
	B.Void
	C.Gulf
	D.Opening
Answer:	A.Closure

Reference ID:(27875)

Pick the correct meaning of the highlighted idiom or phrase from the following:
By resigning from the job he **has burnt his boats**

A.To take an irreversible step

B.To get oneself in trouble

C.To pick a fight with someone

D.To act without thinking

Answer:

A.To take an irreversible step

Reference ID:(20494)

जर DS = -15, FR = -12, तर DG =

A.3

B.2

C.0

D.-3

Answer:

D.-3

Reference ID:(30869)

Identify the figure of speech in the following sentence: The bread jumped out of the toaster.

A.Simile

B.Personification

C.Metaphor

D.Euphemism

Answer:

B.Personification

Reference ID:(26041)	‘कॅम्पा’ (CAMPA) बिल खालीलपैकी कशाशी संबंधित आहे?
	A.खणनकार्य
	B.प्रतिपूरक वनीकरण
	C.पर्यावरण संवर्धन
	D.मोठ्या धरणप्रकल्पाचे नियमन
Answer:	B.प्रतिपूरक वनीकरण
Reference ID:(32939)	राष्ट्रीय वनस्पती अनुवांशिक संसाधन ब्यूरो (National Bureau of Plant Genetic Resources) चे मुख्यालय येथे आहे.
	A.शिलाँग
	B.नवी दिल्ली
	C.चंदीगड
	D.मुंबई
Answer:	B.नवी दिल्ली
Reference ID:(28356)	Find the meaning of the highlighted word in the sentence: The man couldn't discern between right and wrong.
	A.Differentiate
	B.Be confused
	C.Overlook
	D.Miss

Answer:	A.Differentiate
Reference ID:(20748)	जर IQ = 59, KIM = 657, तर 1107 _____ असू शकते
	A.ASM
	B.AMS
	C.UAG
	D.SAM
Answer:	A.ASM
Reference ID:(18492)	त्याने गोष्ट लिहिली. या वाक्याचे समापन कर्मणी प्रयोगात रूपांतर करायचे असल्यास खालीलपैकी कोणता पर्याय योग्य ठरेल?
	A.तो गोष्ट लिहितो.
	B.त्याची गोष्ट लिहून झाली.
	C.त्याच्याकडून गोष्ट लिहवते.
	D.त्याच्याकडून गोष्ट लिहिली गेली.
Answer:	C.त्याच्याकडून गोष्ट लिहवते.
Reference ID:(18465)	राजा पळून जाईल किंवा तो शरण येईल. या वाक्याचा प्रकार ओळखा.
	A.केवल वाक्य
	B.संयुक्त वाक्य
	C.मिश्र वाक्य
	D.गौण वाक्य

Answer:	B.संयुक्त वाक्य
Reference ID:(27013)	Select the correct passive voice form of the sentence: I am burning the mid-night lamp.
	A.Burning the mid night lamp is being done by me
	B.The mid night lamp is being burnt by me
	C.I am burning the lamp at midnight
	D.The lamp at midnight is being burnt by me
Answer:	B.The mid night lamp is being burnt by me
Reference ID:(18238)	आता विश्वात्मके देवे येणे वाग्यज्ञे तोषावे तोषोनि मज द्यावे पसायदान हे वरील ओळीतील वृत्त ओळखा.
	A.भुजंगप्रयात
	B.पादाकुलक
	C.ओवी
	D.अभंग
Answer:	C.ओवी
Reference ID:(23691)	'निरागस' या शब्दाचा विरुद्धार्थी शब्द ओळखा.
	A.क्रोधी
	B.चतुर

C.अपरिपक्व

D.गोजिरवाणा

Answer:

B.चतुर

Reference ID:(28864)

Convert the simple sentence to a complex sentence: She requested my help

A.Help me, she said

B.That I should help, was requested by her

C.She requested that I should help her

D.I had to help her as per her request

Answer:

C.She requested that I should help her

Reference ID:(28126) Find the meaning of the highlighted word in the sentence: I'm too old for this sort of **caper**.

A.Escapade

B.Dress down

C.Seriousness

D.Aggression

Answer: A.Escapade

Reference ID:(26013) आययुसीएन (IUCN) याचा पूर्ण स्वरूप _____.

A.इंटरनॅशनल युनिअन फॉर द काँझर्वेशन ऑफ नेचर अँड नॅचरल रिसोर्सेस

B.इंटरनॅशनल युनिअन फॉर द कमिटी ऑफ नेचर अँड नॅचरल रिसोर्सेस

C.इंटरनॅशनल युनायटेड कमिटेड नेशन फॉर नेचर

D.वरीलपैकी काहीच नाही

Answer: A.इंटरनॅशनल युनिअन फॉर द काँझर्वेशन ऑफ नेचर अँड नॅचरल रिसोर्सेस

Reference ID:(31668) लोकप्रिय मानव निर्मित, "हुसेन सागर तलाव" _____ येथे स्थित आहे.

A.हैदराबाद

B.अहमदाबाद

C.जयपूर

D.उदयपुर

Answer: A.हैदराबाद

Reference ID:(30866) Identify the figure of speech in the following sentence: The stormy ocean was a raging bull.

A.Simile

B.Euphemism

C.Metaphor

D.Apostrophe

Answer: C.Metaphor

Reference ID:(16511) सहा जण A , B , C , D , E आणि F हे दोन रांगामध्ये एकमेकांकडे तोंड करुन बसले आहेत. दोन्ही रांगामध्ये प्रत्येकी तीन जण आहेत. E हा कोणत्याही रांगेच्या शेवटी बसलेला नाही. D हा F च्या डावीकडे दुसऱ्या क्रमांकावर आहे. E चा शेजारी बसलेला A हा D च्या कर्णाभिमुख आहे. C हा F च्या शेजारी आहे. F च्या समोर कोण बसले आहे?

A.E

B.B

C.D

D.A

Answer: D.A

Reference ID:(28888) Supply the correct tense of the verb in the sentence: The farmers sowed the seeds after they ____ their fields. They ____ very hard.

A.Had ploughed..... work

B.Ploughed..... working

C.Have ploughed..... were working

D.Will be ploughing..... will be working

Answer: A.Had ploughed..... work

Reference ID:(16865) जर @ आहे 'भागाकार' आणि \$ आहे 'गुणाकार', तर खालीलपैकी सर्वात लहान पर्याय कोणता आहे?

A.33@5

B.1.5\$1.5

C.31@4

D.3\$1.5

Answer: B.1.5\$1.5

Reference ID:(21226) जर LETTUCE हा शब्द TELTUEC असेल आणि COMPUTE हा शब्द MOCPUET असेल, तर PUMPKIN हा शब्द _____ असेल.

A.MUPPKNI

B.MUPKPIN

C.MUPPKIN

D.MUPKPNI

Answer: A.MUPPKNI

Reference ID:(20718) जर AB = 6, S A N G = 82, G I R L = 92 , तर F R I E S = ___?

A.112

B.114

C.111

D.113

Answer: B.114

Reference ID:(22824) जर \$ आहे '+' आणि @ आहे '-', तर खालीलपैकी सर्वात लहान पर्याय कोणता आहे ?

A.152 @ 65 @ 32 \$ 74 \$ 105 @ 93 \$ 42 \$ 37

B.48 \$ 17 \$ 52 \$ 35 @ 156 @ 104 \$ 34 \$ 74

C.19 @ 15 @ 42 \$ 45 \$ 36 @ 103 \$ 42 \$ 507

D.144 @ 67 @ 52 \$ 35 @ 56 \$ 104 @ 44 @ 13

Answer: B.48 \$ 17 \$ 52 \$ 35 @ 156 @ 104 \$ 34 \$ 74

Reference ID:(23688) 'उत्कर्ष' या शब्दाचा विरुद्धार्थी शब्द ओळखा.

A.अग्रेषित

B.सहर्ष

C.अपयश

D.अपकर्ष

Answer: D.अपकर्ष

Reference ID:(26011)

लक्षद्वीप बेटे _____ आहेत.

A.ज्वालामुखी बेटे

B.कोरल बेटे

C.कॉन्टिनेंटल बेटे

D.ज्वार बेटे

Answer:

B.कोरल बेटे

Reference ID:(21707)

जर A = 1, B = 2, C = 3, Z = 26, तर खालील पैकी कोणते पर्याय बरोबर आहे?

A. {D + O + C + K} = {D + O + G}

B. {D + O + C + K} < {D + O + G}

C. {D + O + C + K} > {D + O + G}

D. {D + O + G} = {N + P + I + N}

Answer:

C. {D + O + C + K} > {D + O + G}

Reference ID:(24169)

खालीलपैकी व्याकरणाच्या दृष्टीने शुद्ध शब्द-लेखन असलेला शब्द ओळखा.

A.अद्यात्मिक

B.अध्यात्मीक

C.आध्यात्मिक

D.आध्यात्मीक

Answer:

C.आध्यात्मिक

Reference ID:(28634)

Pick the right idiom which fits into the sentence: She _____ to all the criticism

A.Smelt a rat

B.Put the cart before the horse

C.Turned a deaf ear

D.Made a mare's nest

Answer:

C.Turned a deaf ear

Reference ID:(18743)

खालीलपैकी अपूर्ण वर्तमानकाळातील वाक्य कोणते?

A.सुरेश पत्र लिहित आहे.

B.सुषमा अभ्यास करीत आहे.

C.आम्ही जेवण करीत आहोत.

D.वरीलपैकी सर्व

Answer:

D.वरीलपैकी सर्व

Reference ID:(32916)

महाराष्ट्रातील कोणत्या धार्मिक सामाजिक सुधारकांना "लोकहितवादी" म्हणून ओळखले जात असे?

A.महादेव गोविंद रानडे

B.गोपाळ हरी देशमुख

C.विष्णुशास्त्री चिपळूणकर

D.विठ्ठल रामजी शिंदे

Answer:

B.गोपाळ हरी देशमुख

Reference ID:(20999)	मालिकेतील रिकामी जागा भरा: 8, 14, 26, __, 98
	A.48
	B.56
	C.52
	D.50
Answer:	D.50
Reference ID:(35163)	खाली दिलेल्या पत्त्यापैकी 3 पत्ते समान आहेत आणि 1 भिन्न आहे. कोणता पत्ता भिन्न ते ओळखा?
	A.231 A SECTOR 9, UKKUNAGARAM STEEL PLANT, VISAKHAPATNAM ANDHRA PRADESH PH 0900500700
	B.231 A SECTOR 9, UKKUNAGARAM STEEL PLANT, VISAKHAPTANAM ANDHRA PRADESH PH 0900500700
	C.231 A SECTOR 9, UKKUNAGARAM STEEL PLANT, VISAKHAPATNAM ANDHRA PRADESH PH 0900500700
	D.231 A SECTOR 9, UKKUNAGARAM STEEL PLANT, VISAKHAPATNAM ANDHRA PRADESH PH 0900500700
Answer:	B.231 A SECTOR 9, UKKUNAGARAM STEEL PLANT, VISAKHAPTANAM ANDHRA PRADESH PH 0900500700
Reference ID:(16892)	$5/20 + 0.75 - 5/40 = ?$

A.2.975

B.1.55

C.0.875

D.1.175

Answer: C.0.875

Reference ID:(29877) Pick the right antonym for the word:
condemn

A.Praise

B.Unpopular

C.Dislike

D.Sorrow

Answer: A.Praise

Reference ID:(32910) पुढीलपैकी कोणती रोख मालमत्ता आहे?

A.शेअर

B.कर्जातून निर्माण केलेली ठेवी

C.बाँड

D.पोस्ट ऑफिस प्रमाणपत्र

Answer: B.कर्जातून निर्माण केलेली ठेवी

Reference ID:(18716)	सचिन अध्याप मैदानावर _____. हे वाक्य पूर्ण भूतकाळी करावयाचे असल्यास खालीलपैकी कोणते क्रियापद वापरावे लागेल?
	A.पोचला नाही.
	B.पोचला नसेल.
	C.पोचत नव्हता.
	D.पोचला नव्हता.
Answer:	D.पोचला नव्हता.
Reference ID:(27364)	Identify the figure of speech in the following sentence: She hung her head like a dying flower.
	A.Personification
	B.Metaphor
	C.Simile
	D.Hyperbole
Answer:	C.Simile
Reference ID:(23434)	'सुज्ञ' या शब्दाचा समानार्थी शब्द ओळखा.
	A.अज्ञानी
	B.मूर्ख
	C.सुजाण
	D.सामान्य

Answer:

C.सुजाण

Reference ID:(19959)

पुढील विधानाला जी म्हण योग्य असेल असा पर्याय ओळखा:
दादाने आईच्या नकळत दोन लाडू खाल्ले आणि छकुलीला त्यातला अर्धा लाडू दिला. आईने छकुलीला विचारले की दादाने लाडू खाल्ले का तर ती 'नाही' म्हणाली व दादाला विचारल्यावर तोही म्हणाला की छकुलीने नाही खाल्ले. आईला कळून चुकले की

A.कसायाला गाय धार्जिणी

B.उंदराला मांजर साक्षी

C.एका म्यानात दोन तलवारी

D.साखरेचे खाणार त्याला देव देणार

Answer:

B.उंदराला मांजर साक्षी

Reference ID:(32909)

भारतातील सर्वप्रथम "इंडियन इंस्टिट्यूट ऑफ स्किल्स (आयआयएस)" कोठे आहे?

A.लखनऊ

B.कानपूर

C.इलाहाबाद

D.मुंबई

Answer:

B.कानपूर

Reference ID:(21453)

जर CLEMENTINE हा शब्द ZIBJBKQFKB असेल, तर CANTALOUPE हा शब्द _____ असेल.

A.ZXKQIXLRMB

B.ZXKQXIRLMB

C.ZXKQXILRMB

D.ZXKQXILRNB

Answer: C.ZXKQXILRMB

Reference ID:(29396) Pick the right meaning of the highlighted word in the sentence:
She just sat there looking **morose**

A.Showing unreal excitement about something

B.To be sad about something

C.To be happy about something

D.To be scared about something

Answer: B.To be sad about something

Reference ID:(34909) जर $19 \times 22 = 82$, $34 \times 2 = 72$ आणि $17 \times 6 = 46$, तर $92 \times 51 = ?$

A.235

B.194

C.284

D.286

Answer: D.286

Reference ID:(28607) Find the meaning of the highlighted word in the sentence: The descriptions of the abuse are **graphic**.

A.Shocking

B.Implicit

C.Vague

D.Petty

Answer: A.Shocking

Reference ID:(31669) च्या शिफारशीवर संविधान सभेची रचना केली गेली होती.

A.कॅबिनेट मिशन योजना-1946

B.भारतीय शासन अधिनियम, 1943

C.भारतीय स्वातंत्र्य कायदा

D.राणीचा जाहीरनामा

Answer: A.कॅबिनेट मिशन योजना-1946

Reference ID:(30358) Find the meaning of the highlighted word in the sentence: Despite their age they were remarkably **nimble**.

A.Soft

B.Slow

C.Agile

D.Daft

Answer: C.Agile

Reference ID:(28861) Convert the simple sentence to a complex sentence: Your father is the man to solve the problem

A.Solving the problems was done by your dad

B.Your father is the man to have solved these problems

C.Your father is the man who can solve this problem

D.Your father is the problem-solving man

Answer: C.Your father is the man who can solve this problem

Reference ID:(27037) Find the meaning of the highlighted word in the sentence: In his office, he is held up as an object of **ridicule** .

A.Inspiration

B.Mockery

C.Interest

D.Weight

Answer: B.Mockery

Reference ID:(23942) खालीलपैकी विरुद्धार्थी शब्दाची चुकीची जोडी ओळखा.

A.संकुचित x व्यापक

B.करंटा x भाग्यहीन

C.भव्य x चिमुकले

D.मंजुळ x सुरेल

Answer: D.मंजुळ x सुरेल

Reference ID:(23915) खालीलपैकी विरुद्धार्थी शब्दाची बरोबर जोडी ओळखा.

A.संक्षिप्त x विस्तृत

B.समृद्धि x भरभराट

C.चौकशी x विचारपूस

D.पुष्प x सुमन

Answer: A.संक्षिप्त x विस्तृत

Reference ID:(26020) खालीलपैकी भारतातील पहिले राष्ट्रीय उद्यान कोणते आहे?

- A.काझीरंगा राष्ट्रीय उद्यान
- B.जिम कॉर्बेट राष्ट्रीय उद्यान
- C.बंदीपूर राष्ट्रीय उद्यान
- D.गीर राष्ट्रीय उद्यान

Answer: B.जिम कॉर्बेट राष्ट्रीय उद्यान

Reference ID:(26014) मानव रंग, उंची आणि शारीरिक स्वरूपात _____मुळे भिन्न असतात.

- A.प्रजातीची विविधता
- B.जनुकीय विविधता
- C.परिस्थितिकी विविधता
- D.वरीलपैकी सर्व

Answer: B.जनुकीय विविधता

Reference ID:(18489) निखिलने आंबा खाल्ला. या वाक्यतील प्रयोग कोणता?

- A.सकर्मक कर्तरी
- B.अकर्मक कर्तरी
- C.कर्मणी
- D.भावे

Answer:	C.कर्मणी
Reference ID:(19986)	'स्मरण' या शब्दाचा समानार्थी शब्द ओळखा.
	A.सय
	B.सकल
	C.स्तुती
	D.संहार
Answer:	A.सय
Reference ID:(30131)	Find the meaning of the highlighted word in the sentence: An unhappy family life may inhibit children's learning.
	A.Frees up
	B.Motivates
	C.Hamper
	D.Encourages
Answer:	C.Hamper
Reference ID:(24677)	प्रश्नातील वाक्यात रिकामी जागा भरण्यास सर्वात योग्य शब्द निवडा. भूतकाळात केलेल्या चुका पूढे आपल्यालाचलागतात.
	A.सयष्टव्य
	B.निश्तोष

C.निस्तराव्या

D.निस्तेज

Answer:

C.निस्तराव्या

Reference ID:(22570)

खालीलपैकी सर्वात लहान पर्याय कोणता आहे ?

A. $25 + 22 + 35 - 72 - 102 + 83 - 45 - 27$

B. $48 + 17 + 25 - 32 + 126 - 104 - 44 - 71$

C. $19 - 12 + 15 - 42 - 36 + 103 - 45 - 107$

D. $44 - 67 + 25 + 32 + 26 - 104 + 44 + 13$

Answer:

C. $19 - 12 + 15 - 42 - 36 + 103 - 45 - 107$

Reference ID:(17627)

15 च्या $\frac{1}{6} + 40$ च्या 15% च्या 200% + $0.25 \times 60 = \underline{\hspace{2cm}}$

A.31

B.29.5

C.31.5

D.28.75

Answer:

B.29.5

Reference ID:(20464)

X चे दक्षिण पूर्व दिशेला तोंड आहे. तो 90 अंश डावीकडे वळतो. मग तो 70 अंश उजवीकडे वळतो. मग तो 180 अंश वळतो. मग तो 90 अंश उजवीकडे वळतो. शेवटी तो डावीकडे 25 अंश वळतो. आता तो कोणत्या दिशेला तोंड करून उभा आहे?

A.पश्चिम

B.दक्षिण

C.पूर्व

D.उत्तर

Answer: D.उत्तर

Reference ID:(20491) जर $W + H + A + T = 52$, $S + H + E = 32$, तर $W + A + S + H = \underline{\quad}$?

A.51

B.54

C.53

D.52

Answer: A.51

Reference ID:(20745) जर $MO = 78$, $MCQ = 729$, तर 1113 _____ असू शकते

A.AUI

B.UAE

C.AAAC

D.USA

Answer: B.UAE

Reference ID:(31666) संविधानाच्या मसुदा समितीचे सदस्य पुढीलपैकी कोण नव्हते?

A.मोहम्मद सादुल्ला

B.के. एम. मुन्शी

C.अल्लादी कृष्णस्वामी अय्यर

D.जवाहरलाल नेहरू

Answer: D.जवाहरलाल नेहरू

Reference ID:(18462) अर्जुनाने फिरत्या मत्स्याच्या डोळ्याचा नेम धरला.
अर्जुनाने बाण मारला.
या दोन वाक्यांचे एकच केवळ वाक्य बनवायचे असल्यास खालीलपैकी कोणता पर्याय योग्य ठरेल?

A.अर्जुनाने फिरत्या मत्स्याच्या डोळ्याचा नेम धरला आणि बाण मारला.

B.अर्जुनाने फिरत्या मत्स्याच्या डोळ्याचा नेम धरून बाण मारला.

C.अर्जुनाने फिरत्या मत्स्याच्या डोळ्याचा नेम धरला व बाण मारला.

D.अर्जुनाने फिरत्या मत्स्याच्या डोळ्याचा नेम धरला म्हणून बाण मारला.

Answer: B.अर्जुनाने फिरत्या मत्स्याच्या डोळ्याचा नेम धरून बाण मारला.

Reference ID:(30893) Identify the figure of speech in the following sentence: That urban legend turned out to be a true myth.

A.Hyperbole

B.Personification

C.Oxymoron

D.Simile

Answer: C.Oxymoron

Reference ID:(32914) भारतात हाय स्पीड ग्रामीण ब्रॉडबँड नेटवर्क असणारा कोणता पहिला जिल्हा बनला आहे?

A.अजमेर, राजस्थान

B.विदिशा, मध्य प्रदेश

C.इडुक्की, केरळ

D.कामरूप, आसाम

Answer: C.इडुक्की, केरळ

Reference ID:(25158) समूहदर्शक शब्द ओळखा. जसा उपकरणांचा संच तसा गवताचा _____.

A.कुंज

B.भारा

C.कळप

D.संच

Answer: B.भारा

Reference ID:(27618) Identify the figure of speech in the following sentence: This is another fine mess you have got yourself into.

A.Personification

B.Metaphor

C.Oxymoron

D.Simile

Answer: C.Oxymoron

Reference ID:(20210)	X चे पश्चिम दिशेला तोंड आहे. तो 90 अंश उजवीकडे वळतो. मग तो 45 अंश डावीकडे वळतो. मग तो 180 अंश वळतो. शेवटी तो डावीकडे 45 अंश वळतो. आता तो कोणत्या दिशेला तोंड करून उभा आहे?
	A.पूर्व
	B.पश्चिम
	C.उत्तर
	D.दक्षिण
Answer:	A.पूर्व
Reference ID:(32908)	'मूकनायक' हे नियतकालिक ह्यांनी सुरू केले.
	A.डॉ. बी.आर. आंबेडकर
	B.गोपालबाबा
	C.बाळशास्त्री जांभेकर
	D.छत्रपती शाहू
Answer:	A.डॉ. बी.आर. आंबेडकर
Reference ID:(30104)	Pick the right antonym for the word: Encourage
	A.constraint
	B.Aid
	C.Relief
	D.Service
Answer:	A.constraint

Reference ID:(27010)

Select the correct passive voice form of the sentence: I have placed the package on the table.

A.On the table is the package being placed by me

B.I am placing the package on the table

C.The package has been placed on the table by me

D.The table is where the package is being placed

Answer:

C.The package has been placed on the table by me

Reference ID:(28380)

Find the meaning of the highlighted word in the sentence: Even at 66 she was as **feisty** as ever.

A.Timid

B.Dull

C.Flat

D.Spirited

Answer:

D.Spirited

Reference ID:(29369)

Pick the right meaning of the highlighted word in the sentence: His elaborate **deception** fooled his family for ages.

A.Resorting to fraud or trickery

B.Being honest about something

C.Behaving hateful with everyone

D.Being in a joyful state

Answer:

A.Resorting to fraud or trickery

Reference ID:(25412)

'महर्षी' या शब्दाचा खालीलपैकी योग्य संधी विग्रह ओळखा.

A.महा + र्षी

B.मह + ऋषी

C.महा + ऋषी

D.महा + अर्षी

Answer:

C.महा + ऋषी

Reference ID:(17119)

खालीलपैकी सर्वात लहान पर्याय कोणता आहे?

A.350 चे 70%

B.850 चा 1/4

C.0.35 × 900

D.900 चा 2/5

Answer:

B.850 चा 1/4

Reference ID:(17373)

$4.50 + 3.25 + 4.0 - (5.50 + 3.25 - 4.35) = \underline{\hspace{2cm}}$

A.7.45

B.8.05

C.7.35

D.7.55

Answer: C.7.35

Reference ID:(34936) जर सांकेतिक भाषेत 432567 हे 523476 आहे , तर 458762 हे सांकेतिक भाषेत काय असेल?

A.548671

B.549771

C.549671

D.549661

Answer: C.549671

Reference ID:(24450) प्रश्नातील वाक्यात रिकामी जागा भरण्यास सर्वात योग्य शब्द निवडा.
दोन दिवस झालेल्या दमदार पावसाने पिकांना मिळाली.

A.सकृतदर्शनी

B.संजीवनी

C.संदीपनी

D.कारकुनी

Answer: B.संजीवनी

Reference ID:(32917) "चिकनकारी भरतकाम" कोणत्या शहरापासून प्रसिद्ध झाले?

A.भोपाळ

B.लखनऊ

C.जयपूर

D.अहमदाबाद

Answer:

B.लखनऊ

Reference ID:(30385)

Find the meaning of the highlighted word in the sentence: The ball gathered **pace** as it rolled down the hill.

A.Speed

B.Dust

C.Heat

D.Dirt

Answer:

A.Speed

Reference ID:(28353)

Find the meaning of the highlighted word in the sentence: He is very **discreet** in giving his opinion.

A.Open

B.Tactless

C.Cautious

D.Careless

Answer:

C.Cautious

Reference ID:(32915)

हिंगणे स्त्री शिक्षण संस्था ___ यांनी स्थापना केली.

A.ज्योतिराव फुले

B.कर्मवीर भाऊराव कर्वे

C.रघुनाथ धोंडो कर्वे

D.धोंडो केशव कर्वे

Answer: D.धोंडो केशव कर्वे

Reference ID:(31663) भारतात पर्यावरणविज्ञानाचे जनक म्हणून कोण ओळखले जाते?

A.राम सुकुमार

B.सरथ कुमार

C.माधव गाडगीळ

D.रामदेव मिश्रा

Answer: D.रामदेव मिश्रा

Reference ID:(31662) बोगिबील पूल येथे स्थित आहे.

A.आसाम

B.पश्चिम बंगाल

C.बिहार

D.महाराष्ट्र

Answer: A.आसाम

Reference ID:(24904) पुढील शब्दसमूहासाठी योग्य शब्द निवडा.
संध्याकाळी भोजनोत्तर परिसरात सहज फिरणे

A.फेरफटका

B.पायपीट

C.वाटचाल

D.शतपावली

Answer: D.शतपावली

Reference ID:(24423) खालीलपैकी व्याकरणाच्या दृष्टीने शुध्द वाक्याचा पर्याय निवडा.

A.शंकराने तीसरा डोळा उघडला.

B.त्याचा स्वभाव विसरभोळा आहे.

C.तू तीरसटपणा करू नकोस.

D.ह्याचा परिणाम विप्रित होईल.

Answer: B.त्याचा स्वभाव विसरभोळा आहे.

Reference ID:(29650) Pick the Synonym for the word:
initiated

A.Begin

B.Halt

C.Stop

D.Abolish

Answer: A.Begin

Reference ID:(19732) "विंचवाचे बिऩ्हाड पाठीवर" या म्हणीचा अर्थ खालीलपैकी कोणता ते ओळखा?

A.गावात प्रत्येक घरात मागील बाजूस विंचू असतात

B.विंचू व त्याची पिलावळ त्याच्या पाठीवरच नेहेमी राहतात

C.गरजेपुरत्या गोष्टी घेऊन फिरावे, अनावश्यक बाबी टाळाव्यात

D.खूप जबाबदऱ्या घेणे

Answer: C.गरजेपुरत्या गोष्टी घेऊन फिरावे, अनावश्यक बाबी टाळाव्यात

Reference ID:(16538) 120 च्या 30% - $12/20 + 1.5 = \underline{\hspace{2cm}}$

A.37.4

B.36.65

C.36.9

D.37.30

Answer: C.36.9

Reference ID:(29623) Pick the Synonym for the word:
mendicant

A.Beggar

B.Lordly

C.Attached

D.Plentiful

Answer: A.Beggar

Reference ID:(17881) X हा Y च्या 2.5% आहे. मग Y हा X च्या _____ % आहे.

A.400

B.25

C.750

D.4000

Answer: D.4000

Reference ID:(31664) पुढील राज्यांपैकी कोणते राज्य नर्मदा नदीच्या खोऱ्याचा भाग नाही?

A.गुजरात

B.मध्य प्रदेश

C.राजस्थान

D.महाराष्ट्र

Answer: C.राजस्थान

Reference ID:(32913) लोकशाही ही 'लोकांचे सरकार, लोकांद्वारे, लोकांसाठी' अशी कोणी परिभाषित केली होती?

A.महात्मा गांधी

B.अब्राहम लिंकन

C.रोनाल्ड रीगन

D.जॉन एफ. केनेडी

Answer: B.अब्राहम लिंकन

Reference ID:(22596) जर \$ आहे '+' आणि @ आहे '-', तर खालीलपैकी सर्वात मोठा पर्याय कोणता आहे ?

A.22 \$ 11 @ 72 \$ 45 @ 65 @ 13 \$ 42 \$ 57

B.118 \$ 17 @ 52 \$ 35 @ 156 \$ 104 @ 44 @ 37

C.79 \$ 45 \$ 162 \$ 45 \$ 36 @ 103 \$ 42 \$ 17

D.38 @ 107 @ 52 @ 35 @ 56 \$ 104 \$ 144 @ 7

Answer: C.79 \$ 45 \$ 162 \$ 45 \$ 36 @ 103 \$ 42 \$ 17

Reference ID:(30612) Pick the correct meaning of the highlighted idiom: He is **not worth his salt** if he fails now.

A.To be puzzled

B.Quite worthless

C.To be critical

D.To not be an adventurous kind of person

Answer: B.Quite worthless

Reference ID:(20972) मालिकेतील रिकामी जागा भरा: A, M, B, __, C, O, D, P, E

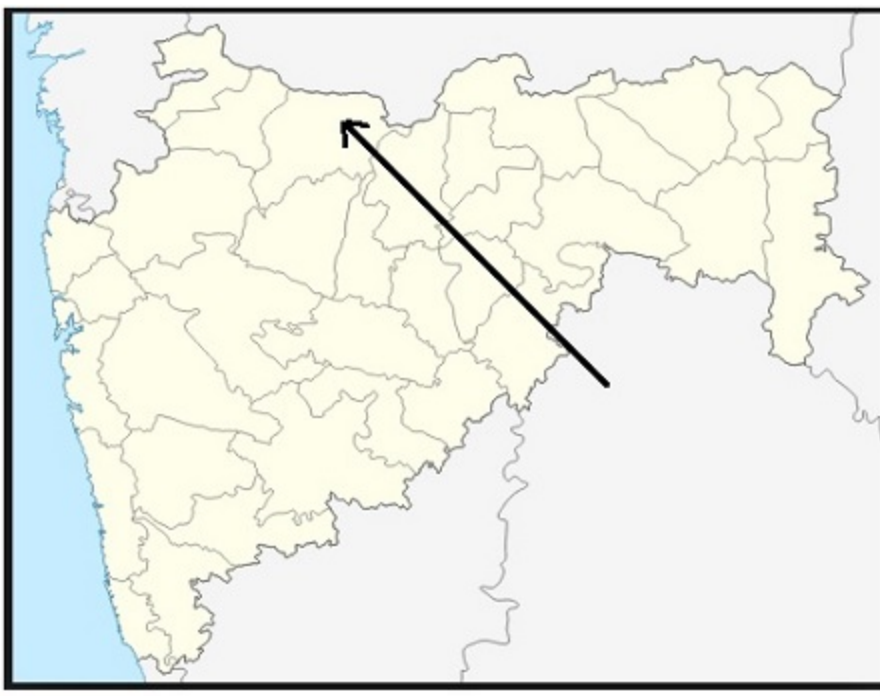
A.H

B.G

C.N

D.L

Answer: C.N



महाराष्ट्रातील नकाशात बाणने दर्शविलेला जिल्हा खालीलपैकी कोणता आहे?

A. बुलढाणा

B. धुळे

C. जालना

D. जळगाव

Answer:

D. जळगाव

खालीलपैकी समानार्थी शब्दाची चुकीची जोडी ओळखा

A. शिकस्त – शिस्त

B. क्षुधा – भूक

C. कृश – बारीक

D. उदर – पोट

Answer: A.शिकस्त – शिस्त

Reference ID:(17854) 42 च्या $\frac{1}{12}$ + 12 च्या 20% च्या 200% + $0.40 \times 140 = \underline{\hspace{2cm}}$

A.65.8

B.66.3

C.63.55

D.64.3

Answer: D.64.3

Reference ID:(30639) Convert the following active to passive voice: The police have caught the thief

A.The thief was caught by the police

B.The thief has been caught by the police

C.The thief had been caught by the police

D.The thief was to be caught by the police

Answer: B.The thief has been caught by the police

Reference ID:(32912) उत्तराखंडमध्ये कोणत्या शहराला "जागतिक योगा राजधानी" म्हटले जाते?

A.देहरादून

B.हरिद्वार

C.नैनीताल

D.ऋषिकेश

Answer: D.ऋषिकेश

Reference ID:(17400)	$5.30 + 5.25 + 6.75 - (4.50 - 7.75 + 1.25) = \underline{\hspace{2cm}}$
	A.18.15
	B.18.05
	C.18.30
	D.19.3
Answer:	D.19.3
Reference ID:(19451)	"आमचा राजेश म्हणजे महा हलक्या कानाचा माणूस आहे." ह्या वाक्यातील 'हलक्या कानाचा माणूस' या वाक्प्रचाराचा खालील पर्यायातून अचूक आणि नेमका अर्थ ओळखा.
	A.लहान आकाराचा कान असलेला माणूस
	B.अत्यंत विश्वासू अशी व्यक्ती
	C.महाकपटी व्यक्ती
	D.वस्तुस्थिती व खरे-खोटे जाणून न घेता पटकन विश्वास ठेवणारी व्यक्ती
Answer:	D.वस्तुस्थिती व खरे-खोटे जाणून न घेता पटकन विश्वास ठेवणारी व्यक्ती

Reference ID:(18235)

वैशाखिंचा कुमुदनाथ नभांत हांसे
यच्चंद्रिका धवल सौधतलीं विलासे
घाली स्वयें जल जिला प्रिय बाळ लोभें
जाई फुले, परिमलें सुमजांत शोभे

वरील ओळीतील वृत्त ओळखा.

A. भुजंगप्रयात

B. पादाकुलक

C. वसंततिलका

D. नववधू

Answer:

C. वसंततिलका

Reference ID:(32911)

जम्मू-काश्मीरचे राज्य फूल कोणते आहे?

A. गुलाब

B. लिली

C. कमळ

D. जास्मीन

Answer:

C. कमळ

Reference ID:(26012)

इन-सिटू संवर्धन खालीलपैकी काय संदर्भित करते?
(1) वनस्पती आणि प्राण्यांचे त्यांच्या जन्मजात परिसंस्थेतील संवर्धन
(2) वनस्पती आणि प्राण्यांचे त्यांच्या मानव-निर्मित परिसंस्थेतील संवर्धन

A. फक्त (1)

B. फक्त (2)

C.दोन्ही (1) आणि (2)

D.दोन्ही (1) आणि (2) नाही

Answer: C.दोन्ही (1) आणि (2)

Reference ID:(26019) भारतात सध्या जीवावरण राखीव क्षेत्राची एकूण संख्या किती आहे?

A.30

B.15

C.18

D.20

Answer: C.18

Reference ID:(17146) $7.05 + 8.5 + 0.55 - (4.30 + 5.25 - 9.75) = \underline{\hspace{2cm}}$

A.16.30

B.16.25

C.16.15

D.16.75

Answer: A.16.30

Reference ID:(27872)	Pick the correct meaning of the highlighted idiom or phrase from the following: Atul always plays second fiddle to what his brother says.
	A.To play a secondary role of less importance
	B.To play a musical instrument to entertain someone
	C.To interfere in all matters
	D.To not be confident to make decisions
Answer:	A.To play a secondary role of less importance
Reference ID:(29115)	Fill in the blanks with the correct form of future continuous or future perfect tense: They ____ the results by next Friday.
	A.Will have declared
	B.Declared
	C.To declare
	D.Had Declared
Answer:	A.Will have declared
Reference ID:(18970)	खालील शब्दाचा समास / समास प्रकार ओळखा. कृष्णमेघ
	A.कर्मधारय
	B.तृतीय तत्पुरुष
	C.अव्ययीभाव
	D.सह बहुव्रीहि
Answer:	A.कर्मधारय

Reference ID:(27899)

Find the word that is opposite in meaning to the word: Amiss

A.Improper

B.Bachelor

C.Suitable

D.Bad

Answer:

C.Suitable

Reference ID:(24196)

खालीलपैकी व्याकरणाच्या दृष्टीने अशुद्ध शब्द-लेखन असलेला शब्द ओळखा.

A.मोरपीस

B.रासवट

C.विज्ञाननीष्ठ

D.रक्तरंजित

Answer:

C.विज्ञाननीष्ठ

Reference ID:(21480)

जर $A = 1, B = 2, \dots, M = 13$; आणि $N = 13, O = 12, \dots, Z = 1$, तर खालील पैकी कोणते पर्याय बरोबर आहे?

A. $\{B + U + S\} < \{B + O + Y\}$

B. $\{B + U + S\} = \{B + O + Y\}$

C. $\{B + U + S\} > \{B + O + Y\}$

D. $\{B + U + S\} = \{F + L + Y\}$

Answer:

B. $\{B + U + S\} = \{B + O + Y\}$

Reference ID:(26018)	संवेदनक्षम क्षेत्रे त्यांच्या _____ नुसार परिभाषित केली जातात.
	A.दृश्य
	B.स्थान
	C.भूभाग
	D.वृक्ष-वनस्पती
Answer:	D.वृक्ष-वनस्पती
Reference ID:(19224)	"धूळभेट होणे" या वाक्यचाराचा खालीलपैकी कोणता अर्थ योग्य आहे?
	A.धुळीचे वादळ होणे
	B.सपशेल हार होणे
	C.एखाद्याशी उभ्या उभ्या झालेली अल्प वेळेतील भेट
	D.एखाद्याला वाढदिवसाची भेट म्हणून डब्यात धूळ भरून देणे
Answer:	C.एखाद्याशी उभ्या उभ्या झालेली अल्प वेळेतील भेट
Reference ID:(18208)	कोणत्याही काव्यात अथवा वाक्यात ज्यावेळी एखाद्या वस्तुचे, व्यक्तित्ते, प्रसंगाचे, दृश्याचे हुबेहूब पण वैशिष्ट्यपूर्ण वर्णन केले जाते तेव्हा अलंकार होतो.
	A.भ्रांतिमान
	B.अपन्हृती
	C.स्वभावोक्ति
	D.व्यतिरेक

Answer:	C.स्वभावोक्ति
Reference ID:(31667)	महाराष्ट्रात गोदावरी नदीवर कोणते धरण बांधलेले आहे ?
	A.उजनी
	B.इसापूर
	C.तोतला डोह
	D.जायकवाडी
Answer:	D.जायकवाडी
Reference ID:(27391)	Identify the figure of speech in the following sentence: The chair groaned as he sat on it.
	A.Oxymoron
	B.Simile
	C.Metaphor
	D.Personification
Answer:	D.Personification
Reference ID:(26015)	वनस्पति उद्यान _____ च्या श्रेणी अंतर्गत येते.
	A.इन-सिटू संवर्धन
	B.एक्स-सिटू संवर्धन
	C.प्राणीसंग्रहालय
	D.अभयारण्य

Answer: B.एक्स-सिटू संवर्धन

Reference ID:(26016) खालीलपैकी कोणते कारण वन्यजीवन विलुप्त होण्याचे आहेत?
(a) नैसर्गिक निवासे नष्ट करणे
(b) शिकार
(c) संवर्धन

A.फक्त (a)

B.फक्त (b)

C.दोन्ही (a) आणि (b)

D.(a), (b) आणि (c)

Answer: C.दोन्ही (a) आणि (b)

Reference ID:(19478) प्रश्नात दिलेल्या वाक्यचाराचा योग्य वापर असलेले वाक्य पर्यायांमधून ओळखा. अवाक् होणे

A.मनोरंजक सिनेमा पाहून श्रुती भीतीने अवाक् झाली.

B.कार्यक्रमात वादकाने डोक्याने की-बोर्ड वाजवताना पाहून सर्व श्रोते अवाक् झाले.

C.खूप आरडाओरडा करून मुले अवाक् झाली.

D.दारावरचे तोरण फुलांच्या वजनाने अवाक् झाले.

Answer: B.कार्यक्रमात वादकाने डोक्याने की-बोर्ड वाजवताना पाहून सर्व श्रोते अवाक् झाले.

Reference ID:(25185) 'अयोध्येश' या शब्दाचा खालीलपैकी योग्य संधी विग्रह ओळखा.

A.अयोध्या + इश

B.अयो + ईश

C.अयोध्या + ईश

D.अयो + ध्याईश

Answer: C.अयोध्या + ईश

Reference ID:(31670) खालीलपैकी कोणती नदी गंगा नदीची वितरिका आहे?

A.हुगळी

B.अलकनंदा

C.कोसी

D.गोमती

Answer: A.हुगळी

Reference ID:(24931) पुढील शब्दसमूहासाठी योग्य शब्द निवडा.
न्याय देण्याच्या बाबतीत कठोर असणारा

A.पुरोगामी

B.न्यायनिष्ठूर

C.पाषाणहृदयी

D.न्यायाधीश

Answer: B.न्यायनिष्ठूर

Reference ID:(18997)	खालील शब्दाचा समास / समास प्रकार ओळखा. सवर्ण
	A.द्वंद्व
	B.सहबहुव्रीहि
	C.अव्ययीभाव
	D.तत्पुरुष
Answer:	B.सहबहुव्रीहि
Reference ID:(31665)	भारतीय संविधानाने कोणत्या देशाकडून संघराज्य व्यवस्था घेतली आहे.
	A.कॅनडा
	B.युनायटेड किंगडम
	C.ऑस्ट्रेलिया
	D.युनायटेड स्टेट्स ऑफ अमेरिका
Answer:	A.कॅनडा
Reference ID:(22242)	खालीलपैकी सर्वात मोठा पर्याय कोणता आहे ?
	A.15 - 22 + 65 - 42 - 62 + 103 - 45 - 27
	B.18 - 17 + 25 - 32 + 26 - 104 + 44 + 37
	C.19 - 12 + 165 - 42 - 36 - 103 - 45 - 17
	D.38 - 107 + 25 + 32 + 26 - 104 + 44 + 37
Answer:	B.18 - 17 + 25 - 32 + 26 - 104 + 44 + 37

Reference ID:(27645)	Pick the correct meaning of the highlighted idiom or phrase from the following: You need not worry. Her injuries are minor. She will come around soon .
	A.To recover from something
	B.To appear
	C.To take place
	D.To go around something
Answer:	A.To recover from something
Reference ID:(29142)	Pick the right meaning of the highlighted word in the sentence: Some of the tribals found in Andaman islands are indigenous to the place
	A.An immigrant of some other place
	B.Imported from someplace else
	C.Native to a country or place
	D.An alien person or thing
Answer:	C.Native to a country or place
Reference ID:(19705)	पुढील म्हण पूर्ण करण्यासाठी योग्य पर्याय निवडा. कोंड्याचा करून खाणे
	A.कांडा
	B.भांडा
	C.मांडा
	D.कांदा
Answer:	C.मांडा

Reference ID:(26017)

खालीलपैकी कोणता देश महाविविधता देश आहे?

A.मादागास्कर

B.बांगलादेश

C.अफगाणिस्तान

D.रशिया

Answer:

A.मादागास्कर

Reference ID:(20237)

एक माणूस त्याच्या घरापासून पूर्व दिशेने 7 कि.मी. चालतो.
मग तो डावीकडे वळतो आणि 4 कि.मी. चालतो.
मग तो उजवीकडे वळतो आणि 1 कि.मी. चालतो.
मग तो उजवीकडे वळतो आणि 7 कि.मी. चालतो.
मग तो उजवीकडे वळतो आणि 4 कि.मी. चालतो.
मग तो उजवीकडे वळतो आणि 3 कि.मी. चालतो.
तो त्याच्या घरापासून किती दूर आहे?

A.4 कि.मी.

B.3.5 कि.मी.

C.2 कि.मी.

D.2.5 कि.मी.

Answer:

A.4 कि.मी.

Question Paper Title : FG_08

Date of Exam : 13-06-2019 02:30 PM

Reference ID:(16537) 90 च्या 15% - $5/20 + 0.75 = \underline{\hspace{2cm}}$

A.14.5

B.13.75

C.14

D.14.4

Answer: C.14

Reference ID:(29622) Pick the Synonym for the word:
despise

A.Detest

B.Idolize

C.Treasure

D.Cherish

Answer: A.Detest

Reference ID:(31654) खालीलपैकी कोणते राज्य पूर्वी एनईएफए (NEFA) म्हणून ओळखले जायचे?

A.अरुणाचल प्रदेश

B.मध्य प्रदेश

C.आंध्र प्रदेश

D.कर्नाटक

Answer: A.अरुणाचल प्रदेश

Reference ID:(31661) थार वाळवंटमधून कोणती नदी वाहते?

A.बियास

B.लूनी

C.झेलम

D.गोदावरी

Answer: B.लूनी

Reference ID:(32903) भूकंप प्रवण क्षेत्राचा नकाशानुसार भारत किती भूकंप प्रवण क्षेत्रांमध्ये विभागलेला आहे?

A.3

B.4

C.5

D.7

Answer: B.4

Reference ID:(31657) केवलादेव राष्ट्रीय उद्यान _____ साठी प्रसिद्ध आहे.

A.सिंह

B.पक्षी प्रजाती

C.वाघ

D.हरिण

Answer:	B.पक्षी प्रजाती
Reference ID:(32905)	सिंधु खोरे संस्कृती दरम्यान कोणत्या शहरात जल कुंड (The Great Bath) सापडले?
	A.लोथल
	B.मोहेजो-दारो
	C.मेहरगढ
	D.हडप्पा
Answer:	B.मोहेजो-दारो
Reference ID:(31656)	भारतातील कोणत्या राज्यात सेवन सिस्टर्स फॉल्स (धबधबा) आहे?
	A.ओडिशा
	B.मणिपूर
	C.मेघालय
	D.मिझोरम
Answer:	C.मेघालय
Reference ID:(29649)	Pick the Synonym for the word: Tenure
	A.Stint
	B.Detain
	C.Fable
	D.Deep

Answer: A.Stint

Reference ID:(17853) 36 च्या 1/8 + 25 च्या 30% च्या 200% + 0.30 × 180 = _____

A.75

B.75.5

C.72.75

D.73.5

Answer: D.73.5

Reference ID:(17118) खालीलपैकी सर्वात मोठा पर्याय कोणता आहे?

A.350 चे 70%

B.850 चा 1/4

C.0.35 × 900

D.900 चा 2/5

Answer: D.900 चा 2/5

Reference ID:(18996) खालील शब्दाचा समास / समास प्रकार ओळखा.
सानंद

A.द्वंद्व

B.सहबहुव्रीहि

C.अव्ययीभाव

D.तत्पुरुष

Answer:	B.सहबहुव्रीहि
Reference ID:(27898)	Find the meaning of the word:: Amiss
	A.Perfect
	B.Suitable
	C.Bachelor
	D.Improper
Answer:	D.Improper
Reference ID:(28606)	Find the meaning of the highlighted word in the sentence: He insisted on describing his operation in graphic detail.
	A.Clear
	B.Obscure
	C.Vague
	D.Quick
Answer:	A.Clear
Reference ID:(16864)	जर @ आहे 'भागाकार' आणि \$ आहे 'गुणाकार', तर खालील पर्यायांपैकी दुसऱ्या क्रमांकाचा सर्वात लहान कोण आहे?
	A.33@5
	B.1.5\$1.5
	C.31@4
	D.3\$1.5

Answer:	D.3\$1.5
Reference ID:(19223)	"कपिलाषष्ठीचा योग येणे" या वाक्प्रचाराचा खालीलपैकी कोणता अर्थ योग्य आहे? A.एखाद्या व्यक्तीचा साठावा वाढदिवस साजरा करणे B.कपिलाषष्ठी नावाचे योगासन करता येणे C.अत्यंत दुर्मिळ आणि उत्कृष्ट संधी उपलब्ध होणे D.कपिला जातीच्या गायीला बछडा होणे
Answer:	C.अत्यंत दुर्मिळ आणि उत्कृष्ट संधी उपलब्ध होणे
Reference ID:(27363)	Identify the figure of speech in the following sentence: Watching the show was like watching grass grow. A.Hyperbole B.Metaphor C.Simile D.Euphemism
Answer:	C.Simile
Reference ID:(26005)	_____ ह्यांनी वनस्पती प्रदेशनिष्ठतेच्या अपवादात्मक पातळ्या आणि निवास नाशाच्या गंभीर पातळ्या दोन्ही दर्शविणाऱ्या जैव-भौगोलिक प्रदेशासाठी "जैवविविधतेचे संवेदनक्षम क्षेत्र" ही संज्ञा निर्माण केली.

A.एम. एस. स्वामिनाथन

B.चार्ल्स डार्विन

C.डेव्हिड बल्टिमोर

D.नॉर्मन मायर्स

Answer:

D.नॉर्मन मायर्स

Reference ID:(20209)

X चे उत्तर दिशेला तोंड आहे. तो 90 अंश उजवीकडे वळतो. मग तो 45 अंश डावीकडे वळतो. मग तो 180 अंश वळतो. शेवटी तो डावीकडे 45 अंश वळतो. आता तो कोणत्या दिशेला तोंड करून उभा आहे?

A.पूर्व

B.पश्चिम

C.उत्तर

D.दक्षिण

Answer:

D.दक्षिण

Reference ID:(26002)

भारतामध्ये अँटॉल प्रवाळ भित्तीका कुठे आढळून येतात?

A.लक्षद्वीप बेटसमूह

B.मन्नारचे आखात

C.अंदमान आणि निकोबार बेट

D.कच्छचे आखात

Answer:

A.लक्षद्वीप बेटसमूह

Reference ID:(32907)	खालीलपैकी कोणते तंतुवाद्य नाही?
	A.डफ
	B.गिटार
	C.सितार
	D.व्हायोलिन
Answer:	A.डफ
Reference ID:(24676)	प्रश्नातील वाक्यात रिकामी जागा भरण्यास सर्वात योग्य शब्द निवडा. पुतळा उभारण्यापूर्वी सर्व शासकीयपार पाडण्यात आले.
	A.सावकार
	B.निरुपाधिक
	C.साकार
	D.सोपस्कार
Answer:	D.सोपस्कार
Reference ID:(26001)	दलदली परिसंस्थांच्या संवर्धनाशी संबंधित खालीलपैकी कोणता करार आहे?
	A.बोन करार
	B.रामसर करार
	C.व्हिएन्ना करार
	D.बॅसेल करार

Answer: B.रामसर करार

Reference ID:(32906) प्रसिद्ध कला शैली "मधुबनी" कोणत्या राज्याशी संबंधित आहे?

- A.आसाम
- B.बिहार
- C.ओडिशा
- D.पश्चिम बंगाल

Answer: B.बिहार

Reference ID:(22823) जर \$ आहे '+' आणि @ आहे '-', तर खालीलपैकी सर्वात लहान पर्याय कोणता आहे ?

- A.22 \$ 11 @ 72 \$ 45 @ 65 @ 13 \$ 42 \$ 57
- B.118 \$ 17 @ 52 \$ 35 @ 156 \$ 104 @ 44 @ 37
- C.79 \$ 45 \$ 162 \$ 45 \$ 36 @ 103 \$ 42 \$ 17
- D.38 @ 107 @ 52 @ 35 @ 56 \$ 104 \$ 144 @ 7

Answer: B.118 \$ 17 @ 52 \$ 35 @ 156 \$ 104 @ 44 @ 37

Reference ID:(19985) 'पीयूष' या शब्दाचा समानार्थी शब्द ओळखा.

- A.अमृत
- B.निषाद
- C.प्रदोष

D.विषारी

Answer: A.अमृत

Reference ID:(32902) भारताची पहिली महिला बँक _____ या नावाने ओळखली जाते.

A.वूमेन्स बँक ऑफ इंडिया

B.महिला बँक ऑफ इंडिया

C.भारतीय महिला बँक

D.महिला स्टेट बँक ऑफ इंडिया

Answer: C.भारतीय महिला बँक

Reference ID:(17372) $9.75 + 3.5 + 4.25 - (9.25 - 5.50 - 4.75) = \underline{\quad}$

A.19.25

B.17.85

C.18.50

D.18.35

Answer: C.18.50

Reference ID:(29876) Pick the right antonym for the word:
pessimist

A.Optimist

B.Defeatist

C.Cynic

D.Worrier

Answer:

A.Optimist

Reference ID:(25184)

'धारोष्ण' या शब्दाचा खालीलपैकी योग्य संधी विग्रह ओळखा.

A. धार + उष्ण

B. धारो + उष्ण

C. धारा + ऊष्ण

D. धारा + उष्ण

Answer:

D. धारा + उष्ण

Reference ID:(28352)

Find the meaning of the highlighted word in the sentence: He assured her that he would be **discreet**

A.Cautious

B.Happy

C.Smart

D.Obliged

Answer:

A.Cautious

Reference ID:(20490)

जर N + I + C + E = 31 , Y + O + U = 61, तर K + N + O + W = ___?

A.63

B.65

C.66

D.64

Answer:

A.63

Reference ID:(22241)

खालीलपैकी सर्वात मोठा पर्याय कोणता आहे ?

A.152 - 65 - 32 + 74 + 105 - 93 + 42 + 37

B.48 + 17 + 52 + 35 - 156 - 104 + 34 + 74

C.19 - 15 - 42 + 45 + 36 - 103 + 42 + 507

D.144 - 67 - 52 + 35 - 56 + 104 - 44 - 13

Answer:

C.19 - 15 - 42 + 45 + 36 - 103 + 42 + 507

Reference ID:(19731)

"बावळी मुद्रा देवळी निद्रा" या म्हणीचा अर्थ खालीलपैकी कोणता ते ओळखा?

A.भोळसट दिसणारी व्यक्ती पण बावळट असते

B.दिसण्यात अतिशय बावळट पण व्यवहारात अतिशय चतूर असणारी व्यक्ती

C.जे लोक बावळट दिसतात ते फक्त देवळातच झोपू शकतात

D.देवळात झोपणारी माणसे ही बावळट चेहेरा करून झोपतात

Answer:

B.दिसण्यात अतिशय बावळट पण व्यवहारात अतिशय चतूर असणारी व्यक्ती

Reference ID:(23914)	खालीलपैकी विरुद्धार्थी शब्दाची बरोबर जोडी ओळखा.
	A.अग्र x टोक
	B.तारुण्य x यौवन
	C.कठोर x मृदू
	D.छंद x नाद
Answer:	C.कठोर x मृदू
Reference ID:(18969)	खालील शब्दाचा समास / समास प्रकार ओळखा. पुरुषोत्तम
	A.अव्ययीभाव
	B.द्वंद्व
	C.कर्मधारय
	D.बहुव्रीहि
Answer:	C.कर्मधारय
Reference ID:(27617)	Identify the figure of speech in the following sentence: I have waited forever for the new book to be published.
	A.Oxymoron
	B.Hyperbole
	C.Euphemism
	D.Metaphor
Answer:	B.Hyperbole

Reference ID:(26006)	पुढीलपैकी कोणते भारतातील जैव-भौगोलिक क्षेत्र नाही?
	A.ट्रांस हिमालय क्षेत्र
	B.निमकोरडे हवामान क्षेत्र
	C.गंगेचे मैदान क्षेत्र
	D.खाजण आणि बॅकवॉटर क्षेत्र
Answer:	D.खाजण आणि बॅकवॉटर क्षेत्र

Reference ID:(35162)	खाली दिलेल्या पत्त्यापैकी 3 पत्ते समान आहेत आणि 1 भिन्न आहे. कोणता पत्ता भिन्न ते ओळखा?
	A.Sector 12, Ahead G.C.E.R.T., Near Saurashtra kadva patel Samaj, Gandhinagar PH 0808030302
	B.Sector 12, Ahead G.C.E.R.T., Near Saurashtra kadva patel Samaj, Gandhinagar PH 0808030302
	C.Sector 12, Ahead G.C.E.R.T., Near Saurashtra kadva patal Samaj, Gandhinagar PH 0808030302
	D.Sector 12, Ahead G.C.E.R.T., Near Saurashtra kadva patel Samaj, Gandhinagar PH 0808030302
Answer:	C.Sector 12, Ahead G.C.E.R.T., Near Saurashtra kadva patal Samaj, Gandhinagar PH 0808030302

Reference ID:(27390)	Identify the figure of speech in the following sentence: The moon waved at the sun during dawn.
	A.Euphemism
	B.Oxymoron
	C.Personification
	D.Simile
Answer:	C.Personification
Reference ID:(29141)	Pick the right meaning of the highlighted word in the sentence: A king cobra is indigenous to India
	A.An alien person or thing
	B.Imported from someplace else
	C.An immigrant of some other place
	D.Native to a country or place
Answer:	D.Native to a country or place
Reference ID:(22595)	जर \$ आहे '+' आणि @ आहे '-', तर खालीलपैकी सर्वात मोठा पर्याय कोणता आहे ?
	A.52 @ 55 @ 32 \$ 75 \$ 105 @ 83 \$ 42 \$ 57
	B.48 @ 17 @ 52 \$ 35 @ 156 \$ 104 \$ 44 \$ 71
	C.19 \$ 15 @ 12 \$ 45 \$ 36 @ 103 \$ 42 \$ 107
	D.44 \$ 67 @ 52 @ 35 @ 56 \$ 104 @ 44 @ 13
Answer:	A.52 @ 55 @ 32 \$ 75 \$ 105 @ 83 \$ 42 \$ 57

Reference ID:(21452)

जर CLEMENTINE हा शब्द ZIBJBKQFKB असेल, तर DEWBERRIES हा शब्द _____ असेल.

A.ABYTBOOFBP

B.ABTYBOOFBP

C.ABTBYOOFBQ

D.ABTYBOOBFV

Answer:

B.ABTYBOOFBP

Reference ID:(20998)

मालिकेतील रिकामी जागा भरा: 8, 14, __, 50, 98

A.32

B.24

C.26

D.28

Answer:

C.26

Reference ID:(30384)

Find the meaning of the highlighted word in the sentence: They maintained a breathless **pace** for half an hour.

A.Humor

B.Temper

C.Tempo

D.Delay

Answer:

C.Tempo

Reference ID:(30638)

Convert the following active to passive voice: Have you finished the reports?

- A. Have reports been finished by you?
- B. Have the report been finished by you?
- C. Had you finished the report?
- D. Has the report been finished by you?

Answer:

D. Has the report been finished by you?

Reference ID:(26010)

डब्ल्यू.डब्ल्यू.एफ. (WWF) चे पूर्ण रूप _____ आहे

- A. वर्ल्ड वाईड फंड फॉर नेचर
- B. वर्ल्ड वाईड फाउंडेशन
- C. वर्किंग वर्ल्ड फंड
- D. वरीलपैकी काहीच नाही

Answer:

A. वर्ल्ड वाईड फंड फॉर नेचर

Reference ID:(31660)

सध्याचे केंद्रीय दक्षता आयुक्त कोण आहेत (1 एप्रिल 2019 नुसार)?

- A. रणजीत सिन्हा
- B. टी.एम. बहासिन
- C. अरविंद मायाराम
- D. के. व्ही. चौधरी

Answer:

D. के. व्ही. चौधरी

Reference ID:(30130)

Find the meaning of the highlighted word in the sentence: Diseases **inhibit** many things in a person.

A.Frees up

B.Clears

C.Hamper

D.Encourages

Answer:

C.Hamper

Reference ID:(28860)

Convert the simple sentence to a complex sentence: We need a house to live

A.A house to live is needed by us

B.We need a house where we can live

C.A house where we can live is needed by us

D.We need a house that can be lived in

Answer:

B.We need a house where we can live

Reference ID:(27009)

Select the correct passive voice form of the sentence: The physician will set the broken arm.

A.The broken arm will be set by the physician

B.The physician is setting the broken arm

C.Is the physician setting the broken arm?

D.The broken arm is being set by the physician

Answer:

A.The broken arm will be set by the physician

Reference ID:(30611)	Pick the correct meaning of the highlighted idiom: I am quite at sea about the choices of a career.
	A.To be sure of one's choices
	B.To be confident
	C.To be puzzled
	D.To feel worthless
Answer:	C.To be puzzled
Reference ID:(18461)	खालील वाक्यांचे मिश्र वाक्य बनवायचे असल्यास कोणता पर्याय योग्य आहे गुरुजी म्हणाले. पृथ्वी सुर्याभोवती फिरते.
	A.गुरुजी म्हणाले आणि पृथ्वी सुर्याभोवती फिरते.
	B.गुरुजी म्हणाले कारण पृथ्वी सुर्याभोवती फिरते.
	C.गुरुजी म्हणाले पण पृथ्वी सुर्याभोवती फिरते.
	D.गुरुजी म्हणाले की पृथ्वी सुर्याभोवती फिरते.
Answer:	D.गुरुजी म्हणाले की पृथ्वी सुर्याभोवती फिरते.
Reference ID:(30357)	Find the meaning of the highlighted word in the sentence: Her nimble fingers undid the knot in seconds.
	A.Daft
	B.Slow
	C.Soft
	D.Agile
Answer:	D.Agile

Reference ID:(23941)

खालीलपैकी विरुद्धार्थी शब्दाची चुकीची जोडी ओळखा.

A. श्रमजीवी x कष्टाळू

B. खरेदी x विक्री

C. नर x मादी

D. गुप्त x उघडा

Answer:

A. श्रमजीवी x कष्टाळू

Reference ID:(29395)

Pick the right meaning of the highlighted word in the sentence:
Dev seemed very **morose** and gloomy

A. To be sad about something

B. Showing unreal excitement about something

C. To be happy about something

D. To be scared about something

Answer:

A. To be sad about something

Reference ID:(34908)

जर $37 \times 22 = 118$, $26 \times 47 = 146$ आणि $19 \times 26 = 90$, तर $32 \times 43 = ?$

A. 107

B. 118

C. 150

D. 148

Answer:

C. 150

Reference ID:(27644)

Pick the correct meaning of the highlighted idiom or phrase from the following:
How did she **come by** that beautiful diamond ring?

A.To obtain

B.To meet by chance

C.To take place

D.To happen or occur

Answer:

A.To obtain

Reference ID:(17626)

42 च्या $\frac{1}{12}$ + 44 च्या 25% च्या 200% + $0.40 \times 140 = \underline{\hspace{2cm}}$

A.83

B.81.5

C.83.5

D.80.75

Answer:

B.81.5

Reference ID:(29368)

Pick the right meaning of the highlighted word in the sentence:
Cane is **pliable** when wet.

A.Something easily breakable

B.Something inelastic

C.Something which is easily flexible

D.Something which is very brittle

Answer:

C.Something which is easily flexible

Reference ID:(19477)	प्रश्नात दिलेल्या वाक्यचाराचा योग्य वापर असलेले वाक्य पर्यायांमधून ओळखा. पराचा कावळा करणे
	A.शिक्षिका वर्गातील लहान मुलांना कागदापासून पराचा कावळा कसा बनवायचा ते शिकवत होत्या.
	B.रात्रंदिवस काबाडकष्ट करून देखील शंकरच्या नशिबात पुरेसे पैसे मिळत नव्हते त्यामुळे त्याने पराचा कावळा केला.
	C.अपघातात मंदारने पराचा कावळा करीत गाडीवाल्याकडून खूप पैसे काढून घेतले.
	D.कावळा हा अतिशय हुशार पक्षी आहे त्यामुळे समाजात चलाख व्यक्तीला पराचा कावळा म्हटले जाते.

Answer: C.अपघातात मंदारने पराचा कावळा करीत गाडीवाल्याकडून खूप पैसे काढून घेतले.

Reference ID:(26007)	_____ हे भारतातील सर्वात मोठे किनाऱ्यालगतचे खाजण आणि जगातील दुसऱ्या क्रमांकाचे सर्वात मोठे खाजण आहे.
	A.चिल्का सरोवर, ओडिसा
	B.पुलिकत सरोवर, आंध्र प्रदेश
	C.पँगॉन्ग त्सो, लडाख
	D.सांभर खारे सरोवर, राजस्थान

Answer: A.चिल्का सरोवर, ओडिसा

Reference ID:(16891)	$8/20 + 0.5 - 5/40 = ?$
	A.1.025
	B.0.775
	C.1.175
	D.0.875

Answer: B.0.775

Reference ID:(24930) पुढील शब्दसमूहासाठी योग्य शब्द निवडा.
म्हाताच्या व लंगड्यालुब्ध्या गुरांना पाळण्याचे ठिकाण

A.पांगुळगाडा

B.पांजरपोळ

C.चावडी

D.धर्मशाळा

Answer: B.पांजरपोळ

Reference ID:(31658) भारत सरकारकडून राजस्थान मधील कोणते ठिकाण "चित्ता पुनरुत्पादन योजना" (Cheetah Reintroduction Scheme) साठी निवडले आहे?

A.नाहरगढ

B.शेरगढ

C.रामगढ

D.शहागढ

Answer: D.शहागढ

Reference ID:(22569) खालीलपैकी सर्वात लहान पर्याय कोणता आहे ?

A.15 - 22 + 65 - 42 - 62 + 103 - 45 - 27

B.18 - 17 + 25 - 32 + 26 - 104 + 44 + 37

C.19 - 12 + 165 - 42 - 36 - 103 - 45 - 17

D.38 - 107 + 25 + 32 + 26 - 104 + 44 + 37

Answer: C.19 - 12 + 165 - 42 - 36 - 103 - 45 - 17

Reference ID:(28379) Find the word opposite in meaning to the word: **Feisty**

A.Spirited

B.Cowardly

C.Bubbly

D.Excitable

Answer: B.Cowardly

Reference ID:(20971) मालिकेतील रिकामी जागा भरा: __, M, T, W, T, F, S, S

A.S

B.F

C.W

D.T

Answer: A.S

Reference ID:(26004) भारतातील खालीलपैकी कोणते जीवावरण राखीव क्षेत्र नाही?

A.कंचनजंगा

B.संजय गांधी राष्ट्रीय उद्यान

C.सिमलीपाल

D.अचानकमार – अमरकंटक

Answer:

B.संजय गांधी राष्ट्रीय उद्यान

Reference ID:(24903)

पुढील शब्दसमूहासाठी योग्य शब्द निवडा.
ज्याला कशाची उपमा देता येत नाही

A.अनुरूप

B.रुपेंद्र

C.अनुपम

D.उपमन्यु

Answer:

C.अनुपम

Reference ID:(19250)

"जीभ चाचरणे" या वाकप्रचाराचा अचूक आणि नेमका अर्थ ओळखा.

A.आंबट कैरी खाऊन माझी जीभ चाचरली

B.आपल्या वरिष्ठ अधिकाऱ्याची चूक आहे हे निदर्शनास त्यांच्या हाताखालील कनिष्ठ कर्मचाऱ्याची जीभ चाचरली

C.आपला जवळचा नातेवाईक अपघातात जखमी झाल्याचे समजल्यावर रुपाची जीभ चाचरली

D.तिखट लोणचे खाऊन माझी जीभ चाचरली

Answer:

B.आपल्या वरिष्ठ अधिकाऱ्याची चूक आहे हे निदर्शनास त्यांच्या हाताखालील कनिष्ठ कर्मचाऱ्याची जीभ चाचरली

Reference ID:(18488)	मुलांनी कुत्र्याला मारले. या वाक्यातील प्रयोग कोणता?
	A.सकर्मक कर्तरी
	B.अकर्मक कर्तरी
	C.कर्मणी
	D.भावे
Answer:	D.भावे
Reference ID:(23660)	खालीलपैकी समानार्थी शब्दाची चुकीची जोडी ओळखा
	A.ठग – चोर
	B.झाड – तरु
	C.खेडे – गाव
	D.ऋतू – संकट
Answer:	D.ऋतू – संकट
Reference ID:(31653)	पुढीलपैकी कोणत्या राज्यात पहिले आधार कार्ड जारी करण्यात आले?
	A.गुजरात
	B.महाराष्ट्र
	C.मध्य प्रदेश
	D.उत्तर प्रदेश
Answer:	B.महाराष्ट्र

Reference ID:(18742)

पुढीलपैकी साध्या वर्तमानकाळातील नसलेले वाक्य ओळखा.

A.मी आंबा खातो.

B.तो क्रिकेट खेळतो.

C.ती क्रिकेट खेळत आहे.

D.आम्ही अभ्यास करतो.

Answer:

C.ती क्रिकेट खेळत आहे.

Reference ID:(18234)

जाइन सोडुन ह्या जगताला,
ठेवुन हा मधुकोश तुम्हांला
तोंवर आड नका मज होऊं ।
पाप नका कुणी हे शिरि घेऊं।

वरील ओळीतील वृत्त कोणते?

A.भुजंगप्रयात

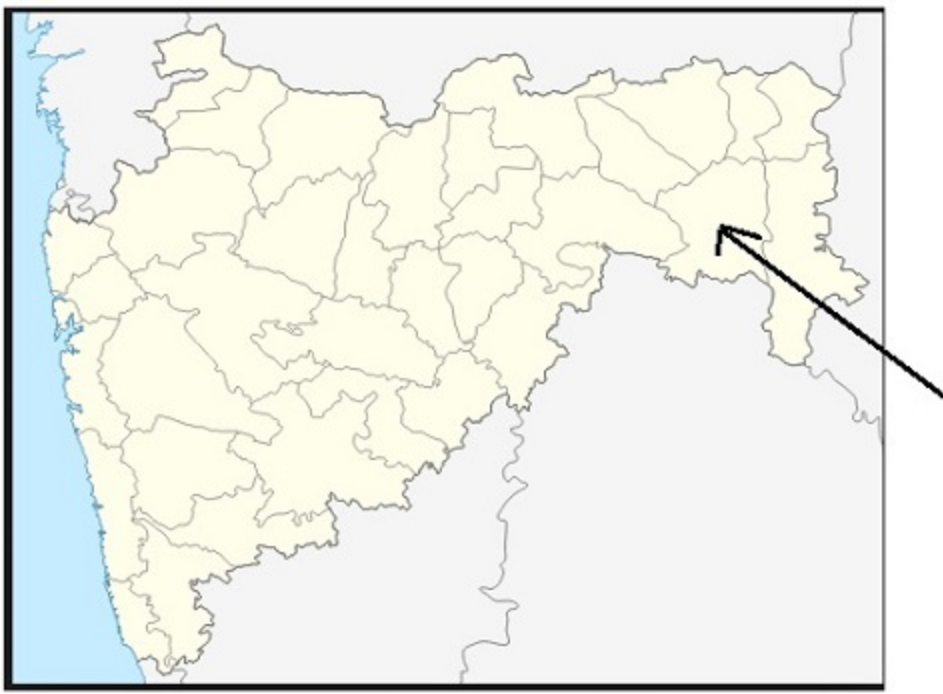
B.पादाकुलक

C.वसंततिलका

D.नववधू

Answer:

B.पादाकुलक



महाराष्ट्रातील नकाशात बाणने दर्शविलेला जिल्हा खालीलपैकी कोणता आहे?

A. गोंदीया

B. हिंगोली

C. चंद्रपूर

D. जळगाव

Answer:

C. चंद्रपूर

खालीलपैकी व्याकरणाच्या दृष्टीने अशुद्ध शब्द-लेखन असलेला शब्द ओळखा.

A. दुरभीमान

B. दूरदर्शन

C. मनमिळाऊ

D. दीपमाळ

Answer: A.दुरभीमान

Reference ID:(20717) जर US = 80, R E D = 54, A W A Y = 100, तर C L O S E = __?

A.106

B.108

C.107

D.105

Answer: B.108

Reference ID:(30103) Pick the right antonym for the word:
dreary

A.Bright

B.Useless

C.Satisfied

D.Skeptical

Answer: A.Bright

Reference ID:(26003) भारतातील हजारीबाग राष्ट्रीय उद्यान खालीलपैकी कशासाठी प्रसिद्ध आहे?

A.पांढरा गेंडा

B.वाघ

C.बगळे

D.हत्ती

Answer:	B.वाघ
Reference ID:(18715)	तुमचा मुलगा अभ्यास करत नाही. या वाक्याचा काळ ओळखा. A.साधा वर्तमानकाळ B.साधा भूतकाळ C.अपूर्ण वर्तमानकाळ D.अपूर्ण भूतकाळ
Answer:	C.अपूर्ण वर्तमानकाळ
Reference ID:(19958)	पुढील विधानाला जी म्हण योग्य असेल असा पर्याय ओळखा: सुमाने तिची मैत्रीण रीमा हिला पैशाची मदत केली होती. बाकी बायकांना सुमा तापट स्वभावाची वाटे. पण रीमा '....' या नियमाप्रमाणे सुमाचे कौतुकच करी. A.ज्याचे करावे भले तो म्हणतो माझेच खरे B.देखल्या देवा दंडवत C.ज्याची खावी पोळी, त्याची वाजवावी टाळी D.सारी सोंगे करता येतात पण पैशाचे सोंग आणता येत नाही
Answer:	C.ज्याची खावी पोळी, त्याची वाजवावी टाळी
Reference ID:(17145)	$18.5 + 5.5 + 12 + 6.25 - (3.25 - 6.55 + 4.75) = \underline{\hspace{2cm}}$ A.40.80 B.40.15 C.40.05

D.40.65

Answer: A.40.80

Reference ID:(20463) X चे दक्षिण पश्चिम दिशेला तोंड आहे. तो 90 अंश डावीकडे वळतो. मग तो 70 अंश उजवीकडे वळतो. मग तो 180 अंश वळतो. मग तो 90 अंश उजवीकडे वळतो. शेवटी तो डावीकडे 25 अंश वळतो. आता तो कोणत्या दिशेला तोंड करून उभा आहे?

A.पश्चिम

B.दक्षिण

C.पूर्व

D.उत्तर

Answer: C.पूर्व

Reference ID:(32904) अकबरचे चरित्र 'अकबरनामा' कोणत्या भाषेत लिहिले गेले आहे?

A.फारसी

B.हिंदी

C.संस्कृत

D.उर्दू

Answer: A.फारसी

Reference ID:(31655) पुढीलपैकी कोणती गंगा नदीची वितरिका आहे आणि ती नदी बांगलादेशात वाहते?

A.पद्मा

B.भागीरथी

C.चंदपुर

D.मंदाकिनी

Answer: A.पद्मा

Reference ID:(28125) Find the meaning of the highlighted word in the sentence: The children cut a **cap**er in the yard.

A.Stayed calm

B.Subdued

C.Song

D.Mischief

Answer: D.Mischief

Reference ID:(26008) भोपाळ वायू दुर्घटना ही _____ गळतीचा परिणाम होता.

A.मिथाईल आयसोसायनाईट

B.मिथेन

C.लिक्रिड नायट्रोजन

D.कार्बन डायॉक्साईड

Answer: A.मिथाईल आयसोसायनाईट

Reference ID:(17399) $3.25 + 2.55 + 5.75 - (5.25 - 8.75 + 2.25) = \underline{\hspace{2cm}}$

A.11.65

B.11.55

C.12.15

D.12.80

Answer: D.12.80

Reference ID:(34935) जर सांकेतिक भाषेत 432567 हे 523476 आहे , तर 458872 हे सांकेतिक भाषेत काय असेल?

A.548781

B.549881

C.549781

D.549771

Answer: C.549781

Reference ID:(16510) सहा जण बिनॉय, चारु, अॅलेक्स, डॅनी, एलन आणि फिरोज हे दोन रांगामध्ये एकमेकांकडे तोंड करून बसले आहेत. दोन्ही रांगामध्ये प्रत्येकी तीन जण आहेत. एलन हा कोणत्याही रांगेच्या शेवटी बसलेला नाही. डॅनी हा फिरोजच्या डावीकडे दुसऱ्या क्रमांकावर आहे. एलनचा शेजारी बसलेला अॅलेक्स हा डॅनीच्या कर्णाभिमुख आहे. चारु हा फिरोजच्या शेजारी आहे. एलन आणि चारुची जागेची अदलाबदल केल्यानंतर नव्या ठिकाणी एलनचा शेजारी कोण असतील?

A.अॅलेक्स आणि बिनॉय

B.फिरोज आणि बिनॉय

C.अॅलेक्स आणि फिरोज

D.वरीलपैकी काहीही नाही

Answer: D.वरीलपैकी काहीही नाही

Reference ID:(27036)

Find the word opposite in meaning to the word: Ridicule

A.Throw

B.Appease

C.Praise

D.Pick up

Answer:

C.Praise

Reference ID:(32901)

"गोल्डन हैंडशेक योजना" शी संबंधित आहे.

A.स्वयंसेवी सेवानिवृत्ती

B.भारतीय स्वर्ण विक्रेता

C.सोन्याचा व्यापार वाढविणे

D.भारतात परदेशी सोन्याचे विक्रेता

Answer:

A.स्वयंसेवी सेवानिवृत्ती

Reference ID:(20236)

एक माणूस त्याच्या घरापासून पश्चिम दिशेने 7 कि.मी. चालतो.
मग तो डावीकडे वळतो आणि 4 कि.मी. चालतो.
मग तो उजवीकडे वळतो आणि 1 कि.मी. चालतो.
मग तो उजवीकडे वळतो आणि 7 कि.मी. चालतो.
मग तो उजवीकडे वळतो आणि 4 कि.मी. चालतो.
मग तो उजवीकडे वळतो आणि 3 कि.मी. चालतो.
तो त्याच्या घरापासून किती दूर आहे?

A.4 कि.मी.

B.3.5 कि.मी.

C.2 कि.मी.

D.2.5 कि.मी.

Answer:	A.4 कि.मी.
Reference ID:(26009)	बायोस्फियर रिजर्व _____ साठी केंद्र म्हणून कार्य करतात.
	A.फक्त परिस्थितिकी संशोधन
	B.फक्त निवासस्थान संरक्षण
	C.दोन्ही परिस्थितिकी संशोधन आणि निवासस्थान संरक्षण
	D.वरीलपैकी काहीच नाही
Answer:	C.दोन्ही परिस्थितिकी संशोधन आणि निवासस्थान संरक्षण
Reference ID:(30892)	Identify the figure of speech in the following sentence: The actor, due to his behavior, has become an extremely unpopular celebrity.
	A.Simile
	B.Oxymoron
	C.Metaphor
	D.Euphemism
Answer:	B.Oxymoron
Reference ID:(23433)	'पवित्र' या शब्दाचा समानार्थी शब्द ओळखा.
	A.पुनीत

B.अशुद्ध

C.अर्चन

D.पर्ण

Answer: A.पुनीत

Reference ID:(21479) जर A = 1, B = 2,M = 13; आणि N = 13, O = 12, Z = 1, तर खालील पैकी कोणते पर्याय बरोबर आहे?

A.{J + A + Y} > {B + U + S}

B.{J + A + Y} = {B + U + S}

C.{J + A + Y} < {B + U + S}

D.{J + A + Y} = {B + O + Y}

Answer: C.{J + A + Y} < {B + U + S}

Reference ID:(29114) Fill in the blanks with the correct form of future continuous or future perfect tense: Don't you think she _____ into trouble if she agrees to marry Sameer.

A.Will be getting

B.Would getting

C.Is getting

D.Got

Answer: A.Will be getting

Reference ID:(21706)

जर A = 1, B = 2, C = 3, Z = 26, तर खालील पैकी कोणते पर्याय बरोबर आहे?

A. $\{B + U + S\} = \{D + O + C + K\}$

B. $\{B + U + S\} < \{D + O + C + K\}$

C. $\{B + U + S\} > \{D + O + C + K\}$

D. $\{D + O + C + K\} = \{D + O + G\}$

Answer:

C. $\{B + U + S\} > \{D + O + C + K\}$

Reference ID:(24422)

खालीलपैकी व्याकरणाच्या दृष्टीने शुध्द वाक्याचा पर्याय निवडा.

A. ती बातमी ऐकून माझ्या आनंदावर विरजण पडले.

B. सुधाविषयी तिच्या मनात चांगली भावणा नव्हती.

C. बाईंनी माझे शंकानिरसण चांगल्या पद्धतीने केले.

D. मी शणिवारी मारुतीच्या देवळात जातो.

Answer:

A. ती बातमी ऐकून माझ्या आनंदावर विरजण पडले.

Reference ID:(32698)

राष्ट्रीय साखर संस्था [एनएसआय] (National Sugar Institute) _____ मध्ये स्थित आहे.

A. वाराणसी

B. नवी दिल्ली

C. कानपूर

D. लखनऊ

Answer:	C.कानपूर
Reference ID:(18207)	गगनाकडे पहाता झाली बहुता जनासि अभ्रमती । तेव्हा पक्षी बाणव्याप्ताकाशोदरात न भ्रमती ॥ वरील काव्यपंक्तीमधील अलंकार कोणता.
	A.उत्प्रेक्षा
	B.भ्रंतिमान
	C.व्यतिरेक
	D.अपन्हृती
Answer:	B.भ्रंतिमान
Reference ID:(30865)	Identify the figure of speech in the following sentence: The computers in our school are as old as dinosaurs.
	A.Oxymoron
	B.Simile
	C.Metaphor
	D.Apostrophe
Answer:	C.Metaphor
Reference ID:(28633)	Pick the right idiom which fits into the sentence: He opposed the new rule of the society _____
	A.In black and white
	B.Through the nose
	C.And split his hair

D.Tooth and nail

Answer: D.Tooth and nail

Reference ID:(20744) जर AE = 13, ACE = 123, तर 1115 _____ असू शकते

A.UIA

B.UAI

C.AAAE

D.UAE

Answer: B.UAI

Reference ID:(32699) "भारत कला भवन" हे संग्रहालय येथे स्थित आहे.

A.नवी दिल्ली

B.वाराणसी

C.जयपूर

D.आग्रा

Answer: B.वाराणसी

Reference ID:(31659) भारतीय संविधानातील पुढीलपैकी कोणते वैशिष्ट्य जर्मनीकडून घेण्यात आले आहे?

A.आपत्कालीन काळात मुलभूत अधिकारांचे निलंबन

B.राष्ट्रपती पदाच्या निवडणुकीची व्यवस्था

C.राज्य धोरणाची निर्देशक तत्त्वे

D.एक मजबूत केंद्र असलेले संघराज्य

Answer:	A.आपत्कालीन काळात मुलभूत अधिकारांचे निलंबन
Reference ID:(27871)	Pick the correct meaning of the highlighted idiom or phrase from the following: He is at his wits end and doesn't know how to handle the matter
	A.To be confused
	B.To not think smartly
	C.A person of low wit
	D.Assume the worst in a situation
Answer:	A.To be confused
Reference ID:(25157)	समूहदर्शक शब्द ओळखा. जसा पक्ष्याचा थवा तसा हरणाचा _____.
	A.कुंज
	B.भारा
	C.कळप
	D.संच
Answer:	C.कळप
Reference ID:(25411)	'गंगोदक' या शब्दाचा खालीलपैकी योग्य संधी विग्रह ओळखा.
	A.गंगा + उदक
	B.गंगा + दक
	C.गंगो + उदक

D.गंगा + ऊदक

Answer: A.गंगा + उदक

Reference ID:(19704) पुढील म्हण पूर्ण करण्यासाठी योग्य पर्याय निवडा. चोराची पावले

A.पोलीसालाच ठाऊक

B.कुत्र्यालाच ठाऊक

C.चोरालाच ठाऊक

D.अंधाराला ठाऊक

Answer: C.चोरालाच ठाऊक

Reference ID:(24168) खालीलपैकी व्याकरणाच्या दृष्टीने शुद्ध शब्द-लेखन असलेला शब्द ओळखा.

A.अग्नीहोत्री

B.अग्निहोत्री

C.अग्नीहोत्रि

D.आग्निहोत्री

Answer: B.अग्निहोत्री

Reference ID:(23687) 'वात्रट' या शब्दाचा विरुद्धार्थी शब्द ओळखा.

A.चहाटळ

B.आगाऊ

C.सद्गुणी

D.पोरकट

Answer:

C.सद्गुणी

Reference ID:(24449)

प्रश्नातील वाक्यात रिकामी जागा भरण्यास सर्वात योग्य शब्द निवडा.
योग्य काळजी घेतल्यामुळे आंदोलनाला कोणतेही लागले नाही.

A.गालबोट

B.सुरवंट

C.कडीपाट

D.कणवट

Answer:

A.गालबोट

Reference ID:(17880)

X हा Y च्या 2% आहे. मग Y हा X च्या _____ % आहे.

A.500

B.1000

C.5000

D.4000

Answer:

C.5000

Reference ID:(21225)

जर BROCCOLI हा शब्द BCCILLOOR असेल आणि BOWEL हा शब्द BELOW असेल, तर
BLACKJACK हा शब्द _____ असेल.

A.AACCBKKJL

B.AABCCJKKL

C.AABCCKKJL

D.BAACCKKJL

Answer: B.AABCCJKKL

Reference ID:(28887) Supply the correct tense of the verb in the sentence: Deepak ____ to join the medical college, but he ____ to get admission.

A.Had wanted..... failed

B.Wants..... had failed

C.Had wanted..... fails

D.Wants..... is failing

Answer: A.Had wanted..... failed

Reference ID:(32700) मानवी दूध बँक 'जीवन धारा' चालवणारे सर्वप्रथम राज्य कोणते आहे?

A.पंजाब

B.महाराष्ट्र

C.राजस्थान

D.गुजरात

Answer: C.राजस्थान

Question Paper Title : FG_05

Date of Exam : 11-06-2019 10:00 AM

Reference ID:(29619) Pick the Synonym for the word:
corporal

A.Physical

B.Mental

C.Immaterial

D.Ethereal

Answer: A.Physical

Reference ID:(23684) 'अरी' या शब्दाचा विरुद्धार्थी शब्द ओळखा.

A.अमृत

B.अनोळखी

C.सखा

D.सुरी

Answer: C.सखा

Reference ID:(30608) Pick the correct meaning of the highlighted idiom: I cannot follow you on this **wild goose chase** .

A.Follow someone blindly

B.Chasing a wild animal

C.A foolish adventure

D.Partner with someone for an activity

Answer: C.A foolish adventure

Reference ID:(21703) जर A = 1, B = 2, C = 3, Z = 26, तर खालील पैकी कोणते पर्याय बरोबर आहे?

A. $\{T + R + Y\} = \{J + A + C + K\}$

B. $\{T + R + Y\} < \{J + A + C + K\}$

C. $\{T + R + Y\} > \{J + A + C + K\}$

D. $\{J + A + C + K\} = \{C + A + R\}$

Answer: C. $\{T + R + Y\} > \{J + A + C + K\}$

Reference ID:(17369) $4.55 + 5.35 + 3.5 - (4.5 - 2.75 - 2.25) = \underline{\hspace{2cm}}$

A.13.55

B.14.15

C.13.90

D.13.65

Answer: C.13.90

Reference ID:(22820)	जर \$ आहे '+' आणि @ आहे '-', तर खालीलपैकी सर्वात लहान पर्याय कोणता आहे ?
	A.125 @ 62 @ 35 \$ 74 \$ 102 @ 93 \$ 45 \$ 37
	B.48 \$ 17 \$ 25 \$ 32 @ 126 @ 104 \$ 34 \$ 74
	C.19 @ 12 @ 45 \$ 42 \$ 36 @ 103 \$ 45 \$ 207
	D.144 @ 67 @ 25 \$ 32 @ 26 \$ 104 @ 44 @ 13

Answer: B.48 \$ 17 \$ 25 \$ 32 @ 126 @ 104 \$ 34 \$ 74

Reference ID:(25779)	शेकरू हा महाराष्ट्राचा राज्यप्राणी प्रामुख्याने खालीलपैकी कोणत्या वन्यजीव अभयारण्यामध्ये पाहावयास मिळतो?
	A.भीमाशंकर, पुणे
	B.यावल, जळगाव
	C.सागरेश्वर, सांगली
	D.कर्नाळा, रायगड

Answer: A.भीमाशंकर, पुणे

Reference ID:(25776)	धोक्यात असलेल्या प्रजातींची लाल सूची _____ द्वारे प्रकाशित केली जाते.
	A.डब्ल्यू. एच. ओ.
	B.युनिसेफ
	C.आय.यु.सी.एन.
	D.इस्मो

Answer: C.आय.यु.सी.एन.

Reference ID:(31431)

खालीलपैकी कोणती व्यक्ती प्रसिद्ध बॅडमिंटन खेळाडू नाही?

A.सानिया मिर्झा

B.पी व्ही सिंधू

C.सायना नेहवाल

D.एन. सिक्की रेड्डी

Answer:

A.सानिया मिर्झा

Reference ID:(25778)

पृथ्वीचा ७१% पृष्ठभाग _____ ने व्यापलेला आहे.

A.पाणी

B.जमीन

C.वनस्पती

D.वरीलपैकी काहीच नाही

Answer:

A.पाणी

Reference ID:(31433)

महाराष्ट्रात येलदरी हे धरण खालीलपैकी कोणत्या जिल्ह्यात आहे ?

A.परभणी

B.सोलापूर

C.पुणे

D.औरंगाबाद

Answer:

A.परभणी

Reference ID:(18204)	" जन पळभर म्हणतील हाय हाय " ह्या कवीवर्य भा. रा. तांबेंच कवितेतिल ओळींत खालीलपैकी कोणता अलंकार वापरला आहे.
	A.भ्रंतिमान
	B.स्वभावोक्ती
	C.अर्थान्तरन्यास
	D.उत्प्रेक्षा
Answer:	C.अर्थान्तरन्यास
Reference ID:(29873)	Pick the right antonym for the word: Lenient
	A.Tough
	B.Merciful
	C.Soft
	D.Hateful
Answer:	A.Tough
Reference ID:(16861)	जर @ आहे 'भागाकार' आणि \$ आहे 'गुणाकार', तर खालीलपैकी सर्वात लहान पर्याय कोणता आहे?
	A.24@5

B.1.5\$4.25

C.29@4

D.3\$2.5

Answer: A.24@5

Reference ID:(20968) मालिकेतील रिकामी जागा भरा: J, __, M, A, M, J, J, A, S

A.F

B.J

C.S

D.A

Answer: A.F

Reference ID:(23430) 'कावळा' या शब्दाचा समानार्थी शब्द ओळखा.

A.एकाक्ष

B.वैताग

C.चक्षु

D.वावटळ

Answer: A.एकाक्ष

Reference ID:(21249)	जर OWL हा शब्द NVK असेल आणि TABLE हा शब्द SZAKD असेल, तर HAZZAN हा शब्द _____ असेल.
	A.YYZMZG
	B.GZZYYM
	C.GZYYZM
	D.YYZZMG
Answer:	C.GZYYZM
Reference ID:(31426)	'चंबळ' नदी भारतातील कोणत्या राज्यात उगम पावते?
	A.मध्य प्रदेश
	B.आंध्र प्रदेश
	C.हिमाचल प्रदेश
	D.अरुणाचल प्रदेश
Answer:	A.मध्य प्रदेश
Reference ID:(34932)	जर सांकेतिक भाषेत 432567 हे 523476 आहे , तर 876984 हे सांकेतिक भाषेत काय असेल?
	A.967783
	B.977893
	C.967893
	D.977883
Answer:	C.967893

Reference ID:(16888)	$8/20 + 0.75 - 5/40 = ?$
	A.2.975
	B.1.025
	C.0.875
	D.1.55
Answer:	B.1.025
Reference ID:(19220)	नक्राश्रु ढालणे. या वाक्प्रचाराचा खालीलपैकी कोणता अर्थ योग्य आहे?
	A.खोटे दुः ख दाखवणे.
	B.घमेंड जिरणे.
	C.याचना करणे.
	D.खोटी स्तुती करणे.
Answer:	A.खोटे दुः ख दाखवणे.
Reference ID:(30889)	Identify the figure of speech in the following sentence: He was a real passive aggressive personality.
	A.Euphemism
	B.Personification
	C.Oxymoron

D.Apostrophe

Answer: C.Oxymoron

Reference ID:(19474) प्रश्नात दिलेल्या वाक्प्रचाराचा योग्य वापर असलेले वाक्य पर्यायांमधून ओळखा. चिडीचूप होणे

A.अचानक सुषमाच्या घरासमोरील झाडावर बसलेल्या चिमण्या व इतर पक्षी चिडीचूप करू लागले.

B.मास्तरांनी छडी दाखवल्यावर वर्गातील सर्व मुले व मुली चिडीचूप झाली.

C.पावसाचे थेंब हलके हलके पडताना चिडीचूप आवाज करत होते.

D.दिवाळीच्या सणानिमित्त सर्व मुले फटाके फोडताना चिडीचूप होऊन बागडत होती.

Answer: B.मास्तरांनी छडी दाखवल्यावर वर्गातील सर्व मुले व मुली चिडीचूप झाली.

Reference ID:(18485) खालीलपैकी नवीन कर्मणी प्रयोग नसलेले वाक्य ओळखा

A.पोलिसाकडून चोर पकडला गेला.

B.रामाकडून रावण मारला गेला.

C.सभेत पत्रके वाटली गेली

D.मुलाने बैलास मारले.

Answer: D.मुलाने बैलास मारले.

Reference ID:(22566) खालीलपैकी सर्वात लहान पर्याय कोणता आहे ?

A.52 - 55 - 32 + 75 + 105 - 83 + 42 + 57

B.48 - 17 - 52 + 35 - 156 + 104 + 44 + 71

C.19 + 15 - 12 + 45 + 36 - 103 + 42 + 107

D.44 + 67 - 52 - 35 - 56 + 104 - 44 - 13

Answer:

D.44 + 67 - 52 - 35 - 56 + 104 - 44 - 13

Reference ID:(24700)

पुढील शब्दसमूहासाठी योग्य शब्द निवडा.
मोजकाच आहार घेणारा

A.खादाड

B.कूपमंडूक

C.मितभोजक

D.अधाशी

Answer:

C.मितभोजक

Reference ID:(24673)

प्रश्नातील वाक्यात रिकामी जागा भरण्यास सर्वात योग्य शब्द निवडा.
पॅलेस्टाईनच्या राजाचा शेजारील राष्ट्रावर छुपा हल्ला करण्याचाहोता.

A.पारंबा

B.मुरांबा

C.मनसुबा

D.मनखुरा

Answer:

C.मनसुबा

Reference ID:(20714)

जर OK = 52, C A T = 48, M A C E = 44, तर H U R R Y = ___?

A.182

B.179

C.180

D.183

Answer:

C.180

Reference ID:(25771)

योग्य जोड्या जुळवा.

दलदली प्रदेश

i. होकेरा

ii. कांजली

iii. रुद्रसागर

iv. लोकटक

राज्य

A. त्रिपूरा

B. अरुणाचल प्रदेश

C. जम्मू-काश्मिर

D. मणिपूर

E. पंजाब

A.i-C , ii-E , iii-A , iv-D

B.i-C , ii-E , iii-B , iv-A

C.i-E , ii-C , iii-A , iv-D

D.i-E , ii-C , iii-B , iv-A

Answer:

A.i-C , ii-E , iii-A , iv-D

Reference ID:(30381)

Find the meaning of the word:: **Pace**

A.Hinder

B.Halt

C.Stride

D.Slow

Answer:

C.Stride



महाराष्ट्रातील नकाशात बाणने दर्शविलेला जिल्हा खालीलपैकी कोणता आहे?

A. रत्नागिरी

B. सांगली

C. जालना

D. कोल्हापूर

Answer:

D. कोल्हापूर

Reference ID:(27868)

Pick the correct meaning of the highlighted idiom or phrase from the following:
With the new job and looking after the house, Seema was **biting more than she could chew**

A. Taking on more responsibility than one can handle

B. Assuming a lot more than was told

C. Trying to make extra money

D.Making most of the situation

Answer: A.Taking on more responsibility than one can handle

Reference ID:(23911) खालीलपैकी विरुद्धार्थी शब्दाची बरोबर जोडी ओळखा.

A.बोलका x गप्पिष्ठ

B.हुबेहूब x नक्कल

C.कृपा x दया

D.समक्ष x अपरोक्ष

Answer: D.समक्ष x अपरोक्ष

Reference ID:(18993) खालील शब्दाचा समास / समास प्रकार ओळखा.
सशक्त

A.अव्ययीभाव

B.कर्मधारय

C.सहबहुव्रीहि

D.तत्पुरुष

Answer: C.सहबहुव्रीहि

Reference ID:(17623) 54 च्या $\frac{1}{12}$ + 70 च्या 40% च्या 200% + $0.30 \times 120 = \underline{\hspace{2cm}}$

A.98

B.96.5

C.98.5

D.95.75

Answer: B.96.5

Reference ID:(18739) कृष्णाने गोवर्धन पर्वत उचलला. ह्या वाक्याचा काळ ओळखा.

A.पूर्ण वर्तमानकाळ

B.साधा वर्तमानकाळ

C.पूर्ण भूतकाळ

D.साधा भूतकाळ

Answer: D.साधा भूतकाळ

Reference ID:(19955) पुढील विधानाला जी म्हण योग्य असेल असा पर्याय ओळखा:
गुरुजींनी मुलांना शाळेत स्वच्छता राखण्यास सांगितली व स्वतः शाळेचा परिसर झाडून साफ केला.
गुरुजींकडे पाहून मनात येते -

A.बोलेल तो करील काय अन् गर्जेल तो पडेल काय?

B.जसे करावे तसे भरावे

C.जावे त्याच्या वंशा तेव्हा कळे

D.बोले तैसा चाले त्याची वंदावी पावले

Answer: D.बोले तैसा चाले त्याची वंदावी पावले

Reference ID:(21476) जर A = 1, B = 2,M = 13; आणि N = 13, O = 12, Z = 1, तर खालील पैकी कोणते पर्याय बरोबर आहे?

A.{R + E + D} < {B + U + G}

B.{R + E + D} = {B + U + G}

C.{R + E + D} > {B + U + G}

D.{R + E + D} = {S + H + E}

Answer: C.{R + E + D} > {B + U + G}

Reference ID:(32672) 'घूमर' हे लोकप्रिय लोकनृत्य भारताच्या कोणत्या राज्याचे आहे?

A.हरियाणा

B.पंजाब

C.उत्तर प्रदेश

D.राजस्थान

Answer: D.राजस्थान

Reference ID:(27360) Identify the figure of speech in the following sentence: I am so thirsty that my throat is as dry as a bone.

A.Personification

B.Metaphor

C.Simile

D.Euphemism

Answer: C.Simile

Reference ID:(31432) भारताच्या पहिल्या महिला मुख्यमंत्री कोण होत्या?

A.सुचेता कृपलानी

B.राबडीदेवी

C.रेणुका चौधरी

D.अमृत कौर

Answer: A.सुचेता कृपलानी

Reference ID:(35159) खाली दिलेल्या पत्त्यापैकी 3 पत्ते समान आहेत आणि 1 भिन्न आहे. कोणता पत्ता भिन्न ते ओळखा?

A.8/32 Hindustan Petroleum corporation limited
2nd floor, 6 church lane
BBD Bagh
PH 0709308060

B.8/32 Hindustan Petroleum corporation limited
2nd floor, 6 church lane
BBD Bahg
PH 0709308060

C.8/32 Hindustan Petroleum corporation limited
2nd floor, 6 church lane
BBD Bagh
PH 0709308060

D.8/32 Hindustan Petroleum corporation limited
2nd floor, 6 church lane
BBD Bagh
PH 0709308060

Answer: B.8/32 Hindustan Petroleum corporation limited
2nd floor, 6 church lane
BBD Bahg
PH 0709308060

Reference ID:(24165) खालीलपैकी व्याकरणाच्या दृष्टीने शुद्ध शब्द-लेखन असलेला शब्द ओळखा.

A.नवीन्य

B.नाविण्य

C.नावीन्य

D.नवीण्य

Answer: C.नवीन्य

Reference ID:(27895) Find the meaning of the word:: Alibi

A.Question

B.Denial

C.Defense

D.Request

Answer: C.Defense

Reference ID:(28884) Supply the correct tense of the verb in the sentence: I wish our people ___ not so cruel. I wish they ___ more sympathy.

A.Were..... had

B.Was..... have

C.Were..... have

D.Was..... had

Answer: A.Were..... had

Reference ID:(19701) पुढील म्हण पूर्ण करण्यासाठी योग्य पर्याय निवडा. गाय व्याली

A.बैल झाली

B.वाघ झाली

C.शिंगी झाली

D.शेळी झाली

Answer: C.शिंगी झाली

Reference ID:(18458) खालील वाक्यांचे मिश्र वाक्य बनवायचे असल्यास कोणते अव्यय वापरणे योग्य ठरेल ?
विठ्ठल परीक्षेत उत्तीर्ण झाला. त्याने प्रामाणिकपणे अभ्यास केला होता.

A.कारण

B.पण

C.म्हणून

D.आणि

Answer: A.कारण

Reference ID:(20741) जर WO = 11575, W H A T = 115405100, तर W A S H = ___?

A.1155954

B.11559540

C.231198

D.51108

Answer: B.11559540

Reference ID:(31429) भारतातील मुख्य माहिती आयुक्त आणि माहिती आयुक्तांची नियुक्ती समितीचे अध्यक्ष कोण आहेत?

A.भारताचे मुख्य न्यायाधीश

B.पंतप्रधान

C. गृहमंत्री

D. राष्ट्रपती

Answer: B. पंतप्रधान

Reference ID:(32668) मध्यवर्ती ऊस संशोधन केंद्र (Central Sugarcane Research Station) _____ मध्ये स्थित आहे.

A. महाराष्ट्र

B. कर्नाटक

C. मध्य प्रदेश

D. उत्तर प्रदेश

Answer: A. महाराष्ट्र

Reference ID:(25773) खालीलपैकी कोणत्या राज्यात जवाई जंगले आहेत?

A. मध्य प्रदेश

B. तेलंगाना

C. राजस्थान

D. तामिळनाडू

Answer: C. राजस्थान

Reference ID:(24446) प्रश्नातील वाक्यात रिकामी जागा भरण्यास सर्वात योग्य शब्द निवडा.
पर्जन्यमान कमी झाल्याने या वर्षी दुष्काळाची वाढली आहे.

A.दाहकता

B.कल्पकता

C.निमुळता

D.स्वाधीनता

Answer:

A.दाहकता

Reference ID:(29646)

Pick the Synonym for the word:
Pilfer

A.Steal

B.Contribute

C.Donate

D.Give

Answer:

A.Steal

Reference ID:(34905)

जर $11 \times 2 = 26$, $28 \times 7 = 70$ आणि $24 \times 6 = 60$, तर $14 \times 2 = ?$

A.32

B.16

C.30

D.34

Answer:

A.32

Reference ID:(17396)

$7.35 + 8.5 + 0.55 - (2.5 - 4.5 - 2 + 1.5) = \underline{\hspace{2cm}}$

A.18.55

B.18.45

C.19.05

D.18.90

Answer:

D.18.90

Reference ID:(29111)

Fill in the blanks using the right form of simple present or present continuous tense: She ____ a pullover for her son. She ____ to knit.

A.Is knitting..... likes

B.Knits..... likes

C.Knits..... liked

D.Is knitting..... liked

Answer:

A.Is knitting..... likes

Reference ID:(28376)

Find the meaning of the highlighted word in the sentence: And, **ergo**, his buddy is guaranteed a profit.

A.Unacceptably

B.Therefore

C.Irrevocably

D.With regard

Answer:

B.Therefore

Reference ID:(27614)	Identify the figure of speech in the following sentence: It will take me only two seconds to get ready.
	A. Metaphor
	B. Personification
	C. Hyperbole
	D. Simile
Answer:	C. Hyperbole
Reference ID:(31430)	बुलढाणा जिल्हा खालीलपैकी कोणत्या प्रांतात आहे?
	A. विदर्भ
	B. मराठवाडा
	C. कोकण
	D. खानदेश
Answer:	A. विदर्भ
Reference ID:(18966)	खालील शब्दाचा समास / समास प्रकार ओळखा. लालभडक
	A. नत्र तत्पुरुष
	B. नत्र बहुव्रीहि
	C. द्विगु
	D. कर्मधारय
Answer:	D. कर्मधारय

Reference ID:(25775) खालीलपैकी कोणत्या देशात खारफुटीची (मँगरोव्ह) शक्यता कमीतकमी असू शकते?

- A.डेन्मार्क
- B.मेक्सिको
- C.ब्राझील
- D.इंडोनेशिया

Answer: A.डेन्मार्क

Reference ID:(32673) हिरा हे _____ चे एलोट्रॉपिक रूप आहे.

- A.जर्मेनियम
- B.सिलिकॉन
- C.कार्बन
- D.यापैकी काहीही नाही

Answer: C.कार्बन

Reference ID:(30354) Find the meaning of the word:: **Nimble**

- A.Foolish
- B.Alert
- C.Moronic
- D.Soft

Answer: B.Alert

Reference ID:(25408)	'रवींद्र' या शब्दाचा खालीलपैकी योग्य संधी विग्रह ओळखा.
	A.रवी + द्र
	B.रवी + इंद्र
	C.रवी + इद्र
	D.रवी + इंदर
Answer:	B.रवी + इंद्र
Reference ID:(30862)	Identify the figure of speech in the following sentence: Arguing with her was like going for a sword fight.
	A.Personification
	B.Metaphor
	C.Simile
	D.Apostrophe
Answer:	C.Simile
Reference ID:(25780)	महाराष्ट्र राज्यात एकूण _____ व्याघ्र प्रकल्प आहे.
	A.17
	B.6
	C.9

D.10

Answer: B.6

Reference ID:(25181) 'परोपकार' या शब्दाचा खालीलपैकी योग्य संधी विग्रह ओळखा.

A.पर + उपकार

B.परो + उपकार

C.पर + पकार

D.परउप + कार

Answer: A.पर + उपकार

Reference ID:(17142) $4.30 + 5.25 + 6.65 - (4.50 - 7.75 + 1.25) = \underline{\hspace{2cm}}$

A.18.20

B.18.15

C.18.05

D.18.65

Answer: A.18.20

Reference ID:(16507) सहा जण बिनॉय, चारु, अॅलेक्स, डॅनी, एलन आणि फिरोज हे दोन रांगामध्ये एकमेकांकडे तोंड करून बसले आहेत. दोन्ही रांगामध्ये प्रत्येकी तीन जण आहेत. एलन हा कोणत्याही रांगेच्या शेवटी बसलेला नाही. डॅनी हा फिरोजच्या डावीकडे दुसऱ्या क्रमांकावर आहे. एलनचा शेजारी बसलेला अॅलेक्स हा डॅनीच्या कर्णाभिमुख आहे. चारु हा फिरोजच्या शेजारी आहे. अॅलेक्सच्या समोर कोण बसले आहे?

A.एलन

B.बिनॉय

C.डॅनी

D.फिरोज

Answer: D.फिरोज

Reference ID:(30127) Find the meaning of the highlighted word in the sentence: He was a courageous man to **indict** his own brother.

A.Pardon

B.Prosecute

C.Excuse

D.Acquit

Answer: B.Prosecute

Reference ID:(28603) Find the meaning of the highlighted word in the sentence: You've eaten the whole pie, you **glutton**.

A.Mad person

B.Person with sweet tooth

C.Hog

D.Fool

Answer:	C.Hog
Reference ID:(21222)	जर BROCCOLI हा शब्द BCCILLOOR असेल आणि BOWEL हा शब्द BELOW असेल, तर ZUCCHINI हा शब्द _____ असेल.
	A.CCHIINUZ
	B.IIZUCCHN
	C.IICCHUNZ
	D.CCIIHNUZ
Answer:	A.CCHIINUZ
Reference ID:(17115)	खालीलपैकी सर्वात लहान पर्याय कोणता आहे?
	A.350 चे 90%
	B.1700 चा 1/4
	C.0.35 × 900
	D.700 चा 2/5
Answer:	D.700 चा 2/5
Reference ID:(19982)	'अचंबा' या शब्दाचा समानार्थी शब्द ओळखा.
	A.आश्चर्य
	B.आकांक्षा
	C.आरंभ

D.अवलंब

Answer: A.आश्चर्य

Reference ID:(28630) Pick the right idiom which fits into the sentence: His view on the current political situation seems to have _____ with the rest

A.Be like a mare's nest

B.Stood his ground

C.Stirred up a hornet's nest

D.Been a big gun

Answer: C.Stirred up a hornet's nest

Reference ID:(32669) आधार कार्डच्या लोगो ची रचना कोणी केली?

A.आर. के. पाचौरी

B.अतुल एस. पांडे

C.श्री. राममूर्ती जानकी

D.पंडित रविशंकर

Answer: B.अतुल एस. पांडे

Reference ID:(16534) 40 च्या 75% - $12/20 + 1.75 =$ _____

A.31.65

B.31.15

C.30.9

D.31.55

Answer: B.31.15

Reference ID:(23938) खालीलपैकी विरुद्धार्थी शब्दाची चुकीची जोडी ओळखा.

A.निरुपद्रवी x उपद्रवी

B.दीर्घायुषी x अल्पायुषी

C.सतत x चिरकाल

D.पोक्त x अल्लड

Answer: C.सतत x चिरकाल

Reference ID:(29900) Pick the right antonym for the word:
erudite

A.Ignorant

B.Simple

C.Innocent

D.Wise

Answer: A.Ignorant

Reference ID:(33901) भारतातील पहिली यशस्वी भूमिगत अणुबॉम्ब चाचणी _____ येथे केली होती.

A.पोखरण, राजस्थान

B.कच्छ, गुजरात

C.बार्मेर, राजस्थान

D.हिसार, हरियाणा

Answer: A.पोखरण, राजस्थान

Reference ID:(29365) Pick the right meaning of the highlighted word in the sentence:
Compared to banyan trees, the coconut tree branches are **pliable**.

A.Something easily breakable

B.Something inelastic

C.Something which is easily flexible

D.Something which is very green

Answer: C.Something which is easily flexible

Reference ID:(18712) खालीलपैकी चालू वर्तमानकाळ असलेले वाक्य ओळखा.

A.मी पुण्याला जात असेन.

B.मी पुण्याला जात होतो.

C.मी पुण्याला जाईन.

D.मी पुण्याला जात आहे.

Answer: D.मी पुण्याला जात आहे.

Reference ID:(27641) Pick the correct meaning of the highlighted idiom or phrase from the following:
We called on Monica today to **check in** on her health.

A.To pay a visit to someone

B.To shout at someone

C.To wake up from a state of sleep

D.To take to another place

Answer:

A.To pay a visit to someone

Reference ID:(30635)

Convert the following active to passive voice: The tiger was chasing the deer

A.The deer had been chased by the tiger

B.The deer was chased by the tiger

C.The deer was being chased by the tiger

D.The deer is being chased by the tiger

Answer:

C.The deer was being chased by the tiger

Reference ID:(27033)

Find the meaning of the highlighted word in the sentence: He wore a smart blazer with gold **trimmings**.

A.Cuts

B.Buttons

C.Decoration

D.Crop

Answer:

C.Decoration

Reference ID:(19728)

"अहो रुपं अहो ध्वनी" या म्हणीतून काय व्यक्त होते?

A.खरी स्तुती

B.खोटी स्तुती

C.वरचढपणा

D.नम्रपणा

Answer: B.खोटी स्तुती

Reference ID:(31434) महाराष्ट्र राज्यात एकूण किती जिल्हे आहेत ?

A.32

B.34

C.36

D.38

Answer: C.36

Reference ID:(25774) खालीलपैकी कोणत्या राज्यात विक्रमशिला गांगेय डॉल्फिन अभयारण्य आहे?

A.उत्तराखंड

B.उत्तर प्रदेश

C.बिहार

D.पश्चिम बंगाल

Answer: C.बिहार

Reference ID:(20460)

X चे उत्तर पश्चिम दिशेला तोंड आहे. तो 45 अंश डावीकडे वळतो. मग तो 90 अंश उजवीकडे वळतो. मग तो 180 अंश वळतो. मग तो 45 अंश उजवीकडे वळतो. शेवटी तो डावीकडे 45 अंश वळतो. आता तो कोणत्या दिशेला तोंड करून उभा आहे?

A.उत्तर

B.दक्षिण

C.पूर्व

D.पश्चिम

Answer:

B.दक्षिण

Reference ID:(28857)

Pick the right idiom which fits into the sentence: Carrying a smart phone has become _____

A.A mare's nest

B.The gift of the gab

C.Stirring up a hornet's nest

D.The order of the day

Answer:

D.The order of the day

Reference ID:(32674)

भारतातील प्रथम महिला शिक्षक कोण मानल्या जातात?

A.सावित्रीबाई फुले

B.पंडिता रमाबाई

C.रमाबाई रानडे

D.सरोजिनी नायडू

Answer: A.सावित्रीबाई फुले

Reference ID:(31428) पुढीलपैकी कोणता मुलभूत अधिकार नाही?

A.धार्मिक स्वातंत्र्याचा हक्क

B.समानतेचा हक्क

C.सांस्कृतिक आणि शैक्षणिक हक्क

D.मालमत्तेचा हक्क

Answer: D.मालमत्तेचा हक्क

Reference ID:(24192) खालीलपैकी व्याकरणाच्या दृष्टीने अशुद्ध शब्द-लेखन असलेला शब्द ओळखा.

A.छिन्नविच्छिन्न

B.भूगर्भ

C.भूपृष्ठ

D.मोतिबिंदु

Answer: D.मोतिबिंदु

Reference ID:(25154) समूहदर्शक शब्द ओळखा. जसा उपकरणांचा संच तसा वाद्यांचा

A.संच

B.घोस

C.वृंद

D.संघ

Answer: C.वृंद

Reference ID:(28149) Find the meaning of the word:: **Discreet**

A.Tactless

B.Careless

C.Cautious

D.Foolish

Answer: C.Cautious

Reference ID:(24419) खालीलपैकी व्याकरणाच्या दृष्टीने शुध्द वाक्याचा पर्याय निवडा.

A.लताचा आवाज सुमधुर आहे.

B.सचिनच्या नावावर जागतिक त्रिकम आहे.

C.विरधवल पोहण्यात निपुन आहे.

D.सुभाषचंद्र प्रमाणीक नेता आहे.

Answer: A.लताचा आवाज सुमधुर आहे.

Reference ID:(23657) खालीलपैकी समानार्थी शब्दाची चुकीची जोडी ओळखा

A.आखूड - कोता

B.खंदा - दगड

C.फिर्याद - तक्रार

D.खिन्न - उदास

Answer: B.खंदा - दगड

Reference ID:(27006)	Select the correct passive voice form of the sentence: Roshni will accept the position.
	A.Accepting the position is being done by Roshni
	B.Roshni is accepting the position
	C.Is Roshni accepting the position?
	D.The position will be accepted by Roshni
Answer:	D.The position will be accepted by Roshni
Reference ID:(17650)	39 च्या $\frac{1}{6}$ + 40 च्या 15% + $0.25 \times 60 = \underline{\hspace{2cm}}$
	A.29
	B.29.5
	C.26.75
	D.27.5
Answer:	D.27.5
Reference ID:(32670)	महात्मा गांधींचे 'राजकीय गुरु' कोण होते?
	A.गोपाल कृष्ण गोखले
	B.दादाभाई नौरोजी
	C.लाला लजपत राय
	D.महादेव गोविंद रानडे
Answer:	A.गोपाल कृष्ण गोखले

Reference ID:(29138)	Pick the right meaning of the highlighted word in the sentence: Mark is a congenial host who always makes everyone feel welcome
	A.A pleasant and enjoyable person or environment
	B.A dull and boring person or environment
	C. A lazy person
	D.A disgusting person or situation
Answer:	A.A pleasant and enjoyable person or environment
Reference ID:(18231)	प्रत्येक चरणात 16 मात्रा तसेच 8 व 8 मात्रांची अशी पद्याची दोन आवर्तने हे कोणत्या वृत्ताचे लक्षण आहे?
	A.वसंततिलका
	B.भुजंगप्रयात
	C.पादाकुलक
	D.नववधू
Answer:	C.पादाकुलक
Reference ID:(22238)	खालीलपैकी सर्वात मोठा पर्याय कोणता आहे ?
	A.12 + 55 - 62 + 45 + 65 - 103 + 42 + 57
	B.18 + 17 - 52 + 35 - 56 + 104 - 44 - 37
	C.19 + 15 - 162 + 45 + 36 + 103 + 42 + 17
	D.38 + 107 - 52 - 35 - 56 + 104 - 44 - 37
Answer:	C.19 + 15 - 162 + 45 + 36 + 103 + 42 + 17

Reference ID:(20233)	एक माणूस त्याच्या घरापासून पश्चिम दिशेने 8 कि.मी. चालतो. मग तो डावीकडे वळतो आणि 3 कि.मी. चालतो. मग तो उजवीकडे वळतो आणि 1 कि.मी. चालतो. मग तो उजवीकडे वळतो आणि 2 कि.मी. चालतो. मग तो उजवीकडे वळतो आणि 4 कि.मी. चालतो. मग तो डावीकडे वळतो आणि 1 कि.मी. चालतो. तो त्याच्या घरापासून किती दूर आहे?
	A.4 कि.मी.
	B.5 कि.मी.
	C.4. 5 कि.मी.
	D.5. 5 कि.मी.
Answer:	B.5 कि.मी.
Reference ID:(20487)	जर $R + E + D = 27$, $A + W + A + Y = 50$, तर $C + L + O + S + E = \underline{\quad}$?
	A.52
	B.54
	C.53
	D.55
Answer:	B.54
Reference ID:(32677)	भारतात 'सांची महा स्तूप' कोठे आहे?
	A.उत्तर प्रदेश
	B.मध्य प्रदेश
	C.आंध्र प्रदेश

D.अरुणाचल प्रदेश

Answer: B.मध्य प्रदेश

Reference ID:(32675) शिवाजी महाराजच्या मराठा साम्राज्याची राजधानी कोणती होती?

A.नाशिक

B.रायगड

C.पुरंधर

D.जळगाव

Answer: B.रायगड

Reference ID:(27387) Identify the figure of speech in the following sentence: The camera loves her since she is so pretty.

A.Hyperbole

B.Simile

C.Metaphor

D.Personification

Answer: D.Personification

Reference ID:(29392) Pick the right meaning of the highlighted word in the sentence: His actions have earned him stern **rebukes** from the teachers

A.Disapproval about something

B.Endorsement about something

C.Seldom do something about anything

D.To be stubborn about something

Answer: A.Disapproval about something

Reference ID:(22592) जर \$ आहे '+' आणि @ आहे '-', तर खालीलपैकी सर्वात मोठा पर्याय कोणता आहे ?

A.55 \$ 11 @ 75 \$ 42 @ 62 @ 13 \$ 45 \$ 27

B.118 \$ 17 @ 25 \$ 32 @ 126 \$ 104 @ 44 @ 37

C.79 \$ 42 \$ 165 \$ 42 \$ 36 @ 103 \$ 45 \$ 17

D.38 @ 107 @ 25 @ 32 @ 26 \$ 104 \$ 144 @ 7

Answer: C.79 \$ 42 \$ 165 \$ 42 \$ 36 @ 103 \$ 45 \$ 17

Reference ID:(20995) मालिकेतील रिकामी जागा भरा: __, 23, 45, 56, 78, 89, 111, 122, 144

A.12

B.13

C.14

D.15

Answer: A.12

Reference ID:(20206) X चे पूर्व दिशेला तोंड आहे. तो 45 अंश उजवीकडे वळतो. मग तो 180 अंश वळतो. मग तो 45 अंश डावीकडे वळतो. शेवटी तो डावीकडे 45 अंश वळतो. आता तो कोणत्या दिशेला तोंड करून उभा आहे?

A.उत्तर पूर्व

B.दक्षिण पूर्व

C.उत्तर पश्चिम

D.दक्षिण पश्चिम

Answer: D.दक्षिण पश्चिम

Reference ID:(17877) X हा Y च्या 10% आहे. मग Y हा X च्या _____ % आहे.

A.10

B.90

C.1000

D.900

Answer: C.1000

Reference ID:(28122) Find the meaning of the highlighted word from the sentence: He's a doctor of the highest **caliber**.

A.Weakness

B.Lowliness

C.Inability

D.Ability

Answer: D.Ability

Reference ID:(25777) वनस्पती आणि प्राणी यांचे त्यांच्या नैसर्गिक निवासस्थानापासून दूर केलेले संवर्धन _____ च्या अंतर्गत येते.

A.इन-सिटू संवर्धन

B.एक्स-सिटू संवर्धन

C.अभयारण्य

D.वरीलपैकी सर्व

Answer: B.एक्स-सिटू संवर्धन

Reference ID:(32671) महाराष्ट्रातील 'चैत्यभूमि' कोणत्या राजकीय नेत्याला आणि तत्त्वज्ञानला समर्पित केलेले स्मारक आहे?

A.बी. आर. आंबेडकर

B.जगजीवन राम

C.देवी लाल

D.कृष्णकांत

Answer: A.बी. आर. आंबेडकर

Reference ID:(31427) भारतातील कोणते राज्य 'भारताचे ऑर्किड राज्य (द ऑर्किड स्टेट ऑफ इंडिया)' म्हणून ओळखले जाते?

A.मेघालय

B.मणिपूर

C.अरुणाचल प्रदेश

D.जम्मू-काश्मीर

Answer: C.अरुणाचल प्रदेश

Reference ID:(19247) भीतीने थरकाप उडणे. ह्या अर्थाचा खालीलपैकी कोणता वाक्प्रचार आहे ते ओळखा.

A.कानाचे पडदे फाटणे

B.काळजाचे पाणी होणे

C.उलट्या काळजाचे असणे

D.बोळकांडी बसणे

Answer:

B.काळजाचे पाणी होणे

Reference ID:(25772)

‘मॉट्रिक्स नोंदी’ मध्ये दलदली / पाणथळ प्रदेश समाविष्ट होण्यासाठी प्रमुख निकष कोणता आहे?

A.परिस्थितिकीयदृष्ट्या महत्वपूर्ण असावा

B.परिस्थितिकीय स्वरूपामध्ये झालेला किंवा नजीकच्या काळात बदल संभावणारा प्रदेश असावा

C.आर्थिकदृष्ट्या महत्वपूर्ण असावा

D.अनेक देशांमध्ये पसरलेले असावे.

Answer:

B.परिस्थितिकीय स्वरूपामध्ये झालेला किंवा नजीकच्या काळात बदल संभावणारा प्रदेश असावा

Reference ID:(24927)

पुढील शब्दसमूहासाठी योग्य शब्द निवडा.
नवीन मतांचा पुरस्कार करणारा

A.पुराणमतवादी

B.उदारमतवादी

C.नवमतवादी

D.पुरस्कर्ता

Answer:

C.नवमतवादी

Question Paper Title : FG_02

Date of Exam : 09-06-2019 02:30 PM

Reference ID:(16885) $5/20 + 1.5 - 5/25 = ?$

A.2.975

B.1.55

C.1.45

D.2.7

Answer: B.1.55

Reference ID:(29870) Pick the right antonym for the word:
Ethical

A.Immoral

B.Decent

C.Honest

D.Religious

Answer: A.Immoral

Reference ID:(20711) જરૂર WO = 4, W H A T = 16, S H E = 9, તરૂર W A S H = ___?

A.16

B.8

C.15

D.20

Answer: A.16

Reference ID:(31401) कोणत्या सीमेस मॅक मोहन रेषा असे म्हटले जाते?

A.भारत आणि बांगलादेश

B.भारत आणि चीन

C.भारत आणि म्यानमार

D.भारत आणि पाकिस्तान

Answer: B.भारत आणि चीन

Reference ID:(23935) खालीलपैकी विरुद्धार्थी शब्दाची चुकीची जोडी ओळखा.

A.प्रगती x उन्नती

B.होकार x नकार

C.सामुदायिक x वैयक्तिक

D.अपेक्षाभंग x अपेक्षापूर्ती

Answer: A.प्रगती x उन्नती

Reference ID:(25443) खारफुटी वनांखालील असणाऱ्या क्षेत्रानुसार राज्यांचा / केंद्रशासित प्रदेशांचा खालीलपैकी योग्य उतरता क्रम कोणता?

A.प.बंगाल > गुजरात > अंदमान व निकोबार

B.प.बंगाल > ओडिशा > गुजरात

C.गुजरात > प.बंगाल > अंदमान व निकोबार

D.ओडिशा > गुजरात > प.बंगाल

Answer: A.प.बंगाल > गुजरात > अंदमान व निकोबार

Reference ID:(18990) खालील शब्दाचा समास / समास प्रकार ओळखा.
सविनय

A.कर्मधारय

B.सहबहुव्रीहि

C.तत्पुरुष

D.अव्ययीभाव

Answer: B.सहबहुव्रीहि

Reference ID:(29135) Pick the right meaning of the highlighted word in the sentence:
When my **captious** teacher gave me marks on my essay, she found only minor errors in my work.

A.A person who is hard to please

B.A person who is undemanding and easy going

C.A charitable kind of person

D.A selfish kind of person

Answer: A.A person who is hard to please

Reference ID:(25450)	गाडगीळ समितीने "वेस्टर्न घाट्स इकोलॉजी एक्सपर्ट पैनल" अहवाल वन व पर्यावरण मंत्रालय भारत सरकारला केव्हा सादर केला?
	A.2009
	B.2000
	C.2011
	D.2015
Answer:	C.2011
Reference ID:(19244)	"पडते घेणे" ह्या अर्थासाठी खालीलपैकी योग्य वाक्प्रचार निवडा.
	A.रस्त्यावर पडलेली वस्तू उचलणे
	B.लग्नासाठी हुंडा मागून घेणे
	C.जोरजोरात रडणे
	D.झुकते माप घेणे
Answer:	D.झुकते माप घेणे
Reference ID:(20965)	मालिकेतील रिकामी जागा भरा: A, E, __, O, U, O, I, E
	A.E
	B.A
	C.I

D.U

Answer: C.I

Reference ID:(16504) सहा जण बिनाँय, चारु, अॅलेक्स, डॅनी, एलन आणि फिरोज हे दोन रांगामध्ये एकमेकांकडे तोंड करून बसले आहेत. दोन्ही रांगामध्ये प्रत्येकी तीन जण आहेत. एलन हा कोणत्याही रांगेच्या शेवटी बसलेला नाही. डॅनी हा फिरोजच्या डावीकडे दुसऱ्या क्रमांकावर आहे. एलनचा शेजारी बसलेला अॅलेक्स हा डॅनीच्या कर्णाभिमुख आहे. चारु हा फिरोजच्या शेजारी आहे. एलन आणि डॅनीची जागेची अदलाबदल केल्यानंतर नव्या ठिकाणी डॅनीचा शेजारी कोण असतील?

A.अॅलेक्स आणि बिनाँय

B.फिरोज आणि बिनाँय

C.अॅलेक्स आणि चारु

D.वरीलपैकी काहीही नाही

Answer: A.अॅलेक्स आणि बिनाँय

Reference ID:(29362) Pick the right meaning of the highlighted word in the sentence:
Because she is so **obstinate**, my niece often ends up eating dinner alone in her room.

A.to be puzzled about something

B.to be untruthful about something

C.stubbornly refusing to change one's opinion or action

D.to be overtly attachment to something

Answer: C.stubbornly refusing to change one's opinion or action

Reference ID:(29616) Pick the right meaning of the highlighted word in the sentence:
Vasu gave a **stupendous** performance of his acting skills.

A. Something of little importance

B. Something that is amazing

C. Something very boring

D. Something terrible

Answer: B. Something that is amazing

Reference ID:(23681) 'सुगम' या शब्दाचा विरुद्धार्थी शब्द ओळखा.

A. सरल

B. दुर्गम

C. श्रवणीय

D. अगम्य

Answer: B. दुर्गम

Reference ID:(18482) आमची वर्गणी देऊन झाली. या वाक्यातील प्रयोग ओळखा.

A. शक्य कर्मणी

B. समापन कर्मणी

C. भावे

D. अकर्मक कर्तरी

Answer: B. समापन कर्मणी

Reference ID:(29643)	Pick the Synonym for the word: proclaim
	A.Announce
	B.Secretcy
	C.Humble
	D.Untrue
Answer:	A.Announce

Reference ID:(29108)	Fill in the blanks using the right form of simple present or present continuous tense: Why _____ a coat this morning? I never ____ one till October.
	A.Are you wearing..... wear
	B.wear..... wear
	C.Have you worn..... will wear
	D.Are you wearing..... wore
Answer:	A.Are you wearing..... wear

Reference ID:(25449)	महाराष्ट्रातील पहिले वन्यजीव अभयारण्य १९५८ मध्ये कोणत्या जिल्ह्यात स्थापन झाले?
	A.नाशिक
	B.कोल्हापूर
	C.अहमदनगर
	D.बुलढाणा

Answer: B.कोल्हापूर

Reference ID:(25444) भारतातील परिस्थितिकीय विज्ञानाचे जनक कोण आहे?

A.आर.डी.मिश्रा

B.ई. हेकेल

C.डो. आगरवाल

D.डो. स्वामीनाथन

Answer: A.आर.डी.मिश्रा

Reference ID:(31149) गंगा नदी _____ मधून उगम पावते.

A.गंगोत्री

B.हरिद्वार

C.कोलकाता

D.अमरनाथ

Answer: A.गंगोत्री

Reference ID:(23908) खालीलपैकी विरुद्धार्थी शब्दाची बरोबर जोडी ओळखा

A.विनंती x आर्जव

B.उपकार x अपकार

C.मऊ x नरम

D.एकत्र x एकोपा

Answer: B.उपकार x अपकार

Reference ID:(17647) 42 च्या $\frac{1}{12}$ + 25 च्या 30% + $0.25 \times 150 = \underline{\hspace{2cm}}$

A.50

B.50.5

C.47.75

D.48.5

Answer: D.48.5

Reference ID:(17393) $9.75 + 5.95 + 3.75 - (9.55 - 3.95 - 3.75) = \underline{\hspace{2cm}}$

A.17.25

B.17.15

C.17.75

D.17.60

Answer: D.17.60

Reference ID:(30632) Convert the following active to passive voice: Mother made a cake yesterday

A.A cake is being made by mother yesterday

B.A cake is made by mother yesterday

C.A cake made by mother yesterday

D.A cake was made by mother yesterday

Answer:

D.A cake was made by mother yesterday

Reference ID:(31402)

"कव्हर ड्राइव्ह" कोणत्या खेळाशी संबंधित आहे?

A.क्रिकेट

B.फॉर्म्युला 1

C.गोल्फ

D.लॉन टेनीस

Answer:

A.क्रिकेट

Reference ID:(29897)

Pick the right antonym for the word:
efficacious

A.Incompetent

B.Effective

C.Fruitful

D.Productive

Answer:

A.Incompetent

Reference ID:(30859)

Convert the following active to passive voice: She wrote a poetry on the sunrise

A.A poetry on the sunrise has been written by her

B.A poetry on the sunrise will be written by her

C.A poetry on the sunrise is being written by her

D.A poetry on the sunrise had been written by her

Answer: A.A poetry on the sunrise has been written by her

Reference ID:(20738) जर AB = 510, S A N G = 9557035, तर F R I E S = ___?

A.309045595

B.3090452595

C.6189519

D.699510

Answer: B.3090452595

Reference ID:(20457) X चे दक्षिण पूर्व दिशेला तोंड आहे. तो 45 अंश डावीकडे वळतो. मग तो 135 अंश उजवीकडे वळतो. मग तो 180 अंश वळतो. मग तो 90 अंश उजवीकडे वळतो. शेवटी तो डावीकडे 45 अंश वळतो. आता तो कोणत्या दिशेला तोंड करून उभा आहे?

A.पश्चिम

B.दक्षिण

C.पूर्व

D.उत्तर

Answer: C.पूर्व

Reference ID:(27865)

Pick the correct meaning of the highlighted idiom or phrase from the following:
After the fight, my sister and I kept each other at **arm's length**

A.To keep at a distance

B.Being bitterly hostile with each other

C.Disagreeing with something or someone

D.To get even closer with someone

Answer:

A.To keep at a distance

Reference ID:(31404)

"ऑपरेशन फ्लड" ही कोणत्या उत्पादनाशी संबंधित चळवळ आहे.

A.गोडे पाणी

B.तांदूळ

C.दूध

D.रक्त

Answer:

C.दूध

Reference ID:(34929)

जर $CBE \times 9 = 1926$

$DCF \times 2 = 650$

तर $EDG \times 1 = ?$

A.364

B.436

C.634

D.643

Answer:

B.436

Reference ID:(28373)	Find the meaning of the word:: Ergo
	A.Irrespective
	B.Unacceptable
	C.Therefore
	D.Unsuitable
Answer:	C.Therefore
Reference ID:(32439)	युनायटेड नेशन ऑर्गनायझेशन [यूएनओ] ने "जागतिक विद्यार्थी दिवस" म्हणून ह्यांचा वाढदिवस घोषित केला आहे.
	A.डॉ. एपीजे अब्दुल कलाम
	B.डॉ. सर्वपल्ली राधाकृष्णन
	C.जवाहरलाल नेहरू
	D.सी.व्ही. रमन
Answer:	A.डॉ. एपीजे अब्दुल कलाम
Reference ID:(27003)	Select the correct passive voice form of the sentence: Sunil wrote an article about our play.
	A.Sunil writes articles about plays
	B.Sunil will write an article about our play
	C.An article about our play was written by Sunil
	D.Article writing about our play is being done by Sunil
Answer:	C.An article about our play was written by Sunil

Reference ID:(16858)	जर @ आहे 'भागाकार' आणि \$ आहे 'गुणाकार', तर खालीलपैकी सर्वात मोठा पर्याय कोणता आहे?
	A.24@5
	B.1.5\$2.5
	C.29@4
	D.3\$2.5
Answer:	D.3\$2.5
Reference ID:(24416)	खालीलपैकी व्याकरणाच्या दृष्टीने शुध्द वाक्याचा पर्याय निवडा.
	A.त्या वेळी भारतात मोघलांचे सामाज्य होते.
	B.मी वेळेवर घरी येण्याचे वाचन दिले.
	C.यश मिळवण्यासाठी कष्ट केल्यावाचून गत्यंतर नाही.
	D.शामला शर्यत जिंकल्यावर अत्यानंद झाला.
Answer:	D.शामला शर्यत जिंकल्यावर अत्यानंद झाला.
Reference ID:(31403)	कोणते शहर भारताची सांस्कृतिक राजधानी म्हणून ओळखले जाते?
	A.अहमदाबाद
	B.मुंबई
	C.कोलकाता
	D.बेंगलुरू
Answer:	C.कोलकाता

Reference ID:(22817)	जर \$ आहे '+' आणि @ आहे '-', तर खालीलपैकी सर्वात लहान पर्याय कोणता आहे ?
	A.15 \$ 22 @ 65 \$ 42 \$ 62 @ 103 \$ 45 \$ 27
	B.18 \$ 17 @ 25 \$ 32 @ 26 \$ 104 @ 44 @ 37
	C.19 \$ 12 @ 165 \$ 42 \$ 36 \$ 103 \$ 45 \$ 17
	D.38 \$ 107 @ 25 @ 32 @ 26 \$ 104 @ 44 @ 37

Answer: B.18 \$ 17 @ 25 \$ 32 @ 26 \$ 104 @ 44 @ 37

Reference ID:(28146)	Find the meaning of the highlighted word in the sentence: His interest in photography is a fad .
	A.Infatuation
	B.Standard
	C.Tradition
	D.Custom

Answer: A.Infatuation

Reference ID:(27638)	Pick the correct meaning of the highlighted idiom or phrase from the following: The thieves broke into the house this morning and ran away with all the valuables.
	A.To enter forcibly
	B.To end or discontinue
	C.To train or discipline
	D.To stop functioning

Answer: A.To enter forcibly

Reference ID:(30351) Find the meaning of the highlighted word in the sentence: He raised his eyebrows in **mock** disbelief.

A.Natural

B.Genuine

C.Fake

D.Real

Answer: C.Fake

Reference ID:(17874) X हा Y हून 150% नी मोठा आहे. मग Y हा X हून _____ % लहान आहे.

A.60

B.50

C.66.66

D.12.5

Answer: A.60

Reference ID:(27357) Identify the figure of speech in the following sentence: She is as thin as a rake.

A.Apostrophe

B.Hyperbole

C.Metaphor

D.Simile

Answer:	D.Simile
Reference ID:(23427)	'शर्वरी' या शब्दाचा समानार्थी शब्द ओळखा.
	A.शव
	B.रात्र
	C.वेल
	D.शत्रू
Answer:	B.रात्र
Reference ID:(29389)	Pick the right meaning of the highlighted word in the sentence: They were all committed to the doctrine of equality
	A.Feeling faint about something
	B.Being unlawful about something
	C.Abiding to a principal
	D.Avoiding something
Answer:	C.Abiding to a principal
Reference ID:(28854)	Pick the right idiom which fits into the sentence: Oh, don't mention the fight they had many months back; Let _____
	A.Take to task
	B.Take a leaf out of one's book

C.Sleeping dogs lie

D.Dances to your own tune

Answer:

C.Sleeping dogs lie

Reference ID:(27030)

Find the word opposite in meaning to the word: Trim

A.Cut

B.Fat

C.Encourage

D.Pick up

Answer:

B.Fat

Reference ID:(19498)

पुढील म्हण पूर्ण करण्यासाठी योग्य पर्याय निवडा. मनी वसे ते

A.जगी भासे

B.प्रत्येक्ष नसे

C.स्वप्नी दिसे

D.ठाऊक नसे

Answer:

C.स्वप्नी दिसे

Reference ID:(22589)

जर \$ आहे '+' आणि @ आहे '-', तर खालीलपैकी सर्वात मोठा पर्याय कोणता आहे ?

A.118 \$ 17 @ 25 \$ 32 @ 126 \$ 104 @ 44 @ 37

B.79 \$ 42 \$ 165 \$ 42 \$ 36 @ 103 \$ 45 \$ 17

C.38 @ 107 @ 25 @ 32 @ 26 \$ 104 \$ 144 @ 7

D.125 @ 62 @ 35 \$ 74 \$ 102 @ 93 \$ 45 \$ 37

Answer: B.79 \$ 42 \$ 165 \$ 42 \$ 36 @ 103 \$ 45 \$ 17

Reference ID:(17139) $9.75 + 2.8 + 3.25 - (2.75 + 3.5 - 4.75 + 0.5) = \underline{\hspace{2cm}}$

A.13.8

B.13.35

C.13.25

D.13.85

Answer: A.13.8

Reference ID:(17620) $15 \text{ च्या } \frac{1}{6} + 44 \text{ च्या } 25\% + 0.30 \times 180 = \underline{\hspace{2cm}}$

A.69

B.67.5

C.69.5

D.66.75

Answer: B.67.5

Reference ID:(27611) Identify the figure of speech in the following sentence: I've told you a thousand times not to do that!

A.Euphemism

B.Apostrophe

C.Personification

D.Hyperbole

Answer: D.Hyperbole

Reference ID:(25442) रामसर करारासाठी कोणती आंतरराष्ट्रीय संघटना / संस्था कार्य करते?

A.सयुक्त राष्ट्रसंघ पर्यावरण कार्यक्रम

B.यूनेस्को

C.आय.यु.सी.एन

D.कॉन्झर्व्हेशन इंटरनॅशनल

Answer: B.यूनेस्को

Reference ID:(19217) वाऱ्यावर सोडणे. या वाक्प्रचाराचा अर्थ कोणता?

A.वारा सोडणे

B.वारा आल्यावर सोडून देणे

C.दुर्लक्ष करणे

D.वाऱ्यासारखे मोकट फिरणे

Answer: C.दुर्लक्ष करणे

Reference ID:(21473) जर A = 1, B = 2,M = 13; आणि N = 13, O = 12, Z = 1, तर खालील पैकी कोणते पर्याय बरोबर आहे?

A.{B + A + R} > {C + A + R}

$$B.\{B + A + R\} = \{C + A + R\}$$

$$C.\{B + A + R\} < \{C + A + R\}$$

$$D.\{B + A + R\} = \{D + O + G\}$$

Answer: C. $\{B + A + R\} < \{C + A + R\}$

Reference ID:(31150) ब्रँड 'डेटॉल' ची निर्मितीद्वारा केली जाते.

A.युनिलिव्हर

B.प्रोक्टर अँड गॅम्बल

C.जॉन्सन & जॉन्सन

D.रेकिट बेनकीसर

Answer: D.रेकिट बेनकीसर

Reference ID:(20992) मालिकेतील रिकामी जागा भरा: 3, 9, __, 45, 93

A.23

B.22

C.21

D.24

Answer: C.21

Reference ID:(32442)	भारतातील सर्वात मोठा बौद्ध मठ हा _____ या शहरात आढळतो.
	A.धर्मशाला
	B.तवांग
	C.सारनाथ
	D.कोची
Answer:	B.तवांग
Reference ID:(20203)	X चे पश्चिम दिशेला तोंड आहे. तो 45 अंश उजवीकडे वळतो. मग तो 180 अंश वळतो. मग तो 45 अंश डावीकडे वळतो. शेवटी तो डावीकडे 45 अंश वळतो. आता तो कोणत्या दिशेला तोंड करून उभा आहे?
	A.उत्तर पूर्व
	B.दक्षिण पूर्व
	C.उत्तर पश्चिम
	D.दक्षिण पश्चिम
Answer:	A.उत्तर पूर्व
Reference ID:(35156)	खाली दिलेल्या पत्त्यापैकी 3 पत्ते समान आहेत आणि 1 भिन्न आहे. कोणता पत्ता भिन्न ते ओळखा?
	A.RIT Adityapur Hostel k nit Jharkhand, jamshedpur PH 0087654992
	B.RIT Adityapur Hostel k nit Jharkhend, jamshedpur PH 0087654992

C.RIT Adityapur
Hostel k nit
Jharkhand, jamshedpur
PH 0087654992

D.RIT Adityapur
Hostel k nit
Jharkhand, jamshedpur
PH 0087654992

Answer: B.RIT Adityapur
Hostel k nit
Jharkhend, jamshedpur
PH 0087654992

Reference ID:(30886) Identify the figure of speech in the following sentence: We will use the plastic glasses for the children's parties.

A.Euphemism

B.Metaphor

C.Oxymoron

D.Simile

Answer: C.Oxymoron

Reference ID:(24443) प्रश्नातील वाक्यात रिकामी जागा भरण्यास सर्वात योग्य शब्द निवडा.
कर्जे फेडण्यास असमर्थ असणारी व्यक्ती ठरते.

A.दिवाळखोर

B.नामधारी

C.पक्षकार

D.शून्याकार

Answer: A.दिवाळखोर

Reference ID:(25446)	भारतात वन्यजीव संरक्षण अधिनियम कोणत्या वर्षी करण्यात आला?
	A.1927
	B.1972
	C.1988
	D.1947
Answer:	B.1972
Reference ID:(19725)	"शेंडी तुटो वा पारंबी तुटो" या म्हणीतून काय व्यक्त होते?
	A.दृढनिश्चय
	B.मुखपणा
	C.ताकतीचा गर्व
	D.चतुरपणा
Answer:	A.दृढनिश्चय
Reference ID:(25448)	आय.यू.सी.एन.(IUCN)ची लाल यादी _____ आहे.
	A.दोषयुक्त गुणसुत्राची यादी
	B.राष्ट्रीय उद्याने आणि अभयारण्याची यादी
	C.संकटग्रस्त सजीवांच्या प्रजातीची यादी
	D.परिस्थितिकीय दृष्ट्या संवेदनशील जागतिक परिसंस्थांची यादी

Answer: C.संकटग्रस्त सजीवांच्या प्रजातीची यादी

Reference ID:(20484) जर $C + A + T = 24$, $M + A + C + E = 22$, तर $H + U + R + R + Y = \underline{\quad}$?

A.90

B.93

C.92

D.91

Answer: A.90

Reference ID:(25405) 'वृद्धाश्रम' या शब्दाचा खालीलपैकी योग्य संधी विग्रह ओळखा.

A.वृद्ध + श्रम

B.वृद्ध + अश्रम

C.वृद्धा + आश्रम

D.वृद्ध + आश्रम

Answer: D.वृद्ध + आश्रम

Reference ID:(24189) खालीलपैकी व्याकरणाच्या दृष्टीने अशुद्ध शब्द-लेखन असलेला शब्द ओळखा.

A.उत्सर्जित

B.उन्मूलन

C.उत्तुंग

D.उत्साहि

Answer:

D.उत्साहि

Reference ID:(18228)

हिरवे हिरवे गार गालिचे।
हरिततृणाच्या मखमालीचे।

ह्या बालकवींच्या सुप्रसिध्द काव्यात कोणते वृत्त वापरले आहे?

A.अभंग

B.ओवी

C.भुजंगप्रयात

D.पादाकुलक

Answer:

D.पादाकुलक

Reference ID:(18455)

हिंदुस्थान हा एक देश आहे या देशात मुख्यत्वे शेतकी चालते.
वरील दोन केवळ वाक्यांचे एकच केवळ वाक्य बनवावयाचे असल्यास खालीलपैकी कोणता पर्याय योग्य ठरेल?

A.हिंदुस्थान हा एक देश आहे आणि या देशात मुख्यत्वे शेतकी चालते

B.हिंदुस्थान हा मुख्यत्वे शेतकीचा देश आहे.

C.हिंदुस्थान हा एक देश आहे पण या देशात मुख्यत्वे शेतकी चालते.

D.हिंदुस्थान हा जो देश आहे त्या देशात शेतकी चालते.

Answer:

B.हिंदुस्थान हा मुख्यत्वे शेतकीचा देश आहे.

Reference ID:(25447)

भारताचा राष्ट्रीय प्राणीचे शास्त्रीय नाव खालीलपैकी कोणता आहे?

A.पँथेरा टायग्रीस

B.पँथेरा आँका

C.पँथेरा लिओ

D.पँथेरा पर्डूस

Answer:

A.पँथेरा टायग्रीस

Reference ID:(16531)

90 च्या 20% - 16/20 + 1.25 = _____

A.18.95

B.18.45

C.18.2

D.18.85

Answer:

B.18.45

Reference ID:(18201)

एका हाते कधितरि मुली वाजते का टाळी? वरील वाक्यातील अलंकार ओळखा.

A.अर्थान्तरन्यास

B.भ्रान्तिमान

C.व्यतिरेक

D.स्वभावोक्ती

Answer:

A.अर्थान्तरन्यास

Reference ID:(21246)

जर WHIZZBANGS हा शब्द ZIHWZBSGNA असेल, तर KICKBOXING हा शब्द _____ असेल.

A.XINGBOKCIK

B.KICKOBXING

C.KCIKBOGNIX

D.KCIKOBXING

Answer:

C.KCIKBOGNIX

Reference ID:(18736)

कृष्ण लोणी खात असे. या वाक्याचा काळ ओळखा.

A.साधा भूतकाळ

B.अपूर्ण भूतकाळ

C.रीती भूतकाळ

D.पूर्ण भूतकाळ

Answer:

C.रीती भूतकाळ

Reference ID:(30124)

Find the word opposite in meaning to the word: **Indict**

A.Accuse

B.Acquit

C.Charge

D.Defame

Answer:

B.Acquit

Reference ID:(32443)	गदाधर चट्टोपाध्याय हे _____ ह्यांचे मूळ नाव आहे.
	A.स्वामी विवेकानंद
	B.रामकृष्ण परमहंस
	C.राजा राम मोहन राय
	D.ईश्वर चंद्र विद्यासागर
Answer:	B.रामकृष्ण परमहंस
Reference ID:(24697)	पुढील शब्दसमूहासाठी योग्य शब्द निवडा. आयुष्य थोडा असलेला
	A.आयुष्यमान
	B.अल्पायुषी
	C.शतायुषी
	D.अनभिज्ञ
Answer:	B.अल्पायुषी
Reference ID:(32438)	भारतातील कोणत्या दूरसंचार कंपनीने प्रथम 3जी सेवा प्रदान केली होती?
	A.एअरटेल
	B.एअरसेल
	C.रिलायन्स
	D.एमटीएनएल
Answer:	D.एमटीएनएल

Reference ID:(33694)

गुड्स व सेवा कराच्या अंतर्गत ई-वे (इलेक्ट्रॉनिक वे) विधेयक कधी लागू झाले?

A.1 एप्रिल 2018

B.1 एप्रिल 2017

C.1 मे 2018

D.1 मे 2017

Answer:

A.1 एप्रिल 2018

Reference ID:(31407)

देवेंद्र फडणवीस यांच्यापूर्वी महाराष्ट्राचे मुख्यमंत्री कोण होते?

A.पृथ्वीराज चव्हाण

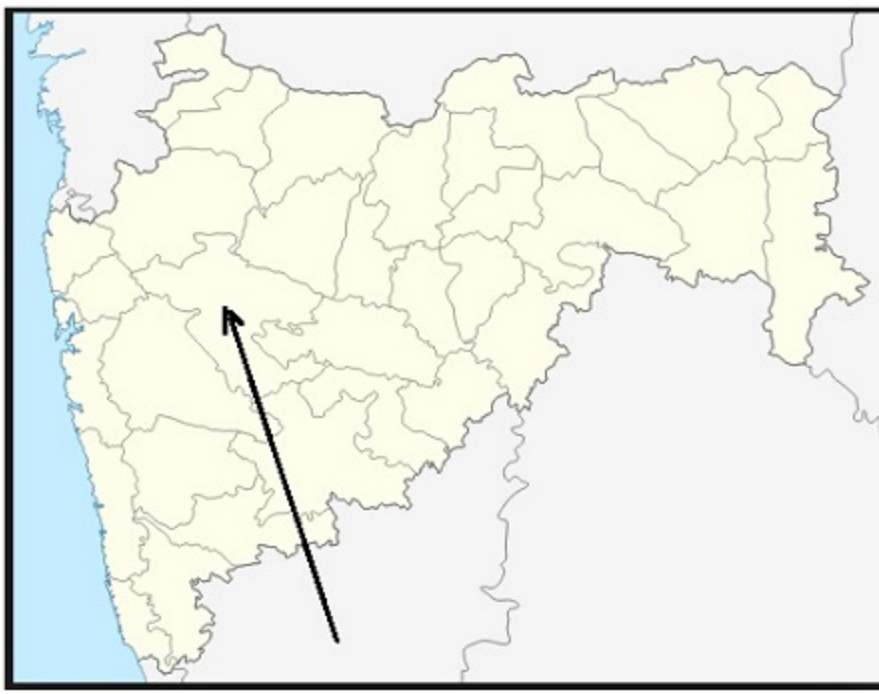
B.अशोक चव्हाण

C.विलासराव देशमुख

D.शरद पवार

Answer:

A.पृथ्वीराज चव्हाण



महाराष्ट्रातील नकाशात बाणने दर्शविलेला जिल्हा खालीलपैकी कोणता आहे?

- A. अकोला
- B. अहमदनगर
- C. अमरावती
- D. औरंगाबाद

Answer: B. अहमदनगर

पुढील शब्दसमूहासाठी योग्य शब्द निवडा.
तोंडावर स्तुती करण्याचा गुण

- A. जयघोष
- B. तोंडपुजेपणा
- C. मितभाषी
- D. तोंडदेखले

Answer:	B.तोंडपुजेपणा
Reference ID:(22235)	खालीलपैकी सर्वात मोठा पर्याय कोणता आहे ?
	A.25 - 22 - 35 + 72 + 102 - 83 + 45 + 27
	B.48 - 17 - 25 + 32 - 126 + 104 + 44 + 71
	C.19 + 12 - 15 + 42 + 36 - 103 + 45 + 107
	D.44 + 67 - 25 - 32 - 26 + 104 - 44 - 13
Answer:	C.19 + 12 - 15 + 42 + 36 - 103 + 45 + 107
Reference ID:(25178)	'सूर्योदय' या शब्दाचा खालीलपैकी योग्य संधी विग्रह ओळखा.
	A.सूर्य + उदय
	B.सूर्य + दय
	C.सूर्य: + उदय
	D.सूर्य + ऊदय
Answer:	A.सूर्य + उदय
Reference ID:(31406)	भारताच्या संविधानातील कोणत्या कलमात राज्यातील राष्ट्रपती राजवठीची अंमलबजावणीचा उल्लेख केला आहे?
	A.अनुच्छेद 356

B.अनुच्छेद 14

C.अनुच्छेद 109

D.अनुच्छेद 359

Answer: A.अनुच्छेद 356

Reference ID:(25445) भारतातील सुल्तानपूर पक्षी अभयारण्य खालीलपैकी कोणत्या राज्यात आहे?

A.पंजाब

B.हरियाणा

C.राजस्थान

D.कर्नाटक

Answer: B.हरियाणा

Reference ID:(21500) जर A = 1, B = 2, C = 3, Z = 26, तर खालील पैकी कोणते पर्याय बरोबर आहे?

A. $\{B + O + Y\} = \{C + A + T\}$

B. $\{B + O + Y\} < \{C + A + T\}$

C. $\{B + O + Y\} > \{C + A + T\}$

D. $\{C + A + T\} = \{J + O + Y\}$

Answer: C. $\{B + O + Y\} > \{C + A + T\}$

Reference ID:(32440)

राष्ट्रीय समुद्र विज्ञान संस्था (एनआयओ) (National Institute of Oceanography) चे मुख्यालय येथे स्थित आहे.

A.गोवा

B.ओडिशा

C.आंध्र प्रदेश

D.केरळ

Answer:

A.गोवा

Reference ID:(32444)

दिल्लीतील 'राज घाट' _____ यांना समर्पित आहे.

A.राजीव गांधी

B.इंदिरा गांधी

C.महात्मा गांधी

D.जवाहरलाल नेहरू

Answer:

C.महात्मा गांधी

Reference ID:(30605)

Pick the correct meaning of the highlighted idiom: I am ready to go through **fire and water** for you.

A.Work closely with someone

B.Be ready to take on more responsibility

C.Stay honest with someone

D.Go through any difficulty

Answer: D.Go through any difficulty

Reference ID:(32441) 'चेराव नृत्य' हा _____ चे लोकनृत्य आहे.

A.नागालँड

B.मिझोरम

C.मणिपूर

D.मेघालय

Answer: B.मिझोरम

Reference ID:(28881) Supply the correct tense of the verb in the sentence: The tomatoes ____ when they were ripe. Amla ____ them for cooking.

A.Were picked..... needed

B.Was picked..... will need

C.Were picked..... need

D.Was picked..... needed

Answer: A.Were picked..... needed

Reference ID:(27892) Pick the correct meaning of the highlighted idiom or phrase from the following:
He has joined the army **of his own accord**.

A.Without being forced

B.With everyone's consent

C.On being forced to do something

D.Act without thinking

Answer:

A.Without being forced

Reference ID:(32446)

नागरहोल राष्ट्रीय उद्यान हे _____ राष्ट्रीय उद्यान म्हणूनही ओळखले जाते.

A.रामकृष्ण हेगडे

B.एस. आर. बोम्मई

C.राजीव गांधी

D.इंदिरा गांधी

Answer:

C.राजीव गांधी

Reference ID:(21219)

जर TOMATO हा शब्द AOOMTT असेल आणि BOWEL हा शब्द EOBLW असेल, तर HAZZAN हा शब्द _____ असेल.

A.AAHNZZ

B.ZZAAHN

C.ZZNHAA

D.NHZZAA

Answer:

A.AAHNZZ

Reference ID:(17366)

$3.25 + 2.55 + 4.75 - (3.5 + 10 - 2.5 + 4) = \underline{\hspace{1cm}}$

A.-4.25

B.-4.10

C.-4.45

D.-4.65

Answer: C.-4.45

Reference ID:(23654) खालीलपैकी समानार्थी शब्दाची चुकीची जोडी ओळखा

A.निबीड - घनदाट

B.पाहुणा - अतिथी

C.मान्य - कबूल

D.लावण्य - मीठ

Answer: D.लावण्य - मीठ

Reference ID:(20230) एक माणूस त्याच्या घरापासून उत्तर दिशेने 8 कि.मी. चालतो.
मग तो डावीकडे वळतो आणि 3 कि.मी. चालतो.
मग तो उजवीकडे वळतो आणि 1 कि.मी. चालतो.
मग तो उजवीकडे वळतो आणि 2 कि.मी. चालतो.
मग तो उजवीकडे वळतो आणि 4 कि.मी. चालतो.
मग तो डावीकडे वळतो आणि 1 कि.मी. चालतो.
तो त्याच्या घरापासून किती दूर आहे?

A.4 कि.मी.

B.5 कि.मी.

C.4. 5 कि.मी.

D.5. 5 कि.मी.

Answer:	B.5 कि.मी.
Reference ID:(31405)	पुढीलपैकी कोणते कलम राष्ट्रपतींना भारताच्या पंतप्रधानांची नियुक्ती करण्यास सक्षम करते?
	A.कलम 77
	B.कलम 76
	C.कलम 75
	D.कलम 74
Answer:	C.कलम 75
Reference ID:(28400)	Find the meaning of the word:: glutton
	A.surprised
	B.fasting
	C.hog
	D.shopper
Answer:	C.hog
Reference ID:(19979)	"अपेक्षाभंग" या शब्दाचा समानार्थी शब्द ओळखा.
	A.हिरमोड
	B.अमर्याद
	C.मस्करी

D.विकल्प

Answer: A.हिरमोड

Reference ID:(25441) पृथ्वीवरील वातावरणात आरगॉन वायूचे प्रमाण किती टक्के आहे?

A.0.004

B.0.04

C.0.83

D.0.93

Answer: D.0.93

Reference ID:(28119) Find the word opposite in meaning to the word: Caliber

A.Competence

B.Ability

C.Weakness

D.Talent

Answer: C.Weakness

Reference ID:(24670) प्रश्नातील वाक्यात रिकामी जागा भरण्यास सर्वात योग्य शब्द निवडा.
भरपूर पाऊस झाल्याने पाण्याच्या दुर्भिक्षाचा गंभीर प्रश्ननिघाला आहे.

A.सकलात

B.निकालात

C.पावलात

D.सखलात

Answer: B.निकालात

Reference ID:(34902) जर $21 \times 12 = 66$, $8 \times 13 = 42$ आणि $11 \times 19 = 60$, तर $4 \times 3 = ?$

A.11

B.12

C.7

D.14

Answer: D.14

Reference ID:(28627) Pick the right idiom which fits into the sentence: I reached my son's school _____ before the annual day could start.

A.At a stone's throw

B.At sea

C.In the nick of time

D.Through the nose

Answer: C.In the nick of time

Reference ID:(17112) खालीलपैकी सर्वात मोठा पर्याय कोणता आहे?

A.350 चे 70%

B.1300 चा $\frac{1}{4}$

C.0.15 × 1500

D.700 चा 2/5

Answer: B.1300 चा 1/4

Reference ID:(32445) प्रसिद्ध हिमालय पर्वतांसाठी 'हिमालय' हे नाव कोणत्या भाषेतून आले आहे?

A.इंग्रजी

B.प्राकृत

C.हिंदी

D.संस्कृत

Answer: D.संस्कृत

Reference ID:(18963) खालील शब्दाचा समास / समास प्रकार ओळखा.
काव्यामृत

A.अव्ययीभाव

B.कर्मधारय

C.द्विगु

D.तृतीया तत्पुरुष

Answer: B.कर्मधारय

Reference ID:(27384) Identify the figure of speech in the following sentence: The moon played hide and seek with the clouds.

A.Personification

B.Euphemism

C.Apostrophe

D.Hyperbole

Answer: A.Personification

Reference ID:(30378) Find the meaning of the highlighted word in the sentence: Somehow he always manages to **outwit** his opponents.

A.Protect

B.Assist

C.Clear out

D.Outsmart

Answer: D.Outsmart

Reference ID:(19471) प्रश्नात दिलेल्या वाक्प्रचाराचा योग्य वापर असलेले वाक्य पर्यायांमधून ओळखा. कात्रीत सापडणे

A.लग्नसमारंभात वाढल्या गेलेली मिठाई खाऊन सर्व मंडळी खुश झाली व ते कात्रीत सापडले.

B.दिलीपने आपला शाळेचा गृहपाठ कात्रीत पकडला होता.

C.शेवाळे बंधू आपला मिठाई बनविण्याचा व्यवसाय फार सुंदर कात्रीत पकडून चालवत होते.

D.दिवाकरवर असलेले बँकचे कर्ज आणि त्याच्या मुलाचा शिक्षणासाठी असलेला खर्च यामध्ये दिवाकरची अवस्था कात्रीत सापडल्यासारखी झाली होती.

Answer: D.दिवाकरवर असलेले बँकचे कर्ज आणि त्याच्या मुलाचा शिक्षणासाठी असलेला खर्च यामध्ये दिवाकरची अवस्था कात्रीत सापडल्यासारखी झाली होती.

Reference ID:(25151) समूहदर्शक शब्द ओळखा. जसा वस्तूचा संच तसा जहाजांचा

A.समूह

B.काफिला

C.ताफा

D.जमाव

Answer: B.काफिला

Reference ID:(19952) पुढील विधानाला जी म्हण योग्य असेल असा पर्याय ओळखा:
मालकीणबाईंनी गंगुबाईंना घर झाडल्यावर खिडक्यांच्या काचासुद्धा पुसायला सांगितल्या. मात्र गंगुबाईंनी घरी पाहुणे आले असल्याने लवकर जायचे आहे असे सांगून काचा पुसण्यास नकार दिला. तेव्हा मालकीणबाईंच्या मनात आले -

A.नाव सोनुबाई हाती कथलाचा वाळा

B.बोलाचाच भात बोलाचीच कढी

C.न कर्त्याचा वार शनिवार

D.सगळेच मुसळ केरात

Answer: C.न कर्त्याचा वार शनिवार

Reference ID:(24162) खालीलपैकी व्याकरणाच्या दृष्टीने शुद्ध शब्द-लेखन असलेला शब्द ओळखा.

A.बुबुक्षित

B.बुभूक्षित

C.बुभुक्षित

D.बाभुक्षीद

Answer: C.बुभुक्षित

Reference ID:(18709) तानाजी शौर्यनि लढला. या वाक्यातील काळ कोणता?

A.साधा भूतकाळ

B.साधा वर्तमानकाळ

C.पूर्ण भूतकाळ

D.चालू भविष्यकाळ

Answer: A.साधा भूतकाळ

Reference ID:(22563) खालीलपैकी सर्वात लहान पर्याय कोणता आहे ?

A. $55 + 11 - 75 + 42 - 62 - 13 + 45 + 27$

B. $118 + 17 - 25 + 32 - 126 + 104 - 44 - 37$

C. $79 + 42 + 165 + 42 + 36 - 103 + 45 + 17$

D. $38 - 107 - 25 - 32 - 26 + 104 + 144 - 7$

Answer: A. $55 + 11 - 75 + 42 - 62 - 13 + 45 + 27$

Question Paper Title : FG_10

Date of Exam : 14-06-2019 02:30 PM

Reference ID:(22825) जर \$ आहे '+' आणि @ आहे '-', तर खालीलपैकी सर्वात लहान पर्याय कोणता आहे ?

A.15 @ 22 \$ 65 @ 42 @ 62 \$ 103 @ 45 @ 27

B.18 @ 17 \$ 25 @ 32 \$ 26 @ 104 \$ 44 \$ 37

C.19 @ 12 \$ 165 @ 42 @ 36 @ 103 @ 45 @ 17

D.38 @ 107 \$ 25 \$ 32 \$ 26 @ 104 \$ 44 \$ 37

Answer: C.19 @ 12 \$ 165 @ 42 @ 36 @ 103 @ 45 @ 17

Reference ID:(32920) 'कलमकारी ब्लॉक प्रिंट' भारताच्या कोणत्या राज्यातील प्रसिद्ध आहे?

A.आंध्र प्रदेश

B.मध्य प्रदेश

C.उत्तर प्रदेश

D.पश्चिम बंगाल

Answer: A.आंध्र प्रदेश

Reference ID:(16893) $12/20 + 1.5 - 5/40 = ?$

A.1.225

B.2.7

C.1.975

D.1.175

Answer: C.1.975

Reference ID:(30613) Pick the correct meaning of the highlighted idiom: He is **not fit to hold a candle** to his brother.

A.Not a fit and healthy person

B.Be a strong willed person

C.Not be comparable with

D.To be mentally unstable

Answer: C.Not be comparable with

Reference ID:(28381) Find the meaning of the highlighted word in the sentence: She's a pretty **feisty** kid, isn't she?

A.Cowardly

B.Dull

C.Bubbly

D.Timid

Answer: C.Bubbly

Reference ID:(25186) "जगदीश्वर" या शब्दाचा खालीलपैकी योग्य संधी विग्रह ओळखा.

A.जगत + ईश्वर

B.जगत् + श्वर

C.जगत् + ईश्वर

D.जग + ईश्वर

Answer:

C.जगत् + ईश्वर

Reference ID:(22571)

खालीलपैकी सर्वात लहान पर्याय कोणता आहे ?

A.55 - 11 + 75 - 42 + 62 + 13 - 45 - 27

B.118 - 17 + 25 - 32 + 126 - 104 + 44 + 37

C.79 - 42 - 165 - 42 - 36 + 103 - 45 - 17

D.38 + 107 + 25 + 32 + 26 - 104 - 144 + 7

Answer:

C.79 - 42 - 165 - 42 - 36 + 103 - 45 - 17

Reference ID:(24651)

प्रश्नातील वाक्यात रिकामी जागा भरण्यास सर्वात योग्य शब्द निवडा.
विज्ञान आणि मानवतावादाची घालून काम करणे ही काळाची गरज आहे.

A.धनगड

B.भानगड

C.गडबड

D.सांगड

Answer:

D.सांगड

Reference ID:(31678)

महाराष्ट्रात भीमा नदीवर कोणते धरण बांधलेले आहे ?

A.इसापूर

B.उजनी

C.तोतला डोह

D.जायकवाडी

Answer:

B.उजनी

Reference ID:(30867)

Identify the figure of speech in the following sentence: He is a walking dictionary.

A.Hyperbole

B.Euphemism

C.Metaphor

D.Apostrophe

Answer:

C.Metaphor

Reference ID:(17628)

44 च्या $\frac{1}{8}$ + 50 च्या 60% + $0.30 \times 120 = \underline{\hspace{2cm}}$

A.73

B.71.5

C.73.5

D.70.75

Answer:

B.71.5

Reference ID:(32922)	भारतीय राष्ट्रीय कॅलेंडर कोणत्या युगावर आधारित आहे?
	A.विक्रम युग
	B.हिजरी युग
	C.साक/शक युग
	D.ख्रिश्चन युग
Answer:	C.साक/शक युग
Reference ID:(23662)	खालीलपैकी समानार्थी शब्दाची चुकीची जोडी ओळखा
	A.जीवन – आयुष्य
	B.फूल – पुष्प
	C.हिंमत – भीती
	D.ओढा – झरा
Answer:	C.हिंमत – भीती
Reference ID:(20238)	एक माणूस त्याच्या घरापासून पश्चिम दिशेने 12 कि.मी. चालतो. मग तो डावीकडे वळतो आणि 5 कि.मी. चालतो. मग तो उजवीकडे वळतो आणि 1 कि.मी. चालतो. मग तो उजवीकडे वळतो आणि 7 कि.मी. चालतो. मग तो उजवीकडे वळतो आणि 4 कि.मी. चालतो. मग तो उजवीकडे वळतो आणि 2 कि.मी. चालतो. तो त्याच्या घरापासून किती दूर आहे?
	A.8 कि.मी.
	B.9 कि.मी.
	C.7 कि.मी.
	D.7.5 कि.मी.

Answer: B.9 कि.मी.

Reference ID:(30386) Find the meaning of the word:: **Parched**

A.Saturate

B.Damp

C.Hydrate

D.Dry

Answer: D.Dry

Reference ID:(31679) महाराष्ट्र राज्यात सर्वात लांब नदी कोणती आहे?

A.भीमा

B.कोयना

C.गोदावरी

D.तापी

Answer: C.गोदावरी

Reference ID:(28862) Convert the simple sentence to a complex sentence: He bought his uncles house

A.The house which belonged to his uncle was bought by him

B.He bought the house in which his uncle was living

C.He bought the house which belonged to his uncle

D.He bought that house in which his uncle lives

Answer: C.He bought the house which belonged to his uncle

Reference ID:(23689)	'पोर्वात्य' या शब्दाचा विरुद्धार्थी शब्द ओळखा.
	A.पाश्चात्य
	B.अर्वाचीन
	C.अगमशाक्त
	D.दाक्षिणात्य
Answer:	A.पाश्चात्य
Reference ID:(26024)	खालीलपैकी कोणता देश महाविविधता देश नाही?
	A.भारत
	B.मादागास्कर
	C.व्हेनिझ्युएला
	D.श्रीलंका
Answer:	D.श्रीलंका
Reference ID:(18463)	खालीलपैकी केवल वाक्य कोणते?
	A.जेव्हा आरती सुरु झाली तेव्हा घंटानाद सुरु झाला.
	B.आरती सुरु झाली आणि घंटानाद सुरु झाला.
	C.आरती सुरु झाल्याशिवाय घंटानाद सुरु होणार नाही.
	D.आरती सुरु झाल्यावर घंटानाद सुरु झाला.

Answer: D.आरती सुरु झाल्यावर घंटानाद सुरु झाला.

Reference ID:(18717) मोर थुईथुई नाचतो. या वाक्यातील काळ कोणता?

A.साधा वर्तमानकाळ

B.रिती वर्तमानकाळ

C.चालू वर्तमानकाळ

D.पूर्ण वर्तमानकाळ

Answer: A.साधा वर्तमानकाळ

Reference ID:(21708) जर $A = 1, B = 2, C = 3, \dots Z = 26$, तर खालील पैकी कोणते पर्याय बरोबर आहे?

A. $\{D + O + G\} = \{N + P + I + N\}$

B. $\{D + O + G\} < \{N + P + I + N\}$

C. $\{D + O + G\} > \{N + P + I + N\}$

D. $\{N + P + I + N\} = \{V + E + R + B\}$

Answer: B. $\{D + O + G\} < \{N + P + I + N\}$

Reference ID:(24905) पुढील शब्दसमूहासाठी योग्य शब्द निवडा.
कष्ट करुन जिवन जगणारे

A.पीडित

B.गरीब

C.श्रमजीवी

D.शोषित

Answer:	C.श्रमजीवी
Reference ID:(18236)	कधीं बाप जल्मामधीं घडूं नहीं ते घडल जस कंगूल्याच लेंकरु बंगल्यावरती चढल । वरील ओळीतील वृत्त ओळखा.
	A.ओवी
	B.अभंग
	C.नववधू
	D.पादाकुलक
Answer:	A.ओवी
Reference ID:(28889)	Supply the correct tense of the verb in the sentence: She ___all the peas before I cut all the potatoes.
	A.Had shelled
	B.Shelled
	C.shelling
	D.Was shelling
Answer:	A.Had shelled
Reference ID:(18490)	रामुने कुत्र्यास हाकलले. ह्या वाक्यातील प्रयोग ओळखा.
	A.कर्मणी
	B.भावे

C.अकर्मक कर्तरी

D.सकर्मक कर्तरी

Answer:

B.भावे

Reference ID:(19733)

"उलटी अंबारी हाती येणे" या म्हणीचा अर्थ खालीलपैकी कोणता ते ओळखा?

A.अक्षरशः भिक मागायची पाळी येणे

B.हत्तीच्या पाठीवर बसताना तोल जाऊन खाली पडणे

C.अनपेक्षितपणे खूप मोठी संपत्ती हाती येणे

D.स्वतःच्या हातून चूक झाल्यामुळे मोठे आर्थिक नुकसान होणे

Answer:

A.अक्षरशः भिक मागायची पाळी येणे

Reference ID:(28127)

Find the meaning of the highlighted word in the sentence: The girls **cap** cost her a twisted ankle.

A.Song

B.Mischief

C.Agression

D.Humility

Answer:

B.Mischief

Reference ID:(26026)

‘जागतिक व्याघ्र दिन’ म्हणून दरवर्षी _____ रोजी जगभर साजरा केला जातो.

A.29 जून

B.29 जुलै

C.27 जुलै

D.29 मे

Answer:

B.29 जुलै

Reference ID:(22597)

जर \$ आहे '+' आणि @ आहे '-', तर खालीलपैकी सर्वात मोठा पर्याय कोणता आहे ?

A.152 @ 65 @ 32 \$ 74 \$ 105 @ 93 \$ 42 \$ 37

B.48 \$ 17 \$ 52 \$ 35 @ 156 @ 104 \$ 34 \$ 74

C.19 @ 15 @ 42 \$ 45 \$ 36 @ 103 \$ 42 \$ 507

D.144 @ 67 @ 52 \$ 35 @ 56 \$ 104 @ 44 @ 13

Answer:

C.19 @ 15 @ 42 \$ 45 \$ 36 @ 103 \$ 42 \$ 507

Reference ID:(26029)

खालीलपैकी कोणाला 'बर्डमॅन ऑफ इंडिया' म्हणून ओळखले जाते.

A.एम.एस. स्वामीनाथन

B.माधव गाडगीळ

C.सलीम अली

D.सुंदरलाल बहुगुणा

Answer:

C.सलीम अली

Reference ID:(29624)

Pick the Synonym for the word:
Captious

A.Critical

B.Undemanding

C.Charitable

D.Forgiving

Answer:

A.Critical

Reference ID:(22243)

खालीलपैकी सर्वात मोठा पर्याय कोणता आहे ?

A. $25 + 22 + 35 - 72 - 102 + 83 - 45 - 27$

B. $48 + 17 + 25 - 32 + 126 - 104 - 44 - 71$

C. $19 - 12 + 15 - 42 - 36 + 103 - 45 - 107$

D. $44 - 67 + 25 + 32 + 26 - 104 + 44 + 13$

Answer:

D. $44 - 67 + 25 + 32 + 26 - 104 + 44 + 13$

Reference ID:(20492)

जर $S + U + N = 54$, $C + A + R = 22$, तर $P + L + A + Y = \underline{\quad}$?

A.53

B.54

C.55

D.56

Answer:

B.54

Reference ID:(25413)

"देवर्षी" या शब्दाचा खालीलपैकी योग्य संधी विग्रह ओळखा.

A.देव + र्षी

B.देव + अर्षी

C.देव + ऋषी

D.देव + रुषी

Answer: C.देव + ऋषी

Reference ID:(30640) Convert the following active to passive voice: The government is planning a new road near my house

A.A new road by the government is being planned near my house

B.A new road was to be planned near my house by the government

C.A new road near my house is being planned by the government

D.Near my house a new road is being planned by the government

Answer: C.A new road near my house is being planned by the government

Reference ID:(32918) भारतातील प्रथम मल्टी स्पोर्ट्स संग्रहालय कोठे आहे?

A.कोलकाता

B.गुजरात

C.मुंबई

D.बैंगलोर

Answer: A.कोलकाता

Reference ID:(24170) खालीलपैकी व्याकरणाच्या दृष्टीने शुद्ध शब्द-लेखन असलेला शब्द ओळखा.

A.अतींद्रिय

B.अतिद्रिय

C.अतिद्रीय

D.अतीद्रीय

Answer: A.अतीद्रिय

Reference ID:(27619) Identify the figure of speech in the following sentence: The actor was seriously funny.

A.Oxymoron

B.Apostrophe

C.Euphemism

D.Personification

Answer: A.Oxymoron

Reference ID:(18998) खालील शब्दाचा समास / समास प्रकार ओळखा.
सहकुटुंब

A.द्वंद्व

B.सहबहुव्रीहि

C.अव्ययीभाव

D.तत्पुरुष

Answer: B.सहबहुव्रीहि

Reference ID:(30105) Pick the right antonym for the word:
Gaiety

A.Woe

B.Fortune

C.Prosperty

D.bliss

Answer: A.Woe

Reference ID:(19960)

पुढील विधानाला जी म्हण योग्य असेल असा पर्याय ओळखा:
कार्यालयात अलोकने खोटेपणा केला होता. सुनील त्याची तक्रार घेऊन मालकांकडे गेला तेव्हा
मालकांनी त्याला प्रथम दार लावून घेण्यास सांगितले. कारण

A.भिंतींना कान असतात

B.बोलणाऱ्याचे तोंड दिसते करणाऱ्याची कृती दिसत नाही

C.धर्म करता कर्म उभे राहते

D.घर ना दार देवळी बिऱ्हाड

Answer: A.भिंतींना कान असतात

Reference ID:(29878)

Pick the right antonym for the word:
genuine

A.Fictitious

B.Actual

C.Authentic

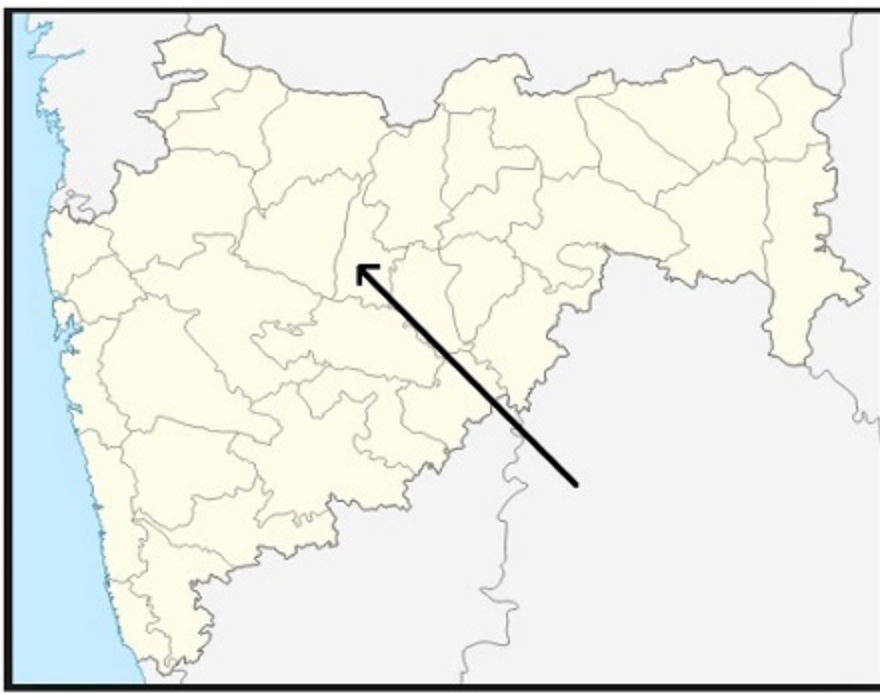
D.Pure

Answer: A.Fictitious

Reference ID:(20465)	X चे उत्तर पूर्व दिशेला तोंड आहे. तो 90 अंश डावीकडे वळतो. मग तो 70 अंश उजवीकडे वळतो. मग तो 180 अंश वळतो. मग तो 90 अंश उजवीकडे वळतो. शेवटी तो डावीकडे 25 अंश वळतो. आता तो कोणत्या दिशेला तोंड करून उभा आहे?
	A.पश्चिम
	B.दक्षिण
	C.पूर्व
	D.उत्तर
Answer:	A.पश्चिम
Reference ID:(18744)	पुढीलपैकी पूर्ण वर्तमानकाळातील वाक्य कोणते?
	A.मी रोज फिरायला जातो.
	B.मी रोज व्यायाम करतो.
	C.मी फिरायला गेलो आहे.
	D.मी दररोज फिरायला जातो.
Answer:	C.मी फिरायला गेलो आहे.
Reference ID:(29143)	Pick the right meaning of the highlighted word in the sentence: Before Ravi went overseas, he went to the trouble of learning the indigenous customs and languages of the countries he planned to visit.
	A.An immigrant of some other place
	B.Imported from someplace else
	C.Native to a country or place
	D.An alien person or thing
Answer:	C.Native to a country or place

Reference ID:(29397)	Pick the right meaning of the highlighted word in the sentence: For days she was morose , and he could do nothing to cheer her up
	A.To be sad about something
	B.Showing unreal excitement about something
	C.To be happy about something
	D.To be scared about something
Answer:	A.To be sad about something
Reference ID:(24197)	खालीलपैकी व्याकरणाच्या दृष्टीने अशुद्ध शब्द-लेखन असलेला शब्द ओळखा.
	A.खटाटोप
	B.निद्रित
	C.अतिशयोक्ती
	D.सकूटुबं
Answer:	D.सकूटुबं
Reference ID:(31671)	भारतातील सर्वात मोठे पोस्ट ऑफिस _____ आहे.
	A.दिल्ली जीपीओ
	B.कोलकाता जीपीओ
	C.मुंबई जीपीओ
	D.चेन्नई जीपीओ
Answer:	C.मुंबई जीपीओ

Reference ID:(23916)	खालीलपैकी विरुद्धार्थी शब्दाची बरोबर जोडी ओळखा.
	A.हर्ष x तोष
	B.ददात x उणीव
	C.घाऊक x किरकोळ
	D.तसदी x त्रास
Answer:	C.घाऊक x किरकोळ
Reference ID:(19479)	प्रश्नात दिलेल्या वाक्प्रचाराचा योग्य वापर असलेले वाक्य पर्यायांमधून ओळखा. अक्षय राहणे
	A.भारतीय क्रांतीवीरांचे कार्य भारताच्या इतिहासात अक्षय राहिल.
	B.समुद्राच्या लाटांनी वाळूवर लिहिलेले नाव अक्षय राहते.
	C.पैशाची बचत न करता सतत खर्च करून अक्षय राहते.
	D.खाऊ अक्षय रहायला हवा असेल तर खाऊन टाकला पाहिजे.
Answer:	A.भारतीय क्रांतीवीरांचे कार्य भारताच्या इतिहासात अक्षय राहिल.
Reference ID:(20719)	जर DC = 14, B A L L = 54, H A V E = 72, तर M A D E = ___?
	A.45
	B.44
	C.46
	D.47
Answer:	C.46



महाराष्ट्रातील नकाशात बाणने दर्शविलेला जिल्हा खालीलपैकी कोणता आहे?

A. बुलढाणा

B. जालना

C. हिंगोली

D. औरंगाबाद

Answer:

B. जालना

Reference ID:(17855)

15 च्या $\frac{1}{6}$ + 44 च्या 25% च्या 200% + $0.25 \times 60 = \underline{\hspace{2cm}}$

A. 41

B. 41.5

C. 38.75

D. 39.5

Answer:	D.39.5
Reference ID:(21227)	जर LETTUCE हा शब्द TELTUEC असेल आणि COMPUTE हा शब्द MOCPUET असेल, तर AVENUES हा शब्द _____ असेल.
	A.EVANUES
	B.EVAUNES
	C.EVANUSE
	D.EVAUENS
Answer:	C.EVANUSE
Reference ID:(26030)	भारतातील _____ हा कायदा जंगली प्राणी, पक्षी आणि वनस्पतींचे संरक्षण पुरवतो.
	A.वन्यजीव संरक्षण
	B.पर्यावरण आणि वन
	C.जैविक विविधता
	D.पर्यावरण संरक्षण
Answer:	A.वन्यजीव संरक्षण
Reference ID:(24932)	पुढील शब्दसमूहासाठी योग्य शब्द निवडा. पंधरा दिवसांच्या कालावधीने प्रसिद्ध होणारे नियतकालिक
	A.त्रैमासिक
	B.पाक्षिक
	C.साप्ताहिक
	D.मासिक

Answer:	B.पाक्षिक
Reference ID:(16866)	जर @ आहे 'भागाकार' आणि \$ आहे 'गुणाकार', तर खालीलपैकी सर्वात मोठा पर्याय कोणता आहे?
	A.39@5
	B.4.25\$1.5
	C.31@4
	D.2.75\$1.5
Answer:	A.39@5
Reference ID:(26023)	'कॉन्झर्व्हेशन इंटरनॅशनल' ने घोषित केलेल्या जैवविविधता हॉटस्पॉटसची संख्या जगात किती आहे?
	A.25
	B.30
	C.36
	D.39
Answer:	C.36
Reference ID:(32926)	जयपूरमध्ये हवा महल कोणी बनवला?
	A.महाराणा प्रताप
	B.उदय सिंह
	C.सवाई प्रताप सिंह
	D.माधो सिंह
Answer:	C.सवाई प्रताप सिंह

Reference ID:(19987)	'भार' या शब्दाचा समानार्थी शब्द ओळखा.
	A.वजन
	B.क्षार
	C.अवघड
	D.कठीण
Answer:	A.वजन
Reference ID:(32923)	संस्कृत व्याकरणाचे जनक म्हणून कोण ओळखले जाते?
	A.कालिदास
	B.तुलसीदास
	C.पाणिनि
	D.सूरदास
Answer:	C.पाणिनि
Reference ID:(35164)	खाली दिलेल्या पत्त्यापैकी 3 पत्ते समान आहेत आणि 1 भिन्न आहे. कोणता पत्ता भिन्न ते ओळखा?
	A.Post And Village Kandwa Varanasi – 221106 Uttar Pradesh PH 0790750170

B.Post And Village Kandwa
Varanasi – 221106
Uttar Pradesh
PH 0790750170

C.Post And Vllilage Kandwa
Varanasi – 221106
Uttar Pradesh
PH 0790750170

D.Post And Village Kandwa
Varanasi – 221106
Uttar Pradesh
PH 0790750170

Answer:

C.Post And Vllilage Kandwa
Varanasi – 221106
Uttar Pradesh
PH 0790750170

Reference ID:(30359)

Find the meaning of the highlighted word in the sentence: Seema who was **nimble** on her feet, learnt to dance very quickly.

A.Strong

B.Light-footed

C.Soft

D.Lethargic

Answer:

B.Light-footed

Reference ID:(20746)

जर UK = 116, GUY = 41113, तर 712 _____ असू शकते

A.MAC

B.MAI

C.GAB

D.MAE

Answer: A.MAC

Reference ID:(28354) Find the meaning of the word:: **Discern**

A.Detect

B.Confuse

C.Overlook

D.Mix up

Answer: A.Detect

Reference ID:(31674) 'ऑलिव्ह तेल रिफायनरी' स्थापन करणारे भारतातील पहिले राज्य ___ आहे.

A.राजस्थान

B.उत्तर प्रदेश

C.ओडिशा

D.महाराष्ट्र

Answer: A.राजस्थान

Reference ID:(26022) खालीलपैकी कोणत्या राष्ट्रीय उद्यानात कस्तुरी हरिण प्रकल्प (प्रोजेक्ट मस्क डीयर) १९७२ सुरू करण्यात आला होता?

A.दचीगम राष्ट्रीय उद्यान

B.केदारनाथ राष्ट्रीय उद्यान

C.जीम कॉर्बेट राष्ट्रीय उद्यान

D.पीन व्हॅली राष्ट्रीय उद्यान

Answer: B.केदारनाथ राष्ट्रीय उद्यान

Reference ID:(19706) पुढील म्हण पूर्ण करण्यासाठी योग्य पर्याय निवडा. कावळ्याच्या शापाने मरत नसतात.

A.गाई

B.बाई

C.वासरे

D.मोर

Answer: A.गाई

Reference ID:(18209) तू माऊलीहून मयाळ | चंद्राहूनि शीतळ |
पाण्याहूनि पातळ | कल्लोळ प्रेमाचा ||
संत ज्ञानेश्वरांच्या ह्या काव्यपंक्तिमध्ये कोणता अलंकार वापरला आहे.

A.भ्रंतिमान

B.अपन्हुती

C.स्वभावोक्ति

D.व्यतिरेक

Answer: D.व्यतिरेक

Reference ID:(21454) जर CLEMENTINE हा शब्द ZIBJBKQFKB असेल, तर ENTAWAK हा शब्द _____ असेल.

A.BKQXTXH

B.BKPXTXH

C.BKQYTYH

D.BJQYTYG

Answer: A.BKQXTXH

Reference ID:(20973) मालिकेतील रिकामी जागा भरा: A, M, B, N, C, __, D, P, E

A.O

B.G

C.H

D.R

Answer: A.O

Reference ID:(23435) 'विहीर' या शब्दाचा समानार्थी शब्द ओळखा.

A.वापी

B.पट

C.याग

D.विहग

Answer: A.वापी

Reference ID:(30132) Find the meaning of the highlighted word in the sentence: Lack of oxygen may **inhibit** brain development in humans.

A.Frees

B.Clears

C.Hinder

D.Smooth's

Answer: C.Hinder

Reference ID:(25159) समूहदर्शक शब्द ओळखा. जसा चाव्यांचा जुडगा तसा पुस्तकाचा _____.

A.गट्टा

B.टोळी

C.घोस

D.जुडी

Answer: A.गट्टा

Reference ID:(26028) _____ ही पर्यावरणीय संरक्षणाची नियमन आणि सुनिश्चिती करण्यासाठी भारतातील केंद्रीय प्रशासकीय संस्था आहे.

A.पर्यावरण आणि वन मंत्रालय

B.पृथ्वी विज्ञान मंत्रालय

C.ग्राहक व्यवहार, अन्न व सार्वजनिक वितरण मंत्रालय

D.विज्ञान आणि तंत्रज्ञान मंत्रालय

Answer: A.पर्यावरण आणि वन मंत्रालय

Reference ID:(31677) टाटा ग्रुपचे सध्याचे अध्यक्ष कोण आहेत? (1 एप्रिल 2019 रोजी)

A.एन. चंद्रशेखरन

B.रतन टाटा

C.बोमन रुस्तम इरानी

D.सायरस मिस्त्री

Answer: A.एन. चंद्रशेखरन

Reference ID:(21481) जर A = 1, B = 2,M = 13; आणि N = 13, O = 12, Z = 1, तर खालील पैकी कोणते पर्याय बरोबर आहे?

A.{B + O + Y} > {F + L + Y}

B.{B + O + Y} = {F + L + Y}

C.{B + O + Y} < {F + L + Y}

D.{B + O + Y} = {J + O + Y}

Answer: C.{B + O + Y} < {F + L + Y}

Reference ID:(26027) देहारादून मधील "वन संशोधन संस्था" (FRI) ची स्थापना खालीलपैकी कोणत्या साली झाली?

A.1906

B.1957

C.1970

D.1857

Answer: A.1906

Reference ID:(17601) $9.55 + 5.95 + 4.75 - (9.25 - 5.50 - 4.75) = \underline{\hspace{1cm}}$

A.20.1

B.21.50

C.20.6

D.21.25

Answer: D.21.25

Reference ID:(27365) Identify the figure of speech in the following sentence: The clouds were like ice cream castles in the sky.

A.Euphemism

B.Simile

C.Personification

D.Oxymoron

Answer: B.Simile

Reference ID:(27646) Pick the correct meaning of the highlighted idiom or phrase from the following:
Vivek was deep in thought when his professor said
a penny for your thoughts

A.A way of asking what one is thinking

B.To pay someone to get their opinion

C.To scold someone for not paying attention

D.To not concentrating on something

Answer: A.A way of asking what one is thinking

Reference ID:(17147) $9.85 + 2.6 + 3.35 - (9.55 - 3.95 - 3.75) = \underline{\hspace{1cm}}$

A.14

B.13.95

C.13.5

D.13.4

Answer: B.13.95

Reference ID:(21000) मालिकेतील रिकामी जागा भरा: 2, __, 18, 41, 74

A.8

B.5

C.7

D.6

Answer: B.5

Reference ID:(27900) Find the meaning of the highlighted word in the sentence: Their instincts warned them something was **amiss**.

A.Right

B.Suitable

C.Untoward

D.Perfect

Answer: C.Untoward

Reference ID:(19225) द्राविडी प्राणायाम करणे. या वाक्प्रचाराचा खालीलपैकी कोणता अर्थ योग्य आहे?

A.सहजरित्या होणारे काम कठीणरित्या पूर्ण करणे

B.लोकांना द्राविडी नावाचा योगाचा प्रकार शिकवणे

C.कोणतेही काम करताना श्वास जोरात सोडणे

D.योगा करताना नमस्कार करणे

Answer: A.सहजरित्या होणारे काम कठीणरित्या पूर्ण करणे

Reference ID:(18971) खालील शब्दाचा समास / समास प्रकार ओळखा.
चंद्रमुखी

A.चतुर्थी तत्पुरुष

B.कर्मधारय

C.द्विगु

D.द्वंद्व

Answer: B.कर्मधारय

Reference ID:(17882)	X हा Y हून 10% नी मोठा आहे. मग Y हा X हून _____ % लहान आहे.
	A.10
	B.90
	C.9.09
	D.9
Answer:	C.9.09

Reference ID:(17120)	खालीलपैकी सर्वात मोठा पर्याय कोणता आहे?
	A.350 चे 80%
	B.950 चा 1/4
	C.0.35 × 900
	D.900 चा 2/5
Answer:	D.900 चा 2/5

Reference ID:(26021)	2019 साली रामसर यादीत समाविष्ट केलेले भारतातील दलदली क्षेत्र खालीलपैकी कोणते होते?
	A.वेंबनाड कोल
	B.चिल्का सरोवर
	C.सुंदरबन
	D.कच्छचे आखात
Answer:	C.सुंदरबन

Reference ID:(24678)

प्रश्नातील वाक्यात रिकामी जागा भरण्यास सर्वात योग्य शब्द निवडा.
क्रांती दिनाला सर्व क्रांतिकारकांच्या प्रतिमेस पुष्पहार अर्पण करूनकरण्यात आले.

A.अभिवादन

B.आक्रंदन

C.समर्दन

D.स्वादन

Answer:

A.अभिवादन

Reference ID:(31673)

महाराष्ट्रातील सर्वोच्च शिखर _____ आहे.

A.कळसुबाई

B.लोहगड

C.रायगड

D.महाबळेश्वर

Answer:

A.कळसुबाई

Reference ID:(29370)

Pick the right meaning of the highlighted word in the sentence:
He had obtained all this wealth through **deception**

A.Resorting to fraud or trickery

B.Being honest about something

C.With hard work

D.With smart work

Answer:

A.Resorting to fraud or trickery

Reference ID:(23943)	खालीलपैकी विरुद्धार्थी शब्दाची चुकीची जोडी ओळखा.
	A.सुलक्षणी x कुलक्षणी
	B.निर्गुण x सगुण
	C.नियंत्रित x निराकार
	D.प्रामाणिक x अप्रामाणिक
Answer:	C.नियंत्रित x निराकार
Reference ID:(19452)	खालीलपैकी वाक्प्रचाराचा अयोग्य वापर असलेले वाक्य कोणते?
	A.आग्याचा ताजमहाल पाहून आम्ही तोंडात बोटे घातली.
	B.रामरावांच्या श्रीमंतीने सर्वांनी तोंडात बोटे घातली.
	C.त्या मुलीला तोंडात बोटे घालायची सवय आहे.
	D.कसरतीच्या खेळातील छोट्या मुलीचे करतब प्रेक्षक तोंडात बोटे घालून पाहत राहिले.
Answer:	C.त्या मुलीला तोंडात बोटे घालायची सवय आहे.
Reference ID:(34937)	जर सांकेतिक भाषेत 432567 हे 523476 आहे , तर 562189 हे सांकेतिक भाषेत काय असेल?
	A.653098
	B.652098
	C.653198
	D.652189
Answer:	A.653098

Reference ID:(32921)

भारतातील हरित क्रांतीचे जनक कोण आहेत?

A.हिरालाल चौधरी

B.एम. एस. स्वामीनाथन

C.व्हर्गीज कुरियन

D.शालीहोत्रा

Answer:

B.एम. एस. स्वामीनाथन

Reference ID:(16539)

80 च्या 25% - $16/20 + 2.5 = \underline{\hspace{2cm}}$

A.22.2

B.21.45

C.21.7

D.22.1

Answer:

C.21.7

Reference ID:(27038)

Find the meaning of the highlighted word in the sentence: His theory was **ridiculed** and not accepted.

A.Appreciated

B.Mocked

C.Analysed

D.Respected

Answer:

B.Mocked

Reference ID:(31672)	"मुंबई नैसर्गिक इतिहास परिषद (BNHS)"चा लोगो काय आहे?
	A.किंगफिशर
	B.माळढोक
	C.ग्रेट हॉर्नबिल
	D.पारवा
Answer:	C.ग्रेट हॉर्नबिल
Reference ID:(20211)	X चे पूर्व दिशेला तोंड आहे. तो 90 अंश उजवीकडे वळतो. मग तो 45 अंश उजवीकडे वळतो. मग तो 180 अंश वळतो. मग तो 45 अंश उजवीकडे वळतो. शेवटी तो डावीकडे 90 अंश वळतो. आता तो कोणत्या दिशेला तोंड करून उभा आहे?
	A.पूर्व
	B.पश्चिम
	C.दक्षिण
	D.उत्तर
Answer:	D.उत्तर
Reference ID:(32924)	पुणे येथे सत्य शोधक समाजाची स्थापना _____ यांनी केली होती.
	A.महात्मा गांधी
	B.ज्योतिबा फुले
	C.पंडिता रमा बाई
	D.बी.आर. आंबेडकर
Answer:	B.ज्योतिबा फुले

Reference ID:(27873)

Pick the correct meaning of the highlighted idiom or phrase from the following:
Pranav decided not to bring up the topic of the fight with his sister and **to let sleeping dogs lie**

A.To not disturb a current situation

B.To postpone a discussion with someone

C.To handle something or someone with utmost care

D.To make someone feel sorry for something they did or said

Answer:

A.To not disturb a current situation

Reference ID:(32927)

जगप्रसिद्ध पुष्कर तलाव _____ मध्ये स्थित आहे.

A.जयपूर जिल्हा

B.जोधपूर जिल्हा

C.अजमेर जिल्हा

D.कोटा जिल्हा

Answer:

C.अजमेर जिल्हा

Reference ID:(27011)

Select the correct passive voice form of the sentence: You do not forget your lesson.

A.Your lesson is not to be forgotten by you

B.Do not forget your lesson

C.Is your lesson being forgotten by you?

D.Forgetting the lesson is not done by you

Answer:

A.Your lesson is not to be forgotten by you

Reference ID:(17374) $3.25 + 2.95 + 4.75 - (3.25 - 6.55 + 4.75) = \underline{\hspace{1cm}}$

A.8.85

B.9.45

C.9.50

D.8.95

Answer: C.9.50

Reference ID:(28608) Find the meaning of the highlighted word in the sentence: He was a man of few words but many **graphic** gestures.

A.Obscure

B.Striking

C.Vague

D.Petty

Answer: B.Striking

Reference ID:(30894) Identify the figure of speech in the following sentence: He was awfully lucky to escape the crash without getting killed.

A.Personification

B.Euphemism

C.Oxymoron

D.Apostrophe

Answer:	C.Oxymoron
Reference ID:(26025)	भारतातील किती जीवावरण राखीव क्षेत्राचा समावेश युनेस्कोच्या जीवावरण राखीव क्षेत्रांच्या जागतिक जाळ्यांमध्ये झालेला आहे?
	A.4
	B.5
	C.6
	D.11
Answer:	D.11
Reference ID:(32925)	भारतातील सेंट्रल लेदर रिसर्च इंस्टिट्यूट कोठे आहे?
	A.चेन्नई
	B.विजयवाडा
	C.विशाखापट्टणम
	D.गुंटूर
Answer:	A.चेन्नई
Reference ID:(31675)	भारतीय संविधानाने कोणत्या देशाकडून उद्देशिका (Preamble) घेतली आहे.
	A.कॅनडा

B.युनायटेड किंगडम

C.ऑस्ट्रेलिया

D.युनायटेड स्टेट्स ऑफ अमेरिका

Answer: D.युनायटेड स्टेट्स ऑफ अमेरिका

Reference ID:(34910) जर $32 \times 54 = 172$, $27 \times 23 = 100$ आणि $21 \times 79 = 200$, तर $64 \times 7 = ?$

A.140

B.135

C.142

D.78

Answer: C.142

Reference ID:(29116) Fill in the blanks with the correct form of future continuous or future perfect tense: By next Tuesday, I ____ ten years in this office.

A.Will have completed

B.Completed

C.Am Completing

D.To be completing

Answer: A.Will have completed

Reference ID:(28635)

Pick the right idiom which fits into the sentence: The loss of his job was a _____ for him

A.Bolt from the blue

B.Black sheep

C.Besides the mark

D.All Hebrew

Answer:

A.Bolt from the blue

Reference ID:(24424)

खालीलपैकी व्याकरणाच्या दृष्टीने शुध्द वाक्याचा पर्याय निवडा.

A.त्याने देशासाठी जीवाची परवा केली नाही.

B.त्यांनी काशीला पर्याण केले.

C.उद्या स्वामींचे पर्वचन आहे.

D.तुमच्या शाबासकीने मला प्रोत्साहन मिळाले.

Answer:

D.तुमच्या शाबासकीने मला प्रोत्साहन मिळाले.

Reference ID:(29851)

Pick the Synonym for the word:
Indolent

A.Lazy

B.Bright

C.Perky

D.Dynamic

Answer:

A.Lazy

Reference ID:(31676)	पुढीलपैकी कोण संविधान सभेच्या राष्ट्रीय ध्वजावरील तात्काळीक समिती (Ad hoc committee on the National Flag) चे अध्यक्ष होते?
	A.जे. बी. कृपलानी
	B.जवाहरलाल नेहरू
	C.डॉ. राजेंद्र प्रसाद
	D.अल्लादी कृष्णस्वामी अय्यर
Answer:	C.डॉ. राजेंद्र प्रसाद
Reference ID:(27392)	Identify the figure of speech in the following sentence: The garden was begging for water.
	A.Oxymoron
	B.Simile
	C.Personification
	D.Euphemism
Answer:	C.Personification
Reference ID:(32919)	पुढीलपैकी कोणती आर्थिक मालमत्ता आहे?
	A.सोने
	B.जमीन
	C.चांदी
	D.बाँड

Answer:	D.बाँड
Reference ID:(16512)	सहा जण A , B , C , D , E आणि F हे दोन रांगामध्ये एकमेकांकडे तोंड करुन बसले आहेत. दोन्ही रांगामध्ये प्रत्येकी तीन जण आहेत. E हा कोणत्याही रांगेच्या शेवटी बसलेला नाही. D हा F च्या डावीकडे दुसऱ्या क्रमांकावर आहे. E चा शेजारी बसलेला A हा D च्या कर्णाभिमुख आहे. C हा F च्या शेजारी आहे. E आणि D ची जागेची अदलाबदल केल्यानंतर नव्या ठिकाणी D चा शेजारी कोण असतील?
	A.A आणि B
	B.F आणि B
	C.A आणि C
	D.वरीलपैकी काहीही नाही
Answer:	A.A आणि B

Question Paper Title : FG_01

Date of Exam : 25-06-2019 10:00 AM

Reference ID:(17392) $4.50 + 5.25 + 6.75 - (4.30 + 5.25 - 9.75) = \underline{\hspace{2cm}}$

A.16.35

B.16.25

C.16.85

D.16.7

Answer: D.16.7

Reference ID:(16857) जर @ आहे 'भागाकार' आणि \$ आहे 'गुणाकार', तर खालीलपैकी सर्वात लहान पर्याय कोणता आहे?

A.24@5

B.1.5\$4.25

C.23@3

D.3\$1.5

Answer: D.3\$1.5

Reference ID:(18962) खालील शब्दाचा समास / समास प्रकार ओळखा.
घननीळ

A.कर्मधारय

B.बहुव्रीहि

C.द्वंद्व

D.अव्ययीभाव

Answer:

A.कर्मधारय

Reference ID:(25434)

परिस्थितिकी म्हणजे _____.

A.सजीवांची परस्परांमधील आंतरक्रिया

B.अजैविक पर्यावरणाचा अभ्यास

C.सजीवांची अजैविक घटकांशी होणारी आंतरक्रिया

D.सजीवांची परस्परांमधील व पर्यावरणाशी होणारी आंतरक्रिया

Answer:

D.सजीवांची परस्परांमधील व पर्यावरणाशी होणारी आंतरक्रिया

Reference ID:(27383)

Identify the figure of speech in the following sentence: Rita heard the last piece of cake call her name.

A.Metaphor

B.Simile

C.Personification

D.Euphemism

Answer:

C.Personification

Reference ID:(29107)

Fill in the blanks using the right form of simple present or present continuous tense: Anu _____ a dress for herself at the moment. She _____ all her clothes herself.

A.Is making..... stitches

B.Makes..... stitches

C.Is making..... has stitched

D.Makes..... is stitching

Answer:

A.Is making..... stitches

Reference ID:(25431)

रामसर करार खालीलपैकी कोणत्या परिसंस्थांच्या संवर्धनाशी निगडीत आहे?

A.सागरी परिसंस्था

B.खारफुटी वने

C.प्रवाळ भित्तिका

D.दलदली / पाणथळ प्रदेश

Answer:

D.दलदली / पाणथळ प्रदेश

Reference ID:(22816)

जर \$ आहे '+' आणि @ आहे '-', तर खालीलपैकी सर्वात लहान पर्याय कोणता आहे ?

A.118 \$ 17 @ 25 \$ 32 @ 126 \$ 104 @ 44 @ 37

B.79 \$ 42 \$ 165 \$ 42 \$ 36 @ 103 \$ 45 \$ 17

C.38 @ 107 @ 25 @ 32 @ 26 \$ 104 \$ 144 @ 7

D.125 @ 62 @ 35 \$ 74 \$ 102 @ 93 \$ 45 \$ 37

Answer:

A.118 \$ 17 @ 25 \$ 32 @ 126 \$ 104 @ 44 @ 37

Reference ID:(17900)	उपमानाच्या जागी उपमेयच आहे असा भ्रम निर्माण होऊन तशी काही वृत्ती घडली तर तिथे अलंकार असतो.
	A.अर्थान्तरन्यास
	B.उपमा
	C.व्यतिरेक
	D.भ्रांतिमान
Answer:	D.भ्रांतिमान
Reference ID:(19470)	प्रश्नात दिलेल्या वाक्प्रचाराचा योग्य वापर असलेले वाक्य पर्यायांमधून ओळखा. बोटे मोडणे
	A.देवासमोर बोटे मोडल्याशिवाय वैशाली कोणत्याही नवीन कामाचा शुभारंभ करित नसे.
	B.गणेशने अमोल कडून उधार घेतलेले पैसे वेळेवर परत न केल्यामुळे अमोलच्या घराची मंडळी नेहेमी गणेशच्या नावाने बोटे मोडायची.
	C.हिंदी सिनेमामध्ये नेहेमी सिनेमाचा नायक हा सर्व गुंडांची प्रथम बोटे मोडतो व नंतर त्यांची डोकी फोडतो.
	D.कॉम्प्युटर वर सतत काम करून लक्ष्मीची बोटे मोडून गेली होती.
Answer:	B.गणेशने अमोल कडून उधार घेतलेले पैसे वेळेवर परत न केल्यामुळे अमोलच्या घराची मंडळी नेहेमी गणेशच्या नावाने बोटे मोडायची.
Reference ID:(27891)	Pick the correct meaning of the highlighted idiom or phrase from the following: Why are you out of spirits today?
	A.To feel low and sad
	B.To be angry about something
	C.To be in a thoughtful state of mind
	D.To be indecisive about something

Answer:

A.To feel low and sad

Reference ID:(20483)

जर F + L + Y = 43 , B + U + G = 30, तर J + A + C + K = __?

A.25

B.41

C.40

D.42

Answer:

A.25

Reference ID:(19978)

"अनर्थ" या शब्दाचा समानार्थी शब्द ओळखा.

A.कळ

B.अनिष्ट

C.व्यर्थ

D.अमाप

Answer:

B.अनिष्ट

Reference ID:(27029)

Find the word closest in meaning to the word: Trim

A.Small

B.Crop

C.Short

D.Jump

Answer: B.Crop

Reference ID:(25439) महाराष्ट्रात सर्वात जास्त वन्यजीवन अभयारण्ये कोणत्या विभागात आहेत?

A.मराठवाडा

B.विदर्भ

C.खानदेश

D.कोकण

Answer: B.विदर्भ

Reference ID:(18227) मन वढाय वढाय | उभ्या पिकातल ढोर ||
किति हाकला हाकला | फिरी येत पिकांवर
वरील ओळीतील वृत्त ओळखा.

A.अभंग

B.ओवी

C.भुजंगप्रयात

D.पादाकुलक

Answer: B.ओवी

Reference ID:(18708) खालीलपैकी अयोग्य जोडी ओळखा.

A.मी फुटबॉल खेळतो – साधा भूतकाळ

B.मी पुस्तक वाचत जाईन – रीती भविष्यकाल

C.राहुल आईस्क्रीम खात होता – अपूर्ण भूतकाळ

D.राधा शाळेत जाते – साधा वर्तमानकाळ

Answer:

A.मी फुटबॉल खेळतो – साधा भूतकाळ

Reference ID:(25432)

पृथ्वीच्या वातावरणातील प्रमुख वायूंच्या प्रमाणाचा योग्य उतरता क्रम कोणता आहे?

A.नायट्रोजन – ऑक्सिजन – कार्बन डायऑक्साइड – आर्गॉन – अन्य

B.नायट्रोजन – ऑक्सिजन – आर्गॉन - कार्बन डायऑक्साइड - अन्य

C.नायट्रोजन – ऑक्सिजन – आर्गॉन - अन्य - कार्बन डायऑक्साइड

D.ऑक्सिजन – नायट्रोजन – कार्बन डायऑक्साइड - आर्गॉन - अन्य

Answer:

B.नायट्रोजन – ऑक्सिजन – आर्गॉन - कार्बन डायऑक्साइड - अन्य

Reference ID:(27637)

Pick the correct meaning of the highlighted idiom or phrase from the following:
As the fight **blew over** , both Anant and Mohan walked away in different directions

A.To pass away without any serious effect

B.To throw down

C.To explode

D.To intensify

Answer:

A.To pass away without any serious effect

Reference ID:(31147)	भारताच्या संविधान सभेने राष्ट्रीय ध्वजाच्या रचनेचा अवलंब कधी केला होता?
	A.15 ऑगस्ट. 1947
	B.22 जुलै. 1947
	C.26 जानेवारी. 1950
	D.2 ऑक्टोबर. 1948
Answer:	B.22 जुलै. 1947
Reference ID:(25435)	भारतामध्ये लायन टेल्ड वानर कोठे सापडते?
	A.कॉर्बेट राष्ट्रीय उद्यान
	B.पूर्व घाट
	C.गुंडी राष्ट्रीय उद्यान
	D.पश्चिम घाट
Answer:	D.पश्चिम घाट
Reference ID:(18735)	15 ऑगस्ट 1947 रोजी भारत स्वतंत्र झाला. या वाक्याचा काळ ओळखा.
	A.पूर्ण वर्तमानकाळ
	B.पूर्ण भूतकाळ
	C.साधा वर्तमानकाळ
	D.साधा भूतकाळ
Answer:	D.साधा भूतकाळ

Reference ID:(25433)

भारतात खारफुटी वनांचे सर्वात जास्त क्षेत्र खालीलपैकी कोणत्या राज्यामध्ये आढळते?

A.महाराष्ट्र

B.केरळ

C.ओडिशा

D.पश्चिम बंगाल

Answer:

D.पश्चिम बंगाल

Reference ID:(19724)

"काशीत मल्हारी महात्म" या म्हणीच्या योग्य अर्थाचा पर्याय निवडा.

A.नेहमी परमेश्वराची भक्ती करावी.

B.आपला परमेश्वर कधीच सोडू नये.

C.सगळीकडे एकसारखेच वागावे.

D.नको तेथे नको ती गोष्ट करणे.

Answer:

D.नको तेथे नको ती गोष्ट करणे.

Reference ID:(29642)

Pick the Synonym for the word:
Penury

A.Poverty

B.Prosperty

C.Affluence

D.vanity

Answer:	A.Poverty
Reference ID:(30604)	Pick the correct meaning of the highlighted idiom: Rita can't afford to have one square meal a day.
	A.Eating from a square plate
	B.One full satisfying meal
	C.Having no time to eat
	D.Not being able to afford a meal at a fancy place
Answer:	B.One full satisfying meal
Reference ID:(22234)	खालीलपैकी सर्वात मोठा पर्याय कोणता आहे ?
	A.15 + 22 - 65 + 42 + 62 - 103 + 45 + 27
	B.18 + 17 - 25 + 32 - 26 + 104 - 44 - 37
	C.19 + 12 - 165 + 42 + 36 + 103 + 45 + 17
	D.38 + 107 - 25 - 32 - 26 + 104 - 44 - 37
Answer:	C.19 + 12 - 165 + 42 + 36 + 103 + 45 + 17
Reference ID:(31145)	भारतातील कोणत्या नद्या 'रिफ्ट घाटी (व्हॅली)' तून वाहतात?
	A.नर्मदा आणि तापी
	B.बियास आणि सतलज
	C.गंगा आणि जमुना

D.गोदावरी आणि कावेरी

Answer: A.नर्मदा आणि तापी

Reference ID:(29134) Pick the right meaning of the highlighted word in the sentence:
My **captious** father is never satisfied with anything I do

A.A selfish kind of person

B.A person who is undemanding and easy going

C.A charitable kind of person

D.A person who is hard to please

Answer: D.A person who is hard to please

Reference ID:(28399) Find the meaning of the highlighted word in the sentence: The head teacher has
genial manners.

A.Amiable

B.Frugal

C.Depressing

D.Assertive

Answer: A.Amiable

Reference ID:(22562) खालीलपैकी सर्वात लहान पर्याय कोणता आहे ?

A.25 - 22 - 35 + 72 + 102 - 83 + 45 + 27

B.48 - 17 - 25 + 32 - 126 + 104 + 44 + 71

C.19 + 12 - 15 + 42 + 36 - 103 + 45 + 107

D.44 + 67 - 25 - 32 - 26 + 104 - 44 - 13

Answer: D.44 + 67 - 25 - 32 - 26 + 104 - 44 - 13

Reference ID:(32437) भारतात आर्थिक सर्वेक्षण _____ द्वारे प्रकाशित केले जाते.

A.अर्थ मंत्रालय

B.नियोजन आयोग

C.भारताची रिझर्व्ह बँक

D.भारतीय सांख्यिकी संस्था

Answer: A.अर्थ मंत्रालय

Reference ID:(25438) 'भारतीय वन सर्वेक्षण' चे सेंट्रल झोन कार्यालय खालीलपैकी कोणत्या ठिकाणी आहे?

A.नागपूर

B.गडचिरोली

C.ठाणे

D.नाशिक

Answer: A.नागपूर

Reference ID:(29361) Pick the right meaning of the highlighted word in the sentence:
Preeti was too proud and too **obstinate** to lend herself to any worthy cause.

A.stubbornly refusing to change one's opinion or action

B.to be untruthful about something

C.to be puzzled about something

D.to be overtly attachment to something

Answer: A.stubbornly refusing to change one's opinion or action

Reference ID:(31143) सुप्रसिद्ध "अमूल दुध" उत्पादनाचे मुख्यालय गुजरातमध्ये _____ ठिकाणी आहे.

A.आनंद

B.सूरत

C.अहमदाबाद

D.मेहसाणा

Answer: A.आनंद

Reference ID:(28118) Find the meaning of the word:: Caliber

A.Lack

B.Weakness

C.Ability

D.Lowliness

Answer: C.Ability

Reference ID:(18481)

खालील वाक्यातील प्रयोग ओळखा.
ती घरी जाते.

A.अकर्मक कर्तरी

B.प्रधानकर्तुक कर्मणी

C.भावे

D.समापन कर्मणी

Answer:

A.अकर्मक कर्तरी

Reference ID:(35155)

खाली दिलेल्या पत्त्यापैकी 3 पत्ते समान आहेत आणि 1 भिन्न आहे. कोणता पत्ता भिन्न ते ओळखा?

A.1/17B LAKSHMIPURAM,SHANTHIMEDU,
NO 4 VEERAPANDI
PRESSCOLONY(PO),
PH 0670790030

B.1/17B LAKSHMIPURAM,SHANTHIMEDU,
NO 4 VEERAPANDI
PRSESCOLONY(PO),
PH 0670790030

C.1/17B LAKSHMIPURAM,SHANTHIMEDU,
NO 4 VEERAPANDI
PRESSCOLONY(PO),
PH 0670790030

D.1/17B LAKSHMIPURAM,SHANTHIMEDU,
NO 4 VEERAPANDI
PRESSCOLONY(PO),
PH 0670790030

Answer:

B.1/17B LAKSHMIPURAM,SHANTHIMEDU,
NO 4 VEERAPANDI
PRSESCOLONY(PO),
PH 0670790030

Reference ID:(17365)

$4.50 + 3.45 + 4.35 - (1.55 + 5.25 - 3.5) = \underline{\hspace{2cm}}$

A.8.55

B.9.15

C.9.00

D.8.65

Answer:

C.9.00

Reference ID:(23426)

'मासा' या शब्दाचा समानार्थी शब्द ओळखा.

A.मख

B.मीन

C.खग

D.तर

Answer:

B.मीन

Reference ID:(31142)

'गुसाडी' कोणत्या राज्याचे लोकप्रिय लोकनृत्य आहे?

A.केरल

B.तेलंगाना

C.कर्नाटक

D.तमिळनाडु

Answer:

B.तेलंगाना

Reference ID:(34901)

जर $7 \times 2 = 18$, $6 \times 7 = 26$ आणि $9 \times 6 = 30$, तर $8 \times 8 = ?$

A.16

B.32

C.24

D.30

Answer:

B.32

Reference ID:(25177)

"ज्ञानेश्वर" या शब्दाचा खालीलपैकी योग्य संधी विग्रह ओळखा.

A.ज्ञान + इश्वर

B.ज्ञान + ईश्वर

C.ज्ञान + ईस्वर

D.ज्ञान + श्वर

Answer:

B.ज्ञान + ईश्वर

Reference ID:(30150)	Find the word opposite in meaning to the word: Mock
	A.Dummy
	B.Bogus
	C.Artificial
	D.Genuine
Answer:	D.Genuine

Reference ID:(17111)	खालीलपैकी सर्वात लहान पर्याय कोणता आहे?
	A.650 चे 70%
	B.1900 चा 1/4
	C.0.35 × 900
	D.700 चा 2/5
Answer:	D.700 चा 2/5

Reference ID:(31144)	प्रसिद्ध पर्यावरणवादी सुंदरलाल बहुगुणा कोणत्या आंदोलनाशी संबंधित आहेत?
	A.सेव सायलेंट व्हॅली
	B.चिपको
	C.नर्मदा बचाओ
	D.झोला आंदोलन

Answer: B.चिपको

Reference ID:(21472) जर A = 1, B = 2,M = 13; आणि N = 13, O = 12, Z = 1, तर खालील पैकी कोणते पर्याय बरोबर आहे?

A. $\{C + A + T\} < \{B + A + R\}$

B. $\{C + A + T\} = \{B + A + R\}$

C. $\{C + A + T\} > \{B + A + R\}$

D. $\{C + A + T\} = \{C + A + R\}$

Answer: A. $\{C + A + T\} < \{B + A + R\}$

Reference ID:(16884) $8/10 + 0.75 - 5/40 = ?$

A. 2.975

B. 1.425

C. 1.675

D. 1.55

Answer: B. 1.425

Reference ID:(29388) Pick the right meaning of the highlighted word in the sentence:
His humor had turned **rancid** after staying alone for too long

A. Bad or Foul taste

B. Something which gives happiness

C. Something very likeable

D. Pleasant and acceptable in taste

Answer: A. Bad or Foul taste

Reference ID:(23653) खालीलपैकी समानार्थी शब्दाची चुकीची जोडी ओळखा

A. खुजा - बुटका

B. कौशल्य - खुबी

C. आचरट - लोणचे

D. पारंगत - निपुण

Answer: C. आचरट - लोणचे

Reference ID:(28145) Find the meaning of the word:: **Fad**

A. Tradition

B. Standard

C. Craze

D. Dullness

Answer: C. Craze

Reference ID:(23907) खालीलपैकी विरुद्धार्थी शब्दाची बरोबर जोडी ओळखा

A. बुडणे x तरंगणे

B. अल्प x मित

C.युक्ती x करामत

D.धन x माल

Answer: A.बुडणे x तरंगणे

Reference ID:(24161) खालीलपैकी व्याकरणाच्या दृष्टीने शुद्ध शब्द-लेखन असलेला शब्द ओळखा.

A.नीशकारण

B.निष्कारण

C.नीष्कारण

D.निस्करण

Answer: B.निष्कारण

Reference ID:(17138) $7.15 + 8.5 + 0.65 - (2.5 - 4.5 - 2 + 1.5) = \underline{\hspace{2cm}}$

A.18.80

B.18.55

C.18.45

D.19.05

Answer: A.18.80

Reference ID:(32432) "भारतीय जीव जंतु कल्याण बोर्ड" चे मुख्यालय येथे आहे.

A.चेन्नई

B.दिल्ली

C.हैदराबाद

D.पुणे

Answer:

A.चेन्नई

Reference ID:(20202)

X चे पश्चिम दिशेला तोंड आहे. तो 45 अंश उजवीकडे वळतो. मग तो 90 अंश डावीकडे वळतो. मग तो 180 अंश वळतो. शेवटी तो डावीकडे 45 अंश वळतो. आता तो कोणत्या दिशेला तोंड करून उभा आहे?

A.पूर्व

B.पश्चिम

C.उत्तर

D.दक्षिण पूर्व

Answer:

C.उत्तर

Reference ID:(32434)

"डिप्रेसड क्लासेस मिशन ऑफ इंडिया" _____ ह्यांच्याद्वारे स्थापित झाली होती.

A.डॉ. बाबासाहेब आंबेडकर

B.विठ्ठल रामजी शिंदे

C.ज्योतिबा फुले

D.महर्षी धोंडो केशव कर्वे

Answer:

B.विठ्ठल रामजी शिंदे

Reference ID:(25404)

"मुख्याध्यापक" या शब्दाचा खालीलपैकी योग्य संधी विग्रह ओळखा.

A.मुख्य + आध्यापक

B.मुख्य + अध्यापक

C.मुख्य + ध्यापक

D.मुख्य + धापक

Answer: B.मुख्य + अध्यापक

Reference ID:(16530) 80 च्या 25% - 12/20 + 2.5 = _____

A.22.4

B.21.9

C.21.65

D.22.3

Answer: B.21.9

Reference ID:(28626) Pick the right idiom which fits into the sentence: Romi 's house is one kilometer from here _____

A.Neck in neck

B.As the crow flies

C.Through the nose

D.In order of the day

Answer: B.As the crow flies

Reference ID:(17646)

36 च्या $\frac{1}{8}$ + 70 च्या 40% + $0.30 \times 120 = \underline{\hspace{2cm}}$

A.70

B.70.5

C.67.75

D.68.5

Answer:

D.68.5

Reference ID:(23934)

खालीलपैकी विरुद्धार्थी शब्दाची चुकीची जोडी ओळखा.

A.स्वाधीन x पराधीन

B.अनुकूल x प्रतिकूल

C.जाणता x समजदार

D.कृश x स्थूल

Answer:

C.जाणता x समजदार

Reference ID:(24696)

पुढील शब्दसमूहासाठी योग्य शब्द निवडा.
कोणत्याही क्षेत्रात हळूहळू होणाऱ्या इष्ट बदल

A.अधोगती

B.वैचारिक क्रांती

C.परिवर्तन

D.उत्क्रांती

Answer:

D.उत्क्रांती

Reference ID:(19497)

पुढील म्हण पूर्ण करण्यासाठी योग्य पर्याय निवडा. चांदणे चोराला

A.पाऊस मोराला

B.खेळणे पोराला

C.ऊन घुबडाला

D.आश्रम साधूला

Answer:

C.ऊन घुबडाला

Reference ID:(30123)

Find the meaning of the word:: **Indict**

A.Defend

B.Excuse

C.Charge

D.Justify

Answer:

C.Charge

Reference ID:(20710)

जर IS = 4, N I C E = 16 , Y O U = 9, तर K N O W = ___?

A.12

B.16

C.20

D.15

Answer:

B.16

Reference ID:(32435)

महाराष्ट्रातील कोणत्या जिल्ह्यात पहिला सहकारी साखर कारखाना स्थापना झाला?

A.कोल्हापूर

B.सांगली

C.अहमदनगर

D.पुणे

Answer:

C.अहमदनगर

Reference ID:(18454)

खालीलपैकी संयुक्त वाक्य कोणते?

A.तो कार्यालयात गेला आणि कामाला लागला.

B.रामरावांनी आदेश दिला की, प्रत्येकाने आता प्रचाराला लागावे.

C.तो परीक्षेत उत्तीर्ण झाला.

D.संजय खेळता खेळता पडला.

Answer:

A.तो कार्यालयात गेला आणि कामाला लागला.

Reference ID:(28853)

Pick the right idiom which fits into the sentence: She has ____ in her life following her illness

A.Turned a new leaf

B.Cut a sorry figure

C.Eaten her own words

D.Given a white carpet reception

Answer:

A.Turned a new leaf

Reference ID:(23680)

'दुष्काळ' या शब्दाचा विरुद्धार्थी शब्द ओळखा.

A.नापीक

B.सुकाळ

C.अकाल

D.पाषाण

Answer:

B.सुकाळ

Reference ID:(24923)

पुढील शब्दसमूहासाठी योग्य शब्द निवडा.
जाणून घेण्याची इच्छा असणारा

A.शुभेच्छुक

B.जिज्ञासू

C.सदिच्छा

D.कामसू

Answer:

B.जिज्ञासू

Reference ID:(24415)

खालीलपैकी व्याकरणाच्या दृष्टीने शुध्द वाक्याचा पर्याय निवडा.

A.देवाची प्रार्थना ऐकून मन प्रसन्न होते.

B.मराठी माझी मात्रभाषा आहे.

C.भारतात विविध सण सजरे केले जातात.

D.धूमपान आरोग्यास अपायकारक असते.

Answer:	A.देवाची प्रार्थना ऐकून मन प्रसन्न होते.
Reference ID:(24950)	समूहदर्शक शब्द ओळखा. जशी पोत्यांची थप्पी तशी नाण्यांची -----.
	A.रास
	B.चवड
	C.चळत
	D.पुंजका
Answer:	C.चळत
Reference ID:(32433)	'शरावती जलविद्युत प्रकल्प' येथे स्थित आहे.
	A.कर्नाटक
	B.हिमाचल प्रदेश
	C.मध्य प्रदेश
	D.महाराष्ट्र
Answer:	A.कर्नाटक
Reference ID:(24442)	प्रश्नातील वाक्यात रिकामी जागा भरण्यास सर्वात योग्य शब्द निवडा. गावाच्या वेशीवर सर्व दूध _____ करण्यात येते.
	A.परीक्षित
	B.विक्षिप्त
	C.अवचित
	D.संकलित

Answer:	D.संकलित
Reference ID:(31148)	भारताचे संरक्षण मंत्री कोण आहेत (1 एप्रिल 2019 रोजी)?
	A.अरुण जेटली
	B.निर्मला सीतारामन
	C.सुषमा स्वराज
	D.स्मृती इराणी
Answer:	B.निर्मला सीतारामन
Reference ID:(31140)	संविधान भारतीय नागरीकांना _____ नागरिकत्व देते.
	A.एकेरी
	B.दुहेरी
	C.तिहेरी
	D.सांघिक
Answer:	A.एकेरी
Reference ID:(32428)	'पोक्सो कायदा (POCSO अॅक्ट)' हा _____ शी संबंधित आहे.
	A.लैंगिक गुन्हापासून मुलांचे संरक्षण
	B.बालविवाह निषेध
	C.हुंडा प्रतिबंध
	D.महिलांचा लैंगिक छळ
Answer:	A.लैंगिक गुन्हापासून मुलांचे संरक्षण

Reference ID:(19216)	आतड्याला पीळ पडणे. ह्या वाक्प्रचाराचा अर्थ खालीलपैकी कोणता?
	A.आतड्याचा रोग होणे
	B.दयेणे कळवळने
	C.आतडे बाहेर येणे
	D.पोटातल्या पोटात आतडे पिळले जाणे
Answer:	B.दयेणे कळवळने
Reference ID:(31141)	कोणते राष्ट्रीय उद्यान भरतपूर, राजस्थान येथे वसलेले आहे?
	A.कॉर्बेट राष्ट्रीय उद्यान
	B.केवलादेव राष्ट्रीय उद्यान
	C.बांधवगढ राष्ट्रीय उद्यान
	D.नागरहोल राष्ट्रीय उद्यान
Answer:	B.केवलादेव राष्ट्रीय उद्यान
Reference ID:(25436)	खालीलपैकी भारतातील तरंगते राष्ट्रीय उद्यान कोणते आहे?
	A.कैबूल लामजो राष्ट्रीय उद्यान
	B.केवलदेव घाना
	C.चिल्का सरोवर
	D.नल सरोवर
Answer:	A.कैबूल लामजो राष्ट्रीय उद्यान

Reference ID:(20229)	एक माणूस त्याच्या घरापासून पश्चिम दिशेने 7 कि.मी. चालतो. मग तो डावीकडे वळतो आणि 4 कि.मी. चालतो. मग तो उजवीकडे वळतो आणि 1 कि.मी. चालतो. मग तो उजवीकडे वळतो आणि 3 कि.मी. चालतो. मग तो उजवीकडे वळतो आणि 4 कि.मी. चालतो. मग तो डावीकडे वळतो आणि 1 कि.मी. चालतो. तो त्याच्या घरापासून किती दूर आहे?
	A.3 कि.मी.
	B.4 कि.मी.
	C.3. 5 कि.मी.
	D.4. 5 कि.मी.
Answer:	B.4 कि.मी.
Reference ID:(30858)	Convert the following active to passive voice: I drank two cups of coffee
	A.Two cups of coffee had been drunk by me
	B.Two cups of coffee is being drunk by me
	C.Two cups of coffee have been drunk by me
	D.Two cups of coffee will have been drunk by me
Answer:	C.Two cups of coffee have been drunk by me
Reference ID:(21245)	जर WHIZZBANGS हा शब्द ZIHWZBSGNA असेल, तर MAXIMIZING हा शब्द _____ असेल.
	A.IXAMIMGNIZ
	B.IXAMMIGNIZ
	C.ZINGIMIXAM
	D.GNZIMIIXAM

Answer:

B.IXAMMIGNIZ

Reference ID:(29896)

Pick the right antonym for the word:
tranquil

A.Disturbed

B.Meek

C.Poised

D.Serene

Answer:

A.Disturbed

Reference ID:(32436)

कोणत्या शहरात अलकनंदा व भागीरथी नद्या एकत्र येऊन गंगा नदीत रूपांतरित होतात?

A.देवप्रयाग

B.हरिद्वार

C.ऋषिकेश

D.रुद्रप्रयाग

Answer:

A.देवप्रयाग

Reference ID:(32431)

भारतातील 4 जी सेवा प्रदान करणारी प्रथम भारतीय दूरसंचार कंपनी कोणती होती?

A.एअरटेल

B.एअरसेल

C.टाटा इंडिकॉम

D.बीएसएनएल

Answer:	A.एअरटेल
Reference ID:(24669)	प्रश्नातील वाक्यात रिकामी जागा भरण्यास सर्वात योग्य शब्द निवडा. संस्थेने स्पष्ट केले आहे की आयकर परतावा भरण्याचीवाढवण्यात येणार नाही.
	A.स्वगत
	B.दत्त
	C.मुदत
	D.प्रगत
Answer:	C.मुदत
Reference ID:(24188)	खालीलपैकी व्याकरणाच्या दृष्टीने अशुद्ध शब्द-लेखन असलेला शब्द ओळखा.
	A.लघुकथा
	B.गतिमान
	C.वर्धापणदीन
	D.महीपाल
Answer:	C.वर्धापणदीन
Reference ID:(30885)	Identify the figure of speech in the following sentence: The movie went on for an endless hour.
	A.Oxymoron
	B.Personification
	C.Apostrophe
	D.Simile

Answer:	A.Oxymoron
Reference ID:(34928)	जर XCD x 3 = 6969 YAD x 2 = 4806 तर BAX x 1 = ?
	A.2301
	B.1023
	C.1230
	D.2310
Answer:	B.1023
Reference ID:(25440)	महाराष्ट्रातील खालीलपैकी कोणत्या जिल्हयामधील पर्यावरणाचा अभ्यास करण्याचे कार्य गाडगीळ समितीत होते?
	A.सिंधुदुर्ग व रत्नागिरी
	B.हिंगोली व भंडारा
	C.यवतमाळ व अकोला
	D.लातूर व वर्धा
Answer:	A.सिंधुदुर्ग व रत्नागिरी
Reference ID:(32430)	_____ ह्यांच्या स्मृतीमध्ये 'राष्ट्रीय युवा दिवस' साजरा केला जातो.
	A.जवाहरलाल नेहरू
	B.सुभाषचंद्र बोस
	C.स्वामी विवेकानंद
	D.महात्मा गांधी

Answer: C.स्वामी विवेकानंद

Reference ID:(27610) Identify the figure of speech in the following sentence: The house was lit up with a thousand lights.

A.Metaphor

B.Simile

C.Hyperbole

D.Oxymoron

Answer: C.Hyperbole

Reference ID:(22588) जर \$ आहे '+' आणि @ आहे '-', तर खालीलपैकी सर्वात मोठा पर्याय कोणता आहे ?

A.19 \$ 12 @ 165 \$ 42 \$ 36 \$ 103 \$ 45 \$ 17

B.38 \$ 107 @ 25 @ 32 @ 26 \$ 104 @ 44 @ 37

C.25 @ 22 @ 35 \$ 72 \$ 102 @ 83 \$ 45 \$ 27

D.48 @ 17 @ 25 \$ 32 @ 126 \$ 104 \$ 44 \$ 72

Answer: D.48 @ 17 @ 25 \$ 32 @ 126 \$ 104 \$ 44 \$ 72

Reference ID:(30377) Find the word opposite in meaning to the word: **Outwit**

A.Outsmart

B.Deceive

C.Clever

D.Outfox

Answer:

C.Clever

Reference ID:(21499)

जर A = 1, B = 2, C = 3, Z = 26, तर खालील पैकी कोणते पर्याय बरोबर आहे?

A. $\{B + U + G\} = \{B + O + Y\}$

B. $\{B + U + G\} < \{B + O + Y\}$

C. $\{B + U + G\} > \{B + O + Y\}$

D. $\{B + O + Y\} = \{C + A + T\}$

Answer:

B. $\{B + U + G\} < \{B + O + Y\}$

Reference ID:(30631)

Convert the following active to passive voice: I will never forget this experience

A.This experience would not be forgotten by me

B.This experience is not forgotten by me

C.This experience will never be forgotten by me

D.This experience is not to be forgotten by me

Answer:

C.This experience will never be forgotten by me

Reference ID:(20737)

जर US = 10595, R E D = 902520, तर C L O S E = __?

A.156075925

B.1560759525

C.31215195

D.336105

Answer:

B.1560759525

Reference ID:(27002)	Select the correct passive voice form of the sentence: Seema read that book.
	A.Seema is reading the book
	B.The book is being read by Seema
	C.The book was read by Seema
	D.Seems reads the book
Answer:	C.The book was read by Seema
Reference ID:(27356)	Identify the figure of speech in the following sentence: They are as different as night and day.
	A.Metaphor
	B.Personification
	C.Simile
	D.Euphemism
Answer:	C.Simile
Reference ID:(16503)	सहा जण बिनॉय, चारु, अॅलेक्स, डॅनी, एलन आणि फिरोज हे दोन रांगामध्ये एकमेकांकडे तोंड करुन बसले आहेत. दोन्ही रांगामध्ये प्रत्येकी तीन जण आहेत. एलन हा कोणत्याही रांगेच्या शेवटी बसलेला नाही. डॅनी हा फिरोजच्या डावीकडे दुसऱ्या क्रमांकावर आहे. एलनचा शेजारी बसलेला अॅलेक्स हा डॅनीच्या कर्णाभिमुख आहे. चारु हा फिरोजच्या शेजारी आहे. फिरोजच्या समोर कोण बसले आहे?
	A.एलन
	B.बिनॉय
	C.डॅनी
	D.अॅलेक्स

Answer: D. अॅलेक्स

Reference ID:(25437) "मानव आणि जीवावरण राखीव क्षेत्र" हा कार्यक्रम खालीलपैकी कोणत्या जागतिक संघटनेने सुरू केला?

A. युनेस्को (UNESCO)

B. इंडियन बोर्ड फॉर वाइल्डलाईफ (IBWL)

C. वर्ल्ड वाइल्डलाईफ फंड (WWF)

D. आय.यू.सी.एन. (IUCN)

Answer: A. युनेस्को (UNESCO)

Reference ID:(19951) पुढील विधानाला जी म्हण योग्य असेल असा पर्याय ओळखा:
मनोजवर चोरी केल्याचा खोटा आळ आला. मात्र त्याने न घाबरता पोलिसांच्या प्रश्नांना उत्तरे दिली.
म्हणतात ना.....

A. चोरावर मोर

B. कर नाही त्याला डर कशाला

C. काळ आला होता पण वेळ आली नव्हती

D. चोराच्या मनात चांदणे

Answer: B. कर नाही त्याला डर कशाला

Reference ID:(28880) Supply the correct tense of the verb in the sentence: She ___ her homework when your sister ___ her tomorrow.

A.Will have finished..... sees

B.Would have finished..... will see

C.Will have finished..... see

D.Would have finished..... seeing

Answer: A.Will have finished..... sees

Reference ID:(17873) X हा Y हून 200% नी मोठा आहे. मग Y हा X हून _____ % लहान आहे.

A.100

B.66.66

C.75

D.50

Answer: B.66.66

Reference ID:(21218) जर TOMATO हा शब्द AOOMTT असेल आणि BOWEL हा शब्द EOBLW असेल, तर STATUE हा शब्द _____ असेल.

A.AEUSTT

B.ASEUTT

C.ATSUET

D.USATTE

Answer: A.AEUSTT

Reference ID:(31146) मसुदा समितीसमोर भारताची उद्देशिका (preamble) कोणी मांडली?

A.जवाहरलाल नेहरू

B.बी. आर. आंबेडकर

C.महात्मा गांधी

D.कृष्ण सिन्हा

Answer: A.जवाहरलाल नेहरू

Reference ID:(17619) 42 च्या $\frac{1}{12}$ + 12 च्या 20% + $0.25 \times 150 = \underline{\hspace{2cm}}$

A.44.9

B.43.4

C.45.4

D.42.65

Answer: B.43.4

Reference ID:(19243) पूर्ण पराभव करणे. ह्या अर्थाचा खालीलपैकी कोणता वाक्प्रचार नाही?

A.उताणा पडणे

B.धूळ चारणे

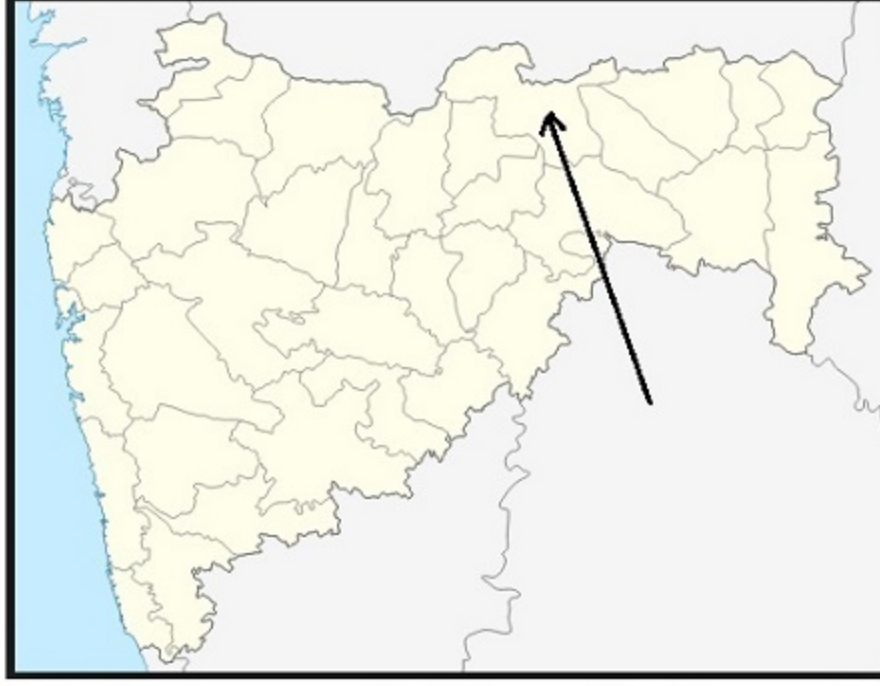
C.पायाखालची जमीन सरकणे

D.चारी मुंड्या चीत करणे

Answer:

C.पायाखालची जमीन सरकारणे

Reference ID:(31112)



महाराष्ट्रातील नकाशात बाणने दर्शविलेला जिल्हा खालीलपैकी कोणता आहे?

A.अहमदनगर

B.अकोला

C.अमरावती

D.औरंगाबाद

Answer:

C.अमरावती

Reference ID:(32429)

भारताचा प्रथम कृत्रिम उपग्रह कोणता आहे?

A.रोहिणी

B.भास्कर

C.आर्यभट्ट

D.इन्सॅट

Answer:

C.आर्यभट्ट

Reference ID:(20964)

मालिकेतील रिकामी जागा भरा: A, E, I, __, U, O, I, E

A.E

B.A

C.O

D.U

Answer:

C.O

Reference ID:(29615)

Pick the right meaning of the highlighted word in the sentence:
The opera was quite **stupendous**

A.Something that is amazing

B.Something of little importance

C.Something very boring

D.Something terrible

Answer:

A.Something that is amazing

Reference ID:(27864)

Pick the correct meaning of the highlighted idiom or phrase from the following:
I am sure the facts are going to **tell against** your case

A.To go against

B.To lose due to carelessness

C.To come out

D.To affect someone or something negatively

Answer:

A.To go against

Reference ID:(20456)

X चे दक्षिण पश्चिम दिशेला तोंड आहे. तो 45 अंश डावीकडे वळतो. मग तो 135 अंश उजवीकडे वळतो. मग तो 180 अंश वळतो. मग तो 90 अंश उजवीकडे वळतो. शेवटी तो डावीकडे 45 अंश वळतो. आता तो कोणत्या दिशेला तोंड करून उभा आहे?

A.पश्चिम

B.दक्षिण

C.पूर्व

D.उत्तर

Answer:

B.दक्षिण

Reference ID:(29869)

Pick the right antonym for the word:
Plethora

A.Deficiency

B.Excess

C.Feast

D.Competency

Answer:

A.Deficiency

Reference ID:(18989)

खालील शब्दाचा समास / समास प्रकार ओळखा.
सुपुत्र

A.सहबहुव्रीहि

B. अव्ययीभाव

C. कर्मधारय

D. द्वंद्व

Answer: A. सहबहुव्रीहि

Reference ID:(20991) मालिकेतील रिकामी जागा भरा: 3, 9, 21, __, 93

A.45

B.46

C.47

D.48

Answer: A.45

Reference ID:(28372) Find the meaning of the highlighted word in the sentence: Take some **edible** food when you go there.

A.Unpalatable

B.Digestible

C.Junk

D.Precooked

Answer: B.Digestible

Question Paper Title : FG_03

Date of Exam : 10-06-2019 10:00 AM

Reference ID:(16532) 60 च्या 40% - 8/20 + 3.25 = _____

A.27.35

B.26.85

C.26.6

D.27.25

Answer: B.26.85

Reference ID:(29644) Pick the Synonym for the word:
tranquil

A.Calm

B.Stormy

C.Crazy

D.Wild

Answer: A.Calm

Reference ID:(29390) Pick the right meaning of the highlighted word in the sentence:
Their **doctrine** allows the use of violence

A.Abiding to a principal

B.Being unlawful about something

C.Feeling faint about something

D.Avoiding something

Answer: A.Abiding to a principal

Reference ID:(24698) पुढील शब्दसमूहासाठी योग्य शब्द निवडा.
एकाच अवतारावर श्रध्दा असलेले

A.एकेश्वरी

B.दैववादी

C.अद्वैत

D.वेदांती

Answer: A.एकेश्वरी

Reference ID:(17875) X हा Y हून 100% नी मोठा आहे. मग Y हा X हून _____ % लहान आहे.

A.50

B.75

C.25

D.12.5

Answer: A.50

Reference ID:(22590) जर \$ आहे '+' आणि @ आहे '-', तर खालीलपैकी सर्वात मोठा पर्याय कोणता आहे ?

A.15 \$ 22 @ 65 \$ 42 \$ 62 @ 103 \$ 45 \$ 27

B.18 \$ 17 @ 25 \$ 32 @ 26 \$ 104 @ 44 @ 37

C.19 \$ 12 @ 165 \$ 42 \$ 36 \$ 103 \$ 45 \$ 17

Answer: C.19 \$ 12 @ 165 \$ 42 \$ 36 \$ 103 \$ 45 \$ 17

Reference ID:(17394) $5.05 + 5.25 + 3.5 - (1.55 + 5.25 - 3.5) = \underline{\hspace{2cm}}$

A.9.85

B.9.75

C.10.35

D.10.5

Answer: D.10.5

Reference ID:(20231) एक माणूस त्याच्या घरापासून दक्षिण दिशेने 8 कि.मी. चालतो. मग तो डावीकडे वळतो आणि 3 कि.मी. चालतो. मग तो उजवीकडे वळतो आणि 1 कि.मी. चालतो. मग तो उजवीकडे वळतो आणि 2 कि.मी. चालतो. मग तो उजवीकडे वळतो आणि 4 कि.मी. चालतो. मग तो डावीकडे वळतो आणि 1 कि.मी. चालतो. तो त्याच्या घरापासून किती दूर आहे?

A.4 कि.मी.

B.5 कि.मी.

C.4. 5 कि.मी.

D.5. 5 कि.मी.

Answer: B.5 कि.मी.

Reference ID:(32655)	'सर्व शिक्षा अभियान'; हे _____ साठी भारतातील कार्यक्रमांपैकी एक आहे.
	A.माध्यमिक शिक्षण
	B.उच्च शिक्षण
	C.उच्च माध्यमिक शिक्षण
	D.प्राथमिक शिक्षण
Answer:	D.प्राथमिक शिक्षण
Reference ID:(29617)	Pick the right meaning of the highlighted word in the sentence: His performance in the movie was stupendous
	A.Something that is amazing
	B.Something of little importance
	C.Something very boring
	D.Something terrible
Answer:	A.Something that is amazing
Reference ID:(16505)	सहा जण बिनाँय, चारु, अॅलेक्स, डॅनी, एलन आणि फिरोज हे दोन रांगामध्ये एकमेकांकडे तोंड करून बसले आहेत. दोन्ही रांगामध्ये प्रत्येकी तीन जण आहेत. एलन हा कोणत्याही रांगेच्या शेवटी बसलेला नाही. डॅनी हा फिरोजच्या डावीकडे दुसऱ्या क्रमांकावर आहे. एलनचा शेजारी बसलेला अॅलेक्स हा डॅनीच्या कर्णाभिमुख आहे. चारु हा फिरोजच्या शेजारी आहे. खालीलपैकी कोण दोघे एकमेकांच्या कर्णाभिमुख बसलेले आहेत?
	A.एलन आणि बिनाँय
	B.फिरोज आणि बिनाँय
	C.एलन आणि डॅनी
	D.एलन आणि चारु
Answer:	B.फिरोज आणि बिनाँय

Reference ID:(31409)	'शेकिंग मिनरेट्स' (झुलता मिनार) कोणत्या शहरात आहे?
	A.लखनऊ
	B.हैदराबाद
	C.अहमदाबाद
	D.मुंबई
Answer:	C.अहमदाबाद
Reference ID:(21701)	जर A = 1, B = 2, C = 3, Z = 26, तर खालील पैकी कोणते पर्याय बरोबर आहे?
	A.{C + A + T} = {J + O + Y}
	B.{C + A + T} < {J + O + Y}
	C.{C + A + T} > {J + O + Y}
	D.{J + O + Y} = {T + R + Y}
Answer:	B.{C + A + T} < {J + O + Y}
Reference ID:(28882)	Supply the correct tense of the verb in the sentence: Never such a thing _____ to me all my life. I _____ fuming.
	A.Had happened..... was
	B.Had happened..... will be
	C.Happened..... am
	D.Happened..... was
Answer:	A.Had happened..... was

Reference ID:(31408)	भारतीय संविधानात किती भाषा स्वीकारल्या गेल्या आहेत?
	A.22 भाषा
	B.24 भाषा
	C.28 भाषा
	D.32 भाषा
Answer:	A.22 भाषा
Reference ID:(35157)	खाली दिलेल्या पत्त्यापैकी 3 पत्ते समान आहेत आणि 1 भिन्न आहे. कोणता पत्ता भिन्न ते ओळखा?
	A.2/55/190 ZAKURA BILAL COLONY NEAR JK BANK JAMMU AND KASHMIR SRINAGAR PH 0700044433
	B.2/55/190 ZAKURA BILAL COLONY NEAR JK BANK JAMMU AND KASHMIR SRINAGAR PH 0700044433
	C.2/55/190 ZAKURA BIIAL COLONY NEAR JK BANK JAMMU AND KASHMIR SRINAGAR PH 0700044433
	D.2/55/190 ZAKURA BILAL COLONY NEAR JK BANK JAMMU AND KASHMIR SRINAGAR PH 0700044433

Answer:

C.2/55/190 ZAKURA BIAL COLONY
NEAR JK BANK
JAMMU AND KASHMIR
SRINAGAR
PH 0700044433

Reference ID:(28628)

Pick the right idiom which fits into the sentence: I paid _____ for his tuition fees.

A.With a finger in each pie

B.With tooth and nail

C.Through the nose

D.By turning one's tail

Answer:

C.Through the nose

Reference ID:(24444)

प्रश्नातील वाक्यात रिकामी जागा भरण्यास सर्वात योग्य शब्द निवडा.
खेळाडूंच्या कामगिरीनुसार त्यांचे मानधन ----- करण्यात येईल.

A.निर्धारित

B.श्रापित

C.त्रयस्थ

D.देशस्थ

Answer:

A.निर्धारित

Reference ID:(27893)

Pick the correct meaning of the highlighted idiom or phrase from the following:
The reformers **raised a hue and cry** about political corruption.

A.Making great noise as a sign of protest

B.Being stubborn about something

C. Being difficult to handle

D. Throw a fit

Answer:

A. Making great noise as a sign of protest

Reference ID:(19980)

"अरण्य" या शब्दाचा समानार्थी शब्द ओळखा.

A. कानन

B. दक्ष

C. वळसा

D. व्याल

Answer:

A. कानन

Reference ID:(31410)

पुढीलपैकी कोणते नृत्य हे रामायण आणि महाभारताचे दृश / कल्पना दर्शविते?

A. ओडिसी

B. कुचीपुडी

C. कथक

D. भरतनाट्यम

Answer:

D. भरतनाट्यम

Reference ID:(29109)	Fill in the blanks using the right form of simple present or present continuous tense: Your father ____ to see us this morning and he ____ some of his friends with him.
	A.Is coming..... is bringing
	B.Is coming..... brought
	C.Came..... brought
	D.Is coming..... brings
Answer:	A.Is coming..... is bringing
Reference ID:(25758)	परिस्थितीकी (इकॉलॉजी) हा शब्द कोणत्या संशोधकाने प्रचलित केला. ?
	A.हेकेल
	B.ए. ओहम
	C.टेलर
	D.हचिसन
Answer:	A.हेकेल
Reference ID:(32653)	'हिमालयन वन संशोधन संस्था' (Himalayan Forest Research Institute) _____ येथे स्थित आहे.
	A.शिमला
	B.गंगटोक
	C.नैनीताल

D.मसूरी

Answer:

A.शिमला

Reference ID:(17367)

$4.70 + 5.25 + 6.75 - (2.5 - 4.5 - 2 + 1.5) = \underline{\hspace{1cm}}$

A.18.55

B.19.15

C.19.2

D.18.65

Answer:

C.19.2

Reference ID:(21220)

जर TOMATO हा शब्द AOOMTT असेल आणि BOWEL हा शब्द EOBLW असेल, तर PIZZAZ हा शब्द _____ असेल.

A.AIPZZZ

B.APIZZZ

C.ZZZAPI

D.ZZZAIP

Answer:

A.AIPZZZ

Reference ID:(18964)	खालील शब्दाचा समास / समास प्रकार ओळखा. पांढराशुभ्र
	A.बहुव्रीहि
	B.द्विगु
	C.द्वंद्व
	D.कर्मधारय
Answer:	D.कर्मधारय
Reference ID:(32657)	"गिद्धा" हे लोकप्रिय लोकनृत्य भारताच्या कोणत्या राज्याचे आहे?
	A.हरियाणा
	B.पंजाब
	C.उत्तर प्रदेश
	D.राजस्थान
Answer:	B.पंजाब
Reference ID:(16859)	जर @ आहे 'भागाकार' आणि \$ आहे 'गुणाकार', तर खालील पर्यायांपैकी दुसऱ्या क्रमांकाचा सर्वात मोठा कोण आहे?
	A.24@5
	B.1.5\$4.25
	C.29@4
	D.3\$2.5
Answer:	C.29@4

Reference ID:(19726)

"अडला हरी गाढवाचे पाय धरी" या म्हणीतून काय व्यक्त होते?

A.निरूपाय

B.प्राण्यांचे महत्त्व

C.देवाचे महत्त्व

D.नम्रपणा

Answer:

A.निरूपाय

Reference ID:(28374)

Find the word opposite in meaning to the word:**Ergo**

A.Hence

B.Irrespective

C.Therefore

D.In accordance

Answer:

B.Irrespective

Reference ID:(30606)

Pick the correct meaning of the highlighted idiom: He is a regular **wet blanket** .

A.Someone who lacks enthusiasm

B.Someone who lacks courage

C.Someone who is a workaholic

D.Someone who is a very positive person

Answer:

A.Someone who lacks enthusiasm

Reference ID:(32656)	दिल्लीतील 'शक्तीस्थळ' भारताच्या कोणत्या पंतप्रधानांना समर्पित केलेले स्मारक आहे?
	A.राजीव गांधी
	B.इंदिरा गांधी
	C.लाल बहादुर शास्त्री
	D.जवाहरलाल नेहरू
Answer:	B.इंदिरा गांधी
Reference ID:(18456)	खालील वाक्याचा प्रकार ओळखा. जरी बाहेरून सर्व कारभार सुरळीत चाललेला दिसत असला तरी आत खळबळ उडालेली होती.
	A.मिश्र
	B.केवल
	C.संयुक्त
	D.नकारार्थी
Answer:	A.मिश्र
Reference ID:(20966)	मालिकेतील रिकामी जागा भरा: J, F, M, A, M, __, J, A, S
	A.M
	B.J
	C.S
	D.A
Answer:	B.J

Reference ID:(18483)	शहाण्या मुलांनी स्वस्थ बसावे. या वाक्यातील प्रयोग कोणता?
	A.शक्य कर्मणी
	B.समापन कर्मणी
	C.भावे
	D.अकर्मक कर्तरी
Answer:	C.भावे
Reference ID:(32651)	थेरूकूथु (Terukkuttu) हा _____ चा कला प्रकार आहे.
	A.तेलंगाना
	B.केरळ
	C.तमिळनाडु
	D.महाराष्ट्र
Answer:	C.तमिळनाडु
Reference ID:(25759)	खालीलपैकी महाराष्ट्रातील पहिले वन्यजीव अभयारण्य कोणते आहे?
	A.राधानगरी
	B.बोर
	C.मेळघाट
	D.भीमाशंकर

Answer: A.राधानगरी

Reference ID:(32449) कोणते भारतीय स्मारक ट्विटरवर पदार्पण करणारे प्रथम 'जगातील ऐतिहासिक स्मारक' बनले?

A.ताज महाल

B.फतेहपूर सीकरी

C.कुतुब मीनार

D.लाल किल्ला

Answer: A.ताज महाल

Reference ID:(29898) Pick the right antonym for the word:
Aesthetic

A.blemish

B.Beauty

C.Glamour

D.Radiance

Answer: A.blemish

Reference ID:(19499) पुढील म्हण पूर्ण करण्यासाठी योग्य पर्याय निवडा. मऊ सापडले म्हणून खणू नये.

A.हाताने

B.कोपराने

C.दाताने

D.पायाने

Answer:	B.कोपराने
Reference ID:(25755)	पुढीलपैकी कोणता हरितगृह वायू नाही?
	A.कार्बन-डाय-ऑक्साईड
	B.आर्गोन
	C.मिथेन
	D.ओझोन
Answer:	B.आर्गोन
Reference ID:(28855)	Pick the right idiom which fits into the sentence: The thief we caught is a _____. He hasn't said a word to us yet.
	A.Man of parts
	B.Hard nut to crack
	C.Wet blanket
	D.Man of many words
Answer:	B.Hard nut to crack
Reference ID:(30860)	Identify the figure of speech in the following sentence: Her eyes are like the eyes of a statue.
	A.Metaphor
	B.Personification
	C.Hyperbole
	D.Simile

Answer:	D.Simile
Reference ID:(25179)	'प्रश्नोत्तर' या शब्दाचा खालीलपैकी योग्य संधी विग्रह ओळखा.
	A.प्रश्न + उत्तर
	B.प्रश्न + तर
	C.प्रश्न + उत्तर
	D.प्रश्नो + उत्तर
Answer:	A.प्रश्न + उत्तर
Reference ID:(33699)	भारतातील सर्वोच्च वीरता पुरस्कार कोणता आहे?
	A.परम वीर चक्र
	B.महावीर चक्र
	C.अशोक चक्र
	D.शौर्य चक्र
Answer:	A.परम वीर चक्र
Reference ID:(31414)	खालीलपैकी कोणता/कोणती नट/नटी मराठी चित्रपट किंवा टीव्ही नट/नटी नाही?
	A.सदाशिव अमरापूरकर
	B.रमेश भाटकर
	C.संस्कृती बालगुडे

D.मल्लिका साराभाई शाह

Answer: D.मल्लिका साराभाई शाह

Reference ID:(23909) खालीलपैकी विरुद्धार्थी शब्दाची बरोबर जोडी ओळखा

A.मिसळणे x विरघळणे

B.निंदा x कुचेष्टा

C.सदा x नेहमी

D.गद्य x पद्य

Answer: D.गद्य x पद्य

Reference ID:(23936) खालीलपैकी विरुद्धार्थी शब्दाची चुकीची जोडी ओळखा.

A.रोगी x निरोगी

B.कळस x पाया

C.अचूक x बरोबर

D.प्राचीन x अर्वाचीन

Answer: C.अचूक x बरोबर

Reference ID:(24163) खालीलपैकी व्याकरणाच्या दृष्टीने शुद्ध शब्द-लेखन असलेला शब्द ओळखा.

A.क्रांतीकरक

B.क्रातिकारक

C.कांतिकारक

D.क्रांतिकारक

Answer:	D.क्रांतिकारक
Reference ID:(30125)	Find the meaning of the highlighted word in the sentence: The grand jury indicted Tom for murder.
	A.Forgave
	B.Acquitted
	C.Charged
	D.Pardoned
Answer:	C.Charged
Reference ID:(17140)	$4.50 + 3.25 + 4.35 - (4.5 - 2.75 - 2.25) = \underline{\quad}$
	A.12.6
	B.12.15
	C.11.35
	D.12.95
Answer:	A.12.6
Reference ID:(24671)	प्रश्नातील वाक्यात रिकामी जागा भरण्यास सर्वात योग्य शब्द निवडा. चांगल्या महाविद्यालयात प्रवेश घेण्यासाठी उत्तमअसावी लागते.
	A.बुद्धिमत्ता
	B.बुद्धिभ्रंश

C.बालबुद्धी

D.अशुद्धी

Answer:

A.बुद्धिमत्ता

Reference ID:(17621)

44 च्या $\frac{1}{8}$ + 40 च्या 15% + $0.40 \times 140 = \underline{\hspace{2cm}}$

A.69

B.67.5

C.69.5

D.66.75

Answer:

B.67.5

Reference ID:(31413)

खालीलपैकी कोणते शहर महाराष्ट्रात आहे?

A.इचलकरंजी

B.जूनागढ़

C.गोंडल

D.वेरावल

Answer:

A.इचलकरंजी

Reference ID:(20712)

जर OH = 4, SUN = 9, CAR = 9, तर PLAY = ___?

A.15

B.8

C.16

D.20

Answer: C.16

Reference ID:(25752) _____ हा वंचित जंगल जमीन संरक्षण, पुनरुत्थान आणि विकासासाठी ग्राम समित्यांच्या सहभागाद्वारे लोकांचे आंदोलन तयार करण्यासाठी एक सरकारी उपक्रम आहे.

A.संयुक्त वन व्यवस्थापन

B.हरित शाळा उपक्रम

C.क्षमता निर्मितीद्वारे जैवविविधता

D.राष्ट्रीय हरित खाते

Answer: A.संयुक्त वन व्यवस्थापन

Reference ID:(20993) मालिकेतील रिकामी जागा भरा: 3, __, 21, 45, 93

A.10

B.11

C.9

D.8

Answer: C.9

Reference ID:(17113) खालीलपैकी सर्वात लहान पर्याय कोणता आहे?

A.350 चे 70%

B.1300 चा 1/4

C.0.15 × 1500

Answer: C.0.15 × 1500

Reference ID:(27866) Pick the correct meaning of the highlighted idiom or phrase from the following:
I was completely **at sea** with my new banking system

A. Completely lost or confused

B. In a state of disorder

C. Be at ease

D. To be comfortable with

Answer: A. Completely lost or confused

Reference ID:(20739) जर DC = 2015, H A V E = 40511025, तर M A D E = ___?

A. 655225

B. 6552025

C. 13145

D. 4145

Answer: B. 6552025

Reference ID:(18202) मातीत ते पसरले अतिरम्य पंख |
केले वरी उदर पांडूर निष्कलंक |
वरील काव्याचा अलंकार ओळखा.

A. व्यतिरेक

B. स्वभावोक्ती

C.भ्रंतिमान

D.अर्थान्तरन्यास

Answer:

B.स्वभावोक्ती

Reference ID:(29871)

Pick the right antonym for the word:
stingy

A.Lavish

B.Miserly

C.Sinking

D.Illogical

Answer:

A.Lavish

Reference ID:(27385)

Identify the figure of speech in the following sentence: My house is a friend who protects me.

A.Euphemism

B.Simile

C.Personification

D.Hyperbole

Answer:

C.Personification

Reference ID:(32652)

भारतात, पंचायती राज प्रणाली ही _____ स्तर प्रणाली आहे.

A.2 स्तर

B.4 स्तर

C.5 स्तर

D.3 स्तर

Answer:

D.3 स्तर

Reference ID:(27639)

Pick the correct meaning of the highlighted idiom or phrase from the following:
The government warned the citizens to keep their surroundings clean to avoid a **break out** of malaria.

A.To arise suddenly

B.To disperse or dissolve

C.To cause to eliminate

D.To end or discontinue

Answer:

A.To arise suddenly

Reference ID:(28120)

Find the meaning of the highlighted word from the sentence: There are few workers left of her **caliber**.

A.Lowliness

B.Ability

C.Weakness

D.Ineptness

Answer:

B.Ability

Reference ID:(27612)

Identify the figure of speech in the following sentence: We don't have a rupee left with us.

A.Metaphor

B.Hyperbole

C.Simile

D.Oxymoron

Answer: B.Hyperbole

Reference ID:(21247) जर OWL हा शब्द NVK असेल आणि TABLE हा शब्द SZAKD असेल, तर WATER हा शब्द _____ असेल.

A.XBUFS

B.VZSDQ

C.UZSDQ

D.XZUFQ

Answer: B.VZSDQ

Reference ID:(22564) खालीलपैकी सर्वात लहान पर्याय कोणता आहे ?

A.125 - 62 - 35 + 74 + 102 - 93 + 45 + 37

B.48 + 17 + 25 + 32 - 126 - 104 + 34 + 74

C.19 - 12 - 45 + 42 + 36 - 103 + 45 + 207

D.144 - 67 - 25 + 32 - 26 + 104 - 44 - 13

Answer: B.48 + 17 + 25 + 32 - 126 - 104 + 34 + 74

Reference ID:(22818) जर \$ आहे '+' आणि @ आहे '-', तर खालीलपैकी सर्वात लहान पर्याय कोणता आहे ?

A.25 @ 22 @ 35 \$ 72 \$ 102 @ 83 \$ 45 \$ 27

B.48 @ 17 @ 25 \$ 32 @ 126 \$ 104 \$ 44 \$ 71

C.19 \$ 12 @ 15 \$ 42 \$ 36 @ 103 \$ 45 \$ 107

D.44 \$ 67 @ 25 @ 32 @ 26 \$ 104 @ 44 @ 13

Answer: D.44 \$ 67 @ 25 @ 32 @ 26 \$ 104 @ 44 @ 13

Reference ID:(28147) Find the meaning of the highlighted word in the sentence: Her new diet was just another **fad**.

A.Tradition

B.Plan

C.Whim

D.Custom

Answer: C.Whim

Reference ID:(23682) 'विधायक' या शब्दाचा विरुद्धार्थी शब्द ओळखा.

A.कार्यकारी

B.रचनाकार

C.विध्वंसक

D.विधाता

Answer: C.विध्वंसक

Reference ID:(25406)	'देवालय' या शब्दाचा खालीलपैकी योग्य संधी विग्रह ओळखा.
	A.देव + आलय
	B.देव + लय
	C.देवा + आलय
	D.देवा + अलय
Answer:	A.देव + आलय
Reference ID:(24925)	पुढील शब्दसमूहासाठी योग्य शब्द निवडा. तहांच्या अटीचा तर्जुमा
	A.तहनामा
	B.तहसिलदार
	C.जाहीरनामा
	D.अटीतटीचा
Answer:	A.तहनामा
Reference ID:(18229)	मना सज्जना भक्तिपंथेची जावे। तरी श्रीहरी पाविजे तो स्वभावे । ह्या सुप्रसिध्द ओळींमधील वृत्त ओळखा.
	A.भुजंगप्रयात
	B.पादाकुलक
	C.वसंततिलका

D.अभंग

Answer: A.भुजंगप्रयात

Reference ID:(21474) जर A = 1, B = 2,M = 13; आणि N = 13, O = 12, Z = 1, तर खालील पैकी कोणते पर्याय बरोबर आहे?

A. $\{C + A + R\} < \{D + O + G\}$

B. $\{C + A + R\} = \{D + O + G\}$

C. $\{C + A + R\} > \{D + O + G\}$

D. $\{C + A + R\} = \{R + E + D\}$

Answer: A. $\{C + A + R\} < \{D + O + G\}$

Reference ID:(31416) खालीलपैकी कोणते ऐतिहासिक स्थान (स्मारक) महाराष्ट्रात नाही?

A.बीबी का मकबरा

B.चांद मिनार

C.आगाखान पॅलेस

D.बेकल किल्ला

Answer: D.बेकल किल्ला

Reference ID:(22236) खालीलपैकी सर्वात मोठा पर्याय कोणता आहे ?

A. $55 + 11 - 75 + 42 - 62 - 13 + 45 + 27$

B. $118 + 17 - 25 + 32 - 126 + 104 - 44 - 37$

C. $79 + 42 + 165 + 42 + 36 - 103 + 45 + 17$

D.38 - 107 - 25 - 32 - 26 + 104 + 144 - 7

Answer: C.79 + 42 + 165 + 42 + 36 - 103 + 45 + 17

Reference ID:(27004) Select the correct passive voice form of the sentence: We appreciate your hospitality.

A.Your hospitality is appreciated by us

B.We appreciate you being hospitable to us

C.Hospitality is appreciated by us

D.Being hospitable is the best thing you have done for us

Answer: A.Your hospitality is appreciated by us

Reference ID:(27031) Find the meaning of the highlighted word in the sentence: **Trim** off the leafy ends of the vegetable before cooking.

A.Small

B.Crop

C.Throw

D.Boil

Answer: B.Crop

Reference ID:(31411) भारताच्या राष्ट्रपतीद्वारे राज्यसभेत किती सदस्य नामांकित केले जाऊ शकतात?

A.12 सदस्य

B.10 सदस्य

C.11 सदस्य

D.13 सदस्य

Answer: A.12 सदस्य

Reference ID:(20458) X चे उत्तर पूर्व दिशेला तोंड आहे. तो 45 अंश डावीकडे वळतो. मग तो 135 अंश उजवीकडे वळतो. मग तो 180 अंश वळतो. मग तो 90 अंश उजवीकडे वळतो. शेवटी तो डावीकडे 45 अंश वळतो. आता तो कोणत्या दिशेला तोंड करून उभा आहे?

A.पश्चिम

B.दक्षिण

C.पूर्व

D.उत्तर

Answer: D.उत्तर

Reference ID:(31412) भारतीय संविधानाच्या कोणत्या कलमात लोकसभा आणि राज्यसभेची संयुक्त बैठक देण्यात आली आहे?

A.कलम 101

B.कलम 108

C.कलम 105

D.कलम 134

Answer: B.कलम 108

Reference ID:(16886) $12/20 + 2.5 - 10/25 = ?$

A.2.975

B.2.7

C.1.45

D.1.175

Answer: B.2.7

Reference ID:(18710) खालीलपैकी कोणते वाक्य अपूर्ण भविष्यकाळी आहे?

- A.आई देवपूजा करत आहे.
- B.आई देवपूजा करत असेल.
- C.आई देवपूजा करत होती.
- D.आईने देवपूजा केली असेल.

Answer: B.आई देवपूजा करत असेल.

Reference ID:(19953) पुढील विधानाला जी म्हण योग्य असेल असा पर्याय ओळखा:
शिक्षकांनी सीमाला इतके खराब अक्षर का काढले असे विचारताच ती म्हणाली की तिचे पेन बिघडले आहे. तेव्हा शिक्षक म्हणाले ...

- A.नाचता येईना अंगण वाकडे
- B.आलीया भोगासी असावे सादर
- C.नावडतीचे मीठ अळणी
- D.वळणाचे पाणी वळणावरच जाणार

Answer: A.नाचता येईना अंगण वाकडे

Reference ID:(30379)	Find the meaning of the highlighted word in the sentence: This was a crafty manoeuvre to outwit his pursuers.
	A.Outsmart
	B.Assist
	C.Clear out
	D.Protect
Answer:	A.Outsmart
Reference ID:(34930)	जर FEH x 2 = 1094 GFI x 4 = 2632 तर HGJ x 1 = ?
	A.687
	B.786
	C.867
	D.769
Answer:	D.769
Reference ID:(20204)	X चे दक्षिण दिशेला तोंड आहे. तो 45 अंश उजवीकडे वळतो. मग तो 180 अंश वळतो. मग तो 45 अंश डावीकडे वळतो. शेवटी तो डावीकडे 45 अंश वळतो. आता तो कोणत्या दिशेला तोंड करून उभा आहे?
	A.उत्तर पूर्व
	B.दक्षिण पूर्व
	C.उत्तर पश्चिम
	D.दक्षिण पश्चिम
Answer:	C.उत्तर पश्चिम

Reference ID:(25757)	जगातील सर्वात मोठी प्रवाळ भितीका कोणत्या देशामध्ये आढळते?
	A.भारत
	B.ऑस्ट्रेलिया
	C.यू.एस.ए
	D.आयर्लंड
Answer:	B.ऑस्ट्रेलिया
Reference ID:(32450)	पेटीएम (Paytm) चे संस्थापक कोण आहेत?
	A.विजय शेखर शर्मा
	B.जॅक मा
	C.बिपिन प्रीत सिंग
	D.बिन्नी बंसल
Answer:	A.विजय शेखर शर्मा
Reference ID:(20485)	जर $B + O + Y = 42$, $J + O + Y = 50$, तर $F + L + E + W = \underline{\quad}$?
	A.48
	B.47
	C.49
	D.46
Answer:	D.46

Reference ID:(24417)

खालीलपैकी व्याकरणाच्या दृष्टीने शुध्द वाक्याचा पर्याय निवडा.

A.शीर्षासन हे एक कठीण योगासन आहे.

B.सौंदर्य हे बघणाऱ्याच्या नजरेत असते.

C.शूर सैनिकांनी प्रराक्रम गाजवला.

D.पक्ष्यांचा कीलबीलाट सुरू झाला.

Answer:

A.शीर्षासन हे एक कठीण योगासन आहे.

Reference ID:(34903)

जर $13 \times 4 = 34$, $6 \times 14 = 40$ आणि $9 \times 16 = 50$, तर $18 \times 4 = ?$

A.44

B.22

C.40

D.24

Answer:

A.44

Reference ID:(18991)

खालील शब्दाचा समास / समास प्रकार ओळखा.
सहपरिवार

A.सहबहुव्रीहि

B.अव्ययीभाव

C.द्वंद्व

D.कर्मधारय

Answer:

A.सहबहुव्रीहि

Reference ID:(30352)

Find the meaning of the highlighted word in the sentence: It's rude to **mock** at someone's mistake.

A.Taunt

B.Manipulate

C.Pretend

D.Anger

Answer:

A.Taunt

Reference ID:(23428)

'अभियोग' या शब्दाचा समानार्थी शब्द ओळखा.

A.आरोप

B.चिंतन

C.पवित्र

D.शुभ

Answer:

A.आरोप

Reference ID:(25754)

खालीलपैकी कोणत्या शहराला "भारताचे व्याघ्र प्रवेशद्वार" म्हटले जाते?

A.देहरादून

B.पोरबंदर

C.नागपूर

D.इटारसी

Answer:	C.नागपूर
Reference ID:(25760)	शेकरू हा महाराष्ट्राचा राज्यप्राणी खालीलपैकी कोणत्या गटातील आहे?
	A.बिबटा
	B.खार
	C.मांजर
	D.हरिण
Answer:	B.खार
Reference ID:(19472)	प्रश्नात दिलेल्या वाक्प्रचाराचा योग्य वापर असलेले वाक्य पर्यायांमधून ओळखा. विचारात बुडून जाणे
	A.श्रीहरी विचारात बुडाला कि त्याचे सर्वांशी वाद होण्यास सुरु व्हायचे.
	B.आमचे आजोबा विचारात बुडाले कि आम्हा सर्व मुलांना एकत्र बोलावून गोष्टी सांगायचे.
	C.मंदार १५ मिनिटापासून आपल्या कंपनीच्या मालकासमोर उभा होता तरी देखील मालकाचे मंदारकडे लक्ष गेले नाही कारण मालक आपल्याच विचारात बुडून गेले होते.
	D.असा एकही क्षण जायचा नाही कि नातेवाईक जमल्यावर विचारात बुडालेला सदाशिव त्याने खेळलेल्या क्रिकेट सामन्यांबद्दल बोलायचा नाही.
Answer:	C.मंदार १५ मिनिटापासून आपल्या कंपनीच्या मालकासमोर उभा होता तरी देखील मालकाचे मंदारकडे लक्ष गेले नाही कारण मालक आपल्याच विचारात बुडून गेले होते.
Reference ID:(29136)	Pick the right meaning of the highlighted word in the sentence: People say Arvind is a captious person who takes things to heart.
	A.A charitable kind of person
	B.A person who is undemanding and easy going
	C.A person who is hard to please

D.A selfish kind of person

Answer: C.A person who is hard to please

Reference ID:(30887) Identify the figure of speech in the following sentence: We couldn't wait to stay out alone together.

A.Euphemism

B.Metaphor

C.Personification

D.Oxymoron

Answer: D.Oxymoron

Reference ID:(18737) आईचे काम झाले असेल. ह्या वाक्याचे अपूर्ण भविष्यकाळात रूपांतर करताना खालीलपैकी कोणता पर्याय निवडावा लागेल.

A.आईचे काम झाले होते.

B.आईचे काम होत असेल.

C.आईचे काम होईल.

D.आईचे काम झाले.

Answer: B.आईचे काम होत असेल.

Reference ID:(30633) Convert the following active to passive voice: The boy teased the girl

A.The girl is being teased by the boy

B.The girl had teased by the boy

C.The girl was teased by the boy

D.The girl was being teased by the boy

Answer: C.The girl was teased by the boy

Reference ID:(25152) समूहदर्शक शब्द ओळखा. जसा द्राक्षांचा घड तसा काजुंची/काजूंचा

A.घोस

B.घड

C.चळत

D.गाथण

Answer: D.गाथण

Reference ID:(19245) "मुद्दाम दुर्लक्ष करणे" या अर्थासाठी योग्य वाक्प्रचार निवडा.

A.दुटप्पीपणाने वागणे

B.हातचे राखून देणे

C.काणाडोळा करणे

D.तोंडाला पाने पुसणे

Answer: C.काणाडोळा करणे

Reference ID:(23655) खालीलपैकी समानार्थी शब्दाची चुकीची जोडी ओळखा

A.धवल - शुभ्र

B.सदा - वादा

C.पोपट - शुक्र

D.ढोरे - गुरे

Answer: B.सदा - वादा

Reference ID:(25751) पर्यावरण आणि वन मंत्रालयाद्वारे देशभरात सीआरझेड (CRZ) _____ श्रेण्यांमध्ये ठेवले आहे.

A.चार

B.तीन

C.पाच

D.सहा

Answer: A.चार

Reference ID:(29363) Pick the right meaning of the highlighted word in the sentence:
While an old dog can be quite **obstinate**, he can still learn new tricks

A.stubbornly refusing to change one's opinion or action

B.to be untruthful about something

C.to be puzzled about something

D.to be overtly attachment to something

Answer: A.stubbornly refusing to change one's opinion or action

Reference ID:(27358) Identify the figure of speech in the following sentence: Last night I slept like a log of wood.

A.Personification

B.Oxymoron

C.Simile

D.Metaphor

Answer: C.Simile

Reference ID:(17648) 15 च्या $\frac{1}{6}$ + 12 च्या 20% + $0.30 \times 180 = \underline{\hspace{2cm}}$

A.60.4

B.60.9

C.58.15

D.58.9

Answer: D.58.9

Reference ID:(31114)



महाराष्ट्रातील नकाशात बाणने दर्शविलेला जिल्हा खालीलपैकी कोणता आहे?

A.उस्मानाबाद

B.बीड

C.भंडारा

D.बुलढाणा

Answer: A.उस्मानाबाद

Reference ID:(25756) रामसर यादीमध्ये भारतातील समाविष्ट दलदली / पाणथळ क्षेत्राची संख्या किती आहे?

A.27

B.26

C.35

D.56

Answer: A.27

Reference ID:(28601) Find the word opposite in meaning to the word: **Glutton**

A.Gorger

B.Hog

C.Eater

D.Fasting

Answer: D.Fasting

Reference ID:(31415) खालीलपैकी कोणता तलाव महाराष्ट्रात आहे?

A.लोणार सरोवर

B.कोलेरू सरोवर

C.पुलीकट सरोवर

D.सुरसागर सरोवर

Answer: A.लोणार सरोवर

Reference ID:(25753) संविधानानुसार, वने ___ चा भाग आहेत.

A.केंद्रीय सूची

B.राज्य सूची

C.समवर्ती सूची

D.अवशिष्ट विषय

Answer: C.समवर्ती सूची

Reference ID:(32448) पॅन (PAN) कार्ड चे पूर्णरूप काय आहे?

A.परमनंट अकाउंट नंबर

B.पर्सनल अकाउंट नंबर

C.पब्लिक अकाउंट नंबर

D.पोस्टल अकाउंट नंबर

Answer: A.परमनंट अकाउंट नंबर

Reference ID:(19218)	आकाश फाटणे. या वाक्यप्रचाराचा खालीलपैकी कोणता अर्थ योग्य आहे.
	A.खूप पाऊस पडणे
	B.कमी पाऊस पडणे
	C.माया नसणे
	D.मोठे संकट कोसळणे
Answer:	D.मोठे संकट कोसळणे

Reference ID:(24190)	खालीलपैकी व्याकरणाच्या दृष्टीने अशुद्ध शब्द-लेखन असलेला शब्द ओळखा.
	A.अव्यवस्था
	B.अविवक्षित
	C.चिंतीत
	D.अविचारशील
Answer:	C.चिंतीत

Question Paper Title : FG_11

Date of Exam : 15-06-2019 10:00 AM

Reference ID:(17375) $5.30 + 6.25 + 6.75 - (4.30 + 5.25 - 9.75) = \underline{\hspace{2cm}}$

A.16.25

B.17.85

C.18.5

D.19.35

Answer: C.18.5

Reference ID:(30360) Find the meaning of the word:: **Oblivion**

A.Alert

B.Recall

C.Obcurity

D.Aware

Answer: C.Obcurity

Reference ID:(19961) पुढील विधानाला जी म्हण योग्य असेल असा पर्याय ओळखा:
उमाने काढलेले चित्र उत्कृष्ट नव्हते तरी तिला प्रथम क्रमांक मिळाला. कारण बाकीच्या मुलांनी तिच्यापेक्षा कमी दर्जाची चित्रे काढली होती. म्हणतात ना

A.आकारे रंगती चेष्टा

B.काशीत मल्हारी महात्मा

C.झाकली मूठ सव्वा लाखाची

D.वासरात लंगडी गाय शहाणी

Answer: D.वासरात लंगडी गाय शहाणी

Reference ID:(32932) 'भागलपुरी सिल्क' भारताच्या कोणत्या राज्यातील प्रसिद्ध आहे?

A.बिहार

B.पश्चिम बंगाल

C.तेलंगाना

D.उत्तर प्रदेश

Answer: A.बिहार

Reference ID:(32937) महाराष्ट्रातील "मानव धर्म सभा" चे संस्थापक कोण होते?

A.भाऊ दाजी लाड

B.गोपाळ हरि देशमुख

C.दादोबा पांडुरंग तर्खडकर

D.बाळशास्त्री जांभेकर

Answer: C.दादोबा पांडुरंग तर्खडकर

Reference ID:(19226) डोळ्यावर कातडे ओढणे. या वाक्यप्रचाराचा खालीलपैकी कोणता अर्थ योग्य आहे?

A.एखाद्या गोष्टीकडे जाणून बुजून दुर्लक्ष करणे

B.डोळ्यात कचरा उडू नये म्हणून डोळे झाकणे

C.सगळ्यांकडे एकटक पाहणे

D.एखाद्या गोष्टीकडे जाणून बुजून निरखून पाहणे

Answer:

A.एखाद्या गोष्टीकडे जाणून बुजून दुर्लक्ष करणे

Reference ID:(26034)

भारतीय पर्यावरण कायद्यात ____ हा महत्त्वाचा खटला होता. या खटल्यामध्ये, भारताच्या सर्वोच्च न्यायालयाने असे म्हटले की सार्वजनिक विश्वस्त तत्वप्रणाली भारतात लागू आहे. तत्वप्रणालीनुसार, वायू, समुद्र, पाण्याचे आणि जंगलासारख्या विशिष्ट संसाधनांचे लोकांना इतके मोठे महत्व आहे की त्यांना खाजगी मालकीचा विषय बनविणे पूर्णपणे अन्यायकारक होईल.

A.एम.सी.मेहता विरुद्ध कमल नाथ

B.इंडियन एक्सप्रेस विरुद्ध स्पॅन मॉटिल्स

C.हिमाचल प्रदेशचे सचिव, वन सरकार विरुद्ध राजेश्वर सिंह

D.अशोक कुमार ठाकूर विरुद्ध भारत संघ

Answer:

A.एम.सी.मेहता विरुद्ध कमल नाथ

Reference ID:(28890)

Supply the correct tense of the verb in the sentence: While sitting in the sun, his grandfather ____ asleep. He ____ up only in the evening

A.Had fallen..... woke

B.Was fallen..... woke

C.Had fallen..... awoke

D.Fell..... awoke

Answer: A.Had fallen..... woke

Reference ID:(19453) खालीलपैकी वाक्प्रचार आणि त्याचा अर्थाची अयोग्य जोडी ओळखा.

- A.जीव टांगणीला लावणे – चिंताग्रस्त होणे
- B.जीव खाली पडणे – काळजी मुक्त होणे
- C.जिवावर उठणे – प्राणाइतके प्रिय असणे
- D.जिवाला जीव देणे - प्राण देण्याची तयारी असणे.

Answer: C.जिवावर उठणे – प्राणाइतके प्रिय असणे

Reference ID:(16894) $16/20 + 3.5 - 5/40 = ?$

- A.3.55
- B.4.775
- C.4.175
- D.3.225

Answer: C.4.175

Reference ID:(30641) Convert the following active to passive voice: My grandfather built this house in 1950

- A.In 1950 the house had been built by my grandfather
- B.In 1950 the house was built by my grandfather

C.My grandfather had built this house in 1950

D.This house was built in 1950 by my grandfather

Answer:

D.This house was built in 1950 by my grandfather

Reference ID:(17148)

$4.50 + 3.05 + 4.35 - (1.55 + 5.25 - 3.5) = \underline{\hspace{2cm}}$

A.9.15

B.8.60

C.8.65

D.8.55

Answer:

B.8.60

Reference ID:(32929)

जे भारतीय उत्पादन _____ असतात अशा उत्पादनांना इकोमार्क दिला जातो.

A.शुद्ध आणि निर्भेळ

B.प्रथिनांनी समृद्ध

C.पर्यावरण अनुकूल

D.आर्थिकदृष्ट्या व्यवहार्य

Answer:

C.पर्यावरण अनुकूल

Reference ID:(21228)

जर LETTUCE हा शब्द TELTUEC असेल आणि COMPUTE हा शब्द MOCPUET असेल, तर SUPPORT हा शब्द _____ असेल.

A.PUSPORT

B.PUSPOTR

C.PUSOPRT

D.PUSOPTR

Answer: B.PUSPOTR

Reference ID:(24198) खालीलपैकी व्याकरणाच्या दृष्टीने अशुद्ध शब्द-लेखन असलेला शब्द ओळखा.

A.वैविध्यपूर्ण

B.कंकणाकृती

C.कार्यप्रणालि

D.लंबगोलाकार

Answer: C.कार्यप्रणालि

Reference ID:(18745) पुढीलपैकी कोणते वाक्य रीती वर्तमानकाळातील नाही?

A.मी आंबा खाल्ला आहे.

B.आम्ही आंबा खाल्ला आहे.

C.त्यांनी आंबा खाल्ला आहे.

D.वरीलपैकी सर्व.

Answer: D.वरीलपैकी सर्व.

Reference ID:(24933)	पुढील शब्दसमूहासाठी योग्य शब्द निवडा. ग्रंथात मागाहून घातलेला मजकूर
	A.विक्षिप्त
	B.प्रक्षिप्त
	C.अलिप्त
	D.उद्दीप्त
Answer:	B.प्रक्षिप्त
Reference ID:(27039)	Find the meaning of the highlighted word in the sentence: Your behavior might bring ridicule on your parents, who raised you to know better.
	A.Poverty
	B.Respect
	C.Inspiration
	D.Mockery
Answer:	D.Mockery
Reference ID:(29879)	Pick the right antonym for the word: sparse
	A.Dense
	B.Light
	C.Meager
	D.Scant
Answer:	A.Dense

Reference ID:(31687)

तंजावूर, त्रिची आणि मदुरई ही तीन ठिकाणे कोणत्या राज्यात आहे?

A.आंध्र प्रदेश

B.तेलंगाना

C.तामिळनाडू

D.केरळ

Answer:

C.तामिळनाडू

Reference ID:(30133)

Find the meaning of the word:: **Jovial**

A.Dejected

B.Sad

C.Fearful

D.Laughing

Answer:

D.Laughing

Reference ID:(25187)

"भाषांतर" या शब्दाचा खालीलपैकी योग्य संधी विग्रह ओळखा.

A.भाषा + तर

B.भाषा + अंतर

C.भाषा + अनंतर

D.भाषा + नंतर

Answer:

B.भाषा + अंतर

Reference ID:(20974)	मालिकेतील रिकामी जागा भरा: A, M, B, N, C, O, __, P, E
	A.Q
	B.S
	C.D
	D.N
Answer:	C.D

Reference ID:(32931)	_____ हे बचतकर्त्यांकडून कर्जदारांना निधी हस्तांतरण सुलभ करते.
	A.पैसा बाजार (Money market)
	B.आर्थिक बाजार (Financial Market)
	C.ग्राहक बाजार (Consumer market)
	D.वस्तू बाजार (Goods market)
Answer:	B.आर्थिक बाजार (Financial Market)

Reference ID:(27393)	Identify the figure of speech in the following sentence: Time flies when you have fun.
	A.Metaphor
	B.Simile
	C.Personification

D.Euphemism

Answer: C.Personification

Reference ID:(26036) पुढीलपैकी कोणती प्राण्यांची प्रजाती प्रामुख्याने त्यांच्या नैसर्गिक निवासस्थानाशी जुळत नाही?

A.हत्ती - कर्नाटक, तामिळनाडू आणि केरळची वर्षावने

B.घरिअल - चंबळ नदी

C.वाघ - बंगाल

D.सिंह - हिमालय

Answer: D.सिंह - हिमालय

Reference ID:(25414) "राजर्षी" या शब्दाचा खालीलपैकी योग्य संधी विग्रह ओळखा.

A.राजा + र्षी

B.राज + ऋषी

C.राजा + अर्षी

D.राजा + ऋषी

Answer: D.राजा + ऋषी

Reference ID:(28128)

Find the word closest in meaning to the highlighted word: Chasm

A.Juncture

B.Closure

C.Fissure

D.Finish

Answer:

C.Fissure

Reference ID:(26031)

जागतिक पर्यावरण दिन (WED) दर वर्षी ___ रोजी साजरा केला जातो.

A.5 जून

B.5 जुलै

C.5 ऑगस्ट

D.5 ऑक्टोबर

Answer:

A.5 जून

Reference ID:(24679)

प्रश्नातील वाक्यात रिकामी जागा भरण्यास सर्वात योग्य शब्द निवडा.
स्वातंत्र्यपूर्व काळात इंग्रजांनी अनेक निष्पाप लोकांनाकेले होते.

A.स्वाभिमान

B.स्थूलमान

C.बुकटी

D.बंदिवान

Answer:

D.बंदिवान

Reference ID:(31686)

भारताचे सर्वात तरुण पंतप्रधान खालीलपैकी कोण होते?

- A.इंदिरा गांधी
- B.राजीव गांधी
- C.व्ही.पी. सिंग
- D.लालबहादूर शास्त्री

Answer:

B.राजीव गांधी

Reference ID:(24425)

खालीलपैकी व्याकरणाच्या दृष्टीने शुध्द वाक्याचा पर्याय निवडा.

- A.आज मी पूर्णपणे ऋणमुक्त झाले.
- B.त्याचा क्रुतघ्नपणा पाहून मला राग आला.
- C.उपकारांची परेतफेड करणे आपले कर्तव्य आहे.
- D.मी थोरांसमोर नतमत्सक झाले.

Answer:

A.आज मी पूर्णपणे ऋणमुक्त झाले.

Reference ID:(18718)

तो नेहमीच उशीरा येतो. या वाक्याचा काळ ओळखा.

- A.साधा वर्तमानकाळ
- B.रिती वर्तमानकाळ
- C.चालू वर्तमानकाळ
- D.पूर्ण वर्तमानकाळ

Answer:

B.रिती वर्तमानकाळ

Reference ID:(23663)	खालीलपैकी समानार्थी शब्दाची बरोबर जोडी ओळखा
	A.ऐट – डौल
	B.सशस्त्र - निःशस्त्र
	C.वृथा - सहेतुक
	D.लोभी – उदार
Answer:	A.ऐट – डौल
Reference ID:(26035)	पुढीलपैकी कोणते भारतातील बायोस्फियर रिजर्व नाही?
	A.निलगिरी
	B.सुंदरबन
	C.ग्रेट निकोबार
	D.गिर
Answer:	D.गिर
Reference ID:(31685)	2018 मध्ये आयपीएल स्पर्धेचा विजेता संघ खालीलपैकी कोणता होता?
	A.राजस्थान रॉयल्स
	B.सनरायझर्स हैदराबाद
	C.कोलकाता नाइट रायडर्स
	D.चेन्नई सुपर किंग्ज
Answer:	D.चेन्नई सुपर किंग्ज

Reference ID:(21201)	मालिकेतील रिकामी जागा भरा: 2, 5, __, 41, 74
	A.19
	B.21
	C.20
	D.18
Answer:	D.18
Reference ID:(18464)	तुम्ही मोरवाडीला जायला निघालात. हे लोक तुम्हांला चोरवाडीला नेऊन पोहोचवतील. ह्या वाक्यांचे एकच मिश्र वाक्य बनवावयांचे असल्यास खालीलपैकी कोणत अव्यय वापरल्यास वाक्य योग्य होईल?
	A.जर – तर
	B.आणि
	C.किंवा
	D.म्हणून
Answer:	A.जर – तर
Reference ID:(28636)	Pick the right idiom which fits into the sentence: We should not _____ other peoples' business.
	A.Be on tenterhooks
	B.Talk shop with
	C.Draw daggers at
	D.Poke our nose into

Answer:	D.Poke our nose into
Reference ID:(27012)	Select the correct passive voice form of the sentence: How much work can you do in a day?
	A.Will you be working the entire day to do work?
	B.Can you do so much work the entire day?
	C.Is the work being done by you the entire day?
	D.How much work can be done by you in a day?
Answer:	D.How much work can be done by you in a day?
Reference ID:(16867)	जर @ आहे 'भागाकार' आणि \$ आहे 'गुणाकार', तर खालील पर्यायांपैकी दुसऱ्या क्रमांकाचा सर्वात मोठा कोण आहे?
	A.39@5
	B.4.25\$1.5
	C.31@4
	D.2.75\$1.5
Answer:	C.31@4
Reference ID:(19734)	"कोल्हा काकडीला राजी" या म्हणीचा अर्थ खालीलपैकी कोणता ते ओळखा?
	A.कोल्हा काकडी खाऊन स्वतःला जंगलाचा राजा समजतो
	B.लहान माणसे थोड्या गोष्टीने संतुष्ट होतात
	C.काकडी हे कोल्ह्याचे आवडते खाणे आहे
	D.क्षुद्र व्यक्ती अल्पश्या मोबदल्याने खुश होत नाहीत

Answer:	B.लहान माणसे थोड्या गोष्टीने संतुष्ट होतात
Reference ID:(23690)	'सुधाकर' या शब्दाचा विरुद्धार्थी शब्द ओळखा.
	A.दिवाकर
	B.पुरातनवादी
	C.सनातनी
	D.सुधारतीत
Answer:	C.सनातनी
Reference ID:(28101)	Find the meaning of the highlighted word in the sentence: A word of apology might not go amiss .
	A.Good
	B.Suitable
	C.Improper
	D.Ethical
Answer:	C.Improper
Reference ID:(28382)	Find the meaning of the highlighted word in the sentence: Our opponents were quite feisty .
	A.Tame
	B.Dull

C.Spirited

D.Assertive

Answer:

C.Spirited

Reference ID:(22244)

खालीलपैकी सर्वात मोठा पर्याय कोणता आहे ?

A.55 - 11 + 75 - 42 + 62 + 13 - 45 - 27

B.118 - 17 + 25 - 32 + 126 - 104 + 44 + 37

C.79 - 42 - 165 - 42 - 36 + 103 - 45 - 17

D.38 + 107 + 25 + 32 + 26 - 104 - 144 + 7

Answer:

B.118 - 17 + 25 - 32 + 126 - 104 + 44 + 37

Reference ID:(31688)

खालीलपैकी कोणत्या राज्याच्या सीमा महाराष्ट्राच्या सीमेलगत नाहीत?

A.तेलंगाना

B.छत्तीसगड

C.मध्यप्रदेश

D.आंध्र प्रदेश

Answer:

D.आंध्र प्रदेश



महाराष्ट्रातील नकाशात बाणने दर्शविलेला जिल्हा खालीलपैकी कोणता आहे?

A. नंदुरबार

B. औरंगाबाद

C. धुळे

D. जळगाव

Answer:

C. धुळे

जर SF = 13, DT = -16, तर AB =

A.-1

B.1

C.0

D.2

Answer: A.-1

Reference ID:(23944) खालीलपैकी विरुद्धार्थी शब्दाची चुकीची जोडी ओळखा.

- A.ज्ञात x अज्ञात
- B.हानी x लाभ
- C.स्वस्ताई x महागाई
- D.ज्ञानी x शहाणा

Answer: D.ज्ञानी x शहाणा

Reference ID:(18972) खालील शब्दाचा समास / समास प्रकार ओळखा.
बहिणभाऊ

- A.इतरेतर द्वंद्व
- B.बहुव्रीहि
- C.कर्मधारय
- D.तत्पुरुष

Answer: A.इतरेतर द्वंद्व

Reference ID:(28609) Pick the right idiom which fits into the sentence: Rishabh welcomes his friend _____

- A.Once in a blue moon
- B.By eating humble pie
- C.With open arms
- D.By being at his wits end

Answer:	C.With open arms
Reference ID:(30106)	Pick the right antonym for the word: Taintless
	A.Debased
	B.Fresh
	C.Pure
	D.Absolute
Answer:	A.Debased
Reference ID:(17883)	X हा Y हून 20% नी मोठा आहे. मग Y हा X हून _____ % लहान आहे.
	A.20
	B.25
	C.16.66
	D.400
Answer:	C.16.66
Reference ID:(32936)	भारतात केंद्रीय औषधी व सुगंधी वनस्पती (CSIR - Central Institute of Medicinal and Aromatic Plants) संस्था कोठे आहे?
	A.लखनऊ
	B.बरेली
	C.रामपूर

D.मुरादाबाद

Answer: A.लखनऊ

Reference ID:(16540) जर @ आहे 'भागाकार' आणि \$ आहे 'गुणाकार', तर खालीलपैकी सर्वात लहान पर्याय कोणता आहे?

A.39@5

B.3.5\$4.5

C.31@4

D.2.75\$4.5

Answer: C.31@4

Reference ID:(18210) " सावळा वर बरा गौर वधूला " ह्या वाक्यातील अलंकार ओळखा.

A.अर्थान्तरन्यास

B.भ्रांतिमान

C.व्यतिरेक

D.स्वभावोक्ति

Answer: A.अर्थान्तरन्यास

Reference ID:(26040) 'रेड डेटा बुक' (IUCN Red List) मधील 'गुलाबी पृष्ठे' काय दर्शवितात?

A.धोकाग्रस्त बनलेल्या वन्यप्रजातीची यादी.

B.धोक्याबाहेर पडलेल्या वन्यप्रजातीची यादी.

C.नामशेष किंवा विलोप पावलेल्या वन्यप्रजातीची यादी.

D.स्थानविशिष्ट असणाऱ्या वन्यप्रजातीची यादी.

Answer: A.धोकाग्रस्त बनलेल्या वन्यप्रजातीची यादी.

Reference ID:(31682) भारतीय संविधानाने कोणत्या देशाकडून मुलभूत कर्तव्ये घेतली आहेत.

A.रशिया

B.कॅनडा

C.युनायटेड किंगडम

D.ऑस्ट्रेलिया

Answer: A.रशिया

Reference ID:(30895) Identify the figure of speech in the following sentence: Good grief! We're late.

A.Simile

B.Apostrophe

C.Hyperbole

D.Oxymoron

Answer: D.Oxymoron

Reference ID:(16513)	सहा जण A , B , C , D , E आणि F हे दोन रांगामध्ये एकमेकांकडे तोंड करून बसले आहेत. दोन्ही रांगामध्ये प्रत्येकी तीन जण आहेत. E हा कोणत्याही रांगेच्या शेवटी बसलेला नाही. D हा F च्या डावीकडे दुसऱ्या क्रमांकावर आहे. E चा शेजारी बसलेला A हा D च्या कर्णाभिमुख आहे. C हा F च्या शेजारी आहे. खालीलपैकी कोण दोघे एकमेकांच्या कर्णाभिमुख बसलेले आहेत?
	A.E आणि B
	B.F आणि B
	C.E आणि D
	D.E आणि C
Answer:	B.F आणि B
Reference ID:(26039)	जैवविविधता हॉटस्पॉट्स ही संकल्पना १९८८ मध्ये सर्वप्रथम कोणत्या संशोधकाने मांडली?
	A.टान्सली
	B.नॉर्मन मायर्स
	C.ओडम
	D.आर. डी. मिश्रा
Answer:	B.नॉर्मन मायर्स
Reference ID:(32934)	सायमन कमिशनच्या निषेध दरम्यान प्राणघातक जखमी झालेल्या स्वातंत्र्य सेनानीचे खालीलपैकी नाव काय आहे?
	A.भगत सिंह
	B.लाला लजपत राय
	C.बाळ गंगाधर टिळक
	D.चंद्रशेखर आझाद
Answer:	B.लाला लजपत राय

Reference ID:(29144)	Pick the right meaning of the highlighted word in the sentence: Every year, Santa Claus makes a covert trip into billions of homes across the world
	A.Something hidden or secret
	B.Something visible to everyone
	C.Something exposed for everyone to know
	D.An obvious fact
Answer:	A.Something hidden or secret
Reference ID:(35165)	खाली दिलेल्या पत्त्यापैकी 3 पत्ते समान आहेत आणि 1 भिन्न आहे. कोणता पत्ता भिन्न ते ओळखा?
	A.26/3874, REGHARPURA GALI NO-26, KAROLBAGH NewDelhi PH 0909250593
	B.26/3874, REGHARPURA GAIL NO-26, KAROLBAGH NewDelhi PH 0909250593
	C.26/3874, REGHARPURA GALI NO-26, KAROLBAGH NewDelhi PH 0909250593
	D.26/3874, REGHARPURA GALI NO-26, KAROLBAGH NewDelhi PH 0909250593
Answer:	B.26/3874, REGHARPURA GAIL NO-26, KAROLBAGH NewDelhi PH 0909250593

Reference ID:(30387)

Find the word opposite in meaning to the word: **Parched**

A.Arid

B.Dry

C.Damp

D.Scorch

Answer:

C.Damp

Reference ID:(20720)

जर IS = 56, N I C E = 62, Y O U = 122, तर K N O W = ___?

A.104

B.126

C.103

D.105

Answer:

B.126

Reference ID:(17629)

39 च्या $\frac{1}{6}$ + 70 च्या 40% + $0.25 \times 150 =$ _____

A.73.5

B.74

C.72

D.71.25

Answer:

C.72

Reference ID:(17121)	खालीलपैकी सर्वात लहान पर्याय कोणता आहे?
	A.350 चे 80%
	B.950 चा 1/4
	C.0.35 × 900
	D.900 चा 2/5
Answer:	B.950 चा 1/4
Reference ID:(30614)	Pick the correct meaning of the highlighted idiom: Raghu was a regular thorn in the side of Suyash.
	A.A constant source of annoyance
	B.A constant source of support
	C.A good friend to someone
	D.An enemy who tries to harm someone
Answer:	A.A constant source of annoyance
Reference ID:(20466)	X चे उत्तर पश्चिम दिशेला तोंड आहे. तो 90 अंश डावीकडे वळतो. मग तो 70 अंश उजवीकडे वळतो. मग तो 180 अंश वळतो. मग तो 90 अंश उजवीकडे वळतो. शेवटी तो डावीकडे 25 अंश वळतो. आता तो कोणत्या दिशेला तोंड करून उभा आहे?
	A.पश्चिम
	B.दक्षिण
	C.पूर्व
	D.उत्तर
Answer:	B.दक्षिण

Reference ID:(29852)	Pick the Synonym for the word: deride
	A.Hate
	B.Moody
	C.Moist
	D.Steal
Answer:	A.Hate
Reference ID:(29371)	Pick the right meaning of the highlighted word in the sentence: Kapil will use deception to get what he wants
	A.Resorting to fraud or trickery
	B.Being honest about something
	C.With hard work
	D.With smart work
Answer:	A.Resorting to fraud or trickery
Reference ID:(27874)	Pick the correct meaning of the highlighted idiom or phrase from the following: He threw cold water on our business plan
	A.To discourage someone
	B.To give positive views on a situation
	C.To be jealous of someone's success
	D.To jump to conclusions about something and someone
Answer:	A.To discourage someone

Reference ID:(24906)

पुढील शब्दसमूहासाठी योग्य शब्द निवडा.
जिंकण्याची दुर्दम्य इच्छा असलेला

A.विजयेता

B.गिरीजन

C.विजिगिषू

D.विश्वविजेता

Answer:

C.विजिगिषू

Reference ID:(27647)

Pick the correct meaning of the highlighted idiom or phrase from the following:
When his business failed, Rikki realized it's
back to the drawing board

A.Time to start over again

B.To draw something again to describe it to someone

C.To explain by drawing something

D.To give up on something

Answer:

A.Time to start over again

Reference ID:(32930)

भारताचा पहिल्या "आर्कटिक संशोधन केंद्र" चे नाव काय आहे?

A.गंगोत्री

B.हिमाद्री

C.गंगा

D.त्रिशूल

Answer: B.हिमाद्री

Reference ID:(26032) पुढीलपैकी कोणता/ते प्रकल्प भारतातील वन्यजीव संवर्धनाशी संबंधित आहे?

A) हत्ती प्रकल्प

B) व्याघ्र प्रकल्प

C) नागरहोल वन्यजीव संवर्धन शिक्षण प्रकल्प

D) कुद्रेमुख राष्ट्रीय उद्यानातील वर्षावन संवर्धन

A.A आणि C

B.B आणि D

C.A, B आणि D

D.A, B, C आणि D

Answer: D.A, B, C आणि D

Reference ID:(26037) प्रसिद्ध पर्यावरणवादी सलीम अली हे खालीलपैकी कोणत्या संशोधनासाठी प्रसिद्ध आहेत?

A.प्राणी

B.पक्षी

C.वनस्पती

D.कीटक

Answer: B.पक्षी

Reference ID:(31681) उत्तर प्रदेशचा राज्यपक्षी कोणता आहे?

A.सारस क्रेन

B.महान धनेश

C.सुगरण चिमणी

D.नीळकंठ

Answer:

A.सारस क्रेन

Reference ID:(27366)

Identify the figure of speech in the following sentence: Her hair was as soft as a feather.

A.Hyperbole

B.Oxymoron

C.Euphemism

D.Simile

Answer:

D.Simile

Reference ID:(19988)

'ओवाळणे' या शब्दाचा समानार्थी शब्द ओळखा.

A.औक्षण

B.मंगल

C.अंमल

D.भरभराट

Answer:

A.औक्षण

Reference ID:(19707)

पुढील म्हण पूर्ण करण्यासाठी योग्य पर्याय निवडा. आग रामेश्वरी

A.संत पंढरपुरी

B.बंब सोमेश्वरी

C.राम राजेश्वरी

D.बंब ईश्वरी

Answer:

B.बंब सोमेश्वरी

Reference ID:(20747)

जर GE = 43, SUM = 10117, तर 523 _____ असू शकते

A.IEC

B.CIE

C.EIC

D.ICE

Answer:

D.ICE

Reference ID:(22572)

खालीलपैकी सर्वात लहान पर्याय कोणता आहे ?

A.125 + 62 + 35 - 74 - 102 + 93 - 45 - 37

B.48 - 17 - 25 - 32 + 126 + 104 - 34 - 74

C.19 + 12 + 45 - 42 - 36 + 103 - 45 - 207

D.144 + 67 + 25 - 32 + 26 - 104 + 44 + 13

Answer:

C.19 + 12 + 45 - 42 - 36 + 103 - 45 - 207

Reference ID:(21455)

जर KUMQUAT हा शब्द LVNRVBU असेल, तर TAMARIND हा शब्द _____ असेल.

A.UANBSJOE

B.UBNBSKOE

C.UBNBSJOE

D.UCNBSJOB

Answer: C.UBNBSJOE

Reference ID:(29398) Pick the right meaning of the highlighted word in the sentence:
Some people become **morose** and depressed when they first retire.

A.To be happy about something

B.Showing unreal excitement about something

C.To be sad about something

D.To be scared about something

Answer: C.To be sad about something

Reference ID:(26033) भारताने कोठे आणि कोणत्या वर्षी संयुक्त राष्ट्रसंघाच्या जैव विविधतेविषयक कराराच्या पक्षांच्या परिषदेचे आयोजन केले होते ज्यात 194 देशांचे पर्यावरण मंत्री आणि वन मंत्री उपस्थित होते?

A.हैद्राबाद, 2012

B.बेंगळुरू, 2014

C.नवी दिल्ली, 2015

D.चेन्नई, 2016

Answer: A.हैद्राबाद, 2012

Reference ID:(22826) जर \$ आहे '+' आणि @ आहे '-', तर खालीलपैकी सर्वात लहान पर्याय कोणता आहे ?

A.25 \$ 22 \$ 35 @ 72 @ 102 \$ 83 @ 45 @ 27

B.48 \$ 17 \$ 25 @ 32 \$ 126 @ 104 @ 44 @ 71

C.19 @ 12 \$ 15 @ 42 @ 36 \$ 103 @ 45 @ 107

D.44 @ 67 \$ 25 \$ 32 \$ 26 @ 104 \$ 44 \$ 13

Answer: C.19 @ 12 \$ 15 @ 42 @ 36 \$ 103 @ 45 @ 107

Reference ID:(31680) तुंगभद्रा आणि भीमा नद्या _____ च्या उपनद्या आहेत.

A.नर्मदा

B.कृष्णा

C.महानदी

D.कावेरी

Answer: B.कृष्णा

Reference ID:(34938) जर $2 \times 8 \times 4 = 173$
 $7 \times 6 \times 4 = 653$
तर $8 \times 3 \times 2 = ?$

A.821

B.941

C.743

D.721

Answer: D.721

Reference ID:(29117)	Fill in the blanks with the correct form of future continuous or future perfect tense: The police ____ the streets through the night.
	A.Will be patrolling
	B.Patrol
	C.Patrolled
	D.Have been patrolling
Answer:	A.Will be patrolling
Reference ID:(25160)	खालील वाक्यातील रिकाम्या जागी येणाऱ्या योग्य समूहदर्शक शब्दाचा पर्याय क्रमांक निवडा. प्रयोग करून दाखविण्यासाठी शिक्षकांनी उपकरणांचा टेबलांवर ठेवला.
	A.झुपका
	B.पसारा
	C.ढीग
	D.संच
Answer:	D.संच
Reference ID:(24171)	खालीलपैकी व्याकरणाच्या दृष्टीने शुद्ध शब्द-लेखन असलेला शब्द ओळखा.
	A.परीवर्तन
	B.परीवर्तण
	C.परिवर्तन
	D.परिवरतन
Answer:	C.परिवर्तन

Reference ID:(34911)	जर $12 \times 9 = 11664$, $4 \times 9 = 1296$, आणि $5 \times 3 = 225$, तर $5 \times 9 = ?$
	A.1980
	B.2025
	C.2024
	D.2029
Answer:	B.2025
Reference ID:(20212)	X चे पश्चिम दिशेला तोंड आहे. तो 90 अंश उजवीकडे वळतो. मग तो 45 अंश उजवीकडे वळतो. मग तो 180 अंश वळतो. मग तो 45 अंश उजवीकडे वळतो. शेवटी तो डावीकडे 90 अंश वळतो. आता तो कोणत्या दिशेला तोंड करून उभा आहे?
	A.पूर्व
	B.पश्चिम
	C.दक्षिण
	D.उत्तर
Answer:	C.दक्षिण
Reference ID:(23436)	'क्रोध' या शब्दाचा समानार्थी शब्द ओळखा.
	A.दुःख
	B.कपी
	C.कर्मठ
	D.क्षोभ

Answer:	D.क्षीभ
Reference ID:(26038)	रामसर यादीमध्ये समाविष्ट झालेल्या भारतातील सर्वात कमी क्षेत्रफळाचे दलदली/पाणथळ क्षेत्र खालीलपैकी कोणते आहे?
	A.रेणूका
	B.चंद्रताल
	C.कांजली
	D.रुद्रसागर
Answer:	A.रेणूका
Reference ID:(22598)	जर \$ आहे '+' आणि @ आहे '-', तर खालीलपैकी सर्वात मोठा पर्याय कोणता आहे ?
	A.15 @ 22 \$ 65 @ 42 @ 62 \$ 103 @ 45 @ 27
	B.18 @ 17 \$ 25 @ 32 \$ 26 @ 104 \$ 44 \$ 37
	C.19 @ 12 \$ 165 @ 42 @ 36 @ 103 @ 45 @ 17
	D.38 @ 107 \$ 25 \$ 32 \$ 26 @ 104 \$ 44 \$ 37
Answer:	B.18 @ 17 \$ 25 @ 32 \$ 26 @ 104 \$ 44 \$ 37
Reference ID:(18237)	जे – जे बोले तैसा चाले तो चि वहिले निवांत अंगी असोनि जाणपण सदा सर्वदा तो लीज वरील वृत्त ओळखा.
	A.ओवी
	B.अभंग
	C.भुजंगप्रयात

D.वसंततिलका

Answer: B.अभंग

Reference ID:(21482) जर A = 1, B = 2,M = 13; आणि N = 13, O = 12, Z = 1, तर खालील पैकी कोणते पर्याय बरोबर आहे?

A. $\{F + L + Y\} < \{J + O + Y\}$

B. $\{F + L + Y\} = \{J + O + Y\}$

C. $\{F + L + Y\} > \{J + O + Y\}$

D. $\{F + L + Y\} = \{S + U + N\}$

Answer: A. $\{F + L + Y\} < \{J + O + Y\}$

Reference ID:(17602) $4.25 + 5.05 + 5 - (5.50 + 3.25 - 4.35) = \underline{\hspace{2cm}}$

A.10.75

B.9.65

C.10.25

D.9.90

Answer: D.9.90

Reference ID:(31683) भारतीय संविधानाचे पहिले परिशिष्ट _____ शी संबंधित आहे.

A.संघराज्य व त्यांचे राज्य क्षेत्र

B.निवडणुका

C.अधिकृत भाषा

D.मुलभूत हक्क

Answer: A.संघराज्य व त्यांचे राज्य क्षेत्र

Reference ID:(20239) एक माणूस त्याच्या घरापासून पूर्व दिशेने 12 कि.मी. चालतो. मग तो डावीकडे वळतो आणि 5 कि.मी. चालतो. मग तो उजवीकडे वळतो आणि 1 कि.मी. चालतो. मग तो उजवीकडे वळतो आणि 7 कि.मी. चालतो. मग तो उजवीकडे वळतो आणि 4 कि.मी. चालतो. मग तो उजवीकडे वळतो आणि 2 कि.मी. चालतो. तो त्याच्या घरापासून किती दूर आहे?

A.8 कि.मी.

B.9 कि.मी.

C.7 कि.मी.

D.7.5 कि.मी.

Answer: B.9 कि.मी.

Reference ID:(19480) प्रश्नात दिलेल्या वाक्प्रचाराचा योग्य वापर असलेले वाक्य पर्यायांमधून ओळखा. अंगात वारे शिरणे

A.अंगात वारं शिरल्यावर संधीवात होतो.

B.गुरुजींचा राग अंगात वारं शिरल्याप्रमाणे अनावर झाला.

C.अंगात वारे शिरल्यासारखी गुरेढोरे माळरानात हुंदडतात.

D.कडाक्याच्या थंडीत म्हातारबुवांच्या अंगात वारं शिरलं.

Answer: C.अंगात वारे शिरल्यासारखी गुरेढोरे माळरानात हुंदडतात.

Reference ID:(31684)

खालीलपैकी कोणत्या राज्याला आत्तापर्यंत दोन महिला मुख्यमंत्री मिळाल्या होत्या?

A.तामिळनाडू

B.हरियाणा

C.बिहार

D.कर्नाटक

Answer:

A.तामिळनाडू

Reference ID:(18491)

तिने गाणे म्हंटले. ह्या वाक्यात कोणता कर्मणी प्रयोग आहे?

A.प्रधानकर्तुक कर्मणी

B.शक्य कर्मणी

C.प्राचीन कर्मणी

D.समापन कर्मणी

Answer:

A.प्रधानकर्तुक कर्मणी

Reference ID:(32933)

भारतातील श्वेत क्रांतीचे जनक कोण आहेत?

A.हिरलाल चौधरी

B.एम. एस. स्वामीनाथन

C.व्हर्गीज कुरियन

D.शालीहोत्रा

Answer:

C.व्हर्गीज कुरियन

Reference ID:(32935)

भारतीय संसदेतील वरिष्ठ सभागृह _____ नावाने ओळखले जाते?

A.लोकसभा

B.राज्यसभा

C.राज्य परिषद

D.यापैकी काहीही नाही

Answer:

B.राज्यसभा

Reference ID:(30868)

Identify the figure of speech in the following sentence: The car was a furnace in the sun.

A.Apostrophe

B.Simile

C.Metaphor

D.Personification

Answer:

C.Metaphor

Reference ID:(23917)

खालीलपैकी विरुद्धार्थी शब्दाची बरोबर जोडी ओळखा.

A.अनल x विस्तव

B.अमृत x सुधा

C.अधोगती x प्रगती

D.अरण्य x रान

Answer: C.अधोगती x प्रगती

Reference ID:(29625) Pick the Synonym for the word:
congenial

A.Pleasant

B.Boring

C.Vile

D.Repellant

Answer: A.Pleasant

Reference ID:(17856) 44 च्या $\frac{1}{8}$ + 40 च्या 15% च्या 200% + $0.30 \times 120 = \underline{\hspace{2cm}}$

A.55

B.55.5

C.52.75

D.53.5

Answer: D.53.5

Reference ID:(28863) Convert the simple sentence to a complex sentence:
The government confessed its inability to handle the situation

A.Inability to handle the situation was confessed by the government

B.Situation cannot be handled by us, said the government

C.The government confessed that it is incapable of handling the situation

D.Confession by the government was that it was incapable of handling any situation

Answer:	C.The government confessed that it is incapable of handling the situation
Reference ID:(32928)	राष्ट्रीय दुग्ध संशोधन संस्था (ICAR - National Dairy Research Institute) _____ येथे स्थित आहे.
	A.लखनऊ
	B.कर्नाल
	C.जयपूर
	D.हिसार
Answer:	B.कर्नाल
Reference ID:(21709)	जर A = 1, B = 2, C = 3, Z = 26, तर खालील पैकी कोणते पर्याय बरोबर आहे?
	A.{N + P + I + N} = {V + E + R + B}
	B.{N + P + I + N} < {V + E + R + B}
	C.{N + P + I + N} > {V + E + R + B}
	D.{V + E + R + B} = {W + H + A + T}
Answer:	C.{N + P + I + N} > {V + E + R + B}
Reference ID:(28355)	Find the word opposite in meaning to the word: Discern
	A.Recognize
	B.Be aware

C.Overlook

D.Anticipate

Answer:

C.Overlook

Reference ID:(18999)

खालील शब्दाचा समास / समास प्रकार ओळखा.
पदच्युत

A.पंचमी तत्पुरुष

B.द्विगु

C.कर्मधारय

D.सहबहुव्रीहि

Answer:

A.पंचमी तत्पुरुष

Reference ID:(27620)

Identify the figure of speech in the following sentence: I have given the original copies to the lawyer.

A.Metaphor

B.Oxymoron

C.Simile

D.Euphemism

Answer:

B.Oxymoron

Reference ID:(24652)

प्रश्नातील वाक्यात रिकामी जागा भरण्यास सर्वात योग्य शब्द निवडा.
एखाद्या कामाचा अनुभव असल्यास ते काम परत करणे सोपे जाते.

A.गाठीशी

B.पिठाशी

C.माशी

D.अधाशी

Answer:

A.गाठीशी